

ДОМАШНИЙ РЕПЕТИТОР

для студентов

Дмитрий Письменный

ВЫСШАЯ МАТЕМАТИКА

100

ЭКЗАМЕНАЦИОННЫХ ОТВЕТОВ

первый курс



АЙРИС ПРЕСС
РОЛЬФ
МОСКВА
1999

2.1я73
35
1(075.8)

Все права защищены.
Никакая часть данной книги не может быть
воспроизведена в какой бы то ни было форме
без письменного разрешения
владельцев авторских прав.

Серийное оформление *А. Драгового*

Письменный Д. Т.

Высшая математика. 100 экзаменационных ответов. 1 курс. –
.: Рольф: Айрис-пресс, 1999. – 304 с., с илл. – (Домашний
спетитор для студентов).

ISBN 5-7836-0094-6

Настоящее пособие предназначено, в первую очередь, для студентов,
готовящихся к сдаче экзамена по высшей математике на 1-м курсе.
Оно содержит изложенные в краткой и доступной форме ответы на
экзаменационные вопросы устного экзамена.

Пособие может быть полезным для всех категорий студентов, изу-
чающих в том или ином объеме высшую математику. Оно содержит
необходимый материал по 10-ти разделам курса высшей математики,
которые обычно изучаются студентами на первом курсе вуза (техни-
кума).

Ответы на 108 экзаменационных вопросов (с подпунктами – значи-
тельно больше) сопровождаются, как правило, решением соответствую-
щих примеров и задач.

836-0094-6

© Письменный Д. Т., 1999.
© Рольф, 1999.

ОГЛАВЛЕНИЕ

От редактора	7
Предисловие	8

I. ЭЛЕМЕНТЫ ЛИНЕЙНОЙ АЛГЕБРЫ

1. Определители (основные понятия)	9
2. Свойства определителей	11
3. Матрицы (основные понятия)	13
4. Действия над матрицами	15
5. Обратная матрица	17
6. Ранг матрицы	20
7. Системы линейных уравнений (основные понятия)	22
8. Решение невырожденных линейных систем. Формулы Крамера	24
9. Решение систем линейных уравнений. Теорема Кронекера–Капелли	26
10. Решение систем линейных уравнений методом Гаусса	28
11. Системы линейных однородных уравнений	31

II. ЭЛЕМЕНТЫ ВЕКТОРНОЙ АЛГЕБРЫ

12. Векторы и линейные операции над ними	33
13. Проекция вектора на ось	36
14. Разложение вектора по ортам координатных осей. Модуль вектора. Направляющие косинусы	38
15. Действия над векторами, заданными проекциями	40
16. Скалярное произведение векторов и его свойства	42
17. Выражение скалярного произведения через координаты. Применение скалярного произведения векторов	44
18. Векторное произведение векторов и его свойства	46
19. Выражение векторного произведения через координаты. Применение векторного произведения векторов	48
20. Смешанное произведение векторов, его геометрический смысл и свойства	50
21. Выражение смешанного произведения через координаты. Применение смешанного произведения	51

III. АНАЛИТИЧЕСКАЯ ГЕОМЕТРИЯ НА ПЛОСКОСТИ

22. Система координат на плоскости	53
23. Основные задачи на метод координат (на плоскости)	55
24. Преобразование системы координат	57
25. Уравнение линии на плоскости, примеры	59

Различные виды уравнений прямой на плоскости	63
Прямая линия на плоскости. Основные задачи	68
Окружность	70
Эллипс	72
Гипербола	75
Парабола	80
Общее уравнение линий второго порядка	82

7. АНАЛИТИЧЕСКАЯ ГЕОМЕТРИЯ В ПРОСТРАНСТВЕ

Поверхности и линии в пространстве и их уравнения	86
Различные виды уравнений плоскости в пространстве	89
Плоскость. Основные задачи	93
Различные виды уравнений прямой в пространстве	95
Прямая линия в пространстве. Основные задачи	98
Прямая и плоскость в пространстве. Основные задачи	100
Цилиндрические поверхности	102
Поверхности вращения. Конические поверхности	104
Канонические уравнения поверхностей второго порядка	107

V. ВВЕДЕНИЕ В АНАЛИЗ

Множества. Действительные числа	113
Функция	117
Последовательности	125
Предел функции	130
Бесконечно малые функции (б.м.ф.) и основные теоремы о них	134
Связь между функцией, ее пределом и бесконечно малой функцией	137
Основные теоремы о пределах	138
Признаки существования пределов	141
Первый замечательный предел	142
Второй замечательный предел	143
Сравнение бесконечно малых функций	145
Эквивалентные бесконечно малые и основные теоремы о них	146
Применение эквивалентных бесконечно малых функций	147
Непрерывность функций	150
Точки разрыва функции и их классификация	152
Основные теоремы о непрерывных функциях. Непрерывность элементарных функций	154
Свойства функций, непрерывных на отрезке	155

VI. ПРОИЗВОДНАЯ И ДИФФЕРЕНЦИАЛ ФУНКЦИИ

59. Задачи, приводящие к понятию производной	157
60. Определение производной; ее механический и геометрический смысл. Уравнение касательной и нормали к кривой	160
61. Связь между непрерывностью и дифференцируемостью функции	162
62. Производная суммы, разности, произведения и частного функций	163
63. Производная сложной и обратной функций	165
64. Производные основных элементарных функций	167
65. Гиперболические функции и их производные	172
66. Таблица производных	174
67. Дифференцирование функций, заданных неявно и параметри- чески	176
68. Логарифмическое дифференцирование	177
69. Производные высших порядков	179
70. Дифференциал функции и его геометрический смысл	182
71. Основные теоремы о дифференциалах. Таблица дифферен- циалов	184
72. Применение дифференциала к приближенным вычислениям	186
73. Дифференциалы высших порядков	188

VII. ПРИМЕНЕНИЕ ПРОИЗВОДНЫХ (К ИССЛЕДОВАНИЮ ФУНКЦИЙ)

74. Теорема Ролля	190
75. Теорема Коши	191
76. Теорема Лагранжа и ее следствия	192
77. Правило Лопиталья	194
78. Раскрытие неопределенностей различных видов	196
79. Возрастание и убывание функций	197
80. Максимум и минимум функций	199
81. Наибольшее и наименьшее значения функции на отрезке	202
82. Выпуклость графика функции. Точки перегиба	204
83. Асимптоты графика функции	206
84. Общая схема исследования функции и построения графика	208
85. Формула Тейлора	210

VIII. КОМПЛЕКСНЫЕ ЧИСЛА

86. Понятие комплексного числа	214
87. Действия над комплексными числами	217

IX. НЕОПРЕДЕЛЕННЫЙ ИНТЕГРАЛ

88. Неопределенный интеграл и его свойства	222
89. Таблица основных интегралов	226
90. Основные методы интегрирования	228
91. Интегрирование рациональных функций	234
92. Интегрирование тригонометрических функций	244
93. Интегрирование иррациональных функций	247
94. «Берущиеся» и «неберущиеся» интегралы	252

X. ОПРЕДЕЛЕННЫЙ ИНТЕГРАЛ

95. Определенный интеграл как предел интегральной суммы	254
96. Геометрический и физической смысл определенного интеграла	256
97. Связь определенного интеграла с неопределенным (формула Ньютона–Лейбница)	258
98. Основные свойства определенного интеграла	260
99. Вычисление определенного интеграла	265
100. Интегрирование четных и нечетных функций в симметричных пределах	268
101. Несобственные интегралы	269
102. Схемы применения определенного интеграла к нахождению геометрических и физических величин	273
103. Вычисление площадей плоских фигур	275
104. Вычисление длины дуги плоской кривой	279
105. Вычисление объема тела	283
106. Вычисление площади поверхности вращения	285
107. Приложения определенного интеграла к решению задач физики и механики	287
108. Приближенное вычисление определенного интеграла	294
Справочные материалы	300

ОТ РЕДАКТОРА

Настоящее учебное пособие написано Д. Т. Письменным — автором книги «Готовимся к экзамену по математике», выпускаемой в серии «Домашний репетитор»[©], — пособия, по которому за последние три года готовились к экзаменам более 500 000 школьников и абитуриентов из России и других стран СНГ.

Если книга Д. Т. Письменного Вам помогла при поступлении в вуз, то данное пособие, мы надеемся, также послужит Вам хорошим подспорьем при подготовке к семестровому экзамену по высшей математике. Вчерашний школьник, став студентом, зачастую «почивает на лаврах» и благополучно «заваливает» первый экзамен по математике, особенно если этот предмет не является профилирующим.

Иногда студент, не уделив должного внимания предмету в течение семестра, лишь перед сессией начинает лихорадочно листать литературу, большая часть которой представляет собой объемные учебники, содержащие (помимо необходимого) гору материала, которого нет в программе. Это и объяснимо — большинство учебников написано в 40–60-е годы, когда ориентация приложений математики была сугубо инженерно-индустриальной. В нашу информационную эпоху многие приложения математики и, следовательно, ряд тем и примеров в старых учебниках потеряли актуальность.

Данная книга не претендует на «новую ориентацию», но, безусловно, поможет студентам в условиях дефицита времени подготовиться к экзамену по высшей математике, чувствовать себя на нем уверенно, гарантировать себе положительную оценку, по крайней мере, на первом «взрослом» экзамене.

Редакция и автор будут рады всем откликам читателей.

Наш адрес: 129626, Москва, а/я 66, редакция;

e-mail: editor@airis.ru

ПРЕДИСЛОВИЕ

Настоящее пособие предназначено, в первую очередь, для студентов, готовящихся к сдаче экзамена по высшей математике на 1-м курсе.

Оно содержит письменные ответы, изложенные в краткой и доступной форме, на экзаменационные вопросы устного экзамена.

Пособие должно помочь студенту при подготовке к экзаменам в решении следующих проблем:

- что-то не успел(а) записать на лекции;
- какие-то лекции пропущены;
- в чем-то трудно (или нет времени) разобраться по другим учебникам;
- некоторые вопросы «слишком длинны» в конспектах;
- много фактического материала, который следует изучить за ограниченное количество недель, дней ...

Наконец, даже при полном благополучии, студент испытывает психологический барьер первого экзамена (что иногда приводит его к срыву).

Использование данного пособия, конспекта лекций и рекомендованной преподавателем литературы приведет студента к уверенности в своих силах (знаниях), и он может рассчитывать на успешную сдачу экзамена по высшей математике.

В дальнейшем (второй, третий ... курсы) он научится самостоятельно изучать предмет и сдавать по нему экзамены.

Пособие может быть полезным для всех категорий студентов, изучающих в том или ином объеме высшую математику.

Настоящее пособие содержит необходимый материал по 10-ти разделам курса высшей математики, которые обычно изучаются студентами на 1-м курсе вуза (техникума).

Письменные ответы на 108 экзаменационных вопросов (с подпунктами — значительно больше) сопровождаются, как правило, решением соответствующих примеров и задач.

Пособие может быть использовано студентами также для самостоятельного изучения соответствующего материала, является базой для подготовки к семестровому экзамену по высшей математике на 1-м курсе.

Точные названия экзаменационных вопросов в различных учебных заведениях могут слегка отличаться от сформулированных, однако весь необходимый для ответа материал приводится в пособии.

I. ЭЛЕМЕНТЫ ЛИНЕЙНОЙ АЛГЕБРЫ

1. ОПРЕДЕЛИТЕЛИ (ОСНОВНЫЕ ПОНЯТИЯ)

Определители широко используются в различных разделах математики и в ее приложениях, в частности при решении систем линейных алгебраических уравнений. Выражение

$$\Delta = \begin{vmatrix} a_{11} & a_{12} \\ a_{21} & a_{22} \end{vmatrix} = a_{11} \cdot a_{22} - a_{21} \cdot a_{12}$$

называется *определителем 2-го порядка*.

Символы a_{ij} называются *элементами определителя*, причем первый индекс i указывает номер строки, а другой индекс j — номер столбца, на пересечении которых стоит данный элемент.

Элементы a_{11} и a_{22} образуют *главную диагональ* определителя; a_{21} и a_{12} — *побочную*.

Вычисление определителя 2-го порядка иллюстрируется схемой:

$$\left| \begin{array}{cc} \bullet & \bullet \\ \bullet & \bullet \end{array} \right| = \left| \begin{array}{cc} \bullet & \bullet \\ \bullet & \bullet \end{array} \right| - \left| \begin{array}{cc} \bullet & \bullet \\ \bullet & \bullet \end{array} \right|,$$

т. е. из произведения элементов главной диагонали вычитается произведение элементов побочной.

Примеры:

$$\begin{vmatrix} 2 & -3 \\ 5 & 6 \end{vmatrix} = 2 \cdot 6 - 5 \cdot (-3) = 12 - (-15) = 27;$$

$$\begin{vmatrix} \cos \alpha & \sin \alpha \\ -\sin \alpha & \cos \alpha \end{vmatrix} = \cos^2 \alpha + \sin^2 \alpha = 1.$$

Выражение

$$\Delta = \begin{vmatrix} a_{11} & a_{12} & a_{13} \\ a_{21} & a_{22} & a_{23} \\ a_{31} & a_{32} & a_{33} \end{vmatrix} =$$

$$= a_{11}a_{22}a_{33} + a_{12}a_{23}a_{31} + a_{21}a_{32}a_{13} - a_{31}a_{22}a_{13} - a_{21}a_{12}a_{33} - a_{32}a_{23}a_{11}$$

называется *определителем 3-го порядка*.

Элементы a_{11} , a_{22} , a_{33} образуют главную диагональ определителя, элементы a_{31} , a_{22} , a_{13} — побочную.

При вычислении определителя 3-го порядка удобно пользоваться *правилом треугольников* (или Саррюса), которое символически можно записать так:

$$\begin{vmatrix} \bullet & \bullet & \bullet \\ \bullet & \bullet & \bullet \\ \bullet & \bullet & \bullet \end{vmatrix} = \begin{vmatrix} \bullet & \bullet & \bullet \\ \bullet & \bullet & \bullet \\ \bullet & \bullet & \bullet \end{vmatrix} - \begin{vmatrix} \bullet & \bullet & \bullet \\ \bullet & \bullet & \bullet \\ \bullet & \bullet & \bullet \end{vmatrix}$$

(основания
равнобедренных
треугольников
параллельны
главной
диагонали)

 (основания
треугольников
параллельны
побочной
диагонали)

Пример:

$$\begin{vmatrix} 5 & -2 & 1 \\ 3 & 1 & -4 \\ 6 & 0 & -3 \end{vmatrix} =$$

$$= 5 \cdot 1 \cdot (-3) + (-2) \cdot (-4) \cdot 6 + 3 \cdot 0 \cdot 1 - 6 \cdot 1 \cdot 1 - 3 \cdot (-2) \cdot (-3) - 0 \cdot (-4) \cdot 5 =$$

$$= -15 + 48 - 6 - 18 = 48 - 39 = 9.$$

Определителем n-го порядка называется выражение вида

$$\Delta = \begin{vmatrix} a_{11} & a_{12} & \dots & a_{1n} \\ a_{21} & a_{22} & \dots & a_{2n} \\ \dots & \dots & \dots & \dots \\ a_{n1} & a_{n2} & \dots & a_{nn} \end{vmatrix}$$

Определитель *n*-го порядка при $n > 3$ также является суммой большого числа произведений своих элементов. Каждое произведение содержит *n* сомножителей, стоящих в разных строках и разных столбцах.

Порядком определителя называется число строк или столбцов, которых всегда одинаковое количество.

Определитель *n*-го порядка имеет *n* строк (и столько же столбцов).

Вычисление определителя *n*-го порядка можно осуществлять путем *последовательного понижения порядка* определителя. При этом используются свойства определителей (см., в частности, «разложение определителя по элементам некоторого ряда».)

2. СВОЙСТВА ОПРЕДЕЛИТЕЛЕЙ

Сформулируем основные свойства определителей, присущие определителям всех порядков. Некоторые из этих свойств поясним на определителях 3-го порядка.

Свойство 1 («Равноправность строк и столбцов»). Определитель не изменится, если его строки заменить столбцами, и наоборот.

Иными словами,

$$\begin{vmatrix} a_{11} & a_{12} \\ a_{21} & a_{22} \end{vmatrix} = \begin{vmatrix} a_{11} & a_{21} \\ a_{12} & a_{22} \end{vmatrix}, \quad \begin{vmatrix} a_{11} & a_{12} & a_{13} \\ a_{21} & a_{22} & a_{23} \\ a_{31} & a_{32} & a_{33} \end{vmatrix} = \begin{vmatrix} a_{11} & a_{21} & a_{31} \\ a_{12} & a_{22} & a_{32} \\ a_{13} & a_{23} & a_{33} \end{vmatrix}.$$

В дальнейшем строки и столбцы будем просто называть рядами определителя.

Свойство 2. При перестановке двух параллельных рядов определитель меняет знак.

Свойство 3. Определитель, имеющий два одинаковых ряда, равен нулю.

Свойство 4. Общий множитель элементов какого-либо ряда определителя можно вынести за знак определителя.

Из свойств 3 и 4 следует, что если все элементы некоторого ряда пропорциональны соответствующим элементам параллельного ряда, то такой определитель равен нулю.

Например:

$$\begin{vmatrix} a_{11} & a_{12} & a_{13} \\ k \cdot a_{11} & k \cdot a_{12} & k \cdot a_{13} \\ a_{31} & a_{32} & a_{33} \end{vmatrix} = k \cdot \begin{vmatrix} a_{11} & a_{12} & a_{13} \\ a_{11} & a_{12} & a_{13} \\ a_{31} & a_{32} & a_{33} \end{vmatrix} = k \cdot 0 = 0.$$

Свойство 5. Если элементы какого-либо ряда определителя представляют собой суммы двух слагаемых, то определитель может быть разложен на сумму двух соответствующих определителей.

Например:

$$\begin{vmatrix} a_{11} & a_{12} & a_{13} + b \\ a_{21} & a_{22} & a_{23} + c \\ a_{31} & a_{32} & a_{33} + d \end{vmatrix} = \begin{vmatrix} a_{11} & a_{12} & a_{13} \\ a_{21} & a_{22} & a_{23} \\ a_{31} & a_{32} & a_{33} \end{vmatrix} + \begin{vmatrix} a_{11} & a_{12} & b \\ a_{21} & a_{22} & c \\ a_{31} & a_{32} & d \end{vmatrix}.$$

Свойство 6 («Элементарные преобразования определителя»). Определитель не изменится, если к элементам одного ряда прибавить соответствующие элементы параллельного ряда, умноженные на любое число.

Например:

$$\Delta = \begin{vmatrix} a_{11} & a_{12} & a_{13} \\ a_{21} & a_{22} & a_{23} \\ a_{31} & a_{32} & a_{33} \end{vmatrix} = \begin{vmatrix} a_{11} & a_{12} & a_{13} + k \cdot a_{12} \\ a_{21} & a_{22} & a_{23} + k \cdot a_{22} \\ a_{31} & a_{32} & a_{33} + k \cdot a_{32} \end{vmatrix}.$$

◀ Действительно, используя свойства 5, 4 и 3, получим

$$\begin{aligned} & \begin{vmatrix} a_{11} & a_{12} & a_{13} + k \cdot a_{12} \\ a_{21} & a_{22} & a_{23} + k \cdot a_{22} \\ a_{31} & a_{32} & a_{33} + k \cdot a_{32} \end{vmatrix} = \\ & = \begin{vmatrix} a_{11} & a_{12} & a_{13} \\ a_{21} & a_{22} & a_{23} \\ a_{31} & a_{32} & a_{33} \end{vmatrix} + k \cdot \begin{vmatrix} a_{11} & a_{12} & a_{12} \\ a_{21} & a_{22} & a_{22} \\ a_{31} & a_{32} & a_{32} \end{vmatrix} = \Delta + k \cdot 0 = \Delta. \quad \blacktriangleright \end{aligned}$$

Дальнейшие свойства определителей связаны с понятиями минора и алгебраического дополнения.

Минором некоторого элемента a_{ij} определителя 3-го порядка называется определитель 2-го порядка, полученный из исходного путем вычеркивания строки и столбца, на пересечении которых находится выбранный элемент. Обозначается m_{ij} .

$$\text{Так, если } \Delta = \begin{vmatrix} a_{11} & a_{12} & a_{13} \\ a_{21} & a_{22} & a_{23} \\ a_{31} & a_{32} & a_{33} \end{vmatrix}, \text{ то } m_{11} = \begin{vmatrix} a_{22} & a_{23} \\ a_{32} & a_{33} \end{vmatrix},$$

$$m_{32} = \begin{vmatrix} a_{11} & a_{13} \\ a_{21} & a_{23} \end{vmatrix}.$$

Алгебраическим дополнением элемента a_{ij} определителя называется его минор, взятый со знаком «плюс», если сумма $i + j$ — четное число, и со знаком «минус», если эта сумма нечетная. Обозначается A_{ij} .

$$\text{Так, } A_{11} = +m_{11}, \quad A_{32} = -m_{32}.$$

Свойство 7 («Разложение определителя по элементам некоторого ряда»). Определитель равен сумме произведений элементов некоторого ряда на соответствующие им алгебраические дополнения.

Докажем, например, что

$$\Delta = \begin{vmatrix} a_{11} & a_{12} & a_{13} \\ a_{21} & a_{22} & a_{23} \\ a_{31} & a_{32} & a_{33} \end{vmatrix} = a_{11} \cdot A_{11} + a_{12} \cdot A_{12} + a_{13} \cdot A_{13}.$$

◀ В самом деле, имеем

$$\begin{aligned}
 & a_{11} \cdot A_{11} + a_{12} \cdot A_{12} + a_{13} \cdot A_{13} = \\
 & = a_{11} \cdot \begin{vmatrix} a_{22} & a_{23} \\ a_{32} & a_{33} \end{vmatrix} + a_{12} \cdot \left(- \begin{vmatrix} a_{21} & a_{23} \\ a_{31} & a_{33} \end{vmatrix} \right) + a_{13} \cdot \begin{vmatrix} a_{21} & a_{22} \\ a_{31} & a_{32} \end{vmatrix} = \\
 & = a_{11}(a_{22}a_{33} - a_{23}a_{32}) - a_{12}(a_{21}a_{33} - a_{23}a_{31}) + a_{13}(a_{21}a_{32} - a_{22}a_{31}) = \\
 & = a_{11}a_{22}a_{33} - a_{11}a_{23}a_{32} - a_{12}a_{21}a_{33} + a_{12}a_{23}a_{31} + \\
 & \quad + a_{13}a_{21}a_{32} - a_{13}a_{22}a_{31} = \Delta. \quad \blacktriangleright
 \end{aligned}$$

Свойство 8. Сумма произведений элементов какого-либо ряда определителя на алгебраические дополнения соответствующих элементов параллельного ряда равна нулю.

Так, например, $a_{11}A_{21} + a_{12}A_{22} + a_{13}A_{23} = 0$.

3. МАТРИЦЫ (ОСНОВНЫЕ ПОНЯТИЯ)

Матрицей называется прямоугольная таблица чисел, содержащая m строк одинаковой длины (или n столбцов одинаковой длины). Матрица записывается в виде

$$A = \begin{pmatrix} a_{11} & a_{12} & \dots & a_{1n} \\ a_{21} & a_{22} & \dots & a_{2n} \\ \dots & \dots & \dots & \dots \\ a_{m1} & a_{m2} & \dots & a_{mn} \end{pmatrix}$$

или, сокращенно, $A = (a_{ij})$, где $i = \overline{1, m}$ (т. е. $i = 1, 2, 3, \dots, m$) — номер строки, $j = \overline{1, n}$ (т. е. $j = 1, 2, 3, \dots, n$) — номер столбца.

Матрицу A называют матрицей *размера* $m \times n$ и пишут $A_{m \times n}$. Числа a_{ij} , составляющие матрицу, называются ее *элементами*. Элементы, стоящие на диагонали, идущей из левого верхнего угла, образуют *главную диагональ* матрицы.

Матрицы *равны между собой*, если равны все соответствующие элементы этих матриц, т. е.

$$A = B, \quad \text{если } a_{ij} = b_{ij}, \quad \text{где } i = \overline{1, m}, j = \overline{1, n}.$$

Матрица, у которой число строк равно числу столбцов, называется *квадратной*. Квадратную матрицу размера $n \times n$ называют матрицей n -го порядка.

Квадратная матрица, у которой все элементы, кроме элементов главной диагонали, равны нулю, называется *диагональной*.

Диагональная матрица, у которой каждый элемент главной диагонали равен единице, называется *единичной*. Обозначается буквой E . Так, единичная матрица 3-го порядка имеет вид

$$E = \begin{pmatrix} 1 & 0 & 0 \\ 0 & 1 & 0 \\ 0 & 0 & 1 \end{pmatrix}.$$

Квадратная матрица называется *треугольной*, если все элементы, расположенные по одну сторону от главной диагонали, равны нулю.

Матрица, все элементы которой равны нулю, называется *нулевой*. Обозначается буквой O . Имеет вид

$$O = \begin{pmatrix} 0 & 0 & \dots & 0 \\ 0 & 0 & \dots & 0 \\ \dots & \dots & \dots & \dots \\ 0 & 0 & \dots & 0 \end{pmatrix}.$$

В матричном исчислении матрицы O и E играют роль чисел 0 и 1 в арифметике.

Матрица, содержащая один столбец или одну строку, называется *вектором* (или вектор-столбец, или вектор-строка, соответственно). Их вид:

$$A = \begin{pmatrix} c_1 \\ c_2 \\ \vdots \\ c_n \end{pmatrix}, \quad B = (c_1 \ c_2 \ \dots \ c_n).$$

Матрица размера 1×1 , состоящая из одного числа, отождествляется с этим числом, т. е. $(5)_{1 \times 1}$ есть 5.

Замечание: Каждой квадратной матрице A можно поставить в соответствие определенное число, называемое определителем (детерминантом) этой матрицы. Обозначается ΔA , $|A|$ или $\det A$.

Так, если $A = \begin{pmatrix} 2 & 3 \\ -1 & 4 \end{pmatrix}$, то $\Delta A = \begin{vmatrix} 2 & 3 \\ -1 & 4 \end{vmatrix} = 8 + 3 = 11$.

Некватратная матрица определителя не имеет. Матрица $n \times n$ — это n^2 чисел, ее определитель — это одно число.

4. ДЕЙСТВИЯ НАД МАТРИЦАМИ

Операция сложения матриц вводится только для матриц одинаковых размеров.

Суммой двух матриц $A_{m \times n} = (a_{ij})$ и $B_{m \times n} = (b_{ij})$ называется матрица $C_{m \times n} = (c_{ij})$ такая, что $c_{ij} = a_{ij} + b_{ij}$ ($i = \overline{1, m}, j = \overline{1, n}$).

Например,

$$\begin{pmatrix} 2 & -3 & 0 \\ 4 & 5 & 6 \end{pmatrix} + \begin{pmatrix} 3 & 3 & -1 \\ -2 & -5 & 4 \end{pmatrix} = \begin{pmatrix} 5 & 0 & -1 \\ 2 & 0 & 10 \end{pmatrix}.$$

Аналогично определяется разность матриц.

Произведением матрицы $A_{m \times n} = (a_{ij})$ на число k называется матрица $B_{m \times n} = (b_{ij})$ такая, что $b_{ij} = k \cdot a_{ij}$ ($i = \overline{1, m}, j = \overline{1, n}$).

Так, если $A = \begin{pmatrix} 0 & -1 & 2 \\ 3 & 4 & 5 \end{pmatrix}$, $k = 2$, то $A \cdot k = \begin{pmatrix} 0 & -2 & 4 \\ 6 & 8 & 10 \end{pmatrix}$.

Матрица $-A = (-1) \cdot A$ называется противоположной матрице A .

Разность матриц $A - B$ можно определить так: $A - B = A + (-B)$.

Операции сложения матриц и умножения матрицы на число обладают следующими свойствами:

1. $A + B = B + A$;
2. $A + (B + C) = (A + B) + C$;
3. $A + 0 = A$;
4. $A - A = 0$;
5. $1 \cdot A = A$;
6. $\alpha \cdot (A + B) = \alpha A + \alpha B$;
7. $(\alpha + \beta) \cdot A = \alpha A + \beta A$;
8. $\alpha \cdot (\beta A) = (\alpha\beta) \cdot A$,

где A, B, C — матрицы, α и β — числа.

Операция умножения двух матриц вводится только для случая, когда число столбцов первой матрицы равно числу строк второй матрицы.

Произведением матрицы $A_{m \times n} = (a_{ij})$ на матрицу $B_{n \times k} = (b_{ij})$ называется матрица $C_{m \times k} = (c_{ij})$ такая, что

$$c_{ij} = a_{i1} \cdot b_{1j} + a_{i2} \cdot b_{2j} + \dots + a_{in} \cdot b_{nj}, \quad \text{где } i = \overline{1, m}, j = \overline{1, k},$$

то есть элемент i -й строки и j -го столбца матрицы произведения C равен сумме произведений элементов i -й строки матрицы A на соответствующие элементы j -го столбца матрицы B .

Получение элемента c_{ij} схематично изображается так:

$$A = \left(\begin{array}{ccc|ccc} \bullet & \bullet & \bullet & & & \\ \bullet & \bullet & \bullet & & & \\ \bullet & \bullet & \bullet & & & \\ \bullet & \bullet & \bullet & & & \end{array} \right) \cdot \left(\begin{array}{cc|cc} \bullet & \bullet & \bullet & \bullet \\ \bullet & \bullet & \bullet & \bullet \\ \bullet & \bullet & \bullet & \bullet \end{array} \right) = B.$$

i
 j

Примеры:

$$1) \begin{pmatrix} a_{11} & a_{12} & a_{13} \\ a_{21} & a_{22} & a_{23} \end{pmatrix}_{2 \times 3} \cdot \begin{pmatrix} b_{11} & b_{12} \\ b_{21} & b_{22} \\ b_{31} & b_{32} \end{pmatrix}_{3 \times 2} =$$

$$= \begin{pmatrix} a_{11}b_{11} + a_{12}b_{21} + a_{13}b_{31} & a_{11}b_{12} + a_{12}b_{22} + a_{13}b_{32} \\ a_{21}b_{11} + a_{22}b_{21} + a_{23}b_{31} & a_{21}b_{12} + a_{22}b_{22} + a_{23}b_{32} \end{pmatrix}_{2 \times 2}$$

2) $A = \begin{pmatrix} 1 & 2 & 1 \\ 3 & 1 & 0 \end{pmatrix}$, $B = \begin{pmatrix} 1 & 3 \\ 1 & 2 \end{pmatrix}$. Тогда произведение $A \cdot B$ не определено, так как число столбцов матрицы A (3) не совпадает с числом строк матрицы B (2).

$$B \cdot A = \begin{pmatrix} 1 & 3 \\ 1 & 2 \end{pmatrix} \cdot \begin{pmatrix} 1 & 2 & 1 \\ 3 & 1 & 0 \end{pmatrix} = \begin{pmatrix} 1+9 & 2+3 & 1+0 \\ 1+6 & 2+2 & 1+0 \end{pmatrix} = \begin{pmatrix} 10 & 5 & 1 \\ 7 & 4 & 1 \end{pmatrix}.$$

Если матрицы A и B квадратные одного размера, то произведения AB и BA всегда существуют. Легко показать, что $A \cdot E = E \cdot A = A$, где A — квадратная матрица, E — единичная матрица того же размера.

Матрицы A и B называются *перестановочными*, если $AB = BA$.

Умножение матриц обладает следующими свойствами:

1. $A \cdot (B \cdot C) = (A \cdot B) \cdot C$;
2. $A \cdot (B + C) = AB + AC$;
3. $(A + B) \cdot C = AC + BC$;
4. $\alpha(AB) = (\alpha A)B$,

если, конечно, написанные суммы и произведения матриц имеют смысл.

Матрица, полученная из данной заменой каждой ее строки столбцом с тем же номером, называется матрицей *транспонированной* к данной. Обозначается A^T .

Так, если $A = \begin{pmatrix} 1 & 2 \\ 3 & 4 \end{pmatrix}$, то $A^T = \begin{pmatrix} 1 & 3 \\ 2 & 4 \end{pmatrix}$, если $A = \begin{pmatrix} 1 \\ 0 \end{pmatrix}$, то $A^T = (1 \ 0)$.

Транспонированная матрица обладает следующими свойствами:

1. $(A^T)^T = A$;
2. $(A + B)^T = A^T + B^T$;
3. $(AB)^T = B^T \cdot A^T$.

5. ОБРАТНАЯ МАТРИЦА

Пусть A — квадратная матрица n -го порядка

$$A = \begin{pmatrix} a_{11} & a_{12} & \dots & a_{1n} \\ a_{21} & a_{22} & \dots & a_{2n} \\ \dots & \dots & \dots & \dots \\ a_{n1} & a_{n2} & \dots & a_{nn} \end{pmatrix}.$$

Квадратная матрица A называется *невырожденной*, если определитель ΔA не равен нулю: $\Delta A \neq 0$. В противном случае ($\Delta A = 0$) матрица A называется *вырожденной*.

Матрицей, *союзной к матрице A* , называется матрица

$$A^* = \begin{pmatrix} A_{11} & A_{21} & \dots & A_{n1} \\ A_{12} & A_{22} & \dots & A_{n2} \\ \dots & \dots & \dots & \dots \\ A_{1n} & A_{2n} & \dots & A_{nn} \end{pmatrix},$$

где A_{ij} — алгебраическое дополнение элемента a_{ij} данной матрицы A (оно определяется так же, как и алгебраическое дополнение элемента определителя).

Матрица A^{-1} называется *обратной* матрице A , если выполняется условие

$$A \cdot A^{-1} = A^{-1} \cdot A = E, \quad (1)$$

где E — единичная матрица того же порядка, что и матрица A . Матрица A^{-1} имеет те же размеры, что и матрица A .

Теорема 1. *Всякая невырожденная матрица имеет обратную.*

◀ Проведем доказательство для случая матрицы 3-го порядка. Пусть

$$A = \begin{pmatrix} a_{11} & a_{12} & a_{13} \\ a_{21} & a_{22} & a_{23} \\ a_{31} & a_{32} & a_{33} \end{pmatrix}, \quad \text{причем } \Delta A \neq 0.$$

Составим союзную матрицу

$$A^* = \begin{pmatrix} A_{11} & A_{21} & A_{31} \\ A_{12} & A_{22} & A_{32} \\ A_{13} & A_{23} & A_{33} \end{pmatrix}$$

и найдем произведение матриц A и A^* .

$$\begin{aligned} A \cdot A^* &= \begin{pmatrix} a_{11} & a_{12} & a_{13} \\ a_{21} & a_{22} & a_{23} \\ a_{31} & a_{32} & a_{33} \end{pmatrix} \cdot \begin{pmatrix} A_{11} & A_{21} & A_{31} \\ A_{12} & A_{22} & A_{32} \\ A_{13} & A_{23} & A_{33} \end{pmatrix} = \\ &= \begin{pmatrix} a_{11}A_{11} + a_{12}A_{12} + a_{13}A_{13} & \dots & a_{11}A_{31} + a_{12}A_{32} + a_{13}A_{33} \\ a_{21}A_{11} + a_{22}A_{12} + a_{23}A_{13} & \dots & a_{21}A_{31} + a_{22}A_{32} + a_{23}A_{33} \\ a_{31}A_{11} + a_{32}A_{12} + a_{33}A_{13} & \dots & a_{31}A_{31} + a_{32}A_{32} + a_{33}A_{33} \end{pmatrix} = \\ &= \begin{pmatrix} \Delta A & 0 & 0 \\ 0 & \Delta A & 0 \\ 0 & 0 & \Delta A \end{pmatrix} = \Delta A \cdot \begin{pmatrix} 1 & 0 & 0 \\ 0 & 1 & 0 \\ 0 & 0 & 1 \end{pmatrix} = \Delta A \cdot E, \end{aligned}$$

т. е.

$$A \cdot A^* = \Delta A \cdot E. \quad (2)$$

Здесь мы использовали свойства 7 и 8 определителей (см. вопрос 2).
Аналогично убеждаемся, что

$$A^* \cdot A = \Delta A \cdot E. \quad (3)$$

Равенства (2) и (3) перепишем в виде

$$A \cdot \frac{A^*}{\Delta A} = E \quad \text{и} \quad \frac{A^*}{\Delta A} \cdot A = E.$$

Сравнивая полученные результаты с определением (1), получаем

$$A^{-1} = \frac{A^*}{\Delta A}, \quad \text{т. е.} \quad A^{-1} = \frac{1}{\Delta A} \cdot \begin{pmatrix} A_{11} & A_{21} & A_{31} \\ A_{12} & A_{22} & A_{32} \\ A_{13} & A_{23} & A_{33} \end{pmatrix}. \quad \blacktriangleright$$

Отметим *свойства* обратной матрицы:

1. $\Delta(A^{-1}) = \frac{1}{\Delta A}$;
2. $(A \cdot B)^{-1} = B^{-1} \cdot A^{-1}$;
3. $(A^{-1})^T = (A^T)^{-1}$.

Примеры: 1. Найти A^{-1} , если $A = \begin{pmatrix} 2 & 3 \\ -1 & 1 \end{pmatrix}$.

◆ 1) Находим ΔA : $\Delta A = \begin{vmatrix} 2 & 3 \\ -1 & 1 \end{vmatrix} = 2 + 3 = 5 \neq 0$.

2) Находим A^* : $A_{11} = 1$, $A_{21} = -3$, $A_{12} = -(-1) = 1$, $A_{22} = 2$,
 поэтому $A^* = \begin{pmatrix} 1 & -3 \\ 1 & 2 \end{pmatrix}$.

3) Находим A^{-1} : $A^{-1} = \frac{1}{5} \begin{pmatrix} 1 & -3 \\ 1 & 2 \end{pmatrix} = \begin{pmatrix} \frac{1}{5} & -\frac{3}{5} \\ \frac{1}{5} & \frac{2}{5} \end{pmatrix}$.

Проверка:

$$A \cdot A^{-1} = \begin{pmatrix} 2 & 3 \\ -1 & 1 \end{pmatrix} \cdot \begin{pmatrix} \frac{1}{5} & -\frac{3}{5} \\ \frac{1}{5} & \frac{2}{5} \end{pmatrix} = \begin{pmatrix} \frac{2}{5} + \frac{3}{5} & -\frac{6}{5} + \frac{6}{5} \\ -\frac{1}{5} + \frac{1}{5} & \frac{3}{5} + \frac{2}{5} \end{pmatrix} = \begin{pmatrix} 1 & 0 \\ 0 & 1 \end{pmatrix} = E.$$

2. Определить, при каких значениях λ существует матрица, обратная данной:

$$A = \begin{pmatrix} 1 & -2 & 2 \\ \lambda & 3 & 0 \\ 2 & 1 & 1 \end{pmatrix}.$$

♦ Всякая невырожденная матрица имеет обратную. Найдем определитель матрицы A :

$$\Delta A = \begin{vmatrix} 1 & -2 & 2 \\ \lambda & 3 & 0 \\ 2 & 1 & 1 \end{vmatrix} = 3 - 0 + 2\lambda - 12 - 9 + 2\lambda = 4\lambda - 9.$$

Если $4\lambda - 9 \neq 0$, т. е. $\lambda \neq \frac{9}{4}$, то $\Delta A \neq 0$, т. е. матрица A невырожденная, имеет обратную. ♦

3. Показать, что матрица A является обратной для B , если

$$A = \begin{pmatrix} 1 & 1 & 1 \\ 1 & 2 & 3 \\ 1 & 3 & 6 \end{pmatrix}, \quad B = \begin{pmatrix} 3 & -3 & 1 \\ -5 & 5 & -2 \\ 1 & -2 & 1 \end{pmatrix}.$$

♦ Найдем произведение матриц A и B :

$$\begin{aligned} A \cdot B &= \begin{pmatrix} 1 & 1 & 1 \\ 1 & 2 & 3 \\ 1 & 3 & 6 \end{pmatrix} \cdot \begin{pmatrix} 3 & -3 & 1 \\ -5 & 5 & -2 \\ 1 & -2 & 1 \end{pmatrix} = \\ &= \begin{pmatrix} 3-3+1 & -3+5-2 & 1-2+1 \\ 3-6+3 & 3+10-6 & 1-4+3 \\ 3-9+6 & -3+15-12 & 1-6+6 \end{pmatrix} = \begin{pmatrix} 1 & 0 & 0 \\ 0 & 1 & 0 \\ 0 & 0 & 1 \end{pmatrix} = E. \end{aligned}$$

Аналогично $B \cdot A = E$. Следовательно, матрица A является обратной для B . ♦

6. РАНГ МАТРИЦЫ

Рассмотрим матрицу A размера $m \times n$.

$$A = \begin{pmatrix} \boxed{a_{11} & a_{12}} & a_{13} & \dots & a_{1n} \\ \boxed{a_{21} & a_{22}} & a_{23} & \dots & a_{2n} \\ a_{31} & a_{32} & a_{33} & \dots & a_{3n} \\ \dots & \dots & \dots & \dots & \dots \\ a_{m1} & a_{m2} & a_{m3} & \dots & a_{mn} \end{pmatrix}$$

Выделим в ней k строк и k столбцов ($k \leq \min(m; n)$). Из элементов, стоящих на пересечении выделенных строк и столбцов, составим определитель k -го порядка. Все такие определители называются *минорами этой матрицы*. В матрице A пунктиром выделен минор 2-го порядка. (Заметим, что таких миноров можно составить $C_m^k \cdot C_n^k$ штук, где $C_n^k = \frac{n!}{k!(n-k)!}$ — число сочетаний из n элементов по k .)

Наибольший из порядков миноров данной матрицы, отличных от нуля, называется *рангом матрицы*. Обозначается r , $r(A)$ или $\text{rang } A$.

Очевидно, что $0 \leq r \leq \min(m; n)$, где $\min(m; n)$ — меньшее из чисел m и n .

Минор, порядок которого определяет ранг матрицы, называется *базисным*. У матрицы может быть несколько базисных миноров.

Пример:

$$A = \begin{pmatrix} 2 & 0 & 4 & 0 \\ 3 & 0 & 6 & 0 \\ 1 & 0 & -3 & 0 \end{pmatrix}, \quad r = ?$$

◆ Все миноры 3-го порядка равны нулю. Есть минор 2-го порядка, отличный от нуля $\begin{vmatrix} 3 & 6 \\ 1 & -3 \end{vmatrix} = -15 \neq 0$. Значит, $r(A) = 2$. Базисный минор стоит на пересечении 2 и 3 строк с 1 и 3 столбцами. ◆

Отметим свойства ранга матрицы:

1. При транспонировании матрицы ее ранг не меняется.
2. Если вычеркнуть из матрицы нулевой ряд, то ранг матрицы не изменится.

3. Ранг матрицы не изменяется при *элементарных преобразованиях матрицы*, а именно:

- перестановка местами двух параллельных рядов матрицы;
- умножение всех элементов ряда матрицы на число, отличное от нуля;
- прибавление ко всем элементам ряда матрицы соответствующих элементов параллельного ряда, умноженных на одно и то же число.

Две матрицы A и B называются *эквивалентными*, если одна из них получается из другой с помощью элементарных преобразований. Записывается $A \sim B$.

При помощи элементарных преобразований любую матрицу можно привести к матрице, у которой в начале главной диагонали стоят подряд несколько единиц, а все остальные элементы равны нулю.

Такую матрицу называют *канонической*, например $\begin{pmatrix} 1 & 0 & 0 & 0 \\ 0 & 1 & 0 & 0 \\ 0 & 0 & 1 & 0 \\ 0 & 0 & 0 & 0 \end{pmatrix}$.

Ранг канонической матрицы равен числу единиц на главной диагонали. На этом основан способ вычисления ранга матрицы.

Пример:

$$A = \begin{pmatrix} 2 & 3 & 1 & 2 \\ 0 & 2 & -1 & 1 \\ 4 & 0 & 5 & 1 \end{pmatrix}, \quad r(A) = ?$$

◆ Выполняя элементарные преобразования, получаем

$$\begin{aligned} & \begin{pmatrix} 2 & 3 & 1 & 2 \\ 0 & 2 & -1 & 1 \\ 4 & 0 & 5 & 1 \end{pmatrix} \sim \begin{matrix} \boxed{-5} \\ \downarrow \\ \end{matrix} \begin{pmatrix} 1 & 3 & 2 & 2 \\ -1 & 2 & 0 & 1 \\ 5 & 0 & 4 & 1 \end{pmatrix} \sim \begin{matrix} \boxed{-2} \\ \downarrow \\ \boxed{-3} \end{matrix} \begin{pmatrix} 1 & 3 & 2 & 2 \\ 0 & 5 & 2 & 3 \\ 0 & -15 & -6 & -9 \end{pmatrix} \sim \\ & \sim \begin{pmatrix} 1 & 0 & 0 & 0 \\ 0 & 5 & 2 & 3 \\ 0 & -15 & -6 & -9 \end{pmatrix} \sim \begin{matrix} \boxed{3} \\ \downarrow \\ \end{matrix} \begin{pmatrix} 1 & 0 & 0 & 0 \\ 0 & 1 & 1 & 1 \\ 0 & -3 & -3 & -3 \end{pmatrix} \sim \begin{pmatrix} 1 & 0 & 0 & 0 \\ 0 & 1 & 1 & 1 \\ 0 & 0 & 0 & 0 \end{pmatrix} \sim \\ & \sim \begin{pmatrix} 1 & 0 & 0 & 0 \\ 0 & 1 & 0 & 0 \end{pmatrix} \implies r(A) = 2. \quad \blacklozenge \end{aligned}$$

8. РЕШЕНИЕ НЕВЫРОЖДЕННЫХ ЛИНЕЙНЫХ СИСТЕМ. ФОРМУЛЫ КРАМЕРА

Пусть дана система n линейных уравнений с n неизвестными

$$\begin{cases} a_{11}x_1 + a_{12}x_2 + \dots + a_{1n}x_n = b_1, \\ a_{21}x_1 + a_{22}x_2 + \dots + a_{2n}x_n = b_2, \\ \dots\dots\dots \\ a_{n1}x_1 + a_{n2}x_2 + \dots + a_{nn}x_n = b_n \end{cases}$$

или в матричной форме $A \cdot X = B$.

Основная матрица A такой системы квадратная. Определитель этой матрицы

$$\Delta = \begin{vmatrix} a_{11} & \dots & a_{1n} \\ \dots & \dots & \dots \\ a_{n1} & \dots & a_{nn} \end{vmatrix}$$

называется *определителем системы*. Если определитель системы отличен от нуля, то система называется *невырожденной*.

Найдем решение данной системы уравнений в случае $\Delta \neq 0$.

Умножив обе части уравнения $A \cdot X = B$ слева на матрицу A^{-1} , получим $A^{-1} \cdot A \cdot X = A^{-1} \cdot B$. Поскольку $A^{-1} \cdot A = E$ и $E \cdot X = X$, то

$$X = A^{-1} \cdot B. \tag{1}$$

Отыскание решения системы по формуле (1) называют *матричным способом* решения системы.

Матричное равенство (1) запишем в виде

$$\begin{pmatrix} x_1 \\ x_2 \\ \vdots \\ x_n \end{pmatrix} = \frac{1}{\Delta} \begin{pmatrix} A_{11} & A_{21} & \dots & A_{n1} \\ A_{12} & A_{22} & \dots & A_{n2} \\ \dots\dots\dots \\ A_{1n} & A_{2n} & \dots & A_{nn} \end{pmatrix} \cdot \begin{pmatrix} b_1 \\ b_2 \\ \vdots \\ b_n \end{pmatrix},$$

то есть

$$\begin{pmatrix} x_1 \\ x_2 \\ \vdots \\ x_n \end{pmatrix} = \begin{pmatrix} \frac{A_{11}b_1 + A_{21}b_2 + \dots + A_{n1}b_n}{\Delta} \\ \frac{A_{12}b_1 + A_{22}b_2 + \dots + A_{n2}b_n}{\Delta} \\ \dots\dots\dots \\ \frac{A_{1n}b_1 + A_{2n}b_2 + \dots + A_{nn}b_n}{\Delta} \end{pmatrix}.$$

Отсюда следует, что

$$x_1 = \frac{A_{11}b_1 + A_{21}b_2 + \dots + A_{n1}b_n}{\Delta},$$

$$\dots\dots\dots$$

$$x_n = \frac{A_{1n}b_1 + A_{2n}b_2 + \dots + A_{nn}b_n}{\Delta}.$$

Но $A_{11}b_1 + A_{21}b_2 + \dots + A_{n1}b_n$ есть разложение определителя

$$\Delta_1 = \begin{vmatrix} b_1 & a_{12} & \dots & a_{1n} \\ b_2 & a_{22} & \dots & a_{2n} \\ \dots & \dots & \dots & \dots \\ b_n & a_{n2} & \dots & a_{nn} \end{vmatrix}$$

по элементам первого столбца. Определитель Δ_1 получается из определителя Δ путем замены первого столбца коэффициентов столбцом из свободных членов.

Итак, $x_1 = \frac{\Delta_1}{\Delta}$.

Аналогично: $x_2 = \frac{\Delta_2}{\Delta}$, где Δ_2 получен из Δ путем замены второго столбца коэффициентов столбцом из свободных членов; $x_3 = \frac{\Delta_3}{\Delta}$, ..., $x_n = \frac{\Delta_n}{\Delta}$.

Формулы

$$x_i = \frac{\Delta_i}{\Delta}, \quad i = \overline{1, n} \quad (2)$$

называются *формулами Крамера*.

Итак, невырожденная система n линейных уравнений с n неизвестными имеет единственное решение, которое может быть найдено матричным способом (1) либо по формулам Крамера (2).

Пример: Решить систему $\begin{cases} 2x_1 - x_2 = 0, \\ x_1 + 3x_2 = 7. \end{cases}$

◆ $\Delta = \begin{vmatrix} 2 & -1 \\ 1 & 3 \end{vmatrix} = 7 \neq 0, \quad \Delta_1 = \begin{vmatrix} 0 & -1 \\ 7 & 3 \end{vmatrix} = 7, \quad \Delta_2 = \begin{vmatrix} 2 & 0 \\ 1 & 7 \end{vmatrix} = 14.$

Значит, $x_1 = \frac{7}{7} = 1, x_2 = \frac{14}{7} = 2.$ ◆

3. По правилу Крамера (или методу Гаусса) найти выражения главных неизвестных через свободные. Получено общее решение системы.

4. Придавая свободным неизвестным произвольные значения, получим соответствующие значения главных неизвестных. Таким образом можно найти частные решения исходной системы уравнений.

Примеры:

1) Исследовать на совместность систему
$$\begin{cases} x + y = 1, \\ 3x + 3y = -2. \end{cases}$$

◆

$$A = \begin{pmatrix} 1 & 1 \\ 3 & 3 \end{pmatrix}, \quad r(A) = 1,$$

$$\bar{A} = \begin{pmatrix} 1 & 1 & 1 \\ 3 & 3 & -2 \end{pmatrix}, \quad r(\bar{A}) = 2 \quad \left(\Delta = \begin{vmatrix} 1 & 1 \\ 3 & -2 \end{vmatrix} \neq 0 \right).$$

Таким образом, $r(A) \neq r(\bar{A})$, следовательно, система несовместна.

◆

2) Решить систему

$$\begin{cases} x_1 - 2x_2 + x_3 + x_4 = 1, \\ x_1 - 2x_2 + x_3 - x_4 = -1, \\ x_1 - 2x_2 + x_3 + 3x_4 = 3. \end{cases}$$

◆ $r(A) = r(\bar{A}) = 2$. Берем два первых уравнения:

$$\begin{cases} x_1 - 2x_2 + x_3 + x_4 = 1, \\ x_1 - 2x_2 + x_3 - x_4 = -1. \end{cases} \quad \Delta = \begin{vmatrix} 1 & 1 \\ 1 & -1 \end{vmatrix} = -2 \neq 0,$$

$$\begin{cases} x_3 + x_4 = 1 - x_1 + 2x_2, \\ x_3 - x_4 = -1 - x_1 + 2x_2. \end{cases} \quad \Delta_1 = \begin{vmatrix} 1 - x_1 + 2x_2 & 1 \\ -1 - x_1 + 2x_2 & -1 \end{vmatrix} = 2x_1 - 4x_2,$$

$$\Delta_2 = \begin{vmatrix} 1 & 1 - x_1 + 2x_2 \\ 1 & -1 - x_1 + 2x_2 \end{vmatrix} = -2.$$

Следовательно, $x_3 = -x_1 + 2x_2$, $x_4 = 1$ — общее решение. Положив, например, $x_1 = 0$, $x_2 = 0$, получаем одно из частных решений: $x_1 = 0$, $x_2 = 0$, $x_3 = 0$, $x_4 = 1$.

◆

◆ В результате элементарных преобразований над расширенной матрицей системы

$$\begin{pmatrix} 2 & -1 & 3 & -5 & 1 \\ 1 & -1 & -5 & 0 & 2 \\ 3 & -2 & -2 & -5 & 3 \\ 7 & -5 & -9 & -10 & 8 \end{pmatrix} \sim \begin{pmatrix} 1 & -1 & -5 & 0 & 2 \\ 2 & -1 & 3 & -5 & 1 \\ 3 & -2 & -2 & -5 & 3 \\ 7 & -5 & -9 & -10 & 8 \end{pmatrix} \sim \\ \sim \begin{pmatrix} 1 & -1 & -5 & 0 & 2 \\ 0 & 1 & 13 & -5 & -3 \\ 0 & 1 & 13 & -5 & -3 \\ 0 & 2 & 26 & -10 & -6 \end{pmatrix} \sim \begin{pmatrix} 1 & -1 & -5 & 0 & 2 \\ 0 & 1 & 13 & -5 & -3 \\ 0 & 0 & 0 & 0 & 0 \\ 0 & 0 & 0 & 0 & 0 \end{pmatrix}$$

исходная система свелась к ступенчатой:

$$\begin{cases} x_1 - x_2 - 5x_3 = 2, \\ x_2 + 13x_3 + 5x_4 = -3. \end{cases}$$

Поэтому общее решение системы: $x_2 = -5x_4 - 13x_3 - 3$; $x_1 = -5x_4 - 8x_3 - 1$. Если положить, например, $x_3 = 0$, $x_4 = 0$, то найдем одно из частных решений этой системы $x_1 = -1$, $x_2 = -3$, $x_3 = 0$, $x_4 = 0$. ◆

2) Решить систему методом Гаусса:

$$\begin{cases} x_1 + x_2 + x_3 = 3, \\ 2x_1 + 3x_2 + 3x_3 = 7, \\ 3x_1 + x_2 + x_3 = 5, \\ 5x_1 - x_2 - x_3 = 3. \end{cases}$$

◆ Произведем элементарные преобразования над строчками расширенной матрицы системы:

$$\begin{pmatrix} 1 & 1 & 1 & 3 \\ 2 & 3 & 3 & 7 \\ 3 & 1 & 1 & 5 \\ 5 & -1 & -1 & 3 \end{pmatrix} \sim \begin{pmatrix} 1 & 1 & 1 & 3 \\ 0 & 1 & 0 & 1 \\ 0 & -2 & -2 & -4 \\ 0 & -6 & -6 & -12 \end{pmatrix} \sim \begin{pmatrix} 1 & 1 & 1 & 3 \\ 0 & 1 & 0 & 1 \\ 0 & 1 & 1 & 2 \\ 0 & 1 & 1 & 2 \end{pmatrix} \sim \begin{pmatrix} 1 & 1 & 1 & 3 \\ 0 & 1 & 0 & 1 \\ 0 & 0 & 1 & 1 \\ 0 & 0 & 0 & 0 \end{pmatrix}$$

Полученная матрица соответствует системе

$$\begin{cases} x_1 + x_2 + x_3 = 3, \\ x_2 = 1, \\ x_3 = 1. \end{cases}$$

Осуществляя обратный ход, находим $x_3 = 1$, $x_2 = 1$, $x_1 = 1$. ◆

◀ Если система имеет ненулевые решения, то $\Delta = 0$. Ибо при $\Delta \neq 0$ система имеет только единственное, ненулевое решение. Если же $\Delta = 0$, то ранг r основной матрицы системы меньше числа неизвестных, т. е. $r < n$. И, значит, система имеет бесконечное множество (ненулевых) решений. ▶

Пример: Решить систему

$$\begin{cases} x_1 - 2x_2 + 4x_3 = 0, \\ 2x_1 - 3x_2 + 5x_3 = 0. \end{cases}$$

◆ $A = \begin{pmatrix} 1 & -2 & 4 \\ 2 & -3 & 5 \end{pmatrix}$, $r(A) = 2$, $\left(\Delta = \begin{vmatrix} 1 & -2 \\ 2 & -3 \end{vmatrix} = 1 \neq 0 \right)$, $n = 3$. Так как $r < n$, то система имеет бесчисленное множество решений. Найдём их

$$\begin{cases} x_1 - 2x_2 = -4x_3, \\ 2x_1 - 3x_2 = -5x_3. \end{cases}$$

$$\Delta_1 = \begin{vmatrix} -4x_3 & -2 \\ -5x_3 & -3 \end{vmatrix} = 2x_3, \quad \Delta_2 = \begin{vmatrix} 1 & -4x_3 \\ 2 & -5x_3 \end{vmatrix} = 3x_3. \quad \text{Стало быть,}$$

$$x_1 = \frac{\Delta_1}{\Delta} = 2x_3, \quad x_2 = \frac{\Delta_2}{\Delta} = 3x_3 \quad \text{— общее решение.}$$

Положив $x_3 = 0$, получаем одно частное решение: $x_1 = 0$, $x_2 = 0$, $x_3 = 0$. Положив $x_3 = 1$, получаем второе частное решение: $x_1 = 2$, $x_2 = 3$, $x_3 = 1$ и т. д. ◆

II. ЭЛЕМЕНТЫ ВЕКТОРНОЙ АЛГЕБРЫ

12. ВЕКТОРЫ И ЛИНЕЙНЫЕ ОПЕРАЦИИ НАД НИМИ

Величины, которые полностью определяются своим численным значением, называются *скалярными*. Примерами скалярных величин являются: площадь, длина, объем, температура, работа, масса.

Другие величины, например сила, скорость, ускорение, определяются не только своим числовым значением, но и направлением. Такие величины называют *векторными*. Векторная величина геометрически изображается с помощью вектора.

Вектор — это направленный прямолинейный отрезок, т. е. отрезок, имеющий определенную длину и определенное направление. Если A — начало вектора, а B — его конец, то вектор обозначается символом \overline{AB} или \vec{a} . Вектор \overline{BA} (у него начало в точке B , а конец в точке A) называется *противоположным* вектору \overline{AB} . Вектор, противоположный вектору \vec{a} , обозначается $-\vec{a}$.

Длиной или *модулем* вектора \overline{AB} называется длина отрезка и обозначается $|\overline{AB}|$. Вектор, длина которого равна нулю, называется *нулевым вектором* и обозначается $\vec{0}$. Нулевой вектор направления не имеет.

Вектор, длина которого равна единице, называется *единичным* вектором. Обозначается через \vec{e} . Единичный вектор, направление которого совпадает с направлением вектора \vec{a} , называется *ортом* вектора \vec{a} и обозначается \vec{a}^0 .

Векторы \vec{a} и \vec{b} называются *коллинеарными*, если они лежат на одной прямой или на параллельных прямых; записывают $\vec{a} \parallel \vec{b}$.

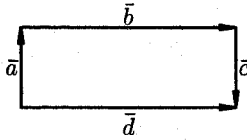
Коллинеарные векторы могут быть направлены одинаково или противоположно.

Нулевой вектор считается коллинеарным любому вектору.

Два вектора \vec{a} и \vec{b} называются *равными* ($\vec{a} = \vec{b}$), если они коллинеарны, одинаково направлены и имеют одинаковые длины.

Из определения равенства векторов следует, что вектор можно переносить параллельно самому себе, а начало вектора помещать в любую точку O пространства.

На следующем рисунке векторы образуют прямоугольник. Справедливо равенство $\vec{b} = \vec{d}$, но $\vec{a} \neq \vec{c}$. Векторы \vec{a} и \vec{c} — противоположные, $\vec{a} = -\vec{c}$.



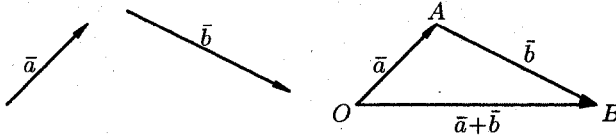
Равные векторы называют также *свободными*.

Три вектора в пространстве называются *компланарными*, если они лежат в одной плоскости или в параллельных плоскостях. Если среди трех векторов хотя бы один нулевой или два любые коллинеарны, то такие векторы компланарны.

Линейные операции над векторами

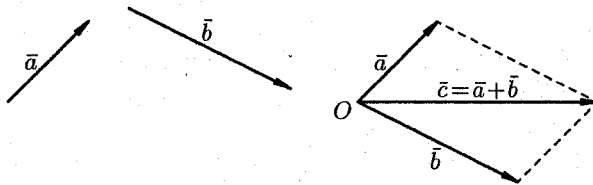
Под линейными операциями над векторами понимают операции сложения и вычитания векторов, а также умножение вектора на число.

Пусть \vec{a} и \vec{b} — два произвольных вектора. Возьмем произвольную точку O и построим вектор $\vec{OA} = \vec{a}$. От точки A отложим вектор $\vec{AB} = \vec{b}$. Вектор \vec{OB} , соединяющий начало первого вектора с концом второго, называется *суммой* векторов \vec{a} и \vec{b} : $\vec{OB} = \vec{a} + \vec{b}$.

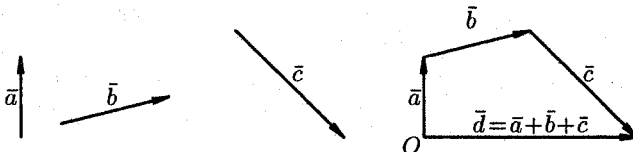


Это правило сложения векторов называют *правилом треугольника*.


Сумму двух векторов можно построить также по *правилу параллелограмма*:



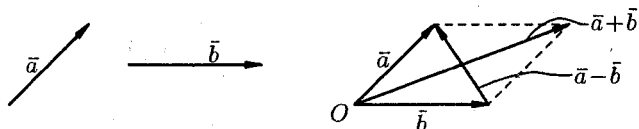
На следующем рисунке показано сложение трех векторов \vec{a} , \vec{b} и \vec{c} .



Под *разностью* векторов \vec{a} и \vec{b} понимается вектор $\vec{c} = \vec{a} - \vec{b}$ такой, что $\vec{b} + \vec{c} = \vec{a}$:



Отметим, что в параллелограмме, построенном на векторах \vec{a} и \vec{b} , одна направленная диагональ является суммой векторов \vec{a} и \vec{b} , а другая — разностью.



Можно вычитать векторы по правилу: $\vec{a} - \vec{b} = \vec{a} + (-\vec{b})$, т. е. вычитание векторов заменить сложением вектора \vec{a} с вектором, противоположным вектору \vec{b} .

Произведением вектора \vec{a} на скаляр (число) λ называется вектор $\lambda \cdot \vec{a}$ (или $\vec{a} \cdot \lambda$), который имеет длину $|\lambda| \cdot |\vec{a}|$, коллинеарен вектору \vec{a} , имеет направление вектора \vec{a} , если $\lambda > 0$ и противоположное направление, если $\lambda < 0$. Например, если дан вектор \vec{a} , то векторы $3\vec{a}$ и $-2\vec{a}$ будут иметь вид $3\vec{a}$ и $-2\vec{a}$.

Из определения произведения вектора на число следуют свойства этого произведения:

1) если $\vec{b} = \lambda \cdot \vec{a}$, то $\vec{b} \parallel \vec{a}$. Наоборот, если $\vec{b} \parallel \vec{a}$, ($\vec{a} \neq \vec{0}$), то при некотором λ верно равенство $\vec{b} = \lambda \vec{a}$;

2) всегда $\vec{a} = |\vec{a}| \cdot \vec{a}^0$, т. е. каждый вектор равен произведению его модуля на орт.

Линейные операции над векторами обладают следующими свойствами:

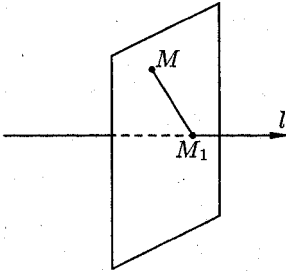
1. $\vec{a} + \vec{b} = \vec{b} + \vec{a}$,
2. $(\vec{a} + \vec{b}) + \vec{c} = \vec{a} + (\vec{b} + \vec{c})$,
3. $\lambda_1 \cdot (\lambda_2 \cdot \vec{a}) = \lambda_1 \cdot \lambda_2 \cdot \vec{a}$,
4. $(\lambda_1 + \lambda_2) \cdot \vec{a} = \lambda_1 \cdot \vec{a} + \lambda_2 \cdot \vec{a}$,
5. $\lambda \cdot (\vec{a} + \vec{b}) = \lambda \cdot \vec{a} + \lambda \cdot \vec{b}$.

Эти свойства позволяют проводить преобразования в линейных операциях с вектором так, как это делается в обычной алгебре: слагаемые менять местами, вводить скобки, группировать, выносить за скобки как скалярные, так и векторные общие множители.

13. ПРОЕКЦИЯ ВЕКТОРА НА ОСЬ

Пусть в пространстве задана ось l , т. е. направленная прямая.

Проекцией точки M на ось l называется основание M_1 перпендикуляра MM_1 , опущенного из точки на ось.

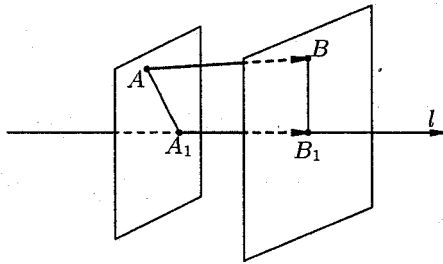


Точка M_1 есть точка пересечения оси l с плоскостью, проходящей через точку M перпендикулярно оси.

Если точка M лежит на оси l , то проекция точки M на ось совпадает с M .

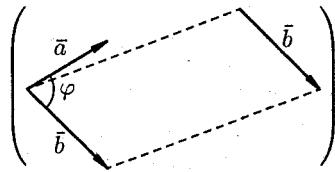
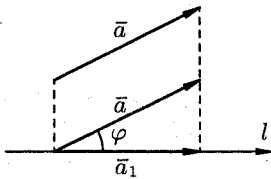
Пусть \overline{AB} — произвольный вектор ($\overline{AB} \neq \vec{0}$). Обозначим через A_1 и B_1 проекции на ось l соответственно начала A и конца B вектора \overline{AB} и рассмотрим вектор $\overline{A_1B_1}$.

Проекцией вектора \overline{AB} на ось l называется положительное число $|\overline{A_1B_1}|$, если вектор $\overline{A_1B_1}$ и ось l одинаково направлены и отрицательное число $-|\overline{A_1B_1}|$, если вектор $\overline{A_1B_1}$ и ось l противоположно направлены. Если точки A_1 и B_1 совпадают ($\overline{A_1B_1} = \vec{0}$), то проекция вектора \overline{AB} равна 0.



Проекция вектора \overline{AB} на ось l обозначается так: $\text{пр}_l \overline{AB}$. Если $\overline{AB} = \vec{0}$ или $\overline{AB} \perp l$, то $\text{пр}_l \overline{AB} = 0$.

Угол φ между вектором \vec{a} и осью l (или угол между двумя векторами) изображен на следующем рисунке.

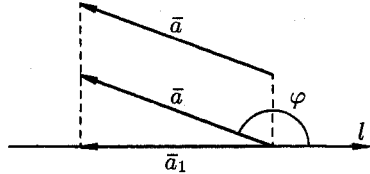


Очевидно, $0 \leq \varphi \leq \pi$.

Рассмотрим некоторые *основные свойства проекций*.

Свойство 13.1. Проекция вектора \vec{a} на ось l равна произведению модуля вектора \vec{a} на косинус угла φ между вектором и осью, т. е. $\text{пр}_l \vec{a} = |\vec{a}| \cdot \cos \varphi$.

◀ Если $\varphi = (\vec{a}, l) < \frac{\pi}{2}$, то $\text{пр}_l \vec{a} = +|\vec{a}_1| = |\vec{a}| \cdot \cos \varphi$.



Если $\varphi > \frac{\pi}{2}$ ($\varphi \leq \pi$), то $\text{пр}_l \vec{a} = -|\vec{a}_1| = -|\vec{a}| \cdot \cos(\pi - \varphi) = \vec{a} \cdot \cos \varphi$.

Если $\varphi = \frac{\pi}{2}$, то $\text{пр}_l \vec{a} = 0 = |\vec{a}| \cos \varphi$. ▶

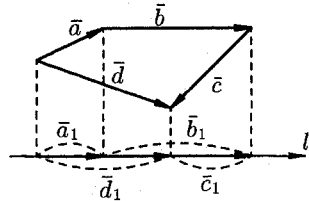
Следствия:

1. Проекция вектора на ось положительна (отрицательна), если вектор образует с осью острый (тупой) угол, и равна нулю, если этот угол — прямой.

2. Проекции равных векторов на одну и ту же ось равны между собой.

Свойство 13.2. Проекция суммы нескольких векторов на одну и ту же ось равна сумме их проекций на эту ось.

◀ Пусть, например, $\vec{d} = \vec{a} + \vec{b} + \vec{c}$. Имеем $\text{пр}_l \vec{d} = +|\vec{d}_1| = +|\vec{a}_1| + |\vec{b}_1| - |\vec{c}_1|$, т. е. $\text{пр}_l(\vec{a} + \vec{b} + \vec{c}) = \text{пр}_l \vec{a} + \text{пр}_l \vec{b} + \text{пр}_l \vec{c}$. ▶



Свойство 13.3. При умножении вектора \vec{a} на число λ его проекция на ось также умножается на это число, т. е.

$$\text{пр}_l(\lambda \cdot \vec{a}) = \lambda \cdot \text{пр}_l \vec{a}.$$

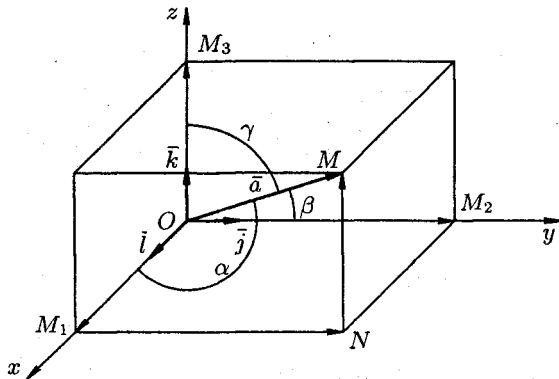
◀ При $\lambda > 0$ имеем $\text{пр}_l(\lambda \cdot \vec{a}) = |\lambda \vec{a}| \cdot \cos \varphi = \lambda \cdot |\vec{a}| \cdot \cos \varphi = \lambda \cdot \text{пр}_l \vec{a}$.
(свойство 1)

При $\lambda < 0$: $\text{пр}_l(\lambda \cdot \vec{a}) = |\lambda \vec{a}| \cdot \cos(\pi - \varphi) = -\lambda \cdot |\vec{a}| \cdot (-\cos \varphi) = \lambda \cdot \vec{a} \cdot \cos \varphi = \lambda \cdot \text{пр}_l \vec{a}$. Свойство справедливо, очевидно, и при $\lambda = 0$. ▶

Таким образом, линейные операции над векторами приводят к соответствующим линейным операциям над проекциями этих векторов.

14. РАЗЛОЖЕНИЕ ВЕКТОРА ПО ОРТАМ КООРДИНАТНЫХ ОСЕЙ. МОДУЛЬ ВЕКТОРА. НАПРАВЛЯЮЩИЕ КОСИНУСЫ

Рассмотрим в пространстве прямоугольную систему координат $Oxyz$. Выделим на координатных осях Ox , Oy и Oz единичные векторы (орты), обозначаемые \vec{i} , \vec{j} , \vec{k} соответственно (см. рис.).



Выберем произвольный вектор \vec{a} пространства и совместим его начало с началом координат: $\vec{a} = \overline{OM}$.

Найдем проекции вектора \vec{a} на координатные оси. Проведем через конец вектора \overline{OM} плоскости, параллельные координатным плоскостям. Точки пересечения этих плоскостей с осями обозначим соответственно через M_1 , M_2 и M_3 . Получим прямоугольный параллелепипед, одной из диагоналей которого является вектор \overline{OM} . Тогда $\text{пр}_x \vec{a} = |\overline{OM_1}|$, $\text{пр}_y \vec{a} = |\overline{OM_2}|$, $\text{пр}_z \vec{a} = |\overline{OM_3}|$. По определению суммы нескольких векторов находим $\vec{a} = \overline{OM_1} + \overline{M_1N} + \overline{NM}$.

А так как $\overline{M_1N} = \overline{OM_2}$, $\overline{NM} = \overline{OM_3}$, то

$$\vec{a} = \overline{OM_1} + \overline{OM_2} + \overline{OM_3}. \quad (1)$$

Но

$$\overline{OM_1} = |\overline{OM_1}| \cdot \vec{i}, \quad \overline{OM_2} = |\overline{OM_2}| \cdot \vec{j}, \quad \overline{OM_3} = |\overline{OM_3}| \cdot \vec{k}. \quad (2)$$

Обозначим проекции вектора $\vec{a} = \overline{OM}$ на оси Ox , Oy и Oz соответственно через a_x , a_y и a_z , т. е. $|\overline{OM_1}| = a_x$, $|\overline{OM_2}| = a_y$, $|\overline{OM_3}| = a_z$. Тогда из равенств (1) и (2) получаем

$$\vec{a} = a_x \cdot \vec{i} + a_y \cdot \vec{j} + a_z \cdot \vec{k}. \quad (3)$$

Эта формула является основной в векторном исчислении и называется *разложением вектора по ортам координатных осей*. Числа a_x , a_y , a_z называются *координатами вектора \vec{a}* , т. е. координаты вектора есть его проекции на соответствующие координатные оси.

Векторное равенство (3) часто записывают в символическом виде: $\vec{a} = (a_x; a_y; a_z)$.

Равенство $\vec{b} = (b_x; b_y; b_z)$ означает, что $\vec{b} = b_x \cdot \vec{i} + b_y \cdot \vec{j} + b_z \cdot \vec{k}$.

Зная проекции вектора \vec{a} , можно легко найти выражение для модуля вектора.

На основании теоремы о длине диагонали прямоугольного параллелепипеда можно написать: $|\vec{OM}|^2 = |\vec{OM}_1|^2 + |\vec{OM}_2|^2 + |\vec{OM}_3|^2$, т. е.

$$|\vec{a}|^2 = a_x^2 + a_y^2 + a_z^2. \quad (4)$$

Отсюда

$$|\vec{a}| = \sqrt{a_x^2 + a_y^2 + a_z^2},$$

т. е. *модуль вектора равен квадратному корню из суммы квадратов его проекций на оси координат*.

Пусть углы вектора \vec{a} с осями Ox , Oy и Oz соответственно равны α , β , γ . По свойству проекции вектора на ось, имеем

$$a_x = |\vec{a}| \cdot \cos \alpha, \quad a_y = |\vec{a}| \cdot \cos \beta, \quad a_z = |\vec{a}| \cdot \cos \gamma. \quad (5)$$

Или, что то же самое,

$$\cos \alpha = \frac{a_x}{|\vec{a}|}, \quad \cos \beta = \frac{a_y}{|\vec{a}|}, \quad \cos \gamma = \frac{a_z}{|\vec{a}|}.$$

Числа $\cos \alpha$, $\cos \beta$, $\cos \gamma$ называются *направляющими косинусами вектора \vec{a}* .

Подставим выражения (5) в равенство (4), получаем

$$|\vec{a}|^2 = |\vec{a}|^2 \cdot \cos^2 \alpha + |\vec{a}|^2 \cdot \cos^2 \beta + |\vec{a}|^2 \cdot \cos^2 \gamma.$$

Сократив на $|\vec{a}|^2 \neq 0$, получим соотношение

$$\cos^2 \alpha + \cos^2 \beta + \cos^2 \gamma = 1,$$

т. е. *сумма квадратов направляющих косинусов ненулевого вектора равна единице*.

Легко заметить, что координатами единичного вектора \vec{e} являются числа $\cos \alpha$, $\cos \beta$, $\cos \gamma$, т. е. $\vec{e} = (\cos \alpha; \cos \beta; \cos \gamma)$.

Итак, задав координаты вектора, всегда можно определить его модуль и направление, т. е. сам вектор.

15. ДЕЙСТВИЯ НАД ВЕКТОРАМИ, ЗАДАННЫМИ ПРОЕКЦИЯМИ

Пусть векторы $\bar{a} = (a_x; a_y; a_z)$ и $\bar{b} = (b_x; b_y; b_z)$ заданы своими проекциями на оси координат Ox , Oy , Oz или, что то же самое

$$\bar{a} = a_x \cdot \bar{i} + a_y \cdot \bar{j} + a_z \cdot \bar{k}, \quad \bar{b} = b_x \cdot \bar{i} + b_y \cdot \bar{j} + b_z \cdot \bar{k}.$$

Линейные операции над векторами

Так как линейные операции над векторами сводятся к соответствующим линейным операциям над проекциями этих векторов, то можно записать:

1. $\bar{a} \pm \bar{b} = (a_x \pm b_x)\bar{i} + (a_y \pm b_y)\bar{j} + (a_z \pm b_z)\bar{k}$, или кратко $\bar{a} \pm \bar{b} = (a_x \pm b_x; a_y \pm b_y; a_z \pm b_z)$. То есть при сложении (вычитании) векторов их одноименные координаты складываются (вычитаются).

2. $\lambda \bar{a} = \lambda a_x \cdot \bar{i} + \lambda a_y \cdot \bar{j} + \lambda a_z \cdot \bar{k}$ или короче $\lambda \bar{a} = (\lambda a_x; \lambda a_y; \lambda a_z)$. То есть при умножении вектора на скаляр координаты вектора умножаются на этот скаляр.

Равенство векторов

Из определения вектора как направленного отрезка, который можно перемещать в пространстве параллельно самому себе, следует, что два вектора \bar{a} и \bar{b} равны тогда и только тогда, когда выполняются равенства: $a_x = b_x$, $a_y = b_y$, $a_z = b_z$, т. е.

$$\bar{a} = \bar{b} \iff \begin{cases} a_x = b_x, \\ a_y = b_y, \\ a_z = b_z. \end{cases}$$

Коллинеарность векторов

Выясним условия коллинеарности векторов \bar{a} и \bar{b} , заданных своими координатами.

Так как $\bar{a} \parallel \bar{b}$, то можно записать $\bar{a} = \lambda \cdot \bar{b}$, где λ — некоторое число. То есть

$$\begin{aligned} a_x \cdot \bar{i} + a_y \cdot \bar{j} + a_z \cdot \bar{k} &= \lambda(b_x \cdot \bar{i} + b_y \cdot \bar{j} + b_z \cdot \bar{k}) = \\ &= \lambda b_x \cdot \bar{i} + \lambda b_y \cdot \bar{j} + \lambda b_z \cdot \bar{k}. \end{aligned}$$

Отсюда

$$a_x = \lambda b_x, \quad a_y = \lambda b_y, \quad a_z = \lambda b_z,$$

т. е.

$$\frac{a_x}{b_x} = \lambda, \quad \frac{a_y}{b_y} = \lambda, \quad \frac{a_z}{b_z} = \lambda \quad \text{или} \quad \frac{a_x}{b_x} = \frac{a_y}{b_y} = \frac{a_z}{b_z}.$$

Таким образом, *проекции коллинеарных векторов пропорциональны*. Верно и обратное утверждение: векторы, имеющие пропорциональные координаты, коллинеарны.

Координаты точки

Пусть в пространстве задана прямоугольная декартова система координат $Oxyz$. Для любой точки M координаты вектора \overline{OM} называются *координатами точки M* . Вектор \overline{OM} называется *радиус-вектором* точки M , обозначается \vec{r} , т. е. $\overline{OM} = \vec{r}$. Следовательно, координаты точки — это координаты ее радиус-вектора

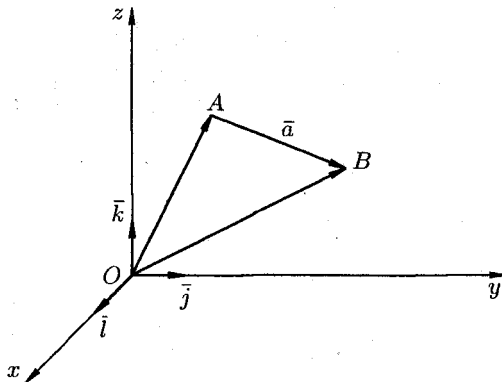
$$\vec{r} = (x; y; z) \quad \text{или} \quad \vec{r} = x \cdot \vec{i} + y \cdot \vec{j} + z \cdot \vec{k}.$$

Координаты точки M записываются в виде $M(x; y; z)$.

Координаты вектора

Найдем координаты вектора $\vec{a} = \overline{AB}$, если известны координаты точек $A(x_1; y_1; z_1)$ и $B(x_2; y_2; z_2)$. Имеем (см. рис.)

$$\begin{aligned} \overline{AB} &= \overline{OB} - \overline{OA} = (x_2 \cdot \vec{i} + y_2 \cdot \vec{j} + z_2 \cdot \vec{k}) - (x_1 \cdot \vec{i} + y_1 \cdot \vec{j} + z_1 \cdot \vec{k}) = \\ &= (x_2 - x_1)\vec{i} + (y_2 - y_1)\vec{j} + (z_2 - z_1)\vec{k}. \end{aligned}$$



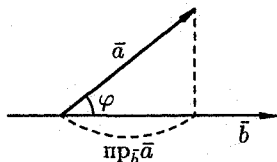
Следовательно, *координаты вектора равны разностям соответствующих координат его конца и начала*: $\overline{AB} = (x_2 - x_1; y_2 - y_1; z_2 - z_1)$.

16. СКАЛЯРНОЕ ПРОИЗВЕДЕНИЕ ВЕКТОРОВ И ЕГО СВОЙСТВА

Скалярным произведением двух ненулевых векторов \vec{a} и \vec{b} называется число, равное произведению длин этих векторов на косинус угла между ними.

Обозначается $\vec{a}\vec{b}$, $\vec{a} \cdot \vec{b}$ (или (\vec{a}, \vec{b})). Итак, по определению,

$$\vec{a} \cdot \vec{b} = |\vec{a}| \cdot |\vec{b}| \cdot \cos \varphi, \quad (1)$$



где $\varphi = (\vec{a}, \vec{b})$. Формуле (1) можно придать иной вид. Так как $|\vec{a}| \cos \varphi = \text{пр}_{\vec{b}} \vec{a}$, а $|\vec{b}| \cos \varphi = \text{пр}_{\vec{a}} \vec{b}$, то получаем:

$$\vec{a}\vec{b} = |\vec{a}| \cdot \text{пр}_{\vec{a}} \vec{b} = |\vec{b}| \cdot \text{пр}_{\vec{b}} \vec{a}, \quad (2)$$

т. е. скалярное произведение двух векторов равно модулю одного из них, умноженному на проекцию другого на ось, сонаправленную с первым вектором.

Свойства скалярного произведения

1. Скалярное произведение обладает переместительным свойством: $\vec{a}\vec{b} = \vec{b}\vec{a}$.

◀ $\vec{a}\vec{b} = |\vec{a}| \cdot |\vec{b}| \cdot \cos(\widehat{\vec{a}, \vec{b}})$, а $\vec{b}\vec{a} = |\vec{b}| \cdot |\vec{a}| \cdot \cos(\widehat{\vec{b}, \vec{a}})$. И так как $|\vec{a}| \cdot |\vec{b}| = |\vec{b}| \cdot |\vec{a}|$, как произведение чисел и $(\widehat{\vec{a}, \vec{b}}) = (\widehat{\vec{b}, \vec{a}})$, то $\vec{a}\vec{b} = \vec{b}\vec{a}$. ▶

2. Скалярное произведение обладает сочетательным свойством относительно скалярного множителя: $(\lambda \vec{a}) \cdot \vec{b} = \lambda(\vec{a}\vec{b})$.

◀ $(\lambda \vec{a})\vec{b} = |\vec{b}| \cdot \text{пр}_{\vec{b}} \lambda \vec{a} = \lambda \cdot |\vec{b}| \cdot \text{пр}_{\vec{b}} \vec{a} = \lambda(\vec{a}\vec{b})$. ▶

3. Скалярное произведение обладает распределительным свойством: $\vec{a}(\vec{b} + \vec{c}) = \vec{a}\vec{b} + \vec{a}\vec{c}$.

◀ $\vec{a}(\vec{b} + \vec{c}) = |\vec{a}| \cdot \text{пр}_{\vec{a}}(\vec{b} + \vec{c}) = |\vec{a}| \cdot (\text{пр}_{\vec{a}} \vec{b} + \text{пр}_{\vec{a}} \vec{c}) = |\vec{a}| \text{пр}_{\vec{a}} \vec{b} + |\vec{a}| \cdot \text{пр}_{\vec{a}} \vec{c} = \vec{a}\vec{b} + \vec{a}\vec{c}$. ▶

4. Скалярный квадрат вектора равен квадрату его длины: $\vec{a}^2 = |\vec{a}|^2$.

◀ $\vec{a}^2 = \vec{a} \cdot \vec{a} = |\vec{a}| \cdot |\vec{a}| \cos 0 = |\vec{a}| \cdot |\vec{a}| = |\vec{a}|^2$. ▶

В частности: $\vec{i}^2 = \vec{j}^2 = \vec{k}^2 = 1$.

Если вектор \vec{a} возвести скалярно в квадрат и затем извлечь корень, то получим не первоначальный вектор, а его модуль $|\vec{a}|$, т. е. $\sqrt{\vec{a}^2} = |\vec{a}|$ ($\sqrt{\vec{a}^2} \neq \vec{a}$).

Пример: Найти длину вектора $\vec{c} = 3\vec{a} - 4\vec{b}$, если $|\vec{a}| = 2$, $|\vec{b}| = 3$, $(\vec{a}, \vec{b}) = \frac{\pi}{3}$.

$$\begin{aligned} \blacklozenge \quad |\vec{c}| &= \sqrt{\vec{c}^2} = \sqrt{(3\vec{a} - 4\vec{b})^2} = \sqrt{9\vec{a}^2 - 24\vec{a}\vec{b} + 16\vec{b}^2} = \\ &= \sqrt{9 \cdot 4 - 24 \cdot 2 \cdot 3 \cdot \frac{1}{2} + 16 \cdot 9} = \sqrt{108} = 6\sqrt{3}. \quad \blacklozenge \end{aligned}$$

5. Если векторы \vec{a} и \vec{b} (ненулевые) взаимно перпендикулярны, то их скалярное произведение равно нулю, т. е. если $\vec{a} \perp \vec{b}$, то $\vec{a}\vec{b} = 0$. Справедливо и обратное утверждение: если $\vec{a}\vec{b} = 0$ и $\vec{a} \neq \vec{0} \neq \vec{b}$, то $\vec{a} \perp \vec{b}$.

◀ Так как $\varphi = (\vec{a}, \vec{b}) = \frac{\pi}{2}$, то $\cos \varphi = \cos \frac{\pi}{2} = 0$. Следовательно, $\vec{a} \cdot \vec{b} = |\vec{a}| \cdot |\vec{b}| \cdot 0 = 0$. Если же $\vec{a} \cdot \vec{b} = 0$ и $|\vec{a}| \neq 0$, $|\vec{b}| \neq 0$, то $\cos(\vec{a}, \vec{b}) = 0$. Отсюда $\varphi = (\vec{a}, \vec{b}) = 90^\circ$, т. е. $\vec{a} \perp \vec{b}$. В частности:

$$\vec{i} \cdot \vec{j} = \vec{j} \cdot \vec{k} = \vec{k} \cdot \vec{i} = 0. \quad \blacktriangleright$$

Пример: Доказать, что диагонали четырехугольника, заданного координатами вершин $A(-4; -4; 4)$, $B(-3; 2; 2)$, $C(2; 5; 1)$, $D(3; -2; 2)$, взаимно перпендикулярны.

◆ Составим вектора \overline{AC} и \overline{BD} , лежащие на диагоналях данного четырехугольника. Имеем: $\overline{AC} = (6; 9; -3)$ и $\overline{BD} = (6; -4; 0)$. Найдем скалярное произведение этих векторов:

$$\overline{AC} \cdot \overline{BD} = 36 - 36 - 0 = 0.$$

Отсюда следует, что $\overline{AC} \perp \overline{BD}$. Диагонали четырехугольника $ABCD$ взаимно перпендикулярны. ◆

17. ВЫРАЖЕНИЕ СКАЛЯРНОГО ПРОИЗВЕДЕНИЯ ЧЕРЕЗ КООРДИНАТЫ. ПРИМЕНЕНИЕ СКАЛЯРНОГО ПРОИЗВЕДЕНИЯ ВЕКТОРОВ

Пусть заданы два вектора

$$\vec{a} = a_x \vec{i} + a_y \vec{j} + a_z \vec{k} \quad \text{и} \quad \vec{b} = b_x \vec{i} + b_y \vec{j} + b_z \vec{k}.$$

Найдем скалярное произведение векторов, перемножая их как многочлены (что законно в силу свойств линейности скалярного произведения) и пользуясь таблицей скалярного произведения векторов $\vec{i}, \vec{j}, \vec{k}$:

	\vec{i}	\vec{j}	\vec{k}
\vec{i}	1	0	0
\vec{j}	0	1	0
\vec{k}	0	0	1

$$\begin{aligned} \vec{a} \cdot \vec{b} &= (a_x \vec{i} + a_y \vec{j} + a_z \vec{k}) \cdot (b_x \vec{i} + b_y \vec{j} + b_z \vec{k}) = \\ &= a_x b_x \vec{i}\vec{i} + a_x b_y \vec{i}\vec{j} + a_x b_z \vec{i}\vec{k} \\ &\quad + a_y b_x \vec{j}\vec{i} + a_y b_y \vec{j}\vec{j} + a_y b_z \vec{j}\vec{k} \\ &\quad + a_z b_x \vec{k}\vec{i} + a_z b_y \vec{k}\vec{j} + a_z b_z \vec{k}\vec{k} = \\ &= a_x b_x + 0 + 0 + 0 + a_y b_y + 0 + 0 + 0 + a_z b_z, \end{aligned}$$

т. е.

$$\vec{a} \cdot \vec{b} = a_x b_x + a_y b_y + a_z b_z.$$

Итак, скалярное произведение векторов равно сумме произведений их одноименных координат.

Некоторые применения скалярного произведения

1. Определение угла φ между ненулевыми векторами $\vec{a} = (a_x; a_y; a_z)$ и $\vec{b} = (b_x; b_y; b_z)$:

$$\cos \varphi = \frac{\vec{a} \cdot \vec{b}}{|\vec{a}| \cdot |\vec{b}|}, \quad \text{т. е.} \quad \cos \varphi = \frac{a_x b_x + a_y b_y + a_z b_z}{\sqrt{a_x^2 + a_y^2 + a_z^2} \cdot \sqrt{b_x^2 + b_y^2 + b_z^2}}.$$

Отсюда следует условие перпендикулярности ненулевых векторов \vec{a} и \vec{b} :

$$\vec{a} \perp \vec{b} \iff a_x b_x + a_y b_y + a_z b_z = 0.$$

2. Нахождение проекции одного вектора на направление другого:

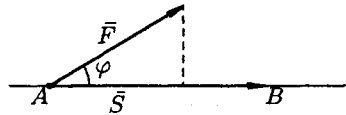
$$\text{пр}_{\vec{b}} \vec{a} = \frac{\vec{a} \cdot \vec{b}}{|\vec{b}|} \quad \left(\text{пр}_{\vec{a}} \vec{b} = \frac{\vec{a} \cdot \vec{b}}{|\vec{a}|} \right),$$

т. е.

$$\text{пр}_{\vec{b}} \vec{a} = \frac{a_x b_x + a_y b_y + a_z b_z}{\sqrt{b_x^2 + b_y^2 + b_z^2}}.$$

3. Нахождение работы постоянной силы.

Пусть материальная точка перемещается прямолинейно из положения A в положение B под действием постоянной силы \vec{F} , образующей угол φ с перемещением $\overline{AB} = \vec{S}$.



Из физики известно, что работа силы \vec{F} при перемещении \vec{S} равна

$$A = F \cdot S \cdot \cos \varphi \quad \text{т. е.} \quad A = \vec{F} \cdot \vec{S}.$$

Таким образом, работа постоянной силы при прямолинейном перемещении ее точки приложения равна скалярному произведению вектора силы на вектор перемещения.

Пример: Вычислить работу, произведенную силой $\vec{F} = (3; 2; 4)$, если точка ее приложения перемещается прямолинейно из положения $A(2; 4; 6)$ в положение $B(4; 2; 7)$. Под каким углом к AB направлена сила \vec{F} ?

◆ Находим $\vec{S} = \overline{AB} = (2, -2, 1)$. Стало быть,

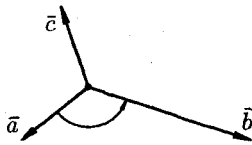
$$A = \vec{F} \cdot \vec{S} = 3 \cdot 2 + 2 \cdot (-2) + 4 \cdot 1 = 6 \text{ (ед. работы).}$$

Угол φ между \vec{F} и \vec{S} находим по формуле $\cos \varphi = \frac{\vec{F} \cdot \vec{S}}{|\vec{F}| \cdot |\vec{S}|}$, т. е.

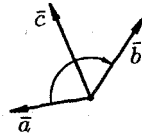
$$\cos \varphi = \frac{6}{\sqrt{9+4+16} \cdot \sqrt{4+4+1}} = \frac{6}{\sqrt{29} \cdot 3} = \frac{2}{\sqrt{29}}, \quad \varphi = \arccos \frac{2}{\sqrt{29}}. \quad \blacklozenge$$

18. ВЕКТОРНОЕ ПРОИЗВЕДЕНИЕ ВЕКТОРОВ И ЕГО СВОЙСТВА

Три некопланарных вектора \vec{a} , \vec{b} и \vec{c} , взятые в указанном порядке, образуют *правую тройку*, если с конца третьего вектора \vec{c} кратчайший поворот от первого вектора \vec{a} ко второму вектору \vec{b} виден совершающимся против часовой стрелки, и *левую*, если по часовой.



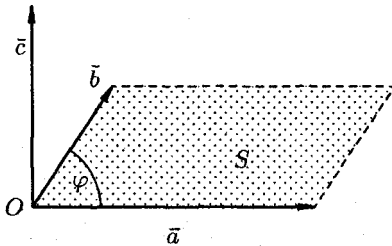
правая тройка,



левая тройка

Векторным произведением вектора \vec{a} на вектор \vec{b} называется вектор \vec{c} , который:

1) перпендикулярен векторам \vec{a} и \vec{b} , т. е. $\vec{c} \perp \vec{a}$ и $\vec{c} \perp \vec{b}$;



2) имеет длину, численно равную площади параллелограмма, построенного на векторах \vec{a} и \vec{b} , как на сторонах, т. е.

$$|\vec{c}| = |\vec{a}| \cdot |\vec{b}| \sin \varphi, \text{ где } \varphi = \widehat{(\vec{a}, \vec{b})};$$

3) векторы \vec{a} , \vec{b} и \vec{c} образуют правую тройку.

Векторное произведение обозначается $\vec{a} \times \vec{b}$ или $[\vec{a}, \vec{b}]$.

Из определения векторного произведения непосредственно вытекают следующие соотношения между ортами \vec{i} , \vec{j} и \vec{k} :

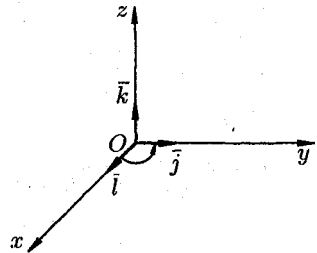
$$\vec{i} \times \vec{j} = \vec{k}, \quad \vec{j} \times \vec{k} = \vec{i}, \quad \vec{k} \times \vec{i} = \vec{j}.$$

Докажем, например, что $\vec{i} \times \vec{j} = \vec{k}$.

1) $\vec{k} \perp \vec{i}$, $\vec{k} \perp \vec{j}$;

2) $|\vec{k}| = 1$, но $|\vec{i} \times \vec{j}| = |\vec{i}| \cdot |\vec{j}| \cdot \sin 90^\circ = 1$;

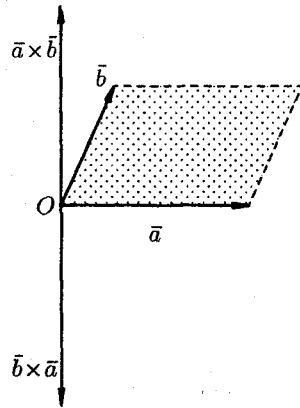
3) векторы \vec{i} , \vec{j} и \vec{k} образуют правую тройку.



Свойства векторного произведения

1. При перестановке сомножителей векторное произведение меняет знак, т. е. $\vec{a} \times \vec{b} = -(\vec{b} \times \vec{a})$.

◀ Векторы $\vec{a} \times \vec{b}$ и $\vec{b} \times \vec{a}$ коллинеарны, имеют одинаковые модули (площадь параллелограмма остается неизменной), но противоположно направлены (тройки $\vec{a}, \vec{b}, \vec{a} \times \vec{b}$ и $\vec{a}, \vec{b}, \vec{b} \times \vec{a}$ противоположной ориентации). Стало быть, $\vec{a} \times \vec{b} = -(\vec{b} \times \vec{a})$. ▶



2. Векторное произведение обладает сочетательным свойством относительно скалярного множителя, т. е. $\lambda(\vec{a} \times \vec{b}) = (\lambda\vec{a}) \times \vec{b} = \vec{a} \times (\lambda\vec{b})$.

◀ Пусть $\lambda > 0$. Вектор $\lambda(\vec{a} \times \vec{b})$ перпендикулярен векторам \vec{a} и \vec{b} . Вектор $(\lambda\vec{a}) \times \vec{b}$ также перпендикулярен векторам \vec{a} и \vec{b} (векторы \vec{a} , $\lambda\vec{a}$ лежат в одной плоскости). Значит, векторы $\lambda(\vec{a} \times \vec{b})$ и $(\lambda\vec{a}) \times \vec{b}$ коллинеарны. Очевидно, что и направления их совпадают. Имеют одинаковую длину:

$$|\lambda(\vec{a} \times \vec{b})| = \lambda|\vec{a} \times \vec{b}| = \lambda|\vec{a}| \cdot |\vec{b}| \cdot \sin(\widehat{\vec{a}, \vec{b}})$$

и

$$|(\lambda\vec{a}) \times \vec{b}| = |\lambda\vec{a}| \cdot |\vec{b}| \cdot \sin(\widehat{\lambda\vec{a}, \vec{b}}) = \lambda|\vec{a}| \cdot |\vec{b}| \sin(\widehat{\vec{a}, \vec{b}}).$$

Поэтому $\lambda(\vec{a} \times \vec{b}) = \lambda\vec{a} \times \vec{b}$. Аналогично доказывается при $\lambda < 0$. ▶

3. Два ненулевых вектора \vec{a} и \vec{b} коллинеарны тогда и только тогда, когда их векторное произведение равно нулевому вектору, т. е. $\vec{a} \parallel \vec{b} \iff \vec{a} \times \vec{b} = \vec{0}$.

◀ Если $\vec{a} \parallel \vec{b}$, то угол между ними равен 0° или 180° . Но тогда $|\vec{a} \times \vec{b}| = |\vec{a}| \cdot |\vec{b}| \cdot \sin(\widehat{\vec{a}, \vec{b}}) = 0$. Значит, $\vec{a} \times \vec{b} = \vec{0}$.

Если же $\vec{a} \times \vec{b} = \vec{0}$, то $|\vec{a}| \cdot |\vec{b}| \sin \varphi = 0$. Но тогда $\varphi = 0^\circ$ или $\varphi = 180^\circ$, т. е. $\vec{a} \parallel \vec{b}$. ▶

В частности, $\vec{i} \times \vec{i} = \vec{j} \times \vec{j} = \vec{k} \times \vec{k} = \vec{0}$.

4. Векторное произведение обладает распределительным свойством:

$$(\vec{a} + \vec{b}) \times \vec{c} = \vec{a} \times \vec{c} + \vec{b} \times \vec{c}.$$

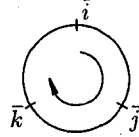
Примем без доказательства.

19. ВЫРАЖЕНИЕ ВЕКТОРНОГО ПРОИЗВЕДЕНИЯ ЧЕРЕЗ КООРДИНАТЫ. ПРИМЕНЕНИЕ ВЕКТОРНОГО ПРОИЗВЕДЕНИЯ ВЕКТОРОВ

Мы будем использовать таблицу векторного произведения векторов \vec{i} , \vec{j} и \vec{k} :

	\vec{i}	\vec{j}	\vec{k}
\vec{i}	$\vec{0}$	\vec{k}	$-\vec{j}$
\vec{j}	$-\vec{k}$	$\vec{0}$	\vec{i}
\vec{k}	\vec{j}	$-\vec{i}$	$\vec{0}$

Чтобы не ошибиться со знаком, удобно пользоваться схемой:



если направление кратчайшего пути от первого вектора к второму совпадает с направлением стрелки, то произведение равно третьему вектору, если не совпадает — третий вектор берется со знаком «минус».

Пусть заданы два вектора $\vec{a} = a_x \vec{i} + a_y \vec{j} + a_z \vec{k}$ и $\vec{b} = b_x \vec{i} + b_y \vec{j} + b_z \vec{k}$. Найдем векторное произведение этих векторов, перемножая их как многочлены (согласно свойств векторного произведения):

$$\begin{aligned}
 \vec{a} \times \vec{b} &= (a_x \vec{i} + a_y \vec{j} + a_z \vec{k}) \times (b_x \vec{i} + b_y \vec{j} + b_z \vec{k}) = \\
 &= a_x b_x (\vec{i} \times \vec{i}) + a_x b_y (\vec{i} \times \vec{j}) + a_x b_z (\vec{i} \times \vec{k}) + a_y b_x (\vec{j} \times \vec{i}) + a_y b_y (\vec{j} \times \vec{j}) + \\
 &\quad + a_y b_z (\vec{j} \times \vec{k}) + a_z b_x (\vec{k} \times \vec{i}) + a_z b_y (\vec{k} \times \vec{j}) + a_z b_z (\vec{k} \times \vec{k}) = \\
 &= 0 + a_x b_y \vec{k} - a_x b_z \vec{j} - a_y b_x \vec{k} + 0 + a_y b_z \vec{i} + a_z b_x \vec{j} - a_z b_y \vec{i} + 0 = \\
 &= (a_y b_z - a_z b_y) \vec{i} - (a_x b_z - a_z b_x) \vec{j} + (a_x b_y - a_y b_x) \vec{k} = \\
 &= \begin{vmatrix} a_y & a_z \\ b_y & b_z \end{vmatrix} \vec{i} - \begin{vmatrix} a_x & a_z \\ b_x & b_z \end{vmatrix} \vec{j} + \begin{vmatrix} a_x & a_y \\ b_x & b_y \end{vmatrix} \vec{k},
 \end{aligned}$$

т. е.

$$\vec{a} \times \vec{b} = \begin{vmatrix} a_y & a_z \\ b_y & b_z \end{vmatrix} \vec{i} - \begin{vmatrix} a_x & a_z \\ b_x & b_z \end{vmatrix} \vec{j} + \begin{vmatrix} a_x & a_y \\ b_x & b_y \end{vmatrix} \vec{k}. \quad (1)$$

Полученную формулу можно записать еще короче:

$$\vec{a} \times \vec{b} = \begin{vmatrix} \vec{i} & \vec{j} & \vec{k} \\ a_x & a_y & a_z \\ b_x & b_y & b_z \end{vmatrix}, \quad (2)$$

так как правая часть равенства (1) соответствует разложению определителя третьего порядка по элементам первой строки. Равенство (2) легко запоминается.

Некоторые применения векторного произведения

1. Установление коллинеарности векторов:

Если $\vec{a} \parallel \vec{b}$, то $\vec{a} \times \vec{b} = 0$ (и наоборот), т. е.

$$\vec{a} \times \vec{b} = \begin{vmatrix} \vec{i} & \vec{j} & \vec{k} \\ a_x & a_y & a_z \\ b_x & b_y & b_z \end{vmatrix} = \vec{0} \iff \frac{a_x}{b_x} = \frac{a_y}{b_y} = \frac{a_z}{b_z} \iff \vec{a} \parallel \vec{b}.$$

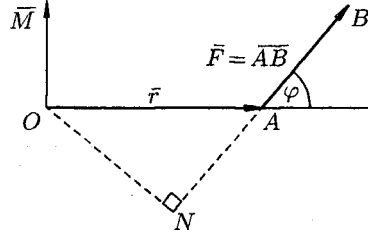
2. Нахождение площади параллелограмма и треугольника.

Согласно определению векторного произведения векторов \vec{a} и \vec{b} $|\vec{a} \times \vec{b}| = |\vec{a}| \cdot |\vec{b}| \sin \varphi$, т. е. $S_{\text{пар}} = |\vec{a} \times \vec{b}|$. И, значит, $S_{\Delta} = \frac{1}{2} |\vec{a} \times \vec{b}|$.

3. Определение момента силы относительно точки.

Пусть в точке A приложена сила $\vec{F} = \overline{AB}$ и пусть O — некоторая точка пространства.

Из физики известно, что *моментом силы* \vec{F} относительно точки O называется вектор \vec{M} , который проходит через точку O и:



- 1) перпендикулярен плоскости, проходящей через точки O, A, B ;
- 2) численно равен произведению силы на плечо

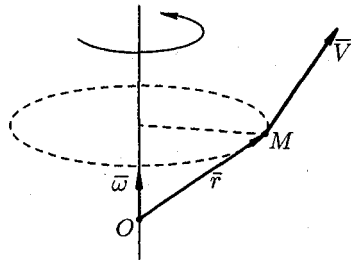
$$|\vec{M}| = |\vec{F}| \cdot ON = |\vec{F}| \cdot |\vec{r}| \cdot \sin \varphi = |\vec{F}| \cdot |\overline{OA}| \sin(\widehat{F, OA});$$

3) образует правую тройку с векторами \overline{OA} и \overline{AB} .

Стало быть, $\vec{M} = \overline{OA} \times \vec{F}$.

4. Нахождение линейной скорости вращения.

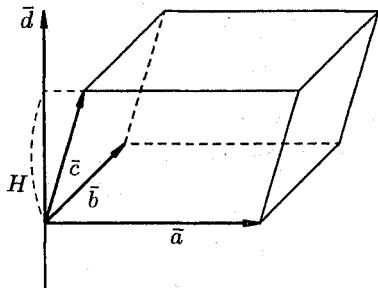
Скорость \vec{v} точки M твердого тела, вращающегося с угловой скоростью $\vec{\omega}$ вокруг неподвижной оси, определяется формулой Эйлера $\vec{v} = \vec{\omega} \times \vec{r}$, где $\vec{r} = \overline{OM}$, где O — некоторая неподвижная точка оси.



20. СМЕШАННОЕ ПРОИЗВЕДЕНИЕ ВЕКТОРОВ, ЕГО ГЕОМЕТРИЧЕСКИЙ СМЫСЛ И СВОЙСТВА

Рассмотрим произведение векторов \vec{a} , \vec{b} и \vec{c} , составленное следующим образом: $(\vec{a} \times \vec{b}) \cdot \vec{c}$. Здесь первые два вектора перемножаются векторно, а их результат скалярно на третий вектор. Такое произведение называется *векторно-скалярным*, или *смешанным*, произведением трех векторов. Смешанное произведение представляет собой, очевидно, некоторое число.

Выясним геометрический смысл выражения $(\vec{a} \times \vec{b}) \cdot \vec{c}$. Построим параллелепипед, ребрами которого являются векторы \vec{a} , \vec{b} , \vec{c} и вектор $\vec{d} = \vec{a} \times \vec{b}$.



Так как $(\vec{a} \times \vec{b}) \cdot \vec{c} = \vec{d} \cdot \vec{c} = |\vec{d}| \cdot \text{пр}_{\vec{d}} \vec{c}$ и $|\vec{d}| = |\vec{a} \times \vec{b}| = S$, где S — площадь параллелограмма, построенного на векторах \vec{a} и \vec{b} , то $\text{пр}_{\vec{d}} \vec{c} = H$ для правой тройки векторов и $\text{пр}_{\vec{d}} \vec{c} = -H$ для левой, где H — высота параллелепипеда. Получаем: $(\vec{a} \times \vec{b}) \cdot \vec{c} = S \cdot (\pm H)$, т. е. $(\vec{a} \times \vec{b}) \cdot \vec{c} = \pm V$, где V — объем параллелепипеда, образованного векторами \vec{a} , \vec{b} и \vec{c} .

Таким образом, смешанное произведение трех векторов равно объему параллелепипеда, построенного на этих векторах, взятому со знаком «плюс», если эти векторы образуют правую тройку, и со знаком «минус», если они образуют левую тройку.

Свойства смешанного произведения

1. Смешанное произведение не меняется при циклической перестановке его сомножителей, т. е. $(\vec{a} \times \vec{b}) \cdot \vec{c} = (\vec{b} \times \vec{c}) \cdot \vec{a} = (\vec{c} \times \vec{a}) \cdot \vec{b}$.

Действительно, в этом случае не изменяется ни объем параллелепипеда, ни ориентация его ребер.

2. Смешанное произведение не меняется при перемене местами знаков векторного и скалярного умножения, т. е. $(\vec{a} \times \vec{b}) \cdot \vec{c} = \vec{a} \cdot (\vec{b} \times \vec{c})$.

Действительно, $(\bar{a} \times \bar{b}) \cdot \bar{c} = \pm V$ и $\bar{a} \cdot (\bar{b} \times \bar{c}) = (\bar{b} \times \bar{c}) \cdot \bar{a} = \pm V$. Знак в правой части этих равенств берем один и тот же, так как тройки векторов $\bar{a}, \bar{b}, \bar{c}$ и $\bar{b}, \bar{c}, \bar{a}$ — одной ориентации.

Следовательно, $(\bar{a} \times \bar{b}) \cdot \bar{c} = \bar{a}(\bar{b} \times \bar{c})$. Это позволяет записывать смешанное произведение векторов $(\bar{a} \times \bar{b})\bar{c}$ в виде $\bar{a}\bar{b}\bar{c}$ без знаков векторного, скалярного умножения.

3. Смешанное произведение меняет свой знак при перемене мест любых двух векторов-сомножителей, т. е. $\bar{a}\bar{b}\bar{c} = -\bar{a}\bar{c}\bar{b}$, $\bar{a}\bar{b}\bar{c} = -\bar{b}\bar{a}\bar{c}$, $\bar{a}\bar{b}\bar{c} = -\bar{c}\bar{b}\bar{a}$.

Действительно, такая перестановка равносильна перестановке сомножителей в векторном произведении, меняющей у произведения знак.

4. Смешанное произведение ненулевых векторов \bar{a} , \bar{b} и \bar{c} равно нулю тогда и только тогда, когда они компланарны.

◀ Если $\bar{a}\bar{b}\bar{c} = 0$, то \bar{a} , \bar{b} , \bar{c} — компланарны.

Допустим, что это не так. Можно было бы построить параллелепипед с объемом $V \neq 0$. Но так как $\bar{a}\bar{b}\bar{c} = \pm V$, то получили бы, что $\bar{a}\bar{b}\bar{c} \neq 0$. Это противоречит условию: $\bar{a}\bar{b}\bar{c} = 0$.

Обратно, пусть векторы \bar{a} , \bar{b} , \bar{c} — компланарны. Тогда вектор $\bar{d} = \bar{a} \times \bar{b}$ будет перпендикулярен плоскости, в которой лежат векторы \bar{a} , \bar{b} , \bar{c} , и, следовательно, $\bar{d} \perp \bar{c}$. Поэтому $\bar{d} \cdot \bar{c} = 0$, т. е. $\bar{a}\bar{b}\bar{c} = 0$. ▶

21. ВЫРАЖЕНИЕ СМЕШАННОГО ПРОИЗВЕДЕНИЯ ЧЕРЕЗ КООРДИНАТЫ. ПРИМЕНЕНИЕ СМЕШАННОГО ПРОИЗВЕДЕНИЯ

Пусть заданы векторы $\bar{a} = a_x\bar{i} + a_y\bar{j} + a_z\bar{k}$, $\bar{b} = b_x\bar{i} + b_y\bar{j} + b_z\bar{k}$, $\bar{c} = c_x\bar{i} + c_y\bar{j} + c_z\bar{k}$. Найдем их смешанное произведение, используя выражения в координатах для векторного и скалярного произведений:

$$\begin{aligned} (\bar{a} \times \bar{b})\bar{c} &= \begin{vmatrix} \bar{i} & \bar{j} & \bar{k} \\ a_x & a_y & a_z \\ b_x & b_y & b_z \end{vmatrix} \cdot (c_x\bar{i} + c_y\bar{j} + c_z\bar{k}) = \\ &= \left(\begin{vmatrix} a_y & a_z \\ b_y & b_z \end{vmatrix} \bar{i} - \begin{vmatrix} a_x & a_z \\ b_x & b_z \end{vmatrix} \bar{j} + \begin{vmatrix} a_x & a_y \\ b_x & b_y \end{vmatrix} \bar{k} \right) \cdot (c_x\bar{i} + c_y\bar{j} + c_z\bar{k}) = \\ &= \begin{vmatrix} a_y & a_z \\ b_y & b_z \end{vmatrix} \cdot c_x - \begin{vmatrix} a_x & a_z \\ b_x & b_z \end{vmatrix} \cdot c_y + \begin{vmatrix} a_x & a_y \\ b_x & b_y \end{vmatrix} \cdot c_z. \quad (1) \end{aligned}$$

Полученную формулу можно записать короче:

$$\bar{a}\bar{b}\bar{c} = \begin{vmatrix} a_x & a_y & a_z \\ b_x & b_y & b_z \\ c_x & c_y & c_z \end{vmatrix},$$

так как правая часть равенства (1) представляет собой разложение определителя третьего порядка по элементам третьей строки.

Итак, смешанное произведение векторов равно определителю третьего порядка, составленному из координат перемножаемых векторов.

Некоторые применения смешанного произведения

1. Определение взаимной ориентации векторов \bar{a} , \bar{b} и \bar{c} : так, если $\bar{a}\bar{b}\bar{c} > 0$, то $\bar{a}, \bar{b}, \bar{c}$ — правая тройка; если $\bar{a}\bar{b}\bar{c} < 0$, то $\bar{a}, \bar{b}, \bar{c}$ — левая тройка.

2. Установление компланарности векторов \bar{a} , \bar{b} , \bar{c} :

$$\bar{a}\bar{b}\bar{c} = 0 \iff \begin{vmatrix} a_x & a_y & a_z \\ b_x & b_y & b_z \\ c_x & c_y & c_z \end{vmatrix} = 0 \iff \text{векторы } \bar{a}, \bar{b}, \bar{c} \text{ компланарны.}$$

3. Нахождение объема параллелепипеда и треугольной пирамиды, построенных на векторах \bar{a} , \bar{b} , \bar{c} :

объем параллелепипеда: $V = |\bar{a}\bar{b}\bar{c}|$;

объем треугольной пирамиды: $V = \frac{1}{6}|\bar{a}\bar{b}\bar{c}|$.

Пример: Вершинами пирамиды служат точки $A(1; 2; 3)$, $B(0; -1; 1)$, $C(2; 5; 2)$ и $D(3; 0; -2)$. Найти объем пирамиды.

◆ Находим векторы \bar{a} , \bar{b} , \bar{c} :

$$\bar{a} = \overline{AB} = (-1; -3; -2), \quad \bar{b} = \overline{AC} = (1; 3; -1), \quad \bar{c} = \overline{AD} = (2; -2; -5).$$

Находим $\bar{a}\bar{b}\bar{c}$:

$$\bar{a}\bar{b}\bar{c} = \begin{vmatrix} -1 & -3 & -2 \\ 1 & 3 & -1 \\ 2 & -2 & -5 \end{vmatrix} = -1 \cdot (-17) + 3 \cdot (-3) - 2 \cdot (-8) = 17 - 9 + 16 = 24.$$

Следовательно, $V = \frac{1}{6} \cdot 24 = 4$. ◆

III. АНАЛИТИЧЕСКАЯ ГЕОМЕТРИЯ НА ПЛОСКОСТИ

22. СИСТЕМА КООРДИНАТ НА ПЛОСКОСТИ

Под *системой координат* на плоскости понимают способ, позволяющий численно описать положение точки плоскости. Одной из таких систем является *прямоугольная (декартова) система координат*.

Прямоугольная система координат задается двумя взаимно перпендикулярными прямыми — осями, на каждой из которых выбрано положительное направление и задан единичный (масштабный) отрезок. Единицу масштаба обычно берут одинаковой для обеих осей. Эти оси называют *осями координат*, точку их пересечения O — *началом координат*. Одну из осей называют *осью абсцисс* или осью Ox , другую — *осью ординат* или осью Oy .

На рисунках ось абсцисс обычно располагают горизонтально и направленной слева направо, а ось ординат — вертикально и направленной снизу вверх.

Единичные векторы осей обозначают \vec{i} и \vec{j} ($|\vec{i}| = |\vec{j}| = 1$, $\vec{i} \perp \vec{j}$).

Систему координат обозначают Oxy (или $O\vec{i}\vec{j}$), а плоскость, в которой расположена система координат, называют *координатной плоскостью*.

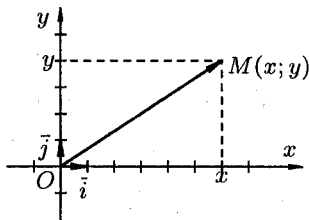
Оси координат делят плоскость на четыре области — *четверти* (или *квадранты*).

Рассмотрим произвольную точку M плоскости Oxy . Вектор \overline{OM} называется *радиусом-вектором* точки M .

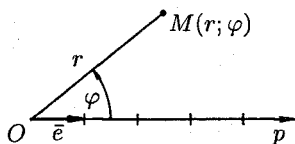
Координатами точки M в системе координат Oxy ($O\vec{i}\vec{j}$) называются координаты радиуса-вектора \overline{OM} . Если $\overline{OM} = (x; y)$, то координаты точки M записывают так: $M(x; y)$, число x называется *абсциссой* точки M , y — *ординатой* точки M .

Эти два числа x и y полностью определяют положение точки на плоскости, а именно: каждой паре чисел x и y соответствует единственная точка M плоскости, и наоборот.

Другой практически важной системой координат является *полярная система координат*. Полярная система координат задается точкой O , называемой *полюсом*, лучом Op , называемым *полярной осью*, и единичным вектором \vec{e} того же направления, что и луч Op .



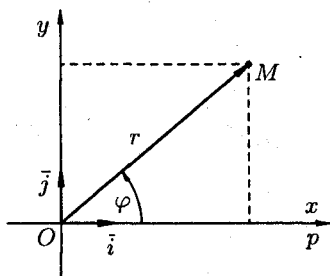
Возьмем на плоскости точку M , не совпадающую с O . Положение точки M определяется двумя числами: ее расстоянием r от полюса O и углом φ , образованным отрезком OM с полярной осью (отсчет углов ведется в направлении, противоположном движению часовой стрелки).



Числа r и φ называются *полярными координатами* точки M , пишут $M(r; \varphi)$, при этом r называют *полярным радиусом*, φ — *полярным углом*.

Для получения всех точек плоскости достаточно полярный угол φ ограничить промежутком $(-\pi; \pi]$ (или $0 \leq \varphi < 2\pi$), а полярный радиус — $[0; \infty)$. В этом случае каждой точке плоскости (кроме O) соответствует единственная пара чисел r и φ , и обратно.

Установим связь между прямоугольными и полярными координатами. Для этого совместим полюс O с началом координат системы Oxy , а полярную ось — с положительной полуосью Ox . Пусть x и y — прямоугольные координаты точки M , а r и φ — ее полярные координаты.



Из рисунка видно, что прямоугольные координаты точки M выражаются через полярные координаты точки следующим образом:
$$\begin{cases} x = r \cdot \cos \varphi, \\ y = r \cdot \sin \varphi. \end{cases}$$

Полярные же координаты точки M выражаются через ее декартовы координаты (тот же рисунок) такими формулами:

$$\begin{cases} r = \sqrt{x^2 + y^2}, \\ \operatorname{tg} \varphi = \frac{y}{x}. \end{cases}$$

Определяя величину φ , следует установить (по знакам x и y) четверть, в которой лежит искомый угол, и учитывать, что $-\pi < \varphi \leq \pi$.

Пример: Дана точка $M(-1; -\sqrt{3})$. Найти полярные координаты точки M .

◆ Находим r и φ : $r = \sqrt{3+1} = 2$, $\operatorname{tg} \varphi = \frac{-\sqrt{3}}{-1} = \sqrt{3}$. Отсюда $\varphi = \frac{\pi}{3} + \pi n$, $n \in \mathbb{Z}$. Но так как точка M лежит в 3-й четверти, то $n = -1$ и $\varphi = \frac{\pi}{3} - \pi = -\frac{2\pi}{3}$. Итак, полярные координаты точки M есть $r = 2$, $\varphi = -\frac{2\pi}{3}$, т. е. $M\left(2; -\frac{2\pi}{3}\right)$. ◆

23. ОСНОВНЫЕ ЗАДАЧИ НА МЕТОД КООРДИНАТ (НА ПЛОСКОСТИ)

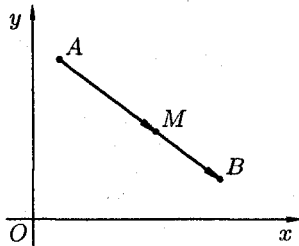
1. Расстояние между двумя точками

Пусть требуется найти расстояние d между точками $A(x_1; y_1)$ и $B(x_2; y_2)$ плоскости Oxy . Искомое расстояние d равно длине вектора $\overline{AB} = (x_2 - x_1; y_2 - y_1)$, т. е.

$$d = |\overline{AB}| = \sqrt{(x_2 - x_1)^2 + (y_2 - y_1)^2}.$$

2. Деление отрезка в данном отношении

Пусть требуется разделить отрезок AB , соединяющий точки $A(x_1; y_1)$ и $B(x_2; y_2)$ в заданном отношении $\lambda > 0$, т. е. найти координаты точки $M(x; y)$ отрезка AB такой, что $\frac{AM}{MB} = \lambda$.



Введем в рассмотрение векторы \overline{AM} и \overline{MB} . Точка M делит отрезок AB в отношении λ , если

$$\overline{AM} = \lambda \cdot \overline{MB}. \quad (1)$$

Но $\overline{AM} = (x - x_1; y - y_1)$, т. е. $\overline{AM} = (x - x_1)\vec{i} + (y - y_1)\vec{j}$ и $\overline{MB} = (x_2 - x; y_2 - y)$, т. е. $\overline{MB} = (x_2 - x)\vec{i} + (y_2 - y)\vec{j}$. Уравнение (1) принимает вид $(x - x_1)\vec{i} + (y - y_1)\vec{j} = \lambda(x_2 - x)\vec{i} + \lambda(y_2 - y)\vec{j}$. Учитывая, что равные векторы имеют равные координаты, получаем

$$x - x_1 = \lambda x_2 - \lambda x, \quad \text{т. е.} \quad x = \frac{x_1 + \lambda x_2}{1 + \lambda} \quad (2)$$

и

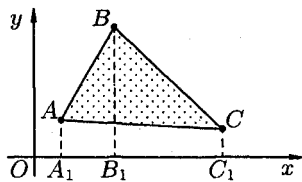
$$y - y_1 = \lambda y_2 - \lambda y, \quad \text{т. е.} \quad y = \frac{y_1 + \lambda y_2}{1 + \lambda}. \quad (3)$$

Формулы (2) и (3) называются *формулами деления отрезка в данном отношении*. В частности, при $\lambda = 1$, т. е. если $AM = MB$, то они

примут вид $x = \frac{x_1 + x_2}{2}$, $y = \frac{y_1 + y_2}{2}$. В этом случае точка $M(x; y)$ является *серединой отрезка* AB .

Замечание: Если $\lambda = 0$, то это означает, что точки A и M совпадают, если $\lambda < 0$, то точка M лежит вне отрезка AB — говорят, что точка M делит отрезок AB внешним образом ($\lambda \neq -1$, т.к. в противном случае $\frac{AM}{MB} = -1$, т.е. $AM + MB = 0$, т.е. $AB = 0$).

3. Площадь треугольника



Пусть требуется найти площадь треугольника ABC с вершинами $A(x_1; y_1)$, $B(x_2; y_2)$, $C(x_3; y_3)$. Опустим из вершин A, B, C перпендикуляры AA_1, BB_1, CC_1 на ось Ox (см. рис.). Очевидно, что

$$S_{ABC} = S_{AA_1BB_1} + S_{B_1BCC_1} - S_{A_1ACC_1}.$$

Поэтому

$$\begin{aligned} S_{ABC} &= \frac{y_1 + y_2}{2} \cdot (x_2 - x_1) + \frac{y_2 + y_3}{2} \cdot (x_3 - x_2) - \frac{y_1 + y_3}{2} \cdot (x_3 - x_1) = \\ &= \frac{1}{2}(x_2y_1 - x_1y_1 + x_2y_2 - x_1y_2 + x_3y_2 - x_2y_2 + x_3y_3 - \\ &\quad - x_2y_3 - x_3y_1 + x_1y_1 - x_3y_3 + x_1y_3) = \\ &= \frac{1}{2}(x_3(y_2 - y_1) - x_1(y_2 - y_1) - x_2(y_3 - y_1) + x_1(y_3 - y_1)) = \\ &= \frac{1}{2}((y_2 - y_1)(x_3 - x_1) - (y_3 - y_1)(x_2 - x_1)) = \frac{1}{2} \begin{vmatrix} x_3 - x_1 & x_2 - x_1 \\ y_3 - y_1 & y_2 - y_1 \end{vmatrix}, \end{aligned}$$

т.е.

$$S_{\Delta} = \frac{1}{2} \begin{vmatrix} x_3 - x_1 & x_2 - x_1 \\ y_3 - y_1 & y_2 - y_1 \end{vmatrix}.$$

Замечание: Если при вычислении площади треугольника получим $S = 0$, то это означает, что точки A, B, C лежат на одной прямой, если же получим отрицательное число, то следует взять его модуль.

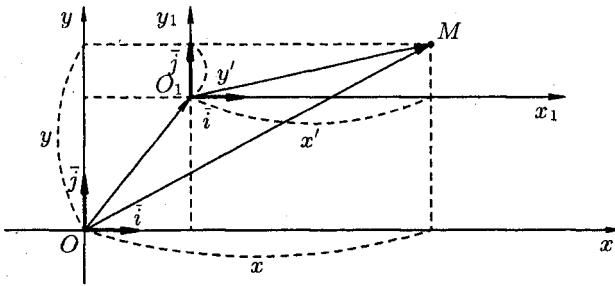
24. ПРЕОБРАЗОВАНИЕ СИСТЕМЫ КООРДИНАТ

Переход от одной системы координат в какую-либо другую называется *преобразованием системы координат*.

Рассмотрим два случая преобразования одной прямоугольной системы координат в другую. Полученные формулы устанавливают зависимость между координатами произвольной точки плоскости в разных системах координат.

1. Параллельный перенос осей координат

Пусть на плоскости задана прямоугольная система координат Oxy . Под *параллельным переносом* осей координат понимают переход от системы координат Oxy к новой системе $O_1x_1y_1$, при котором меняется положение начала координат, а направление осей и масштаб остаются неизменными.



Пусть начало новой системы координат точка O_1 имеет координаты $(x_0; y_0)$ в старой системе координат Oxy , т. е. $O_1(x_0; y_0)$. Обозначим координаты произвольной точки M плоскости в системе Oxy через $(x; y)$, а в новой системе $O_1x_1y_1$ через $(x'; y')$.

Рассмотрим векторы

$$\overline{OM} = x\vec{i} + y\vec{j}, \quad \overline{OO_1} = x_0\vec{i} + y_0\vec{j}, \quad \overline{O_1M} = x'\vec{i} + y'\vec{j}.$$

Так как $\overline{OM} = \overline{OO_1} + \overline{O_1M}$, то $x\vec{i} + y\vec{j} = x_0\vec{i} + y_0\vec{j} + x'\vec{i} + y'\vec{j}$, т. е.

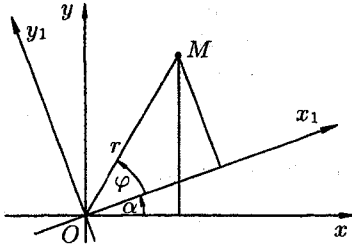
$$x \cdot \vec{i} + y \cdot \vec{j} = (x_0 + x') \cdot \vec{i} + (y_0 + y') \cdot \vec{j}.$$

Следовательно,
$$\begin{cases} x = x_0 + x', \\ y = y_0 + y'. \end{cases}$$

Полученные формулы позволяют находить старые координаты x и y по известным новым x' и y' и наоборот.

2. Поворот осей координат

Под *поворотом осей координат* понимают такое преобразование координат, при котором обе оси поворачиваются на один и тот же угол, а начало координат и масштаб остаются неизменными.



Пусть новая система $O_1x_1y_1$ получена поворотом системы Oxy на угол α .

Пусть M — произвольная точка плоскости, $(x; y)$ — ее координаты в старой системе и $(x'; y')$ — в новой системе.

Введем две полярные системы координат с общим полюсом O и полярными осями Ox и Ox_1 (масштаб одинаков). Полярный радиус r в обеих системах одинаков, а полярные углы соответственно равны $\alpha + \varphi$ и φ , где φ — полярный угол в новой полярной системе.

По формулам перехода от полярных координат к прямоугольным имеем

$$\begin{cases} x = r \cdot \cos(\alpha + \varphi), \\ y = r \cdot \sin(\alpha + \varphi), \end{cases} \quad \text{т. е.} \quad \begin{cases} x = r \cos \varphi \cdot \cos \alpha - r \sin \varphi \cdot \sin \alpha, \\ y = r \cos \varphi \cdot \sin \alpha + r \sin \varphi \cdot \cos \alpha. \end{cases}$$

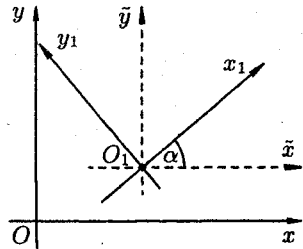
Но $r \cos \varphi = x'$ и $r \sin \varphi = y'$. Поэтому

$$\begin{cases} x = x' \cos \alpha - y' \sin \alpha, \\ y = x' \sin \alpha + y' \cos \alpha. \end{cases}$$

Полученные формулы называются *формулами поворота осей*. Они позволяют определять старые координаты $(x; y)$ произвольной точки M через новые координаты $(x'; y')$ этой же точки M , и наоборот.

Если новая система координат $O_1x_1y_1$ получена из старой Oxy путем параллельного переноса осей координат и последующим поворотом осей на угол α , то путем введения вспомогательной системы $O_1\tilde{x}\tilde{y}$ легко получить формулы

$$\begin{cases} x = x' \cdot \cos \alpha - y' \cdot \sin \alpha + x_0 \\ y = x' \cdot \sin \alpha + y' \cdot \cos \alpha + y_0, \end{cases}$$



выражающие старые координаты x и y произвольной точки через ее новые координаты x' и y' .

25. УРАВНЕНИЕ ЛИНИИ НА ПЛОСКОСТИ, ПРИМЕРЫ

Линия на плоскости рассматривается (задается) как *множество точек*, обладающих некоторыми геометрическими свойствами, только им присущими. Например, окружность радиуса R есть множество всех точек плоскости, удаленных на расстояние R от некоторой фиксированной точки O (центра окружности).

Введение на плоскости системы координат позволяет определять положение точки плоскости заданием двух чисел — ее координат, а положение линии на плоскости определять с помощью уравнения (т. е. равенства, связывающего координаты точек линии).

Уравнением линии (или кривой) на плоскости Oxy называется такое уравнение $F(x; y) = 0$ с двумя переменными, которому удовлетворяют координаты x и y каждой точки линии и не удовлетворяют координаты любой точки, не лежащей на этой линии.

Переменные x и y в уравнении линии называются *текущими координатами* точек линии.

Уравнение линии позволяет изучение геометрических свойств линии заменить исследованием его уравнения.

Так, для того чтобы установить лежит ли точка $A(x_0; y_0)$ на данной линии, достаточно проверить (не прибегая к геометрическим построениям), удовлетворяют ли координаты точки A уравнению этой линии в выбранной системе координат.

Пример: Лежат ли точки $K(-2; 1)$ и $L(1; 1)$ на линии $2x + y + 3 = 0$?

◆ Подставив в уравнение вместо x и y координаты точки K , получим $2 \cdot (-2) + 1 + 3 = 0$. Следовательно, точка K лежит на данной линии. Точка L не лежит на данной линии, т.к. $2 \cdot 1 + 1 + 3 \neq 0$. ◆

Задача о нахождении точек пересечения двух линий, заданных уравнениями $F_1(x; y) = 0$ и $F_2(x; y) = 0$, сводится к отысканию точек, координаты которых удовлетворяют уравнениям обеих линий, т. е. сводится к решению системы двух уравнений с двумя неизвестными

$$\begin{cases} F_1(x; y) = 0, \\ F_2(x; y) = 0. \end{cases}$$

Если эта система не имеет действительных решений, то линии не пересекаются.

Аналогичным образом вводится понятие уравнения линии в полярной системе координат.

Уравнение $F(r; \varphi) = 0$ называется *уравнением данной линии в полярной системе координат*, если координаты любой точки, лежащей на этой линии, и только они, удовлетворяют этому уравнению.

Линию на плоскости можно задать при помощи двух уравнений

$$\begin{cases} x = x(t), \\ y = y(t), \end{cases} \quad (1)$$

где x и y — координаты произвольной точки $M(x; y)$, лежащей на данной линии, а t — переменная, называемая *параметром*; параметр t определяет положение точки $(x; y)$ на плоскости.

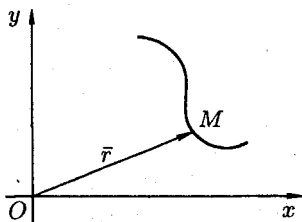
Например, если $x = t + 1$, $y = t^2$, то значению параметра $t = 2$ соответствует на плоскости точка $(3; 4)$, т.к. $x = 2 + 1 = 3$, $y = 2^2 = 4$.

Если параметр t изменяется, то точка на плоскости перемещается, описывая данную линию. Такой способ задания линии называется *параметрическим*, а уравнения (1) — *параметрическими уравнениями линии*.

Чтобы перейти от параметрических уравнений линии к уравнению вида $F(x; y) = 0$, надо каким-либо способом из двух уравнений

исключить параметр t . Например, от уравнений $\begin{cases} x = t, \\ y = t^2, \end{cases}$ путем

подстановки $t = x$ во второе уравнение, легко получить уравнение $y = x^2$; или $y - x^2 = 0$, т. е. вида $F(x; y) = 0$. Однако заметим, такой переход не всегда целесообразен и не всегда возможен.



Линию на плоскости можно задать *векторным уравнением* $\vec{r} = \vec{r}(t)$, где t — скалярный переменный параметр. Каждому значению t_0 соответствует определенный вектор $\vec{r}_0 = \vec{r}(t_0)$ плоскости. При изменении параметра t конец вектора $\vec{r} = \vec{r}(t)$ опишет некоторую линию.

Векторному уравнению линии $\vec{r} = \vec{r}(t)$ в системе координат Oxy соответствуют два скалярных уравнения (1), т. е. уравнения проекций на оси координат векторного уравнения линии есть ее параметрические уравнения.

Векторное уравнение и параметрические уравнения линии имеют механический смысл. Если точка перемещается на плоскости, то указанные уравнения называются *уравнениями движения*, а линия — *траекторией* точки, параметр t при этом есть время.

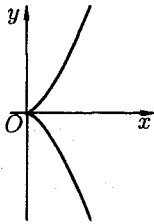
Итак, всякой линии на плоскости соответствует некоторое уравнение вида $F(x; y) = 0$.

Всякому уравнению вида $F(x; y) = 0$ соответствует, вообще говоря, некоторая линия, свойства которой определяются данным уравнением (выражение «вообще говоря» означает, что сказанное допускает исключения. Так, уравнению $(x-2)^2 + (y-3)^2 = 0$ соответствует не линия, а точка $(2; 3)$; уравнению $x^2 + y^2 + 5 = 0$ на плоскости не соответствует никакой геометрический образ).

В аналитической геометрии на плоскости возникают две основные задачи. Первая: зная геометрические свойства кривой, найти ее уравнение; вторая: зная уравнение кривой, изучить ее форму и свойства.

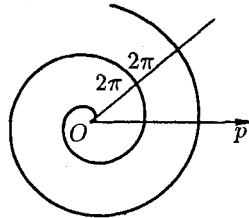
Примеры:

1. *Полкубическая парабола:*



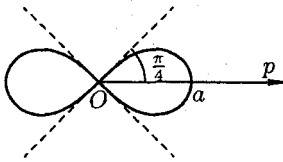
Уравнение кривой $y^2 = x^3$ или $\begin{cases} x = t^2 \\ y = t^3. \end{cases}$

2. *Спираль Архимеда:*




Уравнение кривой в полярных координатах $r = a\varphi$, где $a > 0$ — постоянное.

3. *Лемниската Бернулли:*



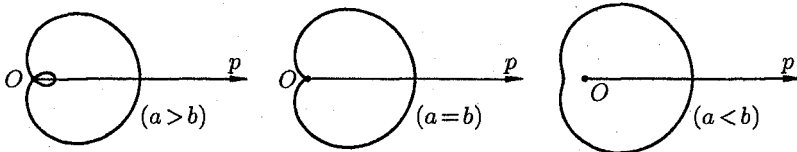
Уравнение в полярных координатах: $r = a \cdot \sqrt{\cos 2\varphi}$; в прямоугольных: $(x^2 + y^2)^2 - a^2(x^2 - y^2) = 0, a > 0$.

4. *Трехлепестковая роза:*



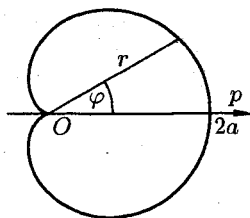
В полярных координатах ее уравнение имеет вид $r = a \cdot \cos 3\varphi$, где $a > 0$.

5. *Улитка Паскаля:*



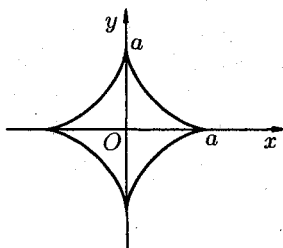
Уравнение в полярных координатах имеет вид $r = b + a \cos \varphi$.

6. Кардиоида:



Кардиоида — частный случай улитки Паскаля ($a = b$)

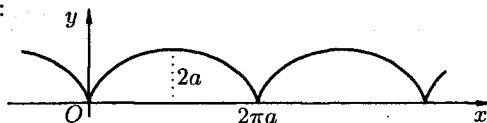
7. Астроида:



$\begin{cases} x = a \cdot \cos^3 t, \\ y = a \cdot \sin^3 t \end{cases}$ — параметрические уравнения.

Уравнение в прямоугольных координатах: $x^{\frac{2}{3}} + y^{\frac{2}{3}} = a^{\frac{2}{3}}$.

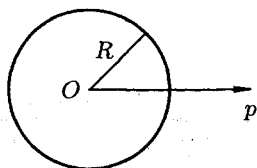
8. Циклоида:



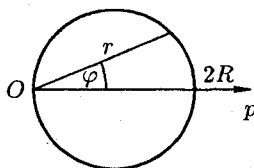
Параметрические уравнения циклоиды имеют вид $\begin{cases} x = a(t - \sin t), \\ y = a(1 - \cos t), \end{cases}$ где $a > 0$.

Циклоида — это кривая, которую описывает фиксированная точка окружности, катящаяся без скольжения по неподвижной прямой.

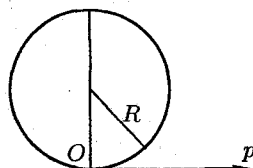
9. Уравнения окружности радиуса R:



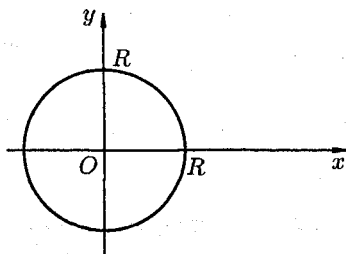
$$r = R$$



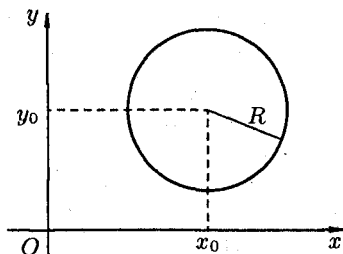
$$r = 2R \cdot \cos \varphi$$



$$r = 2R \cdot \sin \varphi$$



$$x^2 + y^2 = R^2 \text{ или } \begin{cases} x = R \cos t, \\ y = R \sin t \end{cases}$$



$$(x - x_0)^2 + (y - y_0)^2 = R^2$$

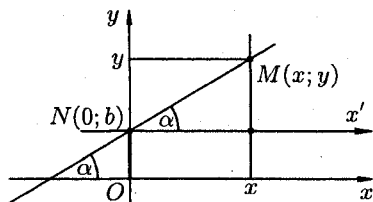
26. РАЗЛИЧНЫЕ ВИДЫ УРАВНЕНИЙ ПРЯМОЙ НА ПЛОСКОСТИ

Простейшей из линий является прямая. Разным способам задания прямой соответствуют в прямоугольной системе координат разные виды ее уравнений.

1. Уравнение прямой с угловым коэффициентом

Пусть на плоскости Oxy задана произвольная прямая, не параллельная оси Oy . Ее положение вполне определяется ординатой b точки $N(0; b)$ пересечения с осью Oy и углом α между осью Ox и прямой.

Под углом α ($0 \leq \alpha < \pi$) наклона прямой понимается наименьший угол, на который нужно повернуть вокруг точки пересечения прямой и оси Ox против часовой стрелки ось Ox до ее совпадения с прямой.



Возьмем на прямой произвольную точку $M(x; y)$. Проведем через точку N ось Nx' , параллельную оси Ox и одинаково с ней направленную. Угол между осью Nx' и прямой равен α . В системе $Nx'y$ точка M имеет координаты x и $y - b$. Из определения тангенса угла следует равенство $\operatorname{tg} \alpha = \frac{y - b}{x}$, т. е. $y = \operatorname{tg} \alpha \cdot x + b$. Введем обозначение $\operatorname{tg} \alpha = k$, получаем уравнение

$$y = kx + b, \quad (1)$$

которому удовлетворяют координаты любой точки $M(x; y)$ прямой. Можно убедиться, что координаты любой точки $P(x; y)$, лежащей вне данной прямой, уравнению (1) не удовлетворяют.

Число $k = \operatorname{tg} \alpha$ называется *угловым коэффициентом* прямой, а уравнение (1) — *уравнением прямой с угловым коэффициентом*.

Если прямая проходит через начало координат, то $b = 0$ и, следовательно, уравнение этой прямой будет иметь вид $y = kx$.

Если прямая параллельна оси Ox , то $\alpha = 0$, следовательно, $k = \operatorname{tg} \alpha = 0$ и уравнение (1) примет вид $y = b$.

Если прямая параллельна оси Oy , то $\alpha = \frac{\pi}{2}$, уравнение (1) теряет смысл, т. к. для нее угловой коэффициент $k = \operatorname{tg} \alpha = \operatorname{tg} \frac{\pi}{2}$ ($= \infty$)

не существует. В этом случае уравнение прямой будет иметь вид

$$x = a, \quad (2)$$

где a — абсцисса точки пересечения прямой с осью Ox . Отметим, что уравнения (1) и (2) есть уравнения первой степени.

2. Общее уравнение прямой

Рассмотрим уравнение первой степени относительно x и y в общем виде

$$Ax + By + C = 0, \quad (3)$$

где A, B, C — произвольные числа, причем A и B не равны нулю одновременно.

Покажем, что уравнение (3) есть уравнение прямой линии. Возможны два случая.

Если $B = 0$, то уравнение (3) имеет вид $Ax + C = 0$, причем $A \neq 0$, т. е. $x = -\frac{C}{A}$. Это есть уравнение прямой, параллельной оси Oy и проходящей через точку $(-\frac{C}{A}; 0)$.

Если $B \neq 0$, то из уравнения (3) получаем $y = -\frac{A}{B}x - \frac{C}{A}$. Это есть уравнение прямой с угловым коэффициентом $k = \operatorname{tg} \alpha = -\frac{A}{B}$.

Итак, уравнение (3) есть уравнение прямой линии, оно называется *общим уравнением прямой*.

Некоторые частные случаи общего уравнения прямой:

1) если $A = 0$, то уравнение приводится к виду $y = -\frac{C}{B}$. Это есть уравнение прямой, параллельной оси Ox ;

2) если $B = 0$, то прямая параллельна оси Oy ;

3) если $C = 0$, то получаем $Ax + By = 0$. Уравнению удовлетворяют координаты точки $O(0; 0)$, прямая проходит через начало координат.

3. Уравнение прямой, проходящей через данную точку в данном направлении

Пусть прямая проходит через точку $M(x_0; y_0)$ и ее направление характеризуется угловым коэффициентом k . Уравнение этой прямой можно записать в виде: $y = kx + b$, где b — пока неизвестная величина. Так как прямая проходит через точку $M(x_0; y_0)$, то координаты точки удовлетворяют уравнению прямой: $y_0 = kx_0 + b$.

Отсюда $b = y_0 - kx_0$. Подставляя значение b в уравнение $y = kx + b$, получим искомое уравнение прямой $y = kx + y_0 - kx_0$, т. е.

$$y - y_0 = k(x - x_0). \quad (4)$$

Уравнение (4) с различными значениями k называют также *уравнениями пучка прямых* с центром в точке $M(x_0; y_0)$. Из этого пучка нельзя определить лишь прямую, параллельную оси Oy .

4. Уравнение прямой, проходящей через две точки

Пусть прямая проходит через точки $M_1(x_1; y_1)$ и $M_2(x_2; y_2)$. Уравнение прямой, проходящей через точку M_1 , имеет вид

$$y - y_1 = k(x - x_1), \quad (5)$$

где k — пока неизвестный коэффициент.

Так как прямая проходит через точку $M_2(x_2; y_2)$, то координаты этой точки должны удовлетворять уравнению (5): $y_2 - y_1 = k(x_2 - x_1)$. Отсюда находим $k = \frac{y_2 - y_1}{x_2 - x_1}$. Подставляя найденное значение k в уравнение (5), получим уравнение прямой, проходящей через точки M_1 и M_2 :

$$\frac{y - y_1}{y_2 - y_1} = \frac{x - x_1}{x_2 - x_1}. \quad (6)$$

Предполагается, что в этом уравнении $x_1 \neq x_2$, $y_1 \neq y_2$.

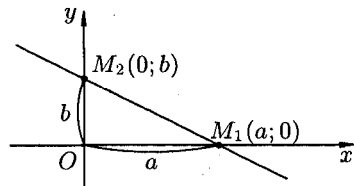
Если $x_2 = x_1$, то прямая, проходящая через точки $M_1(x_1; y_1)$ и $M_2(x_2; y_2)$, параллельна оси ординат. Ее уравнение имеет вид $x = x_1$.

Если $y_2 = y_1$, то уравнение прямой может быть записано в виде $y = y_1$, прямая M_1M_2 параллельна оси абсцисс.

5. Уравнение прямой в отрезках

Пусть прямая пересекает ось Ox в точке $M_1(a; 0)$, а ось Oy — в точке $M_2(0; b)$. В этом случае уравнение (6) примет вид

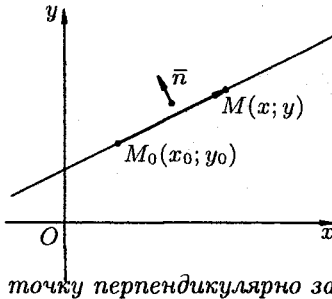
$$\frac{y - 0}{b - 0} = \frac{x - a}{0 - a}, \quad \text{т. е.} \quad \frac{x}{a} + \frac{y}{b} = 1.$$



Это уравнение называется *уравнением прямой в отрезках*, так как числа a и b указывают, какие отрезки отсекает прямая на осях координат.

6. Уравнение прямой, проходящей через данную точку перпендикулярно данному вектору

Найдем уравнение прямой, проходящей через заданную точку $M_0(x_0; y_0)$ перпендикулярно данному ненулевому вектору $\vec{n} = (A; B)$.



Возьмем на прямой произвольную точку $M(x; y)$ и рассмотрим вектор $\vec{M_0M} = (x - x_0; y - y_0)$. Поскольку векторы \vec{n} и $\vec{M_0M}$ перпендикулярны, то их скалярное произведение равно нулю: $\vec{n} \cdot \vec{M_0M} = 0$, то есть

$$A(x - x_0) + B(y - y_0) = 0. \quad (7)$$

Уравнение (7) называется *уравнением прямой, проходящей через заданную точку перпендикулярно заданному вектору*.

Вектор $\vec{n} = (A; B)$, перпендикулярный прямой, называется *нормальным вектором этой прямой*.

Уравнение (7) можно переписать в виде

$$Ax + By + C = 0, \quad (8)$$

где A и B — координаты нормального вектора, $C = -Ax_0 - By_0$ — свободный член. Уравнение (8) есть общее уравнение прямой (см. (3)).

7. Полярное уравнение прямой

Найдем уравнение прямой в полярных координатах. Ее положение можно определить, указав расстояние p от полюса O до данной прямой и угол α между полярной осью OP и осью l , проходящей через полюс O перпендикулярно данной прямой.

Для любой точки $M(r; \varphi)$ на данной прямой имеем:

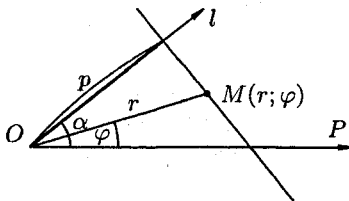
$$\text{пр}_l \vec{OM} = p.$$

С другой стороны,

$$\text{пр}_l \vec{OM} = |\vec{OM}| \cdot \cos(\alpha - \varphi) = r \cdot \cos(\varphi - \alpha).$$

Следовательно,

$$r \cos(\varphi - \alpha) = p. \quad (9)$$



Полученное уравнение (9) и есть *уравнение прямой в полярных координатах*.

8. Нормальное уравнение прямой

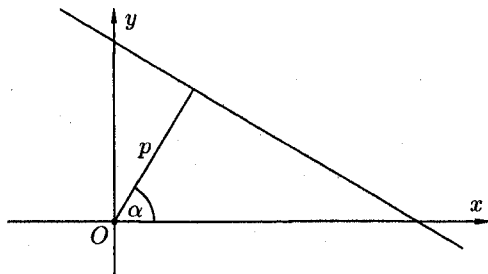
Пусть прямая определяется заданием p и α (см. рис.). Рассмотрим прямоугольную систему координат Oxy . Введем полярную систему, взяв O за полюс и Ox за полярную ось. Уравнение прямой можно записать в виде

$$r \cdot \cos(\varphi - \alpha) - p = 0, \quad \text{т. е. } r \cdot \cos \varphi \cos \alpha + r \sin \varphi \sin \alpha - p = 0.$$

Но, в силу формул, связывающих прямоугольные и полярные координаты, имеем: $r \cos \varphi = x$, $r \sin \varphi = y$. Следовательно, уравнение (9) прямой в прямоугольной системе координат примет вид

$$x \cdot \cos \alpha + y \cdot \sin \alpha - p = 0. \quad (10)$$

Уравнение (10) называется *нормальным уравнением прямой*.



Покажем, как привести уравнение (3) прямой к виду (10).

Умножим все члены уравнения (3) на некоторый множитель $\lambda \neq 0$. Получим $\lambda Ax + \lambda By + \lambda C = 0$. Это уравнение должно обратиться в уравнение (10). Следовательно, должны выполняться равенства: $\lambda A = \cos \alpha$, $\lambda B = \sin \alpha$, $\lambda C = -p$. Из первых двух равенств находим $\lambda^2 A^2 + \lambda^2 B^2 = \cos^2 \alpha + \sin^2 \alpha$, т. е. $\lambda = \pm \frac{1}{\sqrt{A^2 + B^2}}$. Множитель

λ называется *нормирующим множителем*. Согласно третьему равенству $\lambda C = -p$ знак нормирующего множителя противоположен знаку свободного члена C общего уравнения прямой.

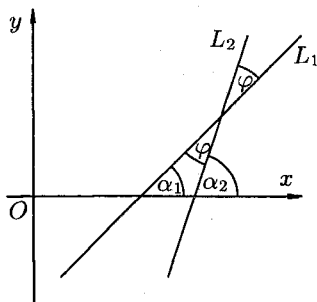
Пример: Привести уравнение $-3x + 4y + 15 = 0$ к нормальному виду.

◆ Находим нормирующий множитель $\lambda = \frac{1}{-\sqrt{(-3)^2 + 4^2}} = -\frac{1}{5}$. Умножая данное уравнение на λ , получим искомое нормальное уравнение прямой: $\frac{3}{5}x - \frac{4}{5}y - 3 = 0$. ◆

27. ПРЯМАЯ ЛИНИЯ НА ПЛОСКОСТИ. ОСНОВНЫЕ ЗАДАЧИ

1. Угол между двумя прямыми и условия параллельности и перпендикулярности двух прямых

Пусть прямые L_1 и L_2 заданы уравнениями с угловыми коэффициентами $y = k_1x + b_1$ и $y = k_2x + b_2$.



Найдем угол φ , на который надо повернуть в положительном направлении прямую L_1 вокруг точки их пересечения до совпадения с прямой L_2 .

Имеем $\alpha_2 = \varphi + \alpha_1$ (теорема о внешнем угле треугольника) или $\varphi = \alpha_2 - \alpha_1$. Если $\varphi \neq \frac{\pi}{2}$, то

$$\operatorname{tg} \varphi = \operatorname{tg}(\alpha_2 - \alpha_1) = \frac{\operatorname{tg} \alpha_2 - \operatorname{tg} \alpha_1}{1 + \operatorname{tg} \alpha_1 \cdot \operatorname{tg} \alpha_2}.$$

Но $\operatorname{tg} \alpha_1 = k_1$, $\operatorname{tg} \alpha_2 = k_2$, поэтому

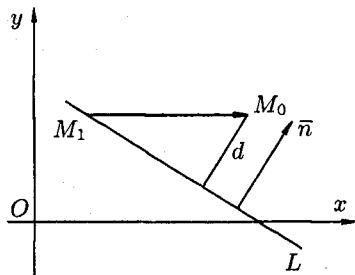
$$\operatorname{tg} \varphi = \frac{k_2 - k_1}{1 + k_1 \cdot k_2}. \quad (1)$$

Если требуется вычислить острый угол между прямыми, не учитывая, какая прямая является первой, какая — второй, то правая часть формулы (1) берется по модулю, т. е. $\operatorname{tg} \varphi = \left| \frac{k_2 - k_1}{1 + k_1 \cdot k_2} \right|$.

Если прямые L_1 и L_2 параллельны, то $\varphi = 0$ и $\operatorname{tg} \varphi = 0$. Из формулы (1) следует $k_2 - k_1 = 0$, т. е. $k_2 = k_1$. И обратно, если прямые L_1 и L_2 таковы, что $k_1 = k_2$, то $\operatorname{tg} \varphi = 0$, т. е. прямые параллельны. Следовательно, *условием параллельности двух прямых является равенство их угловых коэффициентов: $k_1 = k_2$.*

Если прямые L_1 и L_2 перпендикулярны, то $\varphi = \frac{\pi}{2}$. Следовательно, $\operatorname{ctg} \varphi = \frac{1 + k_1 \cdot k_2}{k_2 - k_1} = 0$. Отсюда $1 + k_1 \cdot k_2 = 0$, т. е. $k_1 \cdot k_2 = -1$ (или $k_2 = -\frac{1}{k_1}$). Справедливо и обратное утверждение. Таким образом, условием перпендикулярности прямых является равенство $k_1 \cdot k_2 = -1$.

2. Расстояние от точки до прямой



Пусть заданы прямая L уравнением $Ax + By + C = 0$ и точка $M_0(x_0; y_0)$. Расстояние d от точки M_0 до прямой L равно модулю проекции вектора $\overline{M_1M_0}$, где $M_1(x_1; y_1)$ — произвольная точка прямой L , на направление нормального вектора $\vec{n} = (A; B)$. Следовательно,

$$d = |\operatorname{пр}_{\vec{n}} \overline{M_1M_0}| = \left| \frac{\overline{M_1M_0} \cdot \vec{n}}{|\vec{n}|} \right| = \frac{|(x_0 - x_1)A + (y_0 - y_1)B|}{\sqrt{A^2 + B^2}} = \frac{|Ax_0 + By_0 - Ax_1 - By_1|}{\sqrt{A^2 + B^2}}.$$

Так как точка $M_1(x_1; y_1)$ принадлежит прямой L , то $Ax_1 + By_1 + C = 0$, т. е. $C = -Ax_1 - By_1$. Поэтому

$$d = \frac{|Ax_0 + By_0 + C|}{\sqrt{A^2 + B^2}}. \quad (2)$$

Пример: Найти расстояние от точки $M_0(2; -1)$ до прямой $3x + 4y - 22 = 0$.

◆ По формуле (2) получаем

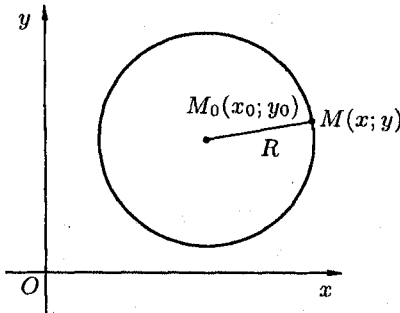
$$d = \frac{|3 \cdot 2 + 4 \cdot (-1) - 22|}{\sqrt{9 + 16}} = \frac{20}{5} = 4. \quad \blacklozenge$$

28. ОКРУЖНОСТЬ

Рассмотрим линии, определяемые уравнениями второй степени относительно текущих координат

$$Ax^2 + 2Bxy + Cy^2 + 2Dx + 2Ey + F = 0. \quad (1)$$

Коэффициенты уравнения — действительные числа, но по крайней мере одно из чисел A , B или C отлично от нуля. Такие линии называются *линиями (кривыми) второго порядка*.



Простейшей кривой второго порядка является окружность. Напомним, что *окружностью* радиуса R с центром в точке M_0 называется множество всех точек M плоскости, удовлетворяющих условию $M_0M = R$. Пусть точка M_0 в прямоугольной системе координат Oxy имеет координаты x_0, y_0 , а $M(x; y)$ — произвольная точка окружности.

Тогда из условия $M_0M = R$ получаем уравнение $\sqrt{(x - x_0)^2 + (y - y_0)^2} = R$, то есть

$$(x - x_0)^2 + (y - y_0)^2 = R^2. \quad (2)$$

Уравнению (2) удовлетворяют координаты любой точки $M(x; y)$ данной окружности и не удовлетворяют координаты никакой точки, не лежащей на окружности.

Уравнение (2) называется *каноническим уравнением окружности*.

В частности, полагая $x_0 = 0$ и $y_0 = 0$, получим уравнение окружности с центром в начале координат $x^2 + y^2 = R^2$.

Уравнение окружности (2) после несложных преобразований примет вид $x^2 + y^2 - 2x_0x - 2y_0y + x_0^2 + y_0^2 - R^2 = 0$. При сравнении этого уравнения с общим уравнением (1) кривой второго порядка легко заметить, что для уравнения окружности выполнены два условия:

- 1) коэффициенты при x^2 и y^2 равны между собой;
- 2) отсутствует член, содержащий произведение xy текущих координат.

Рассмотрим обратную задачу. Положив в уравнении (1) значения $B = 0$ и $A = C \neq 0$, получим

$$Ax^2 + Ay^2 + 2Dx + 2Ey + F = 0. \quad (3)$$

Преобразуем это уравнение:

$$x^2 + y^2 + 2\frac{D}{A}x + 2\frac{E}{A}y + \frac{F}{A} = 0,$$

т. е.

$$x^2 + y^2 + \frac{2D}{A}x + \frac{D^2}{A^2} + y^2 + 2\frac{E}{A}y + \frac{E^2}{A^2} + \frac{F}{A} - \frac{D^2}{A^2} - \frac{E^2}{A^2} = 0,$$

т. е.

$$\left(x + \frac{D}{A}\right)^2 + \left(y + \frac{E}{A}\right)^2 = \frac{E^2}{A^2} + \frac{D^2}{A^2} - \frac{F}{A}. \quad (4)$$

Отсюда следует, что уравнение (3) определяет окружность при условии $\frac{E^2}{A^2} + \frac{D^2}{A^2} - \frac{F}{A} > 0$. Ее центр находится в точке $O_1\left(-\frac{D}{A}; -\frac{E}{A}\right)$, а радиус

$$R = \sqrt{\frac{E^2}{A^2} + \frac{D^2}{A^2} - \frac{F}{A}}.$$

Если же $\frac{E^2}{A^2} + \frac{D^2}{A^2} - \frac{F}{A} = 0$, то уравнение (3) имеет вид

$$\left(x + \frac{D}{A}\right)^2 + \left(y + \frac{E}{A}\right)^2 = 0.$$

Ему удовлетворяют координаты единственной точки $O_1\left(-\frac{D}{A}; -\frac{E}{A}\right)$.

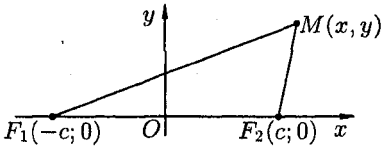
В этом случае говорят: «окружность выродилась в точку» (имеет нулевой радиус).

Если $\frac{E^2}{A^2} + \frac{D^2}{A^2} - \frac{F}{A} < 0$, то уравнение (4), а следовательно, и равносильное уравнение (3), не определяет никакой линии, так как правая часть уравнения (4) отрицательна, а левая часть — не отрицательна (говорят: «окружность мнимая»).

29. ЭЛЛИПС

1. Каноническое уравнение эллипса

Эллипсом называется множество всех точек плоскости, сумма расстояний от каждой из которых до двух данных точек этой плоскости, называемых *фокусами*, есть величина постоянная, большая, чем расстояние между фокусами.



Обозначим фокусы через F_1 и F_2 , расстояние между ними через $2c$, а сумму расстояний от произвольной точки эллипса до фокусов — через $2a$. По определению $2a > 2c$, то есть $a > c$.

Для вывода уравнения эллипса выберем систему координат Oxy так, чтобы фокусы F_1 и F_2 лежали на оси Ox , а начало координат совпадало с серединой отрезка F_1F_2 . Тогда фокусы будут иметь следующие координаты: $F_1(-c; 0)$ и $F_2(c; 0)$.

Пусть $M(x; y)$ — произвольная точка эллипса. Тогда, согласно определению эллипса, $MF_1 + MF_2 = 2a$, то есть

$$\sqrt{(x+c)^2 + y^2} + \sqrt{(x-c)^2 + y^2} = 2a. \quad (1)$$

Это, по сути, и есть уравнение эллипса.

Преобразуем уравнение (1) к более простому виду следующим образом:

$$\begin{aligned} \sqrt{(x+c)^2 + y^2} &= 2a - \sqrt{(x-c)^2 + y^2}, \\ x^2 + 2cx + c^2 + y^2 &= 4a^2 - 4a \cdot \sqrt{(x-c)^2 + y^2} + x^2 - 2cx + c^2 + y^2, \\ a\sqrt{(x-c)^2 + y^2} &= a^2 - cx, \\ a^2x^2 - 2a^2cx + a^2c^2 + a^2y^2 &= a^4 - 2a^2cx + c^2x^2, \\ (a^2 - c^2)x^2 + a^2y^2 &= a^2(a^2 - c^2). \end{aligned}$$

Так как $a > c$, то $a^2 - c^2 > 0$. Положим

$$a^2 - c^2 = b^2. \quad (2)$$

Тогда последнее уравнение примет вид $b^2x^2 + a^2y^2 = a^2b^2$ или

$$\frac{x^2}{a^2} + \frac{y^2}{b^2} = 1. \quad (3)$$

Можно доказать, что уравнение (3) равносильно исходному уравнению. Уравнение (3) называется *каноническим уравнением эллипса*.

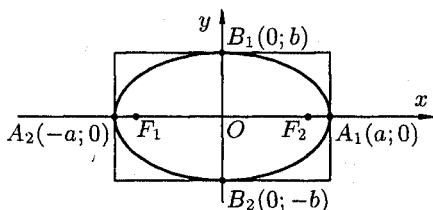
Эллипс — кривая второго порядка.

2. Исследование формы эллипса по его уравнению

Установим форму эллипса, пользуясь его каноническим уравнением.

1. Уравнение (3) содержит x и y только в четных степенях, поэтому если точка $(x; y)$ принадлежит эллипсу, то ему также принадлежат точки $(x; -y)$, $(-x; y)$, $(-x; -y)$. Отсюда следует, что эллипс симметричен относительно осей Ox и Oy , а также относительно точки $O(0; 0)$, которую называют *центром эллипса*.

2. Найдем точки пересечения эллипса с осями координат. Положив $y=0$, находим две точки $A_1(a; 0)$ и $A_2(-a; 0)$, в которых ось Ox пересекает эллипс. Положив в уравнении (3) $x = 0$, находим точки пересечения эллипса с осью Oy : $B_1(0; b)$ и $B_2(0; -b)$. Точки A_1, A_2, B_1, B_2 называются *вершинами эллипса*. Отрезки A_1A_2 и B_1B_2 , а также их длины $2a$ и $2b$ называются соответственно *большой и малой осями* эллипса. Числа a и b называются соответственно большой и малой *полуосями* эллипса.



3. Из уравнения (3) следует, что каждое слагаемое в левой части не превосходит единицы, т. е. имеют место неравенства $\frac{x^2}{a^2} \leq 1$ и $\frac{y^2}{b^2} \leq 1$ или $-a \leq x \leq a$ и $-b \leq y \leq b$. Следовательно, все точки эллипса лежат внутри прямоугольника, образованного прямыми $x = \pm a, y = \pm b$.

4. В уравнении (3) сумма неотрицательных слагаемых $\frac{x^2}{a^2}$ и $\frac{y^2}{b^2}$ равна единице. Следовательно, при возрастании одного слагаемого другое будет уменьшаться, т. е. если $|x|$ возрастает, то $|y|$ уменьшается и наоборот.

Из сказанного следует, что эллипс имеет форму, изображенную на рисунке (овальная замкнутая кривая).

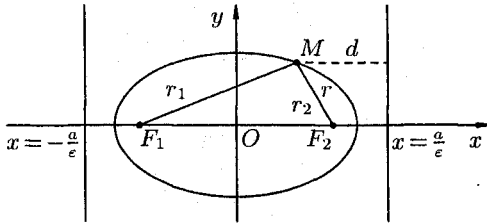
3. Другие сведения об эллипсе

Форма эллипса зависит от отношения $\frac{b}{a}$. При $b = a$ эллипс превращается в окружность, уравнение эллипса (3) принимает вид $x^2 + y^2 = a^2$. В качестве характеристики формы эллипса чаще пользуются отношением $\frac{c}{a}$.

Отношение $\frac{c}{a}$ половины расстояния между фокусами к большой полуоси эллипса называется *эксцентриситетом эллипса* и обозначается буквой ε («эпсилон»):

$$\varepsilon = \frac{c}{a}, \quad (4)$$

причем $0 < \varepsilon < 1$, так как $0 < c < a$. С учетом равенства (2) формулу (4) можно переписать в виде $\varepsilon = \frac{\sqrt{a^2 - b^2}}{a} = \sqrt{\frac{a^2 - b^2}{a^2}} = \sqrt{1 - \left(\frac{b}{a}\right)^2}$, т. е. $\varepsilon = \sqrt{1 - \left(\frac{b}{a}\right)^2}$ и $\frac{b}{a} = \sqrt{1 - \varepsilon^2}$. Отсюда видно, что чем меньше эксцентриситет эллипса, тем эллипс будет менее сплюснутым; если положить $\varepsilon = 0$, то эллипс превращается в окружность.



Пусть $M(x; y)$ — произвольная точка эллипса с фокусами F_1 и F_2 . Длины отрезков $F_1M = r_1$ и $F_2M = r_2$ называются *фокальными радиусами* точки M . Очевидно,

$$r_1 + r_2 = 2a.$$

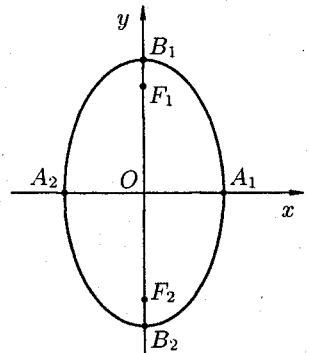
Имеют место формулы

$$r_1 = a + \varepsilon x \quad \text{и} \quad r_2 = a - \varepsilon x.$$

Прямые $x = \pm \frac{a}{\varepsilon}$ называются *директрисами* эллипса. Значение директрисы эллипса выявляется следующим утверждением.

Теорема 1. Если r — расстояние от произвольной точки эллипса до какого-нибудь фокуса, d — расстояние от этой же точки до соответствующей этому фокусу директрисы, то отношение $\frac{r}{d}$ есть постоянная величина, равная эксцентриситету эллипса: $\frac{r}{d} = \varepsilon$.

Из равенства (2) следует, что $a > b$. Если же $a < b$, то уравнение (3) определяет эллипс, большая ось которого $2b$ лежит на оси Oy , а малая ось $2a$ — на оси Ox . Фокусы такого эллипса находятся в точках $F_1(0; c)$ и $F_2(0; -c)$, где $c = \sqrt{b^2 - a^2}$.



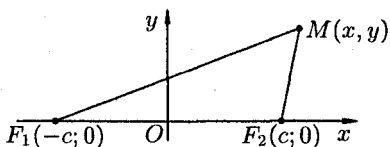
30. ГИПЕРБОЛА

1. Каноническое уравнение гиперболы

Гиперболой называется множество всех точек плоскости, модуль разности расстояний от каждой из которых до двух данных точек этой плоскости, называемых *фокусами*, есть величина постоянная, меньшая, чем расстояние между фокусами.

Обозначим фокусы через F_1 и F_2 , расстояние между ними через $2c$, а модуль разности расстояний от каждой точки гиперболы до фокусов через $2a$. По определению $2a < 2c$, то есть $a < c$.

Для вывода уравнения гиперболы выберем систему координат Oxy так, чтобы фокусы F_1 и F_2 лежали на оси Ox , а начало координат совпало с серединой отрезка F_1F_2 . Тогда фокусы будут иметь координаты $F_1(-c; 0)$ и $F_2(c; 0)$.



Пусть $M(x; y)$ — произвольная точка гиперболы. Тогда согласно определению гиперболы $|MF_1 - MF_2| = 2a$ или $MF_1 - MF_2 = \pm 2a$, то есть $\sqrt{(x+c)^2 + y^2} - \sqrt{(x-c)^2 + y^2} = \pm 2a$. После упрощений, как это было сделано при выводе уравнения эллипса, получим *каноническое уравнение гиперболы*

$$\frac{x^2}{a^2} - \frac{y^2}{b^2} = 1, \quad (1)$$

где

$$b^2 = c^2 - a^2. \quad (2)$$

Гипербола есть линия второго порядка.

2. Исследование формы гиперболы по ее уравнению

1. Уравнение (1) содержит x и y только в четных степенях. Следовательно, гипербола симметрична относительно осей Ox и Oy , а также относительно точки $O(0; 0)$, которую называют *центром гиперболы*.

2. Найдем точки пересечения гиперболы с осями координат. Положив $y = 0$ в уравнении (1), находим две точки пересечения гиперболы с осью Ox : $A_1(a; 0)$ и $A_2(-a; 0)$. Положив $x = 0$ в (1), получаем

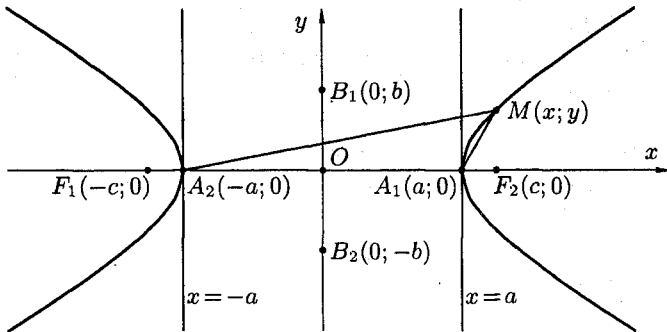
$y^2 = -b^2$, чего быть не может. Следовательно, гипербола ось Oy не пересекает.

Точки $A_1(a; 0)$ и $A_2(-a; 0)$ называются *вершинами* гиперболы, а отрезок $A_1A_2 = 2a$ — *действительной осью*, отрезок $OA_1 = OA_2 = a$ — *действительной полуосью* гиперболы.

Отрезок B_1B_2 ($B_1B_2 = 2b$), соединяющий точки $B_1(0; b)$ и $B_2(0; -b)$ называется *мнимой осью*, число b — *мнимой полуосью*. Прямоугольник со сторонами $2a$ и $2b$ называется *основным прямоугольником гиперболы*.

3. Из уравнения (1) следует, что уменьшаемое $\frac{x^2}{a^2}$ не меньше единицы, то есть что $\frac{x^2}{a^2} \geq 1$ или $|x| \geq a$. Это означает, что точки гиперболы расположены справа от прямой $x = a$ (*правая ветвь* гиперболы) и слева от прямой $x = -a$ (*левая ветвь* гиперболы).

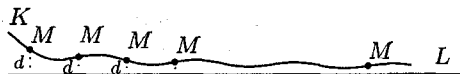
4. Из уравнения (1) гиперболы видно, что когда $|x|$ возрастает, то и $|y|$ возрастает. Это следует из того, что разность $\frac{x^2}{a^2} - \frac{y^2}{b^2}$ сохраняет постоянное значение, равное единице.



Из сказанного следует, что гипербола имеет форму, изображенную на рисунке (кривая, состоящая из двух неограниченных ветвей).

3. Асимптоты гиперболы

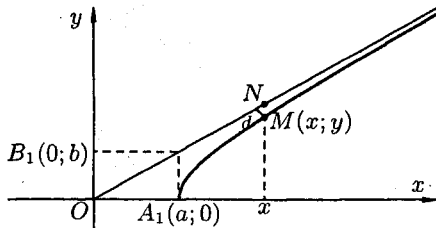
Прямая L называется *асимптотой* неограниченной кривой K , если расстояние d от точки M кривой K до этой прямой стремится к нулю при неограниченном удалении точки M вдоль кривой K .



Покажем, что гипербола $\frac{x^2}{a^2} - \frac{y^2}{b^2} = 1$ имеет две асимптоты:

$$y = \frac{b}{a}x \quad \text{и} \quad y = -\frac{b}{a}x. \quad (3)$$

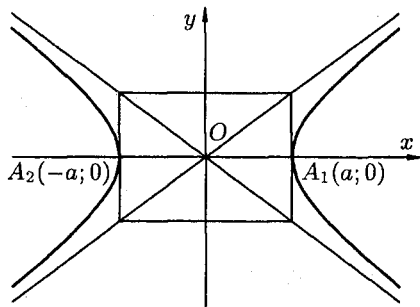
Так как прямые (3) и гипербола (1) симметричны относительно координатных осей, то достаточно рассмотреть только те точки указанных линий, которые расположены в первой четверти.



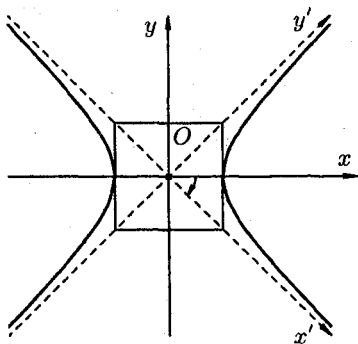
Возьмем на прямой $y = \frac{b}{a}x$ точку N имеющей ту же абсциссу x , что и точка $M(x; y)$ на гиперболе $y = \frac{b}{a}\sqrt{x^2 - a^2}$, и найдем разность MN между ординатами прямой и ветви гиперболы:

$$\begin{aligned} MN &= \frac{b}{a}x - \frac{b}{a}\sqrt{x^2 - a^2} = \frac{b}{a}(x - \sqrt{x^2 - a^2}) = \\ &= \frac{b}{a} \cdot \frac{(x - \sqrt{x^2 - a^2})(x + \sqrt{x^2 - a^2})}{x + \sqrt{x^2 - a^2}} = \frac{b}{a} \cdot \frac{a^2}{x + \sqrt{x^2 - a^2}} = \frac{ab}{x + \sqrt{x^2 - a^2}}. \end{aligned}$$

Как видно, по мере возрастания x знаменатель дроби увеличивается; числитель — есть постоянная величина. Стало быть, длина отрезка MN стремится к нулю. Так как MN больше расстояния d от точки M до прямой, то d и подавно стремится к нулю. Итак, прямые $y = \pm \frac{b}{a}x$ являются асимптотами гиперболы (1). При построении гиперболы (1) целесообразно сначала построить основной прямоугольник гиперболы (см. рис.), провести прямые, проходящие через противоположные вершины этого прямоугольника, — асимптоты гиперболы и вершины A_1 и A_2 гиперболы.



4. Уравнение равносторонней гиперболы, асимптотами которой служат оси координат



Гипербола (1) называется *равносторонней*, если ее полуоси равны ($a = b$). Ее каноническое уравнение

$$x^2 - y^2 = a^2. \quad (4)$$

Асимптоты равносторонней гиперболы имеют уравнения $y = x$ и $y = -x$ и, следовательно, являются биссектрисами координатных углов.

Рассмотрим уравнение этой гиперболы в новой системе координат $Ox'y'$, полученной из старой поворотом осей координат на угол $\alpha = -\frac{\pi}{4}$. Используем формулы поворота осей координат

$$\begin{aligned} x &= x' \cos \alpha - y' \sin \alpha, \\ y &= x' \sin \alpha + y' \cos \alpha. \end{aligned}$$

Подставляем значения x и y в уравнение (4):

$$\begin{aligned} \left(x' \cos\left(-\frac{\pi}{4}\right) - y' \sin\left(-\frac{\pi}{4}\right) \right)^2 - \left(x' \sin\left(-\frac{\pi}{4}\right) + y' \cos\left(-\frac{\pi}{4}\right) \right)^2 &= a^2, \\ \frac{1}{2}(x' + y')^2 - \frac{1}{2}(-x' + y')^2 &= a^2, \quad x' \cdot y' = \frac{a^2}{2}, \quad \text{или } y' = \frac{k}{x'}, \end{aligned}$$

где $k = \frac{a^2}{2}$.

Уравнение равносторонней гиперболы, для которой оси Ox и Oy являются асимптотами, будет иметь вид $y = \frac{k}{x}$.

5. Другие сведения о гиперболы

Эксцентриситетом гиперболы (1) называется отношение расстояния между фокусами к величине действительной оси гиперболы, обозначается ε : $\varepsilon = \frac{c}{a}$.

Так как для гиперболы $c > a$, то эксцентриситет гиперболы больше единицы: $\varepsilon > 1$. Эксцентриситет характеризует форму гиперболы. Действительно, из равенства (2) следует, что $\frac{b^2}{a^2} = \frac{c^2}{a^2} - 1$, т. е. $\frac{b}{a} = \sqrt{\varepsilon^2 - 1}$ и $\varepsilon = \sqrt{1 + \left(\frac{b}{a}\right)^2}$.

Отсюда видно, что чем меньше эксцентриситет гиперболы, тем меньше отношение $\frac{b}{a}$ ее полуосей, а значит, тем более вытянут ее основной прямоугольник.

Эксцентриситет равносторонней гиперболы равен $\sqrt{2}$. Действительно,

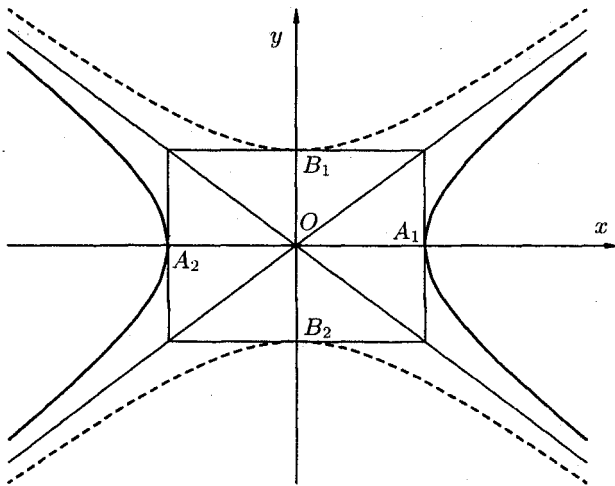
$$\varepsilon = \frac{c}{a} = \frac{\sqrt{a^2 + a^2}}{a} = \sqrt{\frac{2a^2}{a^2}} = \sqrt{2}.$$

Фокальные радиусы $r_1 = \sqrt{(x+c)^2 + y^2}$ и $r_2 = \sqrt{(x-c)^2 + y^2}$ для точек правой ветви гиперболы $\varepsilon > 1$ имеют вид $r_1 = \varepsilon x + a$ и $r_2 = \varepsilon x - a$, а для левой — $r_1 = -(\varepsilon x + a)$ и $r_2 = -(\varepsilon x - a)$.

Прямые $x = \pm \frac{a}{\varepsilon}$ называются *директрисами* гиперболы. Так как для гиперболы $\varepsilon > 1$, то $\frac{a}{\varepsilon} < a$. Это значит, что правая директриса расположена между центром и правой вершиной гиперболы, левая — между центром и левой вершиной.

Директрисы гиперболы имеют то же свойство $\frac{r}{d} = \varepsilon$, что и директрисы эллипса.

Кривая, определяемая уравнением $\frac{y^2}{b^2} - \frac{x^2}{a^2} = 1$, также есть гипербола, действительная ось $2b$ которой расположена на оси Oy , а мнимая ось $2a$ — на оси Ox . На рисунке она изображена пунктиром.

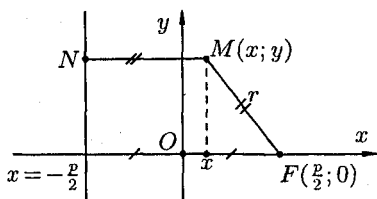


Очевидно, что гиперболы $\frac{x^2}{a^2} - \frac{y^2}{b^2} = 1$ и $\frac{y^2}{b^2} - \frac{x^2}{a^2} = 1$ имеют общие асимптоты. Такие гиперболы называются *сопряженными*.

31. ПАРАБОЛА

1. Каноническое уравнение параболы

Параболой называется множество всех точек плоскости, каждая из которых одинаково удалена от данной точки, называемой *фокусом*, и данной прямой, называемой *директрисой*. Расстояние от фокуса F до директрисы называется *параметром* параболы и обозначается через p ($p > 0$).



Для вывода уравнения параболы выберем систему координат Oxy так, чтобы ось Ox проходила через фокус F перпендикулярно директрисе в направлении от директрисы к F , а начало координат O расположим посередине между фокусом и директрисой. В выбранной системе фокус F имеет координаты $(\frac{p}{2}; 0)$, а уравнение директрисы имеет вид $x = -\frac{p}{2}$, или $x + \frac{p}{2} = 0$.

Пусть $M(x; y)$ — произвольная точка параболы. Соединим точку M с F . Проведем MN перпендикулярно директрисе. Согласно определению параболы $MF = MN$. По формуле расстояния между двумя точками находим:

$$MF = \sqrt{\left(x - \frac{p}{2}\right)^2 + y^2}, \quad \text{а} \quad MN = \sqrt{\left(x + \frac{p}{2}\right)^2 + (y - y)^2}.$$

Следовательно,

$$\sqrt{\left(x - \frac{p}{2}\right)^2 + y^2} = \sqrt{\left(x + \frac{p}{2}\right)^2}.$$

Возведя обе части уравнения в квадрат, получим

$$x^2 - px + \frac{p^2}{4} + y^2 = x^2 + px + \frac{p^2}{4},$$

т. е.

$$y^2 = 2px. \quad (1)$$

Уравнение (1) называется *каноническим уравнением параболы*. Парабола есть линия второго порядка.

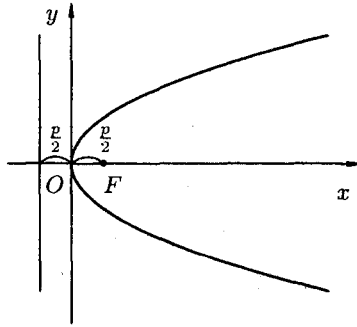
2. Исследование форм параболы по ее уравнению

1. В уравнении (1) переменная y входит в четной степени, значит, парабола симметрична относительно оси Ox ; ось Ox является *осью симметрии* параболы.

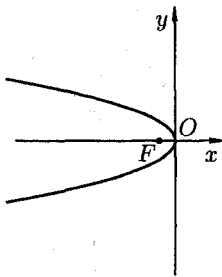
2. Так как $p > 0$, то из (1) следует, что $x \geq 0$. Следовательно, парабола расположена справа от оси Oy .

3. При $x = 0$ имеем $y = 0$. Следовательно, парабола проходит через начало координат.

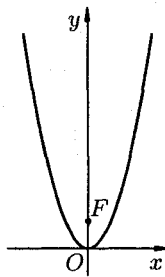
4. При неограниченном возрастании x модуль y также неограниченно возрастает. Парабола $y^2 = 2px$ имеет вид (форму), изображенный на рисунке. Точка $O(0; 0)$ называется *вершиной параболы*, отрезок $FM = r$ называется *фокальным радиусом* точки M .



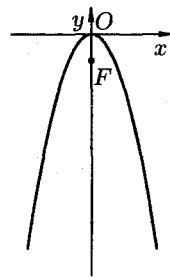
Уравнения $y^2 = -2px$, $x^2 = 2py$, $x^2 = -2py$ ($p > 0$) также определяют параболы, они изображены на следующих рисунках.



$$y^2 = -2px$$



$$x^2 = 2py$$



$$x^2 = -2py$$

Нетрудно показать, что график квадратного трехчлена $y = Ax^2 + Bx + C$, где $A \neq 0$, B и C любые действительные числа, представляет собой параболу в смысле приведенного выше ее определения.

32. ОБЩЕЕ УРАВНЕНИЕ ЛИНИЙ ВТОРОГО ПОРЯДКА

1. Уравнения кривых второго порядка с осями симметрии, параллельными координатным осям

Найдем сначала уравнение эллипса с центром в точке $O_1(x_0; y_0)$, оси симметрии которого параллельны координатным осям Ox и Oy и полуоси соответственно равны a и b . Поместим в центре эллипса O_1 начало новой системы координат $O_1x'y'$, оси которой O_1x' и O_1y' параллельны соответствующим осям Ox и Oy и одинаково с ними направлены.

В этой системе координат уравнение эллипса

$$\frac{x'^2}{a^2} + \frac{y'^2}{b^2} = 1.$$

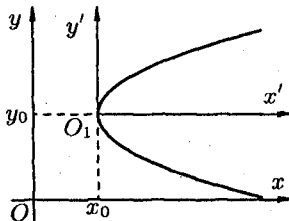
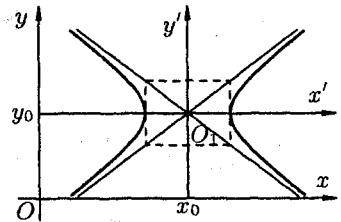
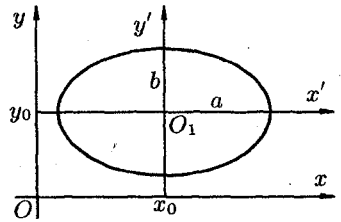
Так как $x' = x - x_0$, $y' = y - y_0$ (формулы параллельного переноса), то в старой системе координат уравнение эллипса запишется в виде

$$\frac{(x - x_0)^2}{a^2} + \frac{(y - y_0)^2}{b^2} = 1.$$

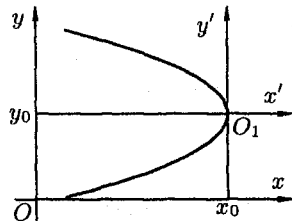
Аналогично рассуждая, получим уравнение гиперболы с центром в точке $O_1(x_0; y_0)$ и полуосями a и b :

$$\frac{(x - x_0)^2}{a^2} - \frac{(y - y_0)^2}{b^2} = 1.$$

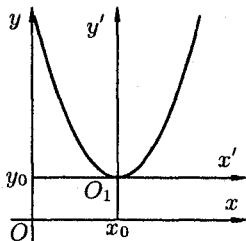
И наконец, параболы, изображенные на следующих рисунках, имеют соответствующие уравнения.



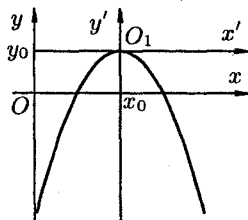
$$(y - y_0)^2 = 2p(x - x_0)$$



$$(y - y_0)^2 = -2p(x - x_0)$$



$$(x - x_0)^2 = 2p(y - y_0)$$



$$(x - x_0)^2 = -2p(y - y_0)$$

2. Уравнение $Ax^2 + Cy^2 + 2Dx + 2Ey + F = 0$

Уравнения эллипса, гиперболы, параболы и уравнение окружности $(x-x_0)^2 + (y-y_0)^2 = R^2$ после преобразований (раскрыть скобки, перенести все члены уравнения в одну сторону, привести подобные члены, ввести новые обозначения для коэффициентов) можно записать с помощью *единого* уравнения вида

$$Ax^2 + Cy^2 + 2Dx + 2Ey + F = 0, \quad (1)$$

где коэффициенты A и C не равны нулю одновременно.

Возникает вопрос: всякое ли уравнение вида (1) определяет одну из кривых (окружность, эллипс, гипербола, парабола) второго порядка? Ответ дает следующая теорема.

Теорема 1. Уравнение (1) всегда определяет: либо окружность (при $A = C$), либо эллипс (при $A \cdot C > 0$), либо гиперболу (при $A \cdot C < 0$), либо параболу (при $A \cdot C = 0$). При этом возможны случаи вырождения: для эллипса (окружности) — в точку или мнимый эллипс (окружность), для гиперболы — в пару пересекающихся прямых, для параболы — в пару параллельных прямых.

Например:

1) $4x^2 + 5y^2 + 20x - 30y + 10 = 0$ — эллипс ($A \cdot C = 4 \cdot 5 > 0$). Действительно, сделаем следующие преобразования

$$4\left(x^2 + 5x + \frac{25}{4}\right) + 5(y^2 - 6y + 9) - 25 - 45 + 10 = 0,$$

$$4\left(x + \frac{5}{2}\right)^2 + 5(y - 3)^2 = 60, \quad \frac{\left(x + \frac{5}{2}\right)^2}{15} + \frac{(y - 3)^2}{12} = 1.$$

Получилось каноническое уравнение эллипса с центром в $O_1\left(-\frac{5}{2}; 3\right)$ и полуосями $a = \sqrt{15}$ и $b = \sqrt{12}$.

2) $x^2 + 10x - 2y + 11 = 0$ — парабола ($C = 0$). Действительно,

$$\begin{aligned}x^2 + 10x + 25 - 2y + 11 - 25 &= 0, \\(x + 5)^2 &= 2y + 14, \quad (x + 5)^2 = 2(y + 7).\end{aligned}$$

Получилось каноническое уравнение параболы с вершиной в точке $O_1(-5; -7)$ и $p = 1$.

3) $4x^2 - y^2 + 8x - 8y - 12 = 0$ ($A \cdot C = -4 < 0$). Преобразуем уравнение:

$$\begin{aligned}4(x^2 + 2x + 1) - (y^2 + 8y + 16) - 4 + 16 - 12 &= 0, \\4(x + 1)^2 - (y + 4)^2 &= 0, \\(2(x + 1) + (y + 4)) \cdot (2(x + 1) - (y + 4)) &= 0, \\(2x + y + 6)(2x - y - 2) &= 0.\end{aligned}$$

Это уравнение определяет две пересекающиеся прямые $2x + y + 6 = 0$ и $2x - y - 2 = 0$.

3. Общее уравнение второго порядка

Рассмотрим теперь общее уравнение второй степени с двумя неизвестными

$$Ax^2 + 2Bxy + Cy^2 + 2Dx + 2Ey + F = 0. \quad (2)$$

Оно отличается от уравнения (1) наличием члена с произведением координат ($B \neq 0$). Можно, путем поворота координатных осей на угол α , преобразовать это уравнение, чтобы в нем член с произведением координат отсутствовал.

Используя формулы поворота осей

$$x = x' \cos \alpha - y' \sin \alpha, \quad y = x' \sin \alpha + y' \cos \alpha,$$

выразим старые координаты через новые

$$\begin{aligned}A(x' \cos \alpha - y' \sin \alpha)^2 + 2B(x' \cos \alpha - y' \sin \alpha)(x' \sin \alpha + y' \cos \alpha) + \\+ C(x' \sin \alpha + y' \cos \alpha)^2 + 2D(x' \cos \alpha - y' \sin \alpha) + \\+ 2E(x' \sin \alpha + y' \cos \alpha) + F = 0.\end{aligned}$$

Выберем угол α так, чтобы коэффициент при $x' \cdot y'$ обратился в нуль, т. е. чтобы выполнялось равенство

$$-2A \cos \alpha \sin \alpha + 2B(\cos^2 \alpha - \sin^2 \alpha) + 2C \sin \alpha \cos \alpha = 0,$$

т. е.

$$(C - A) \sin 2\alpha + 2B \cos 2\alpha = 0, \quad (3)$$

т. е.

$$2B \cos 2\alpha = (A - C) \sin 2\alpha.$$

Отсюда

$$\operatorname{tg} 2\alpha = \frac{2B}{A - C}. \quad (4)$$

Таким образом, при повороте осей на угол α , удовлетворяющий условию (4), уравнение (2) сводится к уравнению (1).

Вывод: общее уравнение второго порядка (2) определяет на плоскости (если не считать случаев вырождения и распада) следующие кривые: окружность, эллипс, гиперболу, параболу.

Замечание: Если $A = C$, то уравнение (4) теряет смысл. В этом случае $\cos 2\alpha = 0$ (см. (3)), тогда $2\alpha = 90^\circ$, т. е. $\alpha = 45^\circ$. Итак, при $A = C$ систему координат следует повернуть на 45° .

IV. АНАЛИТИЧЕСКАЯ ГЕОМЕТРИЯ В ПРОСТРАНСТВЕ

33. ПОВЕРХНОСТИ И ЛИНИИ В ПРОСТРАНСТВЕ И ИХ УРАВНЕНИЯ

1. Поверхность и ее уравнение. Уравнение сферы

Поверхность в пространстве можно рассматривать как геометрическое место точек, удовлетворяющих какому-либо условию. Например, сфера радиуса R с центром в точке O_1 есть геометрическое место всех точек пространства, находящихся от точки O_1 на расстоянии R .

Прямоугольная система координат $Oxyz$ в пространстве позволяет установить взаимно однозначное соответствие между точками пространства и тройками чисел x, y и z — их координатами. Свойство, общее всем точкам поверхности, можно записать в виде уравнения, связывающего координаты всех точек поверхности.

Уравнением данной поверхности в прямоугольной системе координат $Oxyz$ называется такое уравнение $F(x, y, z) = 0$ с тремя переменными x, y и z , которому удовлетворяют координаты каждой точки, лежащей на поверхности, и не удовлетворяют координаты точек, не лежащих на этой поверхности. Переменные x, y и z в уравнении поверхности называются *текущими координатами* точек поверхности.

Уравнение поверхности позволяет изучение геометрических свойств поверхности заменить исследованием его уравнения. Так, для того, чтобы узнать, лежит ли точка $M_1(x_1; y_1; z_1)$ на данной поверхности, достаточно подставить координаты точки M_1 в уравнение поверхности вместо переменных: если эти координаты удовлетворяют уравнению, то точка лежит на поверхности, если не удовлетворяют — не лежит.

Пример: Найдём уравнение сферы радиуса R с центром в точке $O_1(x_0; y_0; z_0)$. Согласно определению сферы расстояние любой ее точки $M(x; y; z)$ от центра $O_1(x_0; y_0; z_0)$ равно радиусу R , т. е. $O_1M = R$. Но $O_1M = |\overline{O_1M}|$, где $\overline{O_1M} = (x - x_0; y - y_0; z - z_0)$. Следовательно,

$$\sqrt{(x - x_0)^2 + (y - y_0)^2 + (z - z_0)^2} = R$$

или

$$(x - x_0)^2 + (y - y_0)^2 + (z - z_0)^2 = R^2.$$

Это и есть искомое уравнение сферы. Ему удовлетворяют координаты любой ее точки и не удовлетворяют координаты точек, не лежащих на данной сфере.

Если центр сферы O_1 совпадает с началом координат, то уравнение сферы принимает вид $x^2 + y^2 + z^2 = R^2$.

Если же дано уравнение вида $F(x; y; z) = 0$, то оно, вообще говоря, определяет в пространстве некоторую поверхность.

Выражение «вообще говоря» означает, что в отдельных случаях уравнение $F(x; y; z) = 0$ может определять не поверхность, а точку, линию или вовсе не определять никакой геометрический образ. Говорят, «поверхность вырождается».

Так, уравнению $2x^2 + y^2 + z^2 + 1 = 0$ не удовлетворяют никакие действительные значения x, y, z . Уравнению $0 \cdot x^2 + y^2 + z^2 = 0$ удовлетворяют лишь координаты точек, лежащих на оси Ox (из уравнения следует: $y = 0, z = 0$, а x — любое число).

Итак, поверхность в пространстве можно задать геометрически и аналитически. Отсюда вытекает постановка двух основных задач:

1. Дана поверхность как геометрическое место точек. Найти уравнение этой поверхности.
2. Дано уравнение $F(x; y; z) = 0$. Исследовать форму поверхности, определяемой этим уравнением.

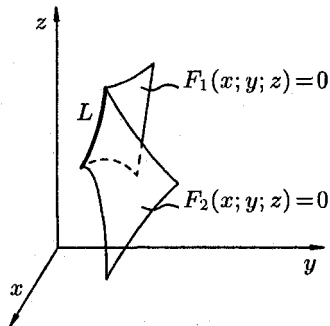
2. Уравнения линии в пространстве

Линию в пространстве можно рассматривать как линию пересечения двух поверхностей или как геометрическое место точек, общих двум поверхностям.

Если $F_1(x; y; z) = 0$ и $F_2(x; y; z) = 0$ — уравнения двух поверхностей, определяющих линию L , то координаты точек этой линии удовлетворяют системе двух уравнений с тремя неизвестными

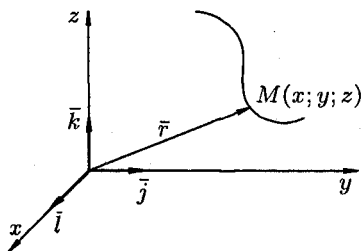
$$\begin{cases} F_1(x; y; z) = 0, \\ F_2(x; y; z) = 0. \end{cases}$$

(1)



Уравнения системы (1) называются *уравнениями линии в пространстве*. Например, $\begin{cases} y = 0, \\ z = 0 \end{cases}$ есть уравнения оси Ox .

Линию в пространстве можно рассматривать как траекторию движения точки. В этом случае ее задают *векторным уравнением*



$$\bar{r} = \bar{r}(t) \quad (2)$$

или *параметрическими уравнениями*

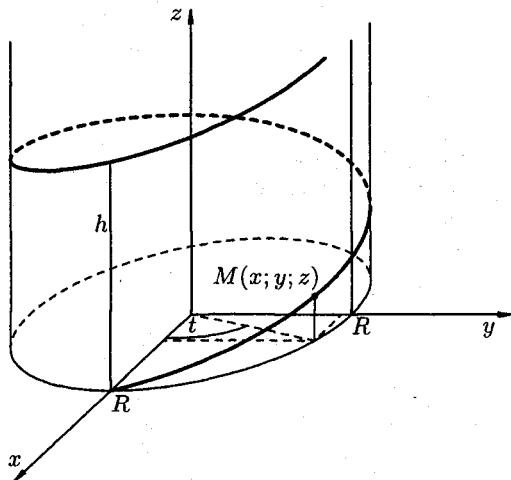
$$\begin{cases} x = x(t), \\ y = y(t), \\ z = z(t) \end{cases}$$

проекциями вектора (2) на оси координат.

Например, параметрические уравнения *винтовой линии* имеют вид:

$$\begin{cases} x = R \cos t, \\ y = R \sin t, \\ z = \frac{h}{2\pi} t. \end{cases}$$

Если точка M равномерно движется по образующей кругового цилиндра, а сам цилиндр равномерно вращается вокруг оси, то точка M описывает винтовую линию.

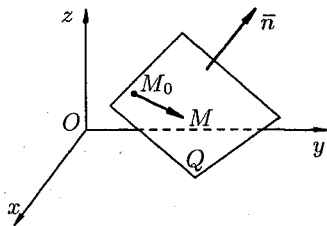


34. РАЗЛИЧНЫЕ ВИДЫ УРАВНЕНИЙ ПЛОСКОСТИ В ПРОСТРАНСТВЕ

Простейшей поверхностью является плоскость. Плоскость в пространстве $Oxyz$ можно задать разными способами. Каждому из них соответствует определенный вид ее уравнения.

1. Уравнение плоскости, проходящей через данную точку перпендикулярно данному вектору

Пусть в пространстве $Oxyz$ плоскость Q задана точкой $M_0(x_0; y_0; z_0)$ и вектором $\vec{n} = (A; B; C)$, перпендикулярным этой плоскости. Выведем уравнение плоскости Q . Возьмем на ней произвольную точку $M(x; y; z)$ и составим вектор $\overline{M_0M} = (x - x_0; y - y_0; z - z_0)$. При любом расположении точки M на плоскости Q векторы \vec{n} и $\overline{M_0M}$ взаимно перпендикулярны, поэтому их скалярное произведение равно нулю: $\vec{n} \cdot \overline{M_0M} = 0$, т. е.



$$A(x - x_0) + B(y - y_0) + C(z - z_0) = 0. \quad (1)$$

Координаты любой точки плоскости Q удовлетворяют (1), координаты точек, не лежащих на плоскости Q , этому уравнению не удовлетворяют (для них $\vec{n} \cdot \overline{M_0M} \neq 0$).

Уравнение (1) называется *уравнением плоскости, проходящей через данную точку $M_0(x_0; y_0; z_0)$ перпендикулярно вектору $\vec{n} = (A; B; C)$* . Оно первой степени относительно текущих координат x , y и z . Вектор $\vec{n} = (A; B; C)$ называется *нормальным вектором плоскости*.

Придавая коэффициентам A , B и C уравнения (1) различные значения, можно получить уравнение любой плоскости, проходящей через точку M_0 . Совокупность плоскостей, проходящих через данную точку, называется *связкой плоскостей*, а уравнение (1) — *уравнением связки плоскостей*.

2. Общее уравнение плоскости

Рассмотрим общее уравнение первой степени с тремя переменными x , y и z :

$$Ax + By + Cz + D = 0. \quad (2)$$

Полагая, что по крайней мере один из коэффициентов A , B или C не равен нулю, например $B \neq 0$, перепишем уравнение (2) в виде

$$A(x - 0) + B\left(y + \frac{D}{B}\right) + C(z - 0) = 0. \quad (3)$$

Сравнивая уравнение (3) с уравнением (1), видим, что уравнения (2) и (3) являются уравнением плоскости с нормальным вектором $\vec{n} = (A; B; C)$, проходящей через точку $M_1\left(0; -\frac{D}{B}; 0\right)$.

Итак, уравнение (2) определяет в системе координат $Oxyz$ некоторую плоскость. Уравнение (2) называется *общим уравнением плоскости*.

Частные случаи общего уравнения плоскости:

1. Если $D = 0$, то оно принимает вид $Ax + By + Cz = 0$. Этому уравнению удовлетворяет точка $O(0; 0; 0)$. Следовательно, в этом случае *плоскость проходит через начало координат*.

2. Если $C = 0$, то имеем уравнение $Ax + By + D = 0$. Нормальный вектор $\vec{n} = (A; B; 0)$ перпендикулярен оси Oz . Следовательно, *плоскость параллельна оси Oz* ; если $B = 0$ — параллельна оси Oy , $A = 0$ — параллельна оси Ox .

3. Если $C = D = 0$, то плоскость проходит через $O(0; 0; 0)$ параллельно оси Oz , т. е. плоскость $Ax + By = 0$ *проходит через ось Oz* . Аналогично, уравнениям $By + Cz = 0$ и $Ax + Cz = 0$ отвечают плоскости, проходящие соответственно через оси Ox и Oy .

4. Если $A = B = 0$, то уравнение (2) принимает вид $Cz + D = 0$, т. е. $z = -\frac{D}{C}$. Плоскость *параллельна плоскости Oxy* . Аналогично, уравнениям $Ax + D = 0$ и $By + D = 0$ отвечают плоскости, соответственно параллельные плоскостям Oyz и Oxz .

5. Если $A = B = D = 0$, то уравнение (2) примет вид $Cz = 0$, т. е. $z = 0$. Это *уравнение плоскости Oxy* . Аналогично: $y = 0$ — уравнение плоскости Oxz ; $x = 0$ — уравнение плоскости Oyz .

3. Уравнение плоскости, проходящей через три данные точки

Три точки пространства, не лежащие на одной прямой, определяют единственную плоскость. Найдем уравнение плоскости Q , проходящей через три данные точки $M_1(x_1; y_1; z_1)$, $M_2(x_2; y_2; z_2)$ и $M_3(x_3; y_3; z_3)$, не лежащие на одной прямой.

Возьмем на плоскости произвольную точку $M(x; y; z)$ и составим векторы $\overline{M_1M} = (x-x_1; y-y_1; z-z_1)$, $\overline{M_1M_2} = (x_2-x_1; y_2-y_1; z_2-z_1)$, $\overline{M_1M_3} = (x_3-x_1; y_3-y_1; z_3-z_1)$. Эти векторы лежат на плоскости Q , следовательно, они компланарны. Используем условие компланарности трех векторов (их смешанное произведение равно нулю), получаем $\overline{M_1M} \cdot \overline{M_1M_2} \cdot \overline{M_1M_3} = 0$, т. е.

$$\begin{vmatrix} x-x_1 & y-y_1 & z-z_1 \\ x_2-x_1 & y_2-y_1 & z_2-z_1 \\ x_3-x_1 & y_3-y_1 & z_3-z_1 \end{vmatrix} = 0. \quad (4)$$

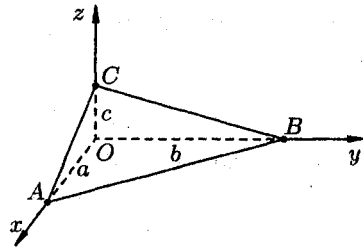
Уравнение (4) есть *уравнение плоскости, проходящей через три данные точки*.

4. Уравнение плоскости в отрезках

Пусть плоскость отсекает на осях Ox , Oy и Oz соответственно отрезки a , b и c , т. е. проходит через три точки $A(a; 0; 0)$, $B(0; b; 0)$ и $C(0; 0; c)$.

Подставляя координаты этих точек в уравнение (4), получаем

$$\begin{vmatrix} x-a & y & z \\ -a & b & 0 \\ -a & 0 & c \end{vmatrix} = 0.$$



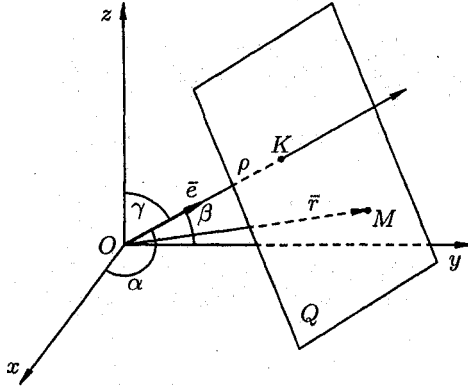
Раскрыв определитель, имеем $bcs - abc + abz + acy = 0$, т. е. $bcs + acy + abz = abc$ или

$$\frac{x}{a} + \frac{y}{b} + \frac{z}{c} = 1. \quad (5)$$

Уравнение (5) называется *уравнением плоскости в отрезках на осях*. Им удобно пользоваться при построении плоскости.

5. Нормальное уравнение плоскости

Положение плоскости Q вполне определяется заданием единичного вектора \vec{e} , имеющего направление перпендикуляра OK , опущенного на плоскость из начала координат, и длиной p этого перпендикуляра (см. рис.).



Пусть $OK = p$, а α, β, γ — углы, образованные единичным вектором \vec{e} с осями Ox, Oy и Oz . Тогда $\vec{e} = (\cos \alpha; \cos \beta; \cos \gamma)$. Возьмем на плоскости произвольную точку $M(x; y; z)$ и соединим ее с началом координат. Образует вектор $\vec{r} = \overline{OM} = (x; y; z)$.

При любом положении точки M на плоскости Q проекция радиус-вектора \vec{r} на направление вектора \vec{e} всегда равно p : $\text{пр}_{\vec{e}} \vec{r} = p$, т. е. $\vec{r} \cdot \vec{e} = p$ или

$$\vec{r} \cdot \vec{e} - p = 0. \quad (6)$$

Уравнение (6) называется *нормальным уравнением плоскости в векторной форме*. Зная координаты векторов \vec{r} и \vec{e} , уравнение (6) перепишем в виде

$$x \cos \alpha + y \cos \beta + z \cos \gamma - p = 0. \quad (7)$$

Уравнение (7) называется *нормальным уравнением плоскости в координатной форме*.

Отметим, что общее уравнение плоскости (2) можно привести к нормальному уравнению (7) так, как это делалось для уравнения прямой на плоскости. А именно: умножить обе части уравнения (2) на нормирующий множитель $\lambda = \frac{1}{\pm \sqrt{A^2 + B^2 + C^2}}$, где знак берется противоположным знаком свободного члена D общего уравнения плоскости.

35. ПЛОСКОСТЬ. ОСНОВНЫЕ ЗАДАЧИ

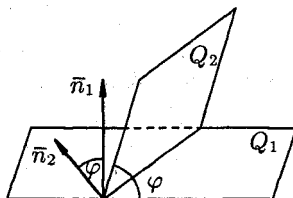
1. Угол между двумя плоскостями. Условия параллельности и перпендикулярности двух плоскостей

Пусть заданы две плоскости Q_1 и Q_2 :

$$A_1x + B_1y + C_1z + D_1 = 0,$$

$$A_2x + B_2y + C_2z + D_2 = 0.$$

Под *углом между плоскостями* Q_1 и Q_2 понимается один из двугранных углов, образованных этими плоскостями.

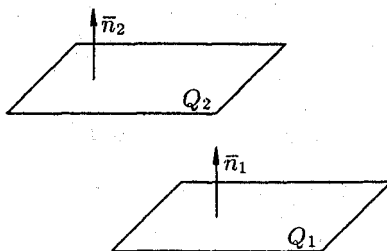
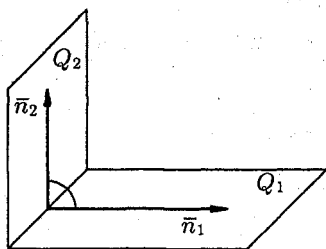


Угол φ между нормальными векторами $\vec{n}_1 = (A_1; B_1; C_1)$ и $\vec{n}_2 = (A_2; B_2; C_2)$ плоскостей Q_1 и Q_2 равен одному из этих углов. Поэтому $\cos \varphi = \frac{\vec{n}_1 \cdot \vec{n}_2}{|\vec{n}_1| \cdot |\vec{n}_2|}$ или

$$\cos \varphi = \frac{A_1A_2 + B_1B_2 + C_1C_2}{\sqrt{A_1^2 + B_1^2 + C_1^2} \cdot \sqrt{A_2^2 + B_2^2 + C_2^2}}.$$

Для нахождения косинуса очередного угла следует взять модуль правой части.

Если плоскости Q_1 и Q_2 перпендикулярны, то таковы же их нормали, т. е. $\vec{n}_1 \perp \vec{n}_2$ (и наоборот). Но тогда $\vec{n}_1 \cdot \vec{n}_2 = 0$, т. е. $A_1A_2 + B_1B_2 + C_1C_2 = 0$. Полученное равенство есть *условие перпендикулярности двух плоскостей* Q_1 и Q_2 .



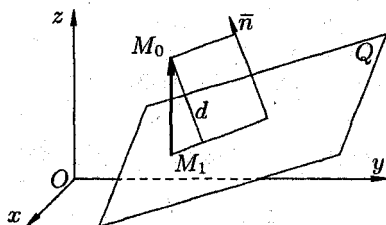
Если плоскости Q_1 и Q_2 параллельны, то будут параллельны и их нормали \vec{n}_1 и \vec{n}_2 (и наоборот). Но тогда, как известно, координаты векторов пропорциональны: $\frac{A_1}{A_2} = \frac{B_1}{B_2} = \frac{C_1}{C_2}$. Это и есть *условие параллельности двух плоскостей* Q_1 и Q_2 .

2. Расстояние от точки до плоскости

Пусть задана точка $M_0(x_0; y_0; z_0)$ и плоскость Q своим уравнением $Ax + By + Cz + D = 0$. Расстояние d от точки M_0 до плоскости Q находится по формуле

$$d = \frac{|Ax_0 + By_0 + Cz_0 + D|}{\sqrt{A^2 + B^2 + C^2}}.$$

Вывод этой формулы такой же, как вывод формулы расстояния от точки $M_0(x_0; y_0)$ до прямой $Ax + By + C = 0$.



Расстояние d от точки M_0 до плоскости Q равно модулю проекции вектора $\overline{M_1M_0}$, где $M_1(x_1; y_1; z_1)$ — произвольная точка плоскости Q , на направление нормального вектора $\vec{n} = (A; B; C)$. Следовательно,

$$\begin{aligned} d &= |\text{пр}_{\vec{n}} \overline{M_1M_0}| = \left| \frac{\overline{M_1M_0} \cdot \vec{n}}{|\vec{n}|} \right| = \\ &= \frac{|(x_0 - x_1)A + (y_0 - y_1)B + (z_0 - z_1)C|}{\sqrt{A^2 + B^2 + C^2}} = \\ &= \frac{|Ax_0 + By_0 + Cz_0 - Ax_1 - By_1 - Cz_1|}{\sqrt{A^2 + B^2 + C^2}}. \end{aligned}$$

А так как точка $M_1(x_1; y_1; z_1)$ принадлежит плоскости Q , то

$$Ax_1 + By_1 + Cz_1 + D = 0, \quad \text{т. е.} \quad D = -Ax_1 - By_1 - Cz_1.$$

Поэтому $d = \frac{|Ax_0 + By_0 + Cz_0 + D|}{\sqrt{A^2 + B^2 + C^2}}$. Отметим, что если плоскость

Q задана уравнением $x \cos \alpha + y \cos \beta + z \cos \gamma - p = 0$, то расстояние от точки $M_0(x_0; y_0; z_0)$ до плоскости Q может быть найдено по формуле

$$d = |x_0 \cos \alpha + y_0 \cos \beta + z_0 \cos \gamma - p|.$$

36. РАЗЛИЧНЫЕ ВИДЫ УРАВНЕНИЙ ПРЯМОЙ В ПРОСТРАНСТВЕ

1. Векторное уравнение прямой

Положение прямой в пространстве вполне определено, если задать какую-либо точку M_0 на прямой и вектор \vec{S} , параллельный этой прямой. Вектор \vec{S} называется *направляющим вектором прямой*. Пусть прямая L задана ее точкой $M_0(x_0; y_0; z_0)$ и направляющим вектором $\vec{S} = (m; n; p)$. Возьмем на прямой L произвольную точку $M(x; y; z)$. Обозначим радиус-векторы точек M_0 и M соответственно через \vec{r}_0 и \vec{r} . Очевидно, что три вектора \vec{r}_0 , \vec{r} и $\overline{M_0M}$ связаны соотношением

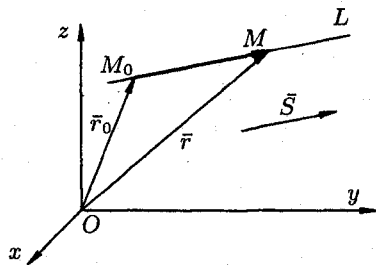
$$\vec{r} = \vec{r}_0 + \overline{M_0M}. \quad (1)$$

Вектор $\overline{M_0M}$, лежащий на прямой L , параллелен направляющему вектору \vec{S} , поэтому $\overline{M_0M} = t\vec{S}$, где t — скалярный множитель, называемый *параметром*, может принимать различные значения в зависимости от положения точки M на прямой.

Уравнение (1) можно записать в виде

$$\vec{r} = \vec{r}_0 + t\vec{S}. \quad (2)$$

Полученное уравнение называется *векторным уравнением прямой*.



2. Параметрические уравнения прямой

Замечая, что $\vec{r} = (x; y; z)$, $\vec{r}_0 = (x_0; y_0; z_0)$, $t\vec{S} = (tm; tn; tp)$, уравнение (2) можно записать в виде

$$x\vec{i} + y\vec{j} + z\vec{k} = (x_0 + tm)\vec{i} + (y_0 + tn)\vec{j} + (z_0 + tp)\vec{k}.$$

Отсюда следуют равенства:

$$\begin{cases} x = x_0 + mt, \\ y = y_0 + nt, \\ z = z_0 + pt. \end{cases} \quad (3)$$

Они называются *параметрическими уравнениями прямой* в пространстве.

3. Канонические уравнения прямой

Пусть $\vec{S} = (m; n; p)$ — направляющий вектор прямой L и $M_0(x_0; y_0; z_0)$ — точка, лежащая на этой прямой. Вектор $\overline{M_0M}$, соединяющий точку M_0 с произвольной точкой $M(x; y; z)$ прямой L , параллелен вектору \vec{S} . Поэтому координаты вектора $\overline{M_0M} = (x - x_0; y - y_0; z - z_0)$ и вектора $\vec{S} = (m; n; p)$ пропорциональны:

$$\frac{x - x_0}{m} = \frac{y - y_0}{n} = \frac{z - z_0}{p}. \quad (4)$$

Уравнения (4) называются *каноническими уравнениями прямой* в пространстве.

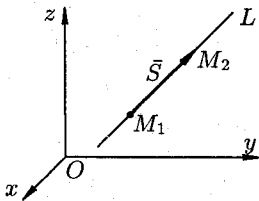
Замечания: 1) Уравнения (4) можно было бы получить сразу из параметрических уравнений прямой (3), исключив параметр t . Из уравнений (3) находим

$$\frac{x - x_0}{m} = \frac{y - y_0}{n} = \frac{z - z_0}{p} = t.$$

2) Обращение в нуль одного из знаменателей уравнений (4) означает обращение в нуль соответствующего числителя.

Например, уравнения $\frac{x-2}{3} = \frac{y+4}{2} = \frac{z-1}{0}$ задают прямую, проходящую через точку $M_0(2; -4; 1)$ перпендикулярно оси Oz (проекция вектора \vec{S} на ось Oz равна нулю). Но это означает, что прямая лежит в плоскости $z = 1$, и поэтому для всех точек прямой будет $z - 1 = 0$.

4. Уравнение прямой в пространстве, проходящей через две точки



Пусть прямая L проходит через точки $M_1(x_1; y_1; z_1)$ и $M_2(x_2; y_2; z_2)$. В качестве направляющего вектора \vec{S} можно взять вектор $\overline{M_1M_2} = (x_2 - x_1; y_2 - y_1; z_2 - z_1)$, т. е. $\vec{S} = \overline{M_1M_2}$. Следовательно, $m = x_2 - x_1$, $n = y_2 - y_1$, $p = z_2 - z_1$. Поскольку прямая проходит через точку $M_1(x_1; y_1; z_1)$, то, согласно уравнениям (4), уравнения прямой L имеют вид

$$\frac{x - x_1}{x_2 - x_1} = \frac{y - y_1}{y_2 - y_1} = \frac{z - z_1}{z_2 - z_1}. \quad (5)$$

Уравнения (5) называются *уравнениями прямой, проходящей через две данные точки*.

5. Общие уравнения прямой

Прямую в пространстве можно задать как линию пересечения двух непараллельных плоскостей. Рассмотрим систему уравнений

$$\begin{cases} A_1x + B_1y + C_1z + D_1 = 0, \\ A_2x + B_2y + C_2z + D_2 = 0. \end{cases} \quad (6)$$

Каждое из уравнений этой системы определяет плоскость. Если плоскости не параллельны (координаты векторов $\vec{n}_1 = (A_1; B_1; C_1)$ и $\vec{n}_2 = (A_2; B_2; C_2)$ не пропорциональны), то система (6) определяет прямую L как геометрическое место точек пространства, координаты которых удовлетворяют каждому из уравнений системы. Уравнения (6) называют *общими уравнениями прямой*.

От общих уравнений (6) можно перейти к каноническим уравнениям (4). Координаты точки M_0 на прямой L получаем из системы уравнений (6), придав одной из координат произвольное значение (например, $z = 0$).

Так как прямая L перпендикулярна векторам \vec{n}_1 и \vec{n}_2 , то за направляющий вектор \vec{S} прямой L можно принять векторное произведение $\vec{n}_1 \times \vec{n}_2$:

$$\vec{S} = \vec{n}_1 \times \vec{n}_2 = \begin{vmatrix} \vec{i} & \vec{j} & \vec{k} \\ A_1 & B_1 & C_1 \\ A_2 & B_2 & C_2 \end{vmatrix}.$$

Замечание: Канонические уравнения прямой легко получить, взяв две какие-либо точки на ней и применив уравнения (5).

Пример: Написать канонические уравнения прямой L , заданной уравнениями

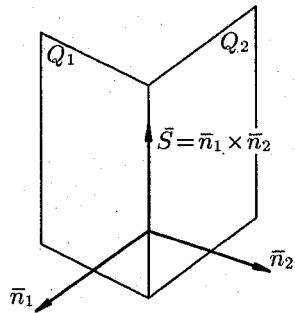
$$\begin{cases} x + y - z + 1 = 0, \\ 2x - y - 3z + 5 = 0. \end{cases}$$

◆ Положим $z = 0$ и решим систему $\begin{cases} x + y = -1, \\ 2x - y = -5. \end{cases}$ Находим точку

$M_1(-2; 1; 0) \in L$. Положим $x = 0$ и решим систему $\begin{cases} y - z = -1, \\ -y - 3z = -5. \end{cases}$

Находим вторую точку $M_2(0; -4; -3)$ прямой L . Записываем уравнение прямой L , проходящей через точки M_1 и M_2 :

$$\frac{x+2}{2} = \frac{y-1}{-5} = \frac{z}{-3}.$$



37. ПРЯМАЯ ЛИНИЯ В ПРОСТРАНСТВЕ. ОСНОВНЫЕ ЗАДАЧИ

1. Угол между прямыми. Условия параллельности и перпендикулярности прямых

Пусть прямые L_1 и L_2 заданы уравнениями

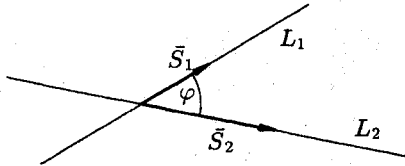
$$\frac{x - x_1}{m_1} = \frac{y - y_1}{n_1} = \frac{z - z_1}{p_1} \quad \text{и} \quad \frac{x - x_2}{m_2} = \frac{y - y_2}{n_2} = \frac{z - z_2}{p_2}.$$

Под углом между этими прямыми понимают угол между направляющими векторами $\vec{S}_1 = (m_1; n_1; p_1)$ и $\vec{S}_2 = (m_2; n_2; p_2)$. Поэтому, по известной формуле для косинуса угла между векторами, получаем

$$\cos \varphi = \frac{\vec{S}_1 \cdot \vec{S}_2}{|\vec{S}_1| \cdot |\vec{S}_2|} \quad \text{или}$$

$$\cos \varphi = \frac{m_1 m_2 + n_1 n_2 + p_1 p_2}{\sqrt{m_1^2 + n_1^2 + p_1^2} \cdot \sqrt{m_2^2 + n_2^2 + p_2^2}}. \quad (1)$$

Для нахождения острого угла между прямыми L_1 и L_2 числитель правой части формулы (1) следует взять по модулю.



Если прямые L_1 и L_2 перпендикулярны, то в этом и только в этом случае имеем $\cos \varphi = 0$. Следовательно, числитель дроби (1) равен нулю, т. е. $m_1 m_2 + n_1 n_2 + p_1 p_2 = 0$.

Если прямые L_1 и L_2 параллельны, то параллельны их направляющие векторы \vec{S}_1 и \vec{S}_2 . Следовательно, координаты этих векторов пропорциональны, т. е. $\frac{m_1}{m_2} = \frac{n_1}{n_2} = \frac{p_1}{p_2}$.

Пример: Найти угол между прямыми

$$\frac{x}{2} = \frac{y - 2}{-1} = \frac{z + 2}{3} \quad \text{и} \quad \begin{cases} 2x + y - z - 1 = 0, \\ 2x - y + 3z + 5 = 0. \end{cases}$$

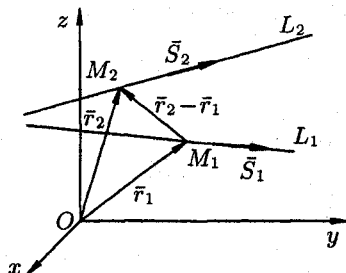
♦ Очевидно, $\vec{S}_1 = (2; -1; 3)$, а $\vec{S}_2 = \vec{n}_1 \times \vec{n}_2$, где $\vec{n}_1 = (2; 1; -1)$, $\vec{n}_2 = (2; -1; 3)$. Отсюда следует, что $\vec{S}_2 = (2; -8; -4)$. Так как $\vec{S}_1 \cdot \vec{S}_2 = 4 + 8 - 12 = 0$, то $\varphi = 90^\circ$. ♦

2. Условие, при котором две прямые лежат в одной плоскости

Пусть прямые L_1 и L_2 заданы каноническими уравнениями

$$\frac{x - x_1}{m_1} = \frac{y - y_1}{n_1} = \frac{z - z_1}{p_1} \quad \text{и} \quad \frac{x - x_1}{m_2} = \frac{y - y_2}{n_2} = \frac{z - z_2}{p_2}.$$

Их направляющие векторы соответственно $\vec{S}_1 = (m_1; n_1; p_1)$ и $\vec{S}_2 = (m_2; n_2; p_2)$.



Прямая L_1 проходит через точку $M_1(x_1; y_1; z_1)$, радиус-вектор которой обозначим через \vec{r}_1 ; прямая L_2 проходит через точку $M_2(x_2; y_2; z_2)$, радиус-вектор которой обозначим через \vec{r}_2 . Тогда

$$\vec{r}_2 - \vec{r}_1 = \overline{M_1M_2} = (x_2 - x_1; y_2 - y_1; z_2 - z_1).$$

Прямые L_1 и L_2 лежат в одной плоскости, если векторы \vec{S}_1 , \vec{S}_2 и $\overline{M_1M_2} = \vec{r}_2 - \vec{r}_1$ компланарны. Условием компланарности векторов является равенство нулю их смешанного произведения: $(\vec{r}_2 - \vec{r}_1)\vec{S}_1\vec{S}_2 = 0$, т. е.

$$\begin{vmatrix} x_2 - x_1 & y_2 - y_1 & z_2 - z_1 \\ m_1 & n_1 & p_1 \\ m_2 & n_2 & p_2 \end{vmatrix} = 0.$$

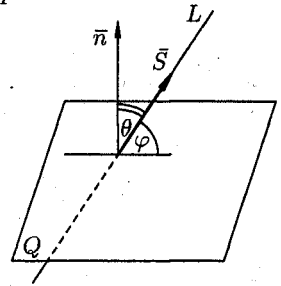
При выполнении этого условия прямые L_1 и L_2 лежат в одной плоскости, то есть либо пересекаются, если $\vec{S}_2 \neq \lambda\vec{S}_1$, либо параллельны, если $\vec{S}_1 \parallel \vec{S}_2$.

38. ПРЯМАЯ И ПЛОСКОСТЬ В ПРОСТРАНСТВЕ. ОСНОВНЫЕ ЗАДАЧИ

1. Угол между прямой и плоскостью. Условия параллельности и перпендикулярности прямой и плоскости

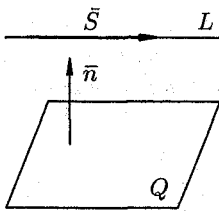
Пусть плоскость Q задана уравнением $Ax + By + Cz + D = 0$, а прямая L уравнениями $\frac{x-x_0}{m} = \frac{y-y_0}{n} = \frac{z-z_0}{p}$.

Углом между прямой и плоскостью называется любой из двух смежных углов, образованных прямой и ее проекцией на плоскость. Обозначим через φ угол между плоскостью Q и прямой L , а через θ — угол между векторами $\vec{n} = (A; B; C)$ и $\vec{S} = (m; n; p)$. Тогда $\cos \theta = \frac{\vec{n} \cdot \vec{S}}{|\vec{n}| \cdot |\vec{S}|}$. При этом $\sin \varphi = \pm \cos \theta$. Поэтому



$$\sin \varphi = \frac{Am + Bn + Cp}{\sqrt{A^2 + B^2 + C^2} \cdot \sqrt{m^2 + n^2 + p^2}} \quad (1)$$

Острый угол между плоскостью Q и прямой L можно найти, взяв в формуле (1) модуль правой части.



Если прямая L параллельна плоскости Q , то векторы \vec{n} и \vec{S} перпендикулярны, а потому $\vec{S} \cdot \vec{n} = 0$, т. е.

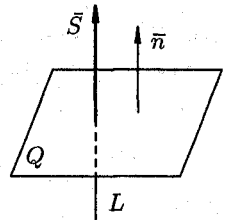
$$Am + Bn + Cp = 0$$

является условием параллельности прямой и плоскости.

Если прямая L перпендикулярна плоскости Q , то векторы \vec{n} и \vec{S} параллельны. Поэтому равенства

$$\frac{A}{m} = \frac{B}{n} = \frac{C}{p}$$

являются условиями перпендикулярности прямой и плоскости.



2. Пересечение прямой с плоскостью. Условие принадлежности прямой плоскости

Пусть требуется найти точку пересечения прямой

$$\frac{x - x_0}{m} = \frac{y - y_0}{n} = \frac{z - z_0}{p} \quad (2)$$

с плоскостью

$$Ax + By + Cz + D = 0. \quad (3)$$

Для этого надо решить систему уравнений (2) и (3). Проще всего это сделать, записав уравнения прямой (2) в параметрическом виде:

$$\begin{cases} x = x_0 + mt, \\ y = y_0 + nt, \\ z = z_0 + pt. \end{cases}$$

Подставляя эти выражения для x , y и z в уравнение плоскости (3), получаем уравнение $A(x_0 + mt) + B(y_0 + nt) + C(z_0 + pt) + D = 0$ или

$$t(Am + Bn + Cp) + (Ax_0 + By_0 + Cz_0 + D) = 0. \quad (4)$$

Если прямая L не параллельна плоскости, т. е. если $Am + Bn + Cp \neq 0$, то из равенства (4) находим значение t :

$$t = -\frac{Ax_0 + By_0 + Cz_0 + D}{Am + Bn + Cp}.$$

Подставляя найденное значение t в параметрические уравнения прямой, найдем координаты точки пересечения прямой с плоскостью.

Рассмотрим теперь случай, когда $Am + Bn + Cp = 0$ ($L \parallel Q$):

а) если $Ax_0 + By_0 + Cz_0 + D \neq 0$, то прямая L параллельна плоскости и пересекать ее не будет (уравнение (4) решения не имеет, так как имеет вид $0 \cdot t + F = 0$, где $F \neq 0$);

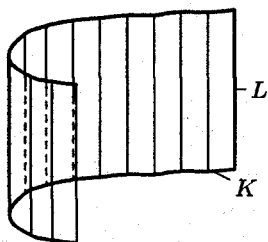
б) если $Ax_0 + By_0 + Cz_0 + D = 0$, то уравнение (4) имеет вид $t \cdot 0 + 0 = 0$; ему удовлетворяет любое значение t , любая точка прямой является точкой пересечения прямой и плоскости. заключаем: прямая лежит в плоскости. Таким образом, одновременное

выполнение равенств $\begin{cases} Am + Bn + Cp = 0, \\ Ax_0 + By_0 + Cz_0 + D = 0 \end{cases}$ является *условием принадлежности прямой плоскости*.

39. ЦИЛИНДРИЧЕСКИЕ ПОВЕРХНОСТИ

Поверхность, образованная движением прямой L , которая перемещается в пространстве, сохраняя постоянное направление и пересекая каждый раз некоторую кривую K , называется *цилиндрической поверхностью* или *цилиндром*. При этом кривая K называется *направляющей* цилиндра, а прямая L — его *образующей*.

Будем рассматривать цилиндрические поверхности, направляющие которых лежат в одной из координатных плоскостей, а образующие параллельны координатной оси, перпендикулярной этой плоскости.



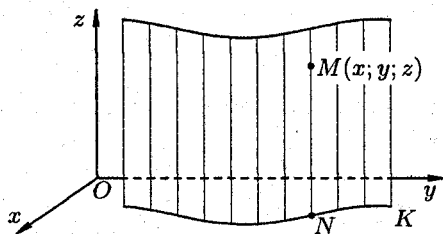
Пусть в плоскости Oxy лежит некоторая линия K , уравнение которой

$$F(x; y) = 0. \quad (1)$$

Построим цилиндр с образующими параллельными оси Oz и направляющей K .

Теорема 1. Уравнение цилиндра, образующие которого параллельны оси Oz , имеет вид (1), т. е. не содержит координаты z .

◀ Возьмем на цилиндре любую точку $M(x; y; z)$. Она лежит на какой-то образующей. Пусть N — точка пересечения этой образующей с плоскостью Oxy . Следовательно, точка N лежит на кривой K и ее координаты удовлетворяют уравнению (1).



Но точка M имеет такие же абсциссу x и ординату y , что и точка N . Следовательно, уравнению (1) удовлетворяют и координаты точки $M(x; y; z)$, так как оно не содержит z . И так как M — это любая точка цилиндра, то уравнение (1) и будет уравнением этого цилиндра. ▶

Теперь ясно, что $F(x; z) = 0$ есть уравнение цилиндра с образующими, параллельными оси Oy , а $F(y; z) = 0$ — с образующими, параллельными оси Ox . Название цилиндра определяется названием направляющей. Если направляющей служит эллипс

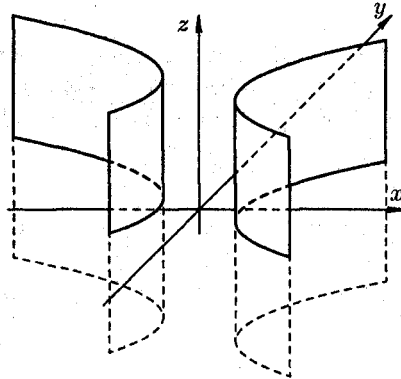
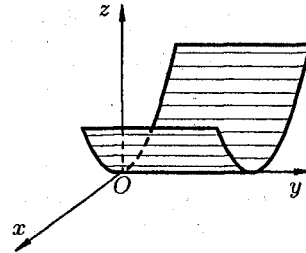
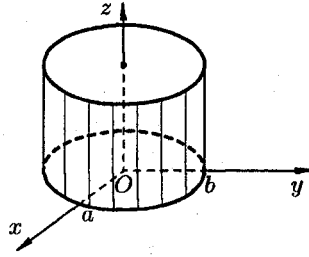
$$\frac{x^2}{a^2} + \frac{y^2}{b^2} = 1$$

в плоскости Oxy , то соответствующая цилиндрическая поверхность называется *эллиптическим цилиндром*.

Частным случаем эллиптического цилиндра является *круговой цилиндр*, его уравнение $x^2 + y^2 = R^2$. Уравнение $x^2 = 2pz$ определяет в пространстве *параболический цилиндр*. Уравнение

$$\frac{x^2}{a^2} - \frac{y^2}{b^2} = 1$$

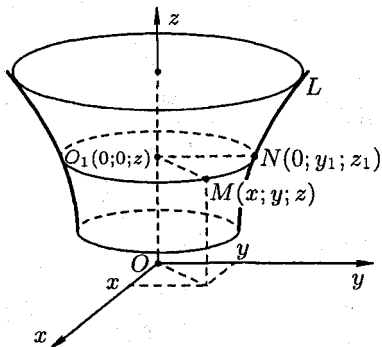
определяет в пространстве *гиперболический цилиндр*.



Все эти поверхности называются *цилиндрами второго порядка*, так как их уравнения есть уравнения второй степени относительно текущих координат x , y и z .

40. ПОВЕРХНОСТИ ВРАЩЕНИЯ, КОНИЧЕСКИЕ ПОВЕРХНОСТИ

1. Поверхность вращения



Поверхность, образованная вращением некоторой плоской кривой вокруг оси, лежащей в ее плоскости, называется *поверхностью вращения*. Пусть некоторая кривая L лежит в плоскости Oyz . Уравнения этой кривой запишутся в виде

$$\begin{cases} F(y; z) = 0, \\ x = 0. \end{cases} \quad (1)$$

Найдем уравнение поверхности, образованной вращением кривой L вокруг оси Oz .

Возьмем на поверхности произвольную точку $M(x; y; z)$. Проведем через точку M плоскость, перпендикулярную оси Oz , и обозначим точки пересечения ее с осью Oz и кривой L соответственно через O_1 и N . Обозначим координаты точки N через $(0; y_1; z_1)$. Отрезки O_1M и O_1N являются радиусами одной и той же окружности. Поэтому $O_1M = O_1N$. Но $O_1M = \sqrt{x^2 + y^2}$, $O_1N = |y_1|$. Следовательно, $|y_1| = \sqrt{x^2 + y^2}$ или $y_1 = \pm \sqrt{x^2 + y^2}$. Кроме того, очевидно, $z_1 = z$.

Так как точка N лежит на кривой L , то ее координаты удовлетворяют уравнению (1). Стало быть, $F(y_1; z_1) = 0$. Исключая вспомогательные координаты y_1 и z_1 точки N , приходим к уравнению

$$F(\pm \sqrt{x^2 + y^2}; z) = 0. \quad (2)$$

Уравнение (2) — искомое уравнение поверхности вращения, ему удовлетворяют координаты любой точки M этой поверхности и не удовлетворяют координаты точек, не лежащих на поверхности вращения.

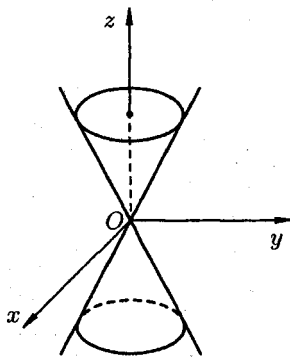
Как видно, уравнение (2) получается из (1) простой заменой y на $\pm\sqrt{x^2 + y^2}$, координата z сохраняется.

Понятно, что если кривая (1) вращается вокруг оси Oy , то уравнение поверхности вращения имеет вид

$$F(y; \pm\sqrt{x^2 + z^2}) = 0;$$

если кривая лежит в плоскости Oxy ($z = 0$) и ее уравнение $F(x; y) = 0$, то уравнение поверхности вращения, образованной вращением кривой вокруг оси Ox , есть $F(x; \pm\sqrt{y^2 + z^2}) = 0$.

Пример: Вращаем прямую $y = z$ вокруг оси Oz . Полученная поверхность (ее уравнение $\pm\sqrt{x^2 + y^2} = z$ или $x^2 + y^2 = z^2$), называется конусом второго порядка.



2. Коническая поверхность

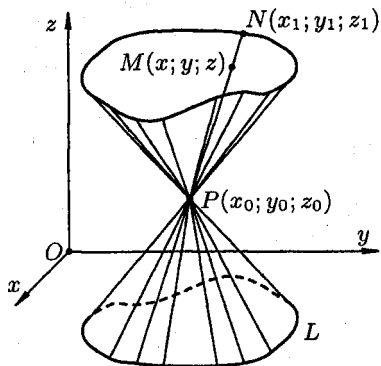
Поверхность, образованная прямыми линиями, проходящими через данную точку P и пересекающими данную плоскую линию L (не проходящую через P), называется *конической поверхностью* или *конусом*. При этом линия L называется *направляющей* конуса, точка P — ее *вершиной*, а прямая, описывающая поверхность, называется *образующей*.

Пусть направляющая L задана уравнениями

$$\begin{cases} F_1(x; y; z) = 0, \\ F_2(x; y; z) = 0, \end{cases} \quad (3)$$

а точка $P(x_0; y_0; z_0)$ — вершина конуса. Найдем уравнение конуса.

Возьмем на поверхности конуса произвольную точку $M(x; y; z)$. Образующая, проходящая через точки P и M ,



пересечет направляющую L в некоторой точке $N(x_1; y_1; z_1)$. Координаты точки N удовлетворяют уравнениям (3) направляющей:

$$\begin{cases} F_1(x_1; y_1; z_1) = 0, \\ F_2(x_1; y_1; z_1) = 0. \end{cases} \quad (4)$$

Канонические уравнения образующих, проходящих через точки P и N , имеют вид

$$\frac{x - x_0}{x_1 - x_0} = \frac{y - y_0}{y_1 - y_0} = \frac{z - z_0}{z_1 - z_0}. \quad (5)$$

Исключая x_1 , y_1 и z_1 из уравнений (4) и (5), получим уравнение конической поверхности, связывающее текущие координаты x , y и z .

Пример: Составить уравнение конуса с вершиной в точке $O(0; 0; 0)$, если направляющей служит эллипс $\frac{x^2}{a^2} + \frac{y^2}{b^2} = 1$, лежащий в плоскости $z = c$.

◆ Пусть $M(x; y; z)$ — любая точка конуса. Канонические уравнения образующих, проходящих через точки $(0; 0; 0)$ и точку $(x_1; y_1; z_1)$ пересечения образующей OM с эллипсом будут $\frac{x}{x_1} = \frac{y}{y_1} = \frac{z}{z_1}$. Исключим x_1 , y_1 и z_1 из этих уравнений и уравнения

$$\frac{x_1^2}{a^2} + \frac{y_1^2}{b^2} = 1 \quad (6)$$

(точка $(x_1; y_1; z_1)$ лежит на эллипсе), $z_1 = c$. Имеем: $\frac{x}{x_1} = \frac{z}{c}$, $\frac{y}{y_1} = \frac{z}{c}$. Отсюда $x_1 = c \cdot \frac{x}{z}$ и $y_1 = c \cdot \frac{y}{z}$. Подставляя значения x_1 и y_1 в уравнение эллипса (6), получим

$$\frac{c^2 \cdot x^2}{z^2 \cdot a^2} + \frac{c^2 \cdot y^2}{z^2 \cdot b^2} = 1 \quad \text{или} \quad \frac{x^2}{a^2} + \frac{y^2}{b^2} = \frac{z^2}{c^2}.$$

Это и есть искомое уравнение конуса. ◆

41. КАНОНИЧЕСКИЕ УРАВНЕНИЯ ПОВЕРХНОСТЕЙ ВТОРОГО ПОРЯДКА

По заданному уравнению поверхности второго порядка (т. е. поверхности, уравнение которой в прямоугольной системе координат является алгебраическим уравнением второй степени) будем определять ее геометрический вид. Для этого применим так называемый *метод сечений*: исследование вида поверхности будем производить при помощи изучения линий пересечения данной поверхности с координатными плоскостями или плоскостями, им параллельными.

1. Эллипсоид

Исследуем поверхность, заданную уравнением

$$\frac{x^2}{a^2} + \frac{y^2}{b^2} + \frac{z^2}{c^2} = 1. \quad (1)$$

Рассмотрим сечения поверхности (1) с плоскостями, параллельными плоскости xOy . Уравнения таких плоскостей: $z = h$, где h — любое число.

Линия, получаемая в сечении, определяется двумя уравнениями

$$\begin{cases} \frac{x^2}{a^2} + \frac{y^2}{b^2} = 1 - \frac{h^2}{c^2}, \\ z = h. \end{cases} \quad (2)$$

Исследуем уравнения (2):

а) Если $|h| > c$, $c > 0$, то $\frac{x^2}{a^2} + \frac{y^2}{b^2} < 0$. Точек пересечения поверхности (1) с плоскостями $z = h$ не существует.

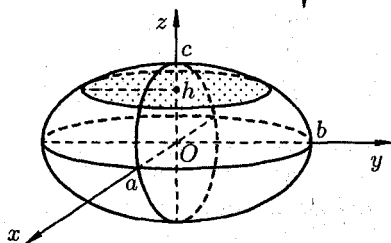
б) Если $|h| = c$, т. е. $h = \pm c$, то $\frac{x^2}{a^2} + \frac{y^2}{b^2} = 0$. Линия пересечения (2) вырождается в две точки $(0; 0; c)$ и $(0; 0; -c)$. Плоскости $z = c$ и $z = -c$ касаются данной поверхности.

в) Если $|h| < c$, то уравнения (2) можно переписать в виде:

$$\begin{cases} \frac{x^2}{\left(a\sqrt{1 - \frac{h^2}{c^2}}\right)^2} + \frac{y^2}{\left(b\sqrt{1 - \frac{h^2}{c^2}}\right)^2} = 1, \\ z = h. \end{cases}$$

Как видно, линия пересечения есть эллипс с полуосями

$$a_1 = a\sqrt{1 - \frac{h^2}{c^2}} \quad \text{и} \quad b_1 = b\sqrt{1 - \frac{h^2}{c^2}}.$$



При этом чем меньше $|h|$, тем больше полуоси a_1 и b_1 . При $h = 0$ они достигают своих наибольших значений: $a_1 = a$, $b_1 = b$. Уравнения (2) примут вид $\begin{cases} \frac{x^2}{a^2} + \frac{y^2}{b^2} = 1, \\ h = 0. \end{cases}$

Аналогичные результаты получим, если рассмотрим сечения поверхности (1) плоскостями $x = h$ и $y = h$.

Таким образом, рассмотренные сечения позволяют изобразить поверхность (1) как замкнутую овальную поверхность. Поверхность (1) называется *эллипсоидом*. Величины a , b и c называются *полуосями* эллипсоида. Если все они различны, то эллипсоид называется *трехосным*; если какие-либо две полуоси равны, трехосный эллипсоид превращается в *эллипсоид вращения*; если $a = b = c$, то — в *сферу* $x^2 + y^2 + z^2 = a^2$.

2. Гиперboloиды

Однополостный гиперboloид

Исследуем поверхность, заданную уравнением

$$\frac{x^2}{a^2} + \frac{y^2}{b^2} - \frac{z^2}{c^2} = 1. \quad (3)$$

Пересекая поверхность (3) плоскостью $z = h$, получим линию пересечения, уравнения которой имеют вид

$$\begin{cases} \frac{x^2}{a^2} + \frac{y^2}{b^2} = 1 + \frac{h^2}{c^2}, \\ z = h, \end{cases} \quad \text{или} \quad \begin{cases} \frac{x^2}{(a\sqrt{1 + \frac{h^2}{c^2}})^2} + \frac{y^2}{(b\sqrt{1 + \frac{h^2}{c^2}})^2} = 1, \\ z = h. \end{cases}$$

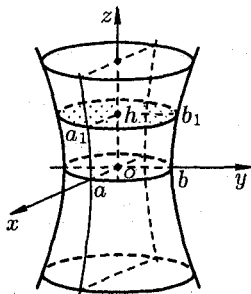
Как видно, этой линией является эллипс с полуосями

$$a_1 = a\sqrt{1 + \frac{h^2}{c^2}} \quad \text{и} \quad b_1 = b\sqrt{1 + \frac{h^2}{c^2}}.$$

Полуоси a_1 и b_1 достигают своего наименьшего значения при $h = 0$: $a_1 = a$, $b_1 = b$. При возрастании $|h|$ полуоси эллипса будут увеличиваться.

Если пересекать поверхность (3) плоскостями $x = h$ или $y = h$, то в сечении получим гиперболы. Найдем, например, линию пересечения поверхности (3) с плоскостью Oyz , уравнение которой $x = 0$. Эта линия пересечения описывается уравнениями

$$\frac{y^2}{b^2} - \frac{z^2}{c^2} = 1, \quad (x = 0).$$



Как видно, эта линия есть гипербола.

Анализ этих сечений показывает, что поверхность, определяемая уравнением (3), имеет форму бесконечной расширяющейся трубки. Поверхность (3) называется *однополостным гиперboloидом*.

Замечание: можно доказать, что через любую точку гиперboloида (3) проходят две прямые, лежащие на нем.

Двухполостный гиперboloид

Пусть поверхность задана уравнением

$$\frac{x^2}{a^2} + \frac{y^2}{b^2} - \frac{z^2}{c^2} = -1. \quad (4)$$

Если поверхность (4) пересечь плоскостями $z = h$, то линия пересечения определяется уравнениями

$$\begin{cases} \frac{x^2}{a^2} + \frac{y^2}{b^2} = \frac{h^2}{c^2} - 1, \\ z = h. \end{cases} \quad (5)$$

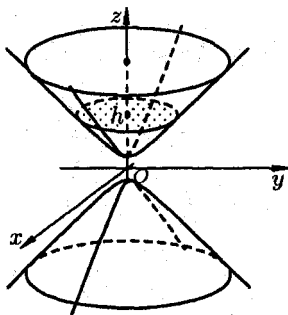
Отсюда следует, что:

- а) если $|h| < c$, то плоскости $z = h$ не пересекают поверхности;
- б) если $|h| = c$, то плоскости $z = \pm c$ касаются данной поверхности соответственно в точках $(0; 0; c)$ и $(0; 0; -c)$.
- в) если $|h| > c$, то уравнения (5) могут быть переписаны так

$$\begin{cases} \frac{x^2}{a^2(\frac{h^2}{c^2} - 1)} + \frac{y^2}{b^2(\frac{h^2}{c^2} - 1)} = 1, \\ z = h. \end{cases}$$

Эти уравнения определяют эллипс, полуоси которого возрастают с ростом $|h|$.

Пересекая поверхность (4) координатными плоскостями Oyz ($x = 0$) и Oxz ($y = 0$), получим в сечении гиперболы, уравнения



которых соответственно имеют вид

$$\frac{y^2}{b^2} - \frac{z^2}{c^2} = -1 \quad \text{и} \quad \frac{x^2}{a^2} - \frac{z^2}{c^2} = -1.$$

У обеих гипербол действительной осью является ось Oz . Метод сечения позволяет изобразить поверхность, определяемую уравнением (4), как поверхность, состоящую из двух полостей, имеющих форму выпуклых неограниченных чаш. Поверхность (4) называется *двухполостным гиперboloидом*.

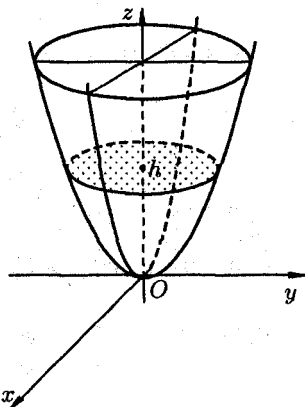
3. Параболоиды

Эллиптический параболоид

Исследуем поверхность, заданную уравнением

$$\frac{x^2}{p} + \frac{y^2}{q} = 2z, \quad (6)$$

где $p > 0$, $q > 0$. Рассечем поверхность (6) плоскостями $z = h$. В сечении получим линию, уравнения которой есть



$$\begin{cases} \frac{x^2}{p} + \frac{y^2}{q} = 2h, \\ z = h. \end{cases}$$

Если $h < 0$, то плоскости $z = h$ поверхности не пересекают, если $h = 0$, то плоскость $z = 0$ касается поверхности в точке $(0; 0; 0)$, если $h > 0$, то в сечении имеем эллипс, уравнение которого

$$\begin{cases} \frac{x^2}{2ph} + \frac{y^2}{2qh} = 1, \\ z = h. \end{cases}$$

Его полуоси возрастают с ростом h .

При пересечении поверхности (6) координатными плоскостями Oxz и Oyz получатся соответственно параболы $z = \frac{x^2}{2p}$ и $z = \frac{y^2}{2q}$. Таким образом, поверхность, определяемая уравнением (6), имеет вид выпуклой, бесконечно расширяющейся чаши. Поверхность (6) называется *эллиптическим параболоидом*.

Гиперболический параболоид

Исследуем поверхность, определяемую уравнением

$$\frac{x^2}{p} - \frac{y^2}{q} = 2z, \quad (7)$$

где $p > 0$, $q > 0$. Рассечем поверхность (7) плоскостями $z = h$. Получим кривую

$$\begin{cases} \frac{x^2}{2ph} - \frac{y^2}{2qh} = 1, \\ z = h \end{cases}$$

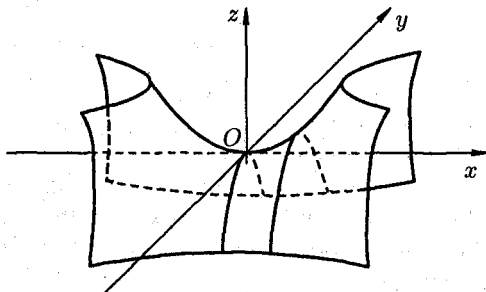
которая при всех значениях $h \neq 0$ является гиперболой. При $h > 0$ ее действительные оси параллельны оси Ox ; при $h < 0$ — параллельны оси Oy ; при $h = 0$ линия пересечения $\frac{x^2}{p} - \frac{y^2}{q} = 0$ распадается на пару пересекающихся прямых $\frac{x}{\sqrt{p}} - \frac{y}{\sqrt{q}} = 0$ и $\frac{x}{\sqrt{p}} + \frac{y}{\sqrt{q}} = 0$. При пересечении поверхности плоскостями, параллельными плоскости Oxz ($y = h$), будут получаться параболы

$$\begin{cases} x^2 = 2p\left(z + \frac{h^2}{2q}\right), \\ y = h, \end{cases}$$

ветви которых направлены вверх. При $y = 0$ в сечении получается парабола $\begin{cases} x^2 = 2pz, \\ y = 0 \end{cases}$, с вершиной в начале координат и осью симметрии Oz .

Пересекая поверхность (7) плоскостями $x = h$, получим параболы $y^2 = -2q\left(z - \frac{h^2}{2p}\right)$, ветви которых направлены вниз.

Анализ линии пересечения позволяет определить вид поверхности: она имеет вид седла. Поверхность (7) называется *гиперболическим параболоидом*.



4. Конус второго порядка

Исследуем уравнение поверхности

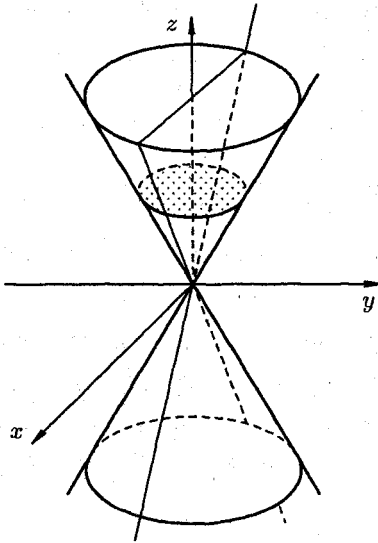
$$\frac{x^2}{a^2} + \frac{y^2}{b^2} - \frac{z^2}{c^2} = 0. \quad (8)$$

Пересечем поверхность (8) плоскостями $z = h$. Линия пересечения $\frac{x^2}{a^2} + \frac{y^2}{b^2} = \frac{h^2}{c^2}$, $z = h$. При $h = 0$ она вырождается в точку $(0; 0; 0)$.

При $h \neq 0$ в сечении будем получать эллипсы

$$\begin{cases} \frac{x^2}{\frac{a^2 h^2}{c^2}} + \frac{y^2}{\frac{b^2 h^2}{c^2}} = 1, \\ z = h. \end{cases}$$

Полуоси этих эллипсов будут возрастать при возрастании $|h|$.



Рассечем поверхность (8) плоскостью Oyz ($x = 0$). Получится линия

$$\begin{cases} \frac{y^2}{b^2} - \frac{z^2}{c^2} = 0, \\ x = 0, \end{cases}$$

распадающаяся на две пересекающиеся прямые

$$\frac{y}{b} - \frac{z}{c} = 0 \quad \text{и} \quad \frac{y}{b} + \frac{z}{c} = 0.$$

При пересечении поверхности (8) плоскостью $y = 0$ получим линию

$$\begin{cases} \frac{x^2}{a^2} - \frac{z^2}{c^2} = 0, \\ y = 0, \end{cases}$$

также распадающуюся на две пересекающиеся прямые $\frac{x}{a} - \frac{z}{c} = 0$ и $\frac{x}{a} + \frac{z}{c} = 0$. Поверхность, определяемая уравнением (8), называется *конусом второго порядка*, имеет вид, изображенный на рисунке.

Поверхности, составленные из прямых линий, называются *линейчатыми*. Такими поверхностями являются цилиндрические, конические поверхности, а также однополостный гиперболоид и гиперболический параболоид.

V. ВВЕДЕНИЕ В АНАЛИЗ

42. МНОЖЕСТВА. ДЕЙСТВИТЕЛЬНЫЕ ЧИСЛА

1. Понятие множества. Логические символы

Понятие множества является одним из основных неопределяемых понятий математики. Под *множеством* понимают совокупность (собрание, класс, семейство . . .) некоторых объектов, объединенных по какому-либо признаку. Так можно говорить о множестве студентов института, о множестве рыб в Черном море, о множестве корней уравнения $x^2 + 2x + 2 = 0$, о множестве всех натуральных чисел и т.д.

Объекты, из которых состоит множество, называются его *элементами*. Множества принято обозначать заглавными буквами латинского алфавита A, B, \dots, X, Y, \dots , а их элементы — малыми буквами a, b, \dots, x, y, \dots .

Если элемент x принадлежит множеству X , то записывают $x \in X$; запись $x \in X$ или $x \notin X$ означает, что элемент x не принадлежит множеству X .

Множество, не содержащее ни одного элемента, называется *пустым*, обозначается символом \emptyset .

Элементы множества записывают в фигурных скобках, внутри которых перечислены элементы множества (если это возможно), либо указано общее свойство, которым обладают все элементы данного множества.

Например, запись $A = \{1, 3, 15\}$ означает, что множество A состоит из трех чисел 1, 3 и 15; запись $A = \{x : 0 \leq x \leq 2\}$ означает, что множество A состоит из всех действительных (если не оговорено иное) чисел, удовлетворяющих неравенству $0 \leq x \leq 2$.

Множество A называется *подмножеством* множества B , если каждый элемент множества A является элементом множества B . Символически это обозначают так $A \subset B$ (« A включено в B ») или $B \supset A$ («множество B включает в себя множество A »).

Говорят, что множества A и B *равны* или *совпадают*, и пишут $A = B$, если $A \subset B$ и $B \subset A$. Другими словами: множества, состоящие из одних и тех же элементов, называются равными.

Объединением (или суммой) множеств A и B называется множество, состоящее из элементов, каждый из которых принадлежит хотя бы одному из этих множеств. Объединение (сумму) множеств обо-

значают $A \cup B$ (или $A+B$). Кратко можно записать $A \cup B = \{x : x \in A \text{ или } x \in B\}$.

Пересечением (или произведением) множеств A и B называется множество, состоящее из элементов, каждый из которых принадлежит множеству A и множеству B . Пересечение (произведение) множеств обозначают $A \cap B$ (или $A \cdot B$). Кратко можно записать $A \cap B = \{x : x \in A \text{ и } x \in B\}$.

В дальнейшем для сокращения записей будем использовать *некоторые* простейшие логические символы:

$\alpha \implies \beta$ — означает «из предложения α *следует* предложение β »;

$\alpha \iff \beta$ — «предложения α и β равносильны», т. е. из α следует β и из β следует α ;

\forall — означает «для любого», «для всякого»;

\exists — «существует», «найдется»;

$:$ — «имеет место», «такое что»;

\mapsto — «соответствие».

Например: 1) запись $\forall x \in A : \alpha$ означает: «для всякого элемента $x \in A$ имеет место предложение α »;

2) $(x \in A \cup B) \iff (x \in A \text{ или } x \in B)$; эта запись определяет объединение множеств A и B .

2. Числовые множества. Множество действительных чисел

Множества, элементами которых являются числа, называются *числовыми*. Примерами числовых множеств являются:

$\mathbb{N} = \{1; 2; 3; \dots; n; \dots\}$ — множество натуральных чисел;

$\mathbb{Z}_0 = \{0; 1; 2; \dots; n; \dots\}$ — множество целых неотрицательных чисел;

$\mathbb{Z} = \{0; \pm 1; \pm 2; \dots; \pm n; \dots\}$ — множество целых чисел;

$\mathbb{Q} = \left\{ \frac{m}{n} : m \in \mathbb{Z}, n \in \mathbb{N} \right\}$ — множество рациональных чисел.

\mathbb{R} — множество действительных чисел.

Между этими множествами существует соотношение

$$\mathbb{N} \subset \mathbb{Z}_0 \subset \mathbb{Z} \subset \mathbb{Q} \subset \mathbb{R}.$$

Множество \mathbb{R} содержит рациональные и иррациональные числа. Всякое рациональное число выражается или конечной десятичной дробью или бесконечной периодической дробью. Так, $\frac{1}{2} = 0,5$ ($= 0,500\dots$), $\frac{1}{3} = 0,333\dots$ — рациональные числа.

Действительные числа, не являющиеся рациональными, называются *иррациональными*.

Теорема 1. Не существует рационального числа, квадрат которого равен числу 2.

◀ Допустим, что существует рациональное число, представленное несократимой дробью $\frac{m}{n}$, квадрат которого равен 2. Тогда имеем:

$$\left(\frac{m}{n}\right)^2 = 2, \quad \text{т. е. } m^2 = 2n^2.$$

Отсюда следует, что m^2 (а значит, и m) — четное число, т. е. $m = 2k$. Подставив $m = 2k$ в равенство $m^2 = 2n^2$, получим $4k^2 = 2n^2$, т. е. $2k^2 = n^2$. Отсюда следует, что число n — четное, т. е. $n = 2l$. Но тогда дробь $\frac{m}{n} = \frac{2k}{2l}$ сократима. Это противоречит допущению, что $\frac{m}{n}$ дробь несократима. Следовательно, не существует рационального числа, квадрат которого равен числу 2. ▶

Иррациональное число выражается бесконечной непериодической дробью. Так, $\sqrt{2} = 1,4142356\dots$, $\pi = 3,1415926\dots$ — иррациональные числа. Можно сказать: множество действительных чисел есть множество всех бесконечных десятичных дробей. И записать

$$\mathbb{R} = \{x : x = a, \alpha_1 \alpha_2 \alpha_3 \dots\}, \quad \text{где } a \in \mathbb{Z}, \alpha_i \in \{0, 1, \dots, 9\}.$$

Множество \mathbb{R} действительных чисел обладает следующими свойствами.

1. Оно *упорядоченное*: для любых двух различных чисел a и b имеет место одно из двух соотношений $a < b$ либо $b < a$.

2. Множество \mathbb{R} *плотное*: между любыми двумя различными числами a и b содержится бесконечное множество действительных чисел x , т. е. чисел, удовлетворяющих неравенству $a < x < b$.

Так, если $a < b$, то одним из них является число $\frac{a+b}{2}$ ($a < b \implies \implies 2a < a+b$ и $a+b < 2b \implies 2a < a+b < 2b \implies a < \frac{a+b}{2} < b$).

3. Множество \mathbb{R} *непрерывное*. Пусть множество \mathbb{R} разбито на два непустых класса A и B таких, что каждое действительное число содержится только в одном классе и для каждой пары чисел $a \in A$ и $b \in B$ выполнено неравенство $a < b$. Тогда (свойство непрерывности) существует единственное число c , удовлетворяющее неравенству $a \leq c \leq b$ ($\forall a \in A, \forall b \in B$). Оно отделяет числа класса A от чисел класса B . Число c является либо наибольшим числом в классе A (тогда в классе B нет наименьшего числа), либо наименьшим числом в классе B (тогда в классе A нет наибольшего).

Свойство непрерывности позволяет установить взаимно-однозначное соответствие между множеством всех действительных чисел и множеством всех точек прямой. Это означает, что каждому числу $x \in \mathbb{R}$ соответствует определенная (единственная) точка числовой оси и, наоборот, каждой точке оси соответствует определенное (единственное) действительное число. Поэтому вместо слова «число» часто говорят «точка».

3. Числовые промежутки. Окрестность точки

Пусть a и b — действительные числа, причем $a < b$.

Числовыми промежутками (интервалами) называют подмножества всех действительных чисел, имеющих следующий вид:

$[a; b] = \{x : a \leq x \leq b\}$ — отрезок (сегмент, замкнутый промежуток);

$(a; b) = \{x : a < x < b\}$ — интервал (открытый промежуток);

$[a; b) = \{x : a \leq x < b\}$;

$(a; b] = \{x : a < x \leq b\}$ — полуоткрытые интервалы (или полуоткрытые отрезки);

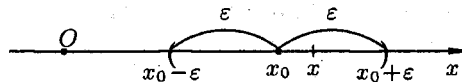
$(-\infty; b] = \{x : x \leq b\}$; $[a; +\infty) = \{x : x \geq a\}$;

$(-\infty; b) = \{x : x < b\}$; $(a; +\infty) = \{x : x > a\}$;

$(-\infty; \infty) = \{x : -\infty < x < +\infty\} = \mathbb{R}$ — бесконечные интервалы (промежутки).

Числа a и b называются соответственно левым и правым *концами* этих промежутков. Символы $-\infty$ и $+\infty$ не числа, это символическое обозначение процесса неограниченного удаления точек числовой оси от начала 0 влево и вправо.

Пусть x_0 — любое действительное число (точка на числовой прямой). *Окрестностью* точки x_0 называется любой интервал $(a; b)$, содержащий точку x_0 . В частности, интервал $(x_0 - \varepsilon, x_0 + \varepsilon)$, где $\varepsilon > 0$, называется ε -*окрестностью* точки x_0 . Число x_0 называется *центром*, а число ε — *радиусом*.



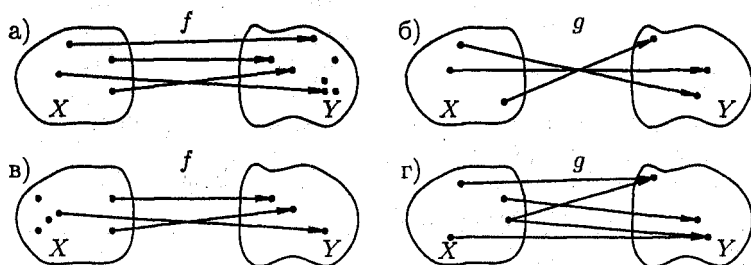
Если $x \in (x_0 - \varepsilon; x_0 + \varepsilon)$, то выполняется неравенство $x_0 - \varepsilon < x < x_0 + \varepsilon$ или, что то же, $|x - x_0| < \varepsilon$. Выполнение неравенства $|x - x_0| < \varepsilon$ означает попадание точки x в ε -окрестность точки x_0 .

43. ФУНКЦИЯ

1. Понятие функции

Одним из основных математических понятий является понятие функции. Понятие функции связано с установлением зависимости (связи) между элементами двух множеств.

Пусть даны два непустых множества X и Y . Соответствие f , которое каждому элементу $x \in X$ сопоставляет один и только один элемент $y \in Y$, называется *функцией* и записывается $y = f(x)$, $x \in X$ или $f : X \rightarrow Y$. Говорят еще, что функция f отображает множество X на множество Y .



Например, соответствия f и g , изображенные на рисунках а) и б), являются функциями, а на рисунках в) и г) — нет. В случае в) — не каждому элементу $x \in X$ соответствует элемент $y \in Y$. В случае г) не соблюдается условие однозначности.

Множество X называется *областью определения* функции f и обозначается $D(f)$. Множество всех $y \in Y$ называется *множеством значений* функции f и обозначается $E(f)$.

2. Числовые функции. График функции.

Способы задания функций

Пусть задана функция $f : X \rightarrow Y$.

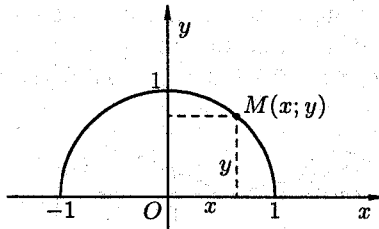
Если элементами множеств X и Y являются действительные числа (т. е. $X \subset \mathbb{R}$ и $Y \subset \mathbb{R}$), то функцию f называют *числовой функцией*. В дальнейшем будем изучать (как правило) числовые функции, для краткости будем именовать их просто функциями и записывать $y = f(x)$.

Переменная x называется при этом *аргументом* или *независимой переменной*, а y — *функцией* или *зависимой переменной* (от x). Относительно самих величин x и y говорят, что они находятся в

функциональной зависимости. Иногда функциональную зависимость y от x пишут в виде $y = y(x)$, не вводя новой буквы (f) для обозначения зависимости.

Частное значение функции $f(x)$ при $x = a$ записывают так: $f(a)$. Например, если $f(x) = 2x^2 - 3$, то $f(0) = -3$, $f(2) = 5$.

Графиком функции $y = f(x)$ называется множество всех точек плоскости Oxy , для каждой из которых x является значением аргумента, а y — соответствующим значением функции.



Например, графиком функции $y = \sqrt{1-x^2}$ является верхняя полуокружность радиуса $R = 1$ с центром в $O(0; 0)$.

Чтобы задать функцию $y = f(x)$, необходимо указать правило, позволяющее, зная x , находить соответствующее значение y .

Наиболее часто встречаются три способа задания функции: аналитический, табличный, графический.

Аналитический способ: функция задается в виде одной или нескольких формул или уравнений.

Например:

$$1) S = \pi R^2; \quad 2) y = \begin{cases} x^2 + 1, & \text{при } x < 2, \\ x - 4, & \text{при } x \geq 2; \end{cases} \quad 3) y^2 - 4x = 0.$$

Если область определения функции $y = f(x)$ не указана, то предполагается, что она совпадает с множеством всех значений аргумента, при которых соответствующая формула имеет смысл. Так, областью определения функции $y = \sqrt{1-x^2}$ является отрезок $[-1; 1]$.

Аналитический способ задания функции является наиболее совершенным, так как к нему приложены методы математического анализа, позволяющие полностью исследовать функцию $y = f(x)$.

Графический способ: задается график функции.

Часто графики вычерчиваются автоматически самопишущими приборами или изображаются на экране дисплея. Значения функции y , соответствующие тем или иным значениям аргумента x , непосредственно находятся из этого графика.

Преимуществом графического задания является его наглядность, недостатком — его неточность.

Табличный способ: функция задается таблицей ряда значений аргумента и соответствующих значений функции. Например, известные таблицы значений тригонометрических функций, логарифмические таблицы.

На практике часто приходится пользоваться таблицами значений функций, полученных опытным путем или в результате наблюдений.

3. Основные характеристики функции

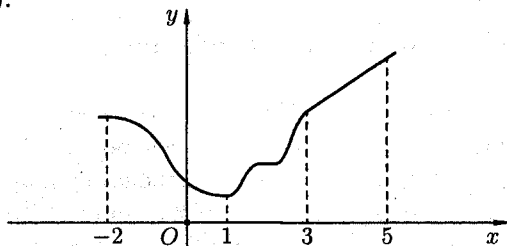
1. Функция $y = f(x)$, определенная на множестве D , называется *четной*, если $\forall x \in D$ выполняются условия $-x \in D$ и $f(-x) = f(x)$; *нечетной*, если $\forall x \in D$ выполняются условия $-x \in D$ и $f(-x) = -f(x)$.

График четной функции симметричен относительно оси Oy , а нечетной — относительно начала координат.

Например, $y = x^2$, $y = \sqrt{1+x^2}$, $y = \ln|x|$ — четные функции; а $y = \sin x$, $y = x^3$ — нечетные функции; $y = x-1$, $y = \sqrt{x}$ — функции общего вида, т. е. не четные и не нечетные.

2. Пусть функция $y = f(x)$ определена на множестве D и пусть $D_1 \subset D$. Если для любых значений $x_1, x_2 \in D_1$ аргументов из неравенства $x_1 < x_2$ вытекает неравенство: $f(x_1) < f(x_2)$, то функция называется *возрастающей* на множестве D_1 ; $f(x_1) \leq f(x_2)$, то функция называется *неубывающей* на множестве D_1 ; $f(x_1) > f(x_2)$, то функция называется *убывающей* на множестве D_1 ; $f(x_1) \geq f(x_2)$, то функция называется *невозрастающей* на множестве D_1 .

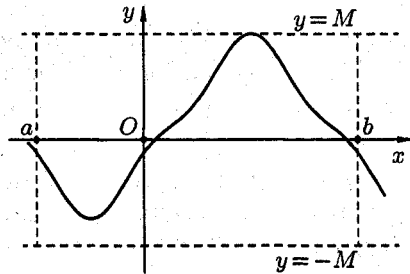
Например, функция, заданная графиком (см. рис.), убывает на интервале $(-2; 1)$, не убывает на интервале $(1; 5)$, возрастает на интервале $(3; 5)$.



Возрастающие, невозрастающие, убывающие и неубывающие функции на множестве D_1 называются *монотонными* на этом множестве, а возрастающие и убывающие — *строго монотонными*. Интервалы, в которых функция монотонна, называются *интервалами монотонности*. На рисунке (выше) функция строго монотонна на $(-2; 1)$ и $(3; 5)$; монотонна на $(1; 3)$.

3. Функцию $y = f(x)$, определенную на множестве D , называют *ограниченной* на этом множестве, если существует такое число $M > 0$, что для всех $x \in D$ выполняется неравенство $|f(x)| \leq M$ (короткая запись: $y = f(x)$, $x \in D$ называется ограниченной на D ,

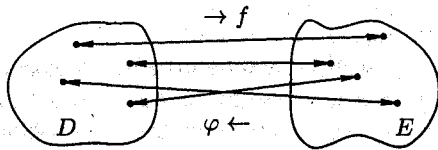
если $\exists M > 0 : \forall x \in D \implies |f(x)| \leq M$. Отсюда следует, что график ограниченной функции лежит между прямыми $y = -M$ и $y = M$.



4. Функция $y = f(x)$, определенная на множестве D , называется *периодической* на этом множестве, если существует такое число $T > 0$, что при каждом $x \in D$ значение $(x + T) \in D$ и $f(x + T) = f(x)$. При этом число T называется *периодом* функции. Если T — период функции, то ее периодами будут также числа $m \cdot T$, где $m = \pm 1; \pm 2, \dots$. Так, для $y = \sin x$ периодами будут числа $\pm 2\pi; \pm 4\pi; \pm 6\pi, \dots$. Основным периодом (наименьший положительный) — это период $T = 2\pi$. Вообще обычно за основной период берут наименьшее положительное число T , удовлетворяющее равенству $f(x + T) = f(x)$.

4. Обратная функция

Пусть задана функция $y = f(x)$ с областью определения D и множеством значений E . Если каждому значению $y \in E$ соответствует единственное значение $x \in D$, то определена функция $x = \varphi(y)$ с областью определения E и множеством значений D . Такая функция $\varphi(y)$ называется *обратной* к функции $f(x)$ и записывается в следующем виде: $x = \varphi(y) = f^{-1}(y)$. Про функции $y = f(x)$ и $x = \varphi(y)$ говорят, что они являются взаимно обратными. Чтобы найти функцию $x = \varphi(y)$, обратную к функции $y = f(x)$, достаточно решить уравнение $f(x) = y$ относительно x (если это возможно).



Примеры:

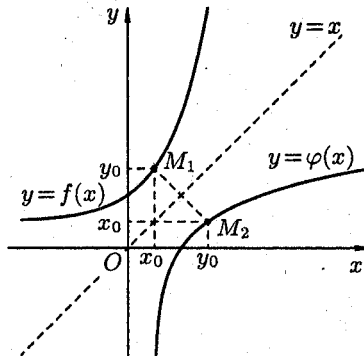
1. Для функции $y = 2x$ обратной функцией является функция $x = \frac{1}{2}y$:

2. Для функции $y = x^2$, $x \in [0; 1]$ обратной функцией является $x = \sqrt{y}$; заметим, что для функции $y = x^2$, заданной на отрезке $[-1; 1]$, обратной не существует, т.к. одному значению y соответствуют два значения x (так, если $y = \frac{1}{4}$, то $x_1 = \frac{1}{2}$, $x_2 = -\frac{1}{2}$).

Из определения обратной функции вытекает, что функция $y = f(x)$ имеет обратную тогда и только тогда, когда функция $f(x)$ задает взаимно однозначное соответствие между множествами D и E . Отсюда следует, что любая *строго монотонная функция имеет обратную*. При этом если функция возрастает (убывает), то обратная функция также возрастает (убывает).

Заметим, что функция $y = f(x)$ и обратная ей $x = \varphi(y)$ изображаются одной и той же кривой, т.е. графики их совпадают. Если же условиться, что, как обычно, независимую переменную (т.е. аргумент) обозначить через x , а зависимую переменную через y , то функция обратная функции $y = f(x)$ запишется в виде $y = \varphi(x)$.

Это означает, что точка $M_1(x_0; y_0)$ кривой $y = f(x)$ становится точкой $M_2(y_0; x_0)$ кривой $y = \varphi(x)$. Но точки M_1 и M_2 симметричны относительно прямой $y = x$. Поэтому *графики взаимно обратных функций $y = f(x)$ и $y = \varphi(x)$ симметричны относительно биссектрисы первого и третьего координатных углов*.



5. Сложная функция

Пусть функция $y = f(u)$ определена на множестве D , а функция $u = \varphi(x)$ на множестве D_1 , причем для $\forall x \in D_1$ соответствующее

значение $u = \varphi(x) \in D$. Тогда на множестве D_1 определена функция $u = f(\varphi(x))$, которая называется *сложной функцией* от x (и *суперпозицией* заданных функций, или *функцией от функции*).

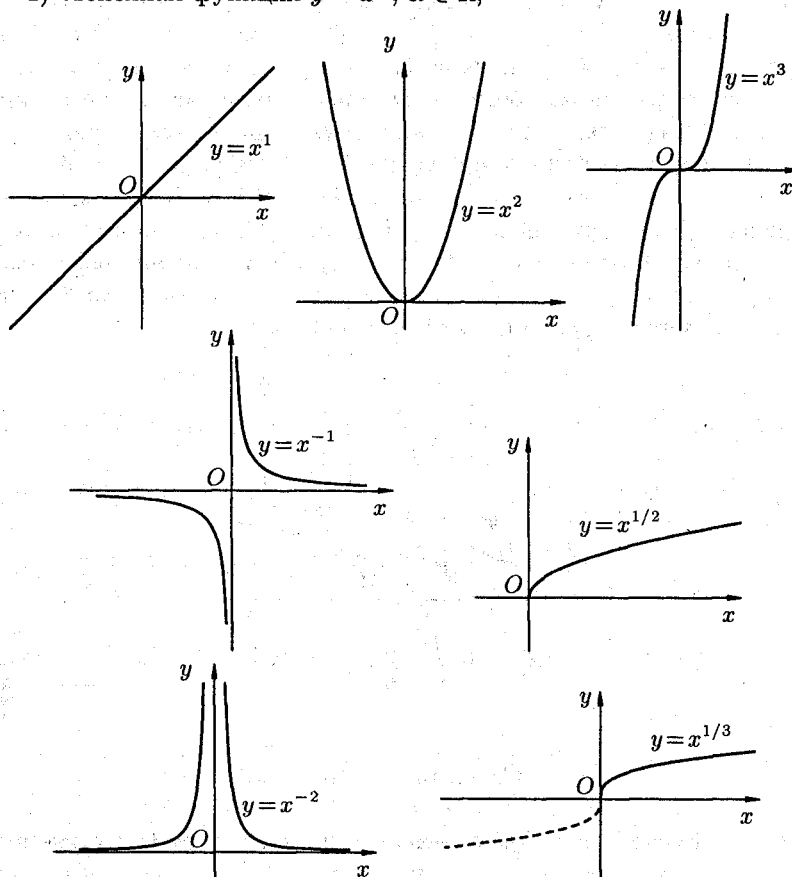
Переменную $u = \varphi(x)$ называют *промежуточным аргументом* сложной функции.

Например, функция $y = \sin 2x$ есть суперпозиция двух функций $y = \sin u$ и $u = 2x$. Сложная функция может иметь несколько промежуточных аргументов.

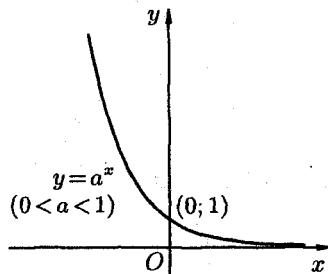
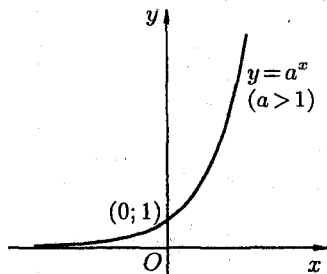
6. Основные элементарные функции и их графики

Основными элементарными функциями называют следующие функции:

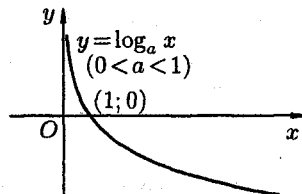
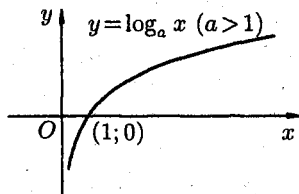
1) степенная функция $y = x^\alpha$, $\alpha \in \mathbb{R}$;



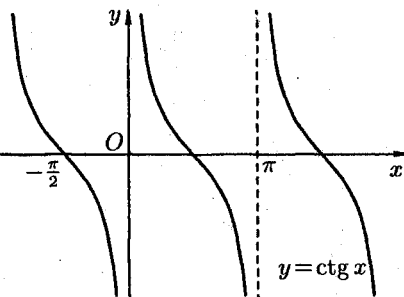
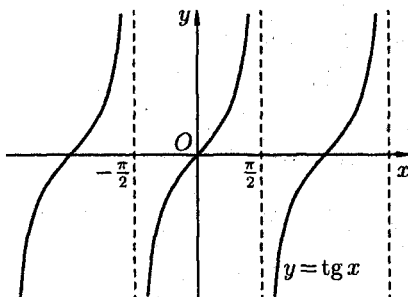
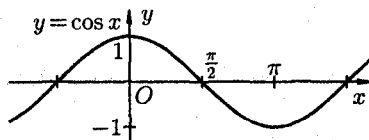
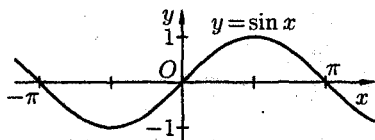
2) показательная функция $y = a^x$, $a > 0$, $a \neq 1$;



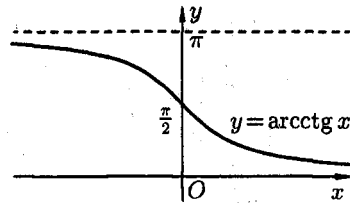
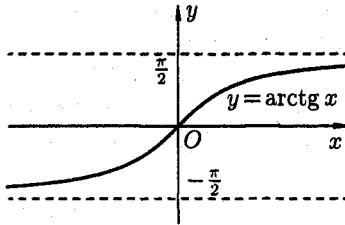
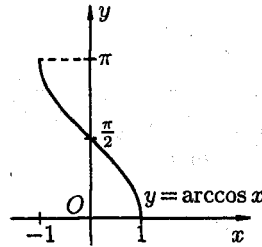
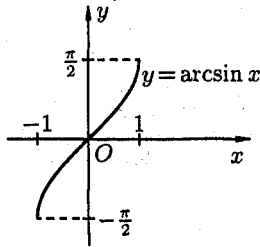
3) логарифмическая функция $y = \log_a x$, $a > 0$, $a \neq 1$;



4) тригонометрические функции $y = \sin x$, $y = \cos x$, $y = \operatorname{tg} x$,
 $y = \operatorname{ctg} x$;



5) обратные тригонометрические функции $y = \arcsin x$, $y = \arccos x$, $y = \operatorname{arctg} x$, $y = \operatorname{arcctg} x$.



Функция, задаваемая одной формулой, составленной из основных элементарных функций и постоянных с помощью конечного числа арифметических операций (сложения, вычитания, умножения, деления) и операций взятия функции от функции, называется *элементарной функцией*. Примерами элементарных функций могут служить функции:

$$y = 3^{\cos \sqrt{x}}; \quad y = \arcsin \frac{1}{x} - \frac{\operatorname{tg} x}{8x^2 + 3}, \quad y = \lg(2 + x^3).$$

Примерами *неэлементарных* функций могут служить функции

$$y = \operatorname{sign} x = \begin{cases} 1, & x > 0, \\ 0, & x = 0, \\ -1, & x < 0; \end{cases} \quad y = \begin{cases} x^2 + 1, & \text{если } x \leq 0, \\ x, & \text{если } x > 0; \end{cases}$$

$$y = 1 - \frac{x^3}{3! \cdot 3} + \frac{x^5}{5! \cdot 5} - \frac{x^7}{7! \cdot 7} + \dots + (-1)^n \frac{x^{2n+1}}{(2n+1)! \cdot (2n+1)} + \dots$$

44. ПОСЛЕДОВАТЕЛЬНОСТИ

1. Числовая последовательность

Под *числовой последовательностью* $x_1, x_2, x_3, \dots, x_n, \dots$ понимается функция

$$x_n = f(n), \quad (1)$$

заданная на множестве \mathbb{N} натуральных чисел. Кратко последовательность обозначается в виде $\{x_n\}$ или $x_n, n \in \mathbb{N}$. Число x_1 называется первым членом (элементом) последовательности, x_2 — вторым, ..., x_n — общим или n -м членом последовательности.

Чаще всего последовательность задается формулой его общего члена. Формула (1) позволяет вычислить любой член последовательности по номеру n , по ней можно сразу вычислить любой член последовательности. Так, равенства

$$v_n = n^2 + 1, \quad z_n = (-1)^n \cdot n, \quad y_n = \frac{1}{n}, \quad u_n = \frac{n-1}{n}, \quad n \in \mathbb{N}$$

задают, соответственно, последовательности

$$v_n = \{2, 5, 10, \dots, n^2 + 1, \dots\}; \quad z_n = \{-1, 2, -3, 4, \dots, (-1)^n \cdot n, \dots\};$$
$$y_n = \left\{1, \frac{1}{2}, \frac{1}{3}, \frac{1}{4}, \dots, \frac{1}{n}, \dots\right\}; \quad u_n = \left\{0, \frac{1}{2}, \frac{2}{3}, \frac{3}{4}, \frac{4}{5}, \frac{5}{6}, \dots, \frac{n-1}{n}, \dots\right\}.$$

Последовательность $\{x_n\}$ называется *ограниченной*, если существует такое число $M > 0$, что для любого $n \in \mathbb{N}$ выполняется неравенство

$$|x_n| \leq M.$$

В противном случае последовательность называется *неограниченной*. Легко видеть, что последовательности y_n и u_n ограничены, а v_n и z_n — неограничены.

Последовательность $\{x_n\}$ называется *возрастающей* (*неубывающей*), если для любого n выполняется неравенство $a_{n+1} > a_n$ ($a_{n+1} \geq a_n$). Аналогично определяется убывающая (невозрастающая) последовательность.

Все эти последовательности называются *монотонными* последовательностями. Последовательности v_n, y_n и u_n монотонные, а z_n — не монотонная.

Если все элементы последовательности $\{x_n\}$ равны одному и тому же числу c , то ее называют *постоянной*.

Другой способ задания числовых последовательностей — *рекуррентный способ*. В нём задается начальный элемент x_1 (первый член последовательности) и правило определения n -го элемента по $(n-1)$ -му:

$$x_n = f(x_{n-1}).$$

Таким образом, $x_2 = f(x_1)$, $x_3 = f(x_2)$ и т.д. При таком способе задания последовательности для определения 100-го члена надо сначала посчитать все 99 предыдущих.

2. Предел числовой последовательности

Можно заметить, что члены последовательности u_n неограниченно приближаются к числу 1. В этом случае говорят, что последовательность u_n , $n \in \mathbb{N}$ стремится к пределу 1.

Число a называется *пределом последовательности* $\{x_n\}$, если для любого положительного числа ε найдется такое натуральное число N , что при всех $n > N$ выполняется неравенство

$$|x_n - a| < \varepsilon. \quad (2)$$

В этом случае пишут $\lim_{n \rightarrow \infty} x_n = a$ или $x_n \rightarrow a$ и говорят, что последовательность $\{x_n\}$ (или переменная x_n , пробегающая последовательность x_1, x_2, x_3, \dots) имеет предел, равный числу a (или x_n стремится к a). Говорят также, что последовательность $\{x_n\}$ *сходится к a* .

Коротко определение предела можно записать так:

$$(\forall \varepsilon > 0 \exists N : \forall n > N \implies |x_n - a| < \varepsilon) \iff \lim_{n \rightarrow \infty} x_n = a$$

Пример: Доказать, что $\lim_{n \rightarrow \infty} \frac{n-1}{n} = 1$.

♦ По определению, число 1 будет пределом последовательности $x_n = \frac{n-1}{n}$, $n \in \mathbb{N}$, если $\forall \varepsilon > 0$ найдется натуральное число N , такое, что для всех $n > N$ выполняется неравенство $\left| \frac{n-1}{n} - 1 \right| < \varepsilon$, т. е. $\frac{1}{n} < \varepsilon$. Оно справедливо для всех $n > \frac{1}{\varepsilon}$, т. е. для всех $n > N = \left[\frac{1}{\varepsilon} \right]$, где $\left[\frac{1}{\varepsilon} \right]$ — целая часть числа $\frac{1}{\varepsilon}$ (целая часть числа x , обозначаемая $[x]$, есть наибольшее целое число, не превосходящее x ; так $[3] = 3$, $[5,2] = 5$).

Если $\varepsilon > 1$, то в качестве N можно взять $\left[\frac{1}{\varepsilon} \right] + 1$.

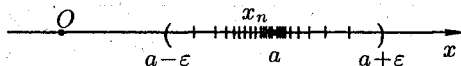
Итак, $\forall \varepsilon > 0$ указано соответствующее значение N . Это и доказывает, что $\lim_{n \rightarrow \infty} \frac{n-1}{n} = 1$. \blacklozenge

Заметим, что число N зависит от ε . Так, если $\varepsilon = \frac{3}{26}$, то $N = \left[\frac{1}{\frac{3}{26}} \right] = \left[\frac{26}{3} \right] = \left[8\frac{2}{3} \right] = 8$; $\varepsilon = 0,01$, то $N = \left[\frac{1}{\frac{1}{100}} \right] = [100] = 100$.

Поэтому иногда записывают $N = N(\varepsilon)$.

Выясним геометрический смысл определения предела последовательности.

Неравенство (2) равносильно неравенствам $-\varepsilon < x_n - a < \varepsilon$ или $a - \varepsilon < x_n < a + \varepsilon$, которые показывают, что элемент x_n находится в ε -окрестности точки a .



Поэтому определение предела последовательности геометрически можно сформулировать так: число a называется пределом последовательности $\{x_n\}$, если для любой ε -окрестности точки a найдется натуральное число N , что все значения x_n , для которых $n > N$, попадут в ε -окрестность точки a .

Ясно, что чем меньше ε , тем больше число N , но в любом случае внутри ε -окрестности точки a находится бесконечное число членов последовательности, а вне ее может быть лишь конечное их число.

Отсюда следует, что *сходящаяся последовательность имеет только один предел*. Последовательность, не имеющая предела, называется *расходящейся*. Таковой является, например, последовательность v_n (см. стр. 125).

Постоянная последовательность $x_n = c$, $n \in \mathbb{N}$ имеет предел, равный числу c , т. е. $\lim c = c$. Действительно, для $\forall \varepsilon > 0$ при всех натуральных n выполняется неравенство (2). Имеем $|x_n - c| = |c - c| = 0 < \varepsilon$.

3. Теорема о существовании предела у монотонной ограниченной последовательности. Число e . Натуральные логарифмы

Не всякая последовательность имеет предел. Сформулируем без доказательства признак существования предела последовательности.

Теорема 1 (Вейерштрасс). *Всякая монотонная ограниченная последовательность имеет предел.*

В качестве примера на применение этого признака рассмотрим последовательность $x_n = \left(1 + \frac{1}{n}\right)^n$, $n \in \mathbb{N}$.

По формуле бинома Ньютона

$$(a+b)^n = a^n + \frac{n}{1} \cdot a^{n-1} \cdot b + \frac{n(n-1)}{1 \cdot 2} \cdot a^{n-2} \cdot b^2 + \dots \\ \dots + \frac{n(n-1)(n-2)\dots(n-(n-1))}{1 \cdot 2 \cdot 3 \cdot \dots \cdot n} \cdot b^n.$$

Полагая $a = 1$, $b = \frac{1}{n}$, получим

$$\left(1 + \frac{1}{n}\right)^n = 1 + \frac{n}{1} \cdot \frac{1}{n} + \frac{n(n-1)}{1 \cdot 2} \cdot \frac{1}{n^2} + \frac{n(n-1)(n-2)}{1 \cdot 2 \cdot 3} \cdot \frac{1}{n^3} + \dots \\ \dots + \frac{n(n-1)(n-2)\dots(n-(n-1))}{1 \cdot 2 \cdot 3 \cdot \dots \cdot n} \cdot \frac{1}{n^n} = \\ = 1 + 1 + \frac{1}{1 \cdot 2} \left(1 - \frac{1}{n}\right) + \frac{1}{1 \cdot 2 \cdot 3} \left(1 - \frac{1}{n}\right) \left(1 - \frac{2}{n}\right) + \dots \\ \dots + \frac{1}{1 \cdot 2 \cdot 3 \cdot \dots \cdot n} \left(1 - \frac{1}{n}\right) \left(1 - \frac{2}{n}\right) \dots \left(1 - \frac{n-1}{n}\right)$$

или

$$\left(1 + \frac{1}{n}\right)^n = 1 + 1 + \frac{1}{1 \cdot 2} \left(1 - \frac{1}{n}\right) + \frac{1}{1 \cdot 2 \cdot 3} \left(1 - \frac{1}{n}\right) \left(1 - \frac{2}{n}\right) + \dots \\ \dots + \frac{1}{1 \cdot 2 \cdot 3 \cdot \dots \cdot n} \left(1 - \frac{1}{n}\right) \dots \left(1 - \frac{n-1}{n}\right). \quad (3)$$

Из равенства (3) следует, что с увеличением n число положительных слагаемых в правой части увеличивается. Кроме того, при увеличении n число $\frac{1}{n}$ убывает, поэтому величины $\left(1 - \frac{1}{n}\right)$, $\left(1 - \frac{2}{n}\right)$, ... возрастают. Поэтому последовательность $\{x_n\} = \left\{\left(1 + \frac{1}{n}\right)^n\right\}$ — *возрастающая*, при этом

$$\left(1 + \frac{1}{n}\right)^n > 2. \quad (4)$$

Покажем, что она ограничена. Заменяем каждую скобку в правой части равенства (3) на единицу; правая часть увеличится, получим неравенство

$$\left(1 + \frac{1}{n}\right)^n < 1 + 1 + \frac{1}{1 \cdot 2} + \frac{1}{1 \cdot 2 \cdot 3} + \dots + \frac{1}{1 \cdot 2 \cdot 3 \cdot \dots \cdot n}.$$

Усилим полученное неравенство, заменив числа 3, 4, 5, ..., стоящие в знаменателях дробей, числом 2:

$$\left(1 + \frac{1}{n}\right)^n < 1 + \left(1 + \frac{1}{2} + \frac{1}{2^2} + \dots + \frac{1}{2^{n-1}}\right).$$

Сумму в скобке найдем по формуле суммы членов геометрической прогрессии:

$$1 + \frac{1}{2} + \frac{1}{2^2} + \dots + \frac{1}{2^{n-1}} = \frac{1 \cdot (1 - (\frac{1}{2})^n)}{1 - \frac{1}{2}} = 2\left(1 - \frac{1}{2^n}\right) < 2.$$

Поэтому

$$\left(1 + \frac{1}{n}\right)^n < 1 + 2 = 3. \quad (5)$$

Итак, последовательность *ограничена*, при этом для $\forall n \in \mathbb{N}$ выполняются неравенства (4) и (5):

$$2 < \left(1 + \frac{1}{n}\right)^n < 3.$$

Следовательно, на основании теоремы Вейерштрасса последовательность $x_n = \left(1 + \frac{1}{n}\right)^n$, $n \in \mathbb{N}$ имеет предел, обозначаемый обычно буквой e :

$$\lim_{n \rightarrow \infty} \left(1 + \frac{1}{n}\right)^n = e. \quad (6)$$

Число e называют *неперовым* числом. Число e иррациональное, его приближенное значение равно 2,72 ($e = 2,718281828459045 \dots$). Число e принято за основание натуральных логарифмов: логарифм по основанию e называется натуральным логарифмом и обозначается $\ln x$, т. е. $\ln x = \log_e x$.

Найдем связь между натуральным и десятичным логарифмами. По определению логарифма имеем $x = e^{\ln x}$. Прологарифмируем обе части равенства по основанию 10:

$$\lg x = \lg(e^{\ln x}), \quad \text{т. е. } \lg x = \ln x \cdot \lg e.$$

Пользуясь десятичными логарифмами, находим $\lg e \approx 0,4343$. Значит, $\lg x \approx 0,4343 \cdot \ln x$. Из этой формулы следует, что $\ln x \approx \frac{1}{0,4343} \lg x$, т. е. $\ln x \approx 2,3026 \lg x$. Полученные формулы дают связь между натуральными и десятичными логарифмами.

45. ПРЕДЕЛ ФУНКЦИИ

1. Предел функции в точке

Пусть функция $y = f(x)$ определена в некоторой окрестности точки x_0 , кроме, быть может, самой точки x_0 .

Сформулируем два, эквивалентных между собой, определения предела функции в точке.

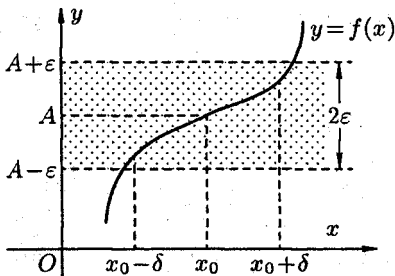
Определение 1 (на «языке последовательностей», или по Гейне). Число A называется *пределом функции* $y = f(x)$ в точке x_0 (или при $x \rightarrow x_0$), если для любой последовательности допустимых значений аргумента $x_n, n \in \mathbb{N} (x_n \neq x_0)$, сходящейся к x_0 (т. е. $\lim x_n = x_0$), последовательность соответствующих значений функции $f(x_n), n \in \mathbb{N}$ сходится к числу A (т. е. $\lim f(x_n) = A$).

В этом случае пишут $\lim_{x \rightarrow x_0} f(x) = A$ или $f(x) \rightarrow A$ при $x \rightarrow x_0$.
 Геометрический смысл предела функции: $\lim_{x \rightarrow x_0} f(x) = A$ означает, что для всех точек x , достаточно близких к точке x_0 , соответствующие значения функции как угодно мало отличаются от числа A .

Определение 2 (на «языке ε - δ », или по Коши). Число A называется *пределом функции в точке* x_0 (или при $x \rightarrow x_0$), если для любого положительного ε найдется такое положительное число δ , что для всех $x \neq x_0$, удовлетворяющих неравенству $|x - x_0| < \delta$, выполняется неравенство $|f(x) - A| < \varepsilon$.

Записывают $\lim_{x \rightarrow x_0} f(x) = A$. Это определение коротко можно записать так

$$\left(\forall \varepsilon > 0 \exists \delta > 0 \forall x : \underbrace{|x - x_0| < \delta, x \neq x_0}_{\text{или } 0 < |x - x_0| < \delta} \implies |f(x) - A| < \varepsilon \right) \iff \lim_{x \rightarrow x_0} f(x) = A.$$



Геометрический смысл предела функции: $A = \lim_{x \rightarrow x_0} f(x)$, если для любой ε -окрестности точки A найдется такая δ -окрестность точки x_0 , что для всех $x \neq x_0$ из этой δ -окрестности соответствующие значения функции $f(x)$ лежат в ε -окрестности точки A . Иными словами, точки графика функции $y = f(x)$ лежат внутри

полосы шириной 2ε , ограниченной прямыми $y = A + \varepsilon$, $y = A - \varepsilon$. Очевидно, что величина δ зависит от выбора ε , поэтому пишут $\delta = \delta(\varepsilon)$.

Примеры: 1) Доказать, что $\lim_{x \rightarrow 3} (2x - 1) = 5$.

◆ Возьмем произвольное $\varepsilon > 0$, найдем $\delta = \delta(\varepsilon) > 0$ такое, что для всех x , удовлетворяющих неравенству $|x - 3| < \delta$, выполняется неравенство $|(2x - 1) - 5| < \varepsilon$, т. е. $|x - 3| < \frac{\varepsilon}{2}$. Взяв $\delta = \frac{\varepsilon}{2}$, видим, что для всех x , удовлетворяющих неравенству $|x - 3| < \delta (= \frac{\varepsilon}{2})$, выполняется неравенство $|(2x - 1) - 5| < \varepsilon$. Следовательно, $\lim_{x \rightarrow 3} (2x - 1) = 5$. ◆

2) Доказать, что, если $f(x) = c$, то $\lim_{x \rightarrow x_0} c = c$.

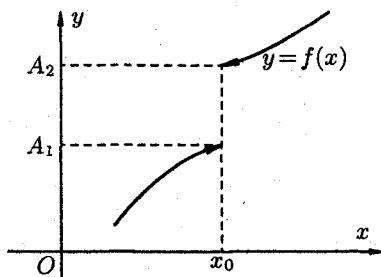
◆ Для $\forall \varepsilon > 0$ можно взять $\forall \delta > 0$. Тогда при $|x - x_0| < \delta$, $x \neq x_0$ имеем $|f(x) - c| = |c - c| = 0 < \varepsilon$. Следовательно, $\lim_{x \rightarrow x_0} c = c$. ◆

2. Односторонние пределы

В определении предела функции $\lim_{x \rightarrow x_0} f(x) = A$ считается, что x стремится к x_0 любым способом: оставаясь меньшим, чем x_0 (слева от x_0), большим, чем x_0 (справа от x_0), или колеблясь около точки x_0 .

Бывают случаи, когда способ приближения аргумента x к x_0 существенно влияет на значение предела функции. Поэтому вводят понятия односторонних пределов.

Число A_1 называется *пределом функции $y = f(x)$ слева* в точке x_0 , если для любого числа $\varepsilon > 0$ существует число $\delta = \delta(\varepsilon) > 0$ такое, что при $x \in (x_0 - \delta; x_0)$, выполняется неравенство $|f(x) - A_1| < \varepsilon$. Предел слева записывают так: $\lim_{x \rightarrow x_0 - 0} f(x) = A_1$ или коротко: $f(x_0 - 0) = A_1$ (обозначение Дирихле).



Аналогично определяется *предел функции справа*, запишем его с помощью символов:

$$\begin{aligned} (\forall \varepsilon > 0 \exists \delta = \delta(\varepsilon) \forall x \in (x_0; x_0 + \delta) \implies |f(x) - A_2| < \varepsilon) &\iff \\ &\iff \lim_{x \rightarrow x_0 + 0} f(x) = A_2. \end{aligned}$$

Коротко предел справа обозначают $f(x_0 + 0) = A_2$.

Пределы функции слева и справа называются *односторонними* пределами. Очевидно, если существует $\lim_{x \rightarrow x_0} f(x) = A$, то существуют и оба односторонних предела, причем $A = A_1 = A_2$.

Справедливо и обратное утверждение: если существуют оба предела $f(x_0 - 0)$ и $f(x_0 + 0)$ и они равны, то существует предел $A = \lim_{x \rightarrow x_0} f(x)$ и $A = f(x_0 - 0)$.

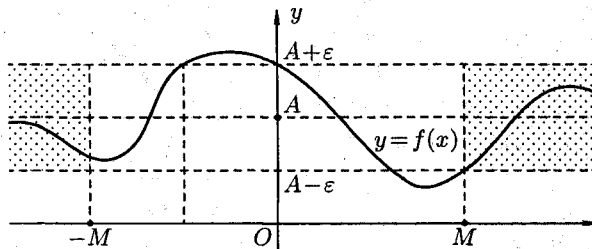
Если же $A_1 \neq A_2$, то $\lim_{x \rightarrow x_0} f(x)$ не существует.

3. Предел функции при $x \rightarrow \infty$

Пусть функция $y = f(x)$ определена в промежутке $(-\infty; \infty)$. Число A называется *пределом функции $f(x)$ при $x \rightarrow \infty$* , если для любого положительного числа ε существует такое число $M = M(\varepsilon) > 0$, что при всех x , удовлетворяющих неравенству $|x| > M$ выполняется неравенство $|f(x) - A| < \varepsilon$. Коротко это определение можно записать так:

$$\begin{aligned} (\forall \varepsilon > 0 \exists M > 0 \forall x : |x| > M \implies |f(x) - A| < \varepsilon) &\iff \\ &\iff \lim_{x \rightarrow \infty} f(x) = A. \end{aligned}$$

Если $x \rightarrow +\infty$, то пишут $A = \lim_{x \rightarrow +\infty} f(x)$, если $x \rightarrow -\infty$, то — $A = \lim_{x \rightarrow -\infty} f(x)$. Геометрический смысл этого определения таков: для $\forall \varepsilon > 0 \exists M > 0$, что при $x \in (-\infty; -M)$ или $x \in (M; +\infty)$ соответствующие значения функции $f(x)$ попадают в ε -окрестность точки A , т. е. точки графика лежат в полосе шириной 2ε , ограниченной прямыми $y = A + \varepsilon$ и $y = A - \varepsilon$.



4. Бесконечно большая функция (б.б.ф.)

Функция $y = f(x)$ называется *бесконечно большой при $x \rightarrow x_0$* , если для любого числа $M > 0$ существует число $\delta = \delta(M) > 0$,

что для всех x , удовлетворяющих неравенству $0 < |x - x_0| < \delta$, выполняется неравенство $|f(x)| > M$. Записывают $\lim_{x \rightarrow x_0} f(x) = \infty$ или $f(x) \rightarrow \infty$ при $x \rightarrow x_0$. Коротко:

$$\left(\forall M > 0 \exists \delta > 0 \forall x : |x - x_0| < \delta, x \neq x_0 \implies |f(x)| > M \right) \iff \\ \iff \lim_{x \rightarrow x_0} f(x) = \infty.$$

Например, функция $y = \frac{1}{x-2}$ есть б.б.ф. при $x \rightarrow 2$.

Если $f(x)$ стремится к бесконечности при $x \rightarrow x_0$ и принимает лишь положительные значения, то пишут $\lim_{x \rightarrow x_0} f(x) = +\infty$; если лишь отрицательные значения, то $\lim_{x \rightarrow x_0} f(x) = -\infty$.

Функция $y = f(x)$, заданная на всей числовой прямой, называется *бесконечно большой* при $x \rightarrow \infty$, если для любого числа $M > 0$ найдется такое число $N = N(M) > 0$, что при всех x , удовлетворяющих неравенству $|x| > N$, выполняется неравенство $|f(x)| > M$. Коротко:

$$\left(\forall M > 0 \exists N > 0 \forall x : |x| > N \implies |f(x)| > M \right) \iff \\ \iff \lim_{x \rightarrow \infty} f(x) = \infty.$$

Например, $y = 2^x$ есть б.б.ф. при $x \rightarrow \infty$.

Отметим, что если аргумент x , стремясь к бесконечности, принимает лишь натуральные значения, т. е. $x \in \mathbb{N}$, то соответствующая б.б.ф. становится бесконечно большой последовательностью. Например, последовательность $v_n = n^2 + 1$, $n \in \mathbb{N}$ является бесконечно большой последовательностью. Очевидно, *всякая б.б.ф. в окрестности точки x_0 является неограниченной* в этой окрестности. Обратное утверждение неверно: неограниченная функция может и не быть б.б.ф.

Однако если $\lim_{x \rightarrow x_0} f(x) = A$, где A — конечное число, то функция $f(x)$ ограничена в окрестности точки x_0 .

Действительно, из определения предела функции следует, что при $x \rightarrow x_0$ выполняется условие $|f(x) - A| < \varepsilon$, т. е. $A - \varepsilon < f(x) < A + \varepsilon$. Отсюда $|f(x)| < |A| + \varepsilon$ при $x \in (x_0 - \varepsilon; x_0 + \varepsilon)$, а это и означает, что функция $f(x)$ ограничена.

46. БЕСКОНЕЧНО МАЛЫЕ ФУНКЦИИ (Б.М.Ф.) И ОСНОВНЫЕ ТЕОРЕМЫ О НИХ

Функция $y = f(x)$ называется *бесконечно малой* при $x \rightarrow x_0$, если

$$\lim_{x \rightarrow x_0} f(x) = 0. \quad (1)$$

По определению предела функции равенство (1) означает: для любого числа $\varepsilon > 0$ найдется число $\delta > 0$ такое, что для всех x , удовлетворяющих неравенству $0 < |x - x_0| < \delta$, выполняется неравенство $|f(x)| < \varepsilon$.

Аналогично определяется б.м.ф. при $x \rightarrow x_0 + 0$, $x \rightarrow x_0 - 0$, $x \rightarrow +\infty$, $x \rightarrow -\infty$: во всех этих случаях $f(x) \rightarrow 0$.

Бесконечно малые функции часто называют бесконечно малыми величинами или бесконечно малыми; обозначают обычно греческими буквами α , β и т.д.

Примерами б.м.ф. служат функции $y = x^2$ при $x \rightarrow 0$; $y = x - 2$ при $x \rightarrow 2$; $y = \sin x$ при $x \rightarrow \pi k$, $k \in \mathbb{Z}$.

Другой пример: $x_n = \frac{1}{n}$, $n \in \mathbb{N}$ — бесконечно малая последовательность.

Основные теоремы о бесконечно малых.

Теорема 1. *Алгебраическая сумма конечного числа бесконечно малых функций есть бесконечно малая функция.*

◀ Пусть $\alpha(x)$ и $\beta(x)$ — две б.м. функции при $x \rightarrow x_0$. Это значит, что $\lim_{x \rightarrow x_0} \alpha(x) = 0$, т. е. для *любого* $\varepsilon > 0$, а значит, и $\frac{\varepsilon}{2} > 0$ найдется число $\delta_1 > 0$ такое, что для всех x , удовлетворяющих неравенству $0 < |x - x_0| < \delta_1$, выполняется неравенство

$$|\alpha(x)| < \frac{\varepsilon}{2} \quad (2)$$

и $\lim_{x \rightarrow x_0} \beta(x) = 0$, т. е.

$$\left(\forall \frac{\varepsilon}{2} > 0 \exists \delta_2 > 0 \forall x: 0 < |x - x_0| < \delta_2 \right) \implies |\beta(x)| < \frac{\varepsilon}{2}. \quad (3)$$

Пусть δ — наименьшее из чисел δ_1 и δ_2 . Тогда для всех x , удовлетворяющих неравенству $0 < |x - x_0| < \delta$, выполняются оба неравенства (2) и (3). Следовательно, имеет место соотношение

$$|\alpha(x) + \beta(x)| \leq |\alpha(x)| + |\beta(x)| < \frac{\varepsilon}{2} + \frac{\varepsilon}{2} = \varepsilon.$$

Таким образом

$$\forall \varepsilon > 0 \exists \delta > 0 \forall x: 0 < |x - x_0| < \delta \implies |\alpha(x) + \beta(x)| < \varepsilon.$$

Это значит, что $\lim_{x \rightarrow x_0} (\alpha(x) + \beta(x)) = 0$, т. е. $\alpha(x) + \beta(x)$ — б.м.ф. при $x \rightarrow x_0$. \blacktriangleright

Аналогично проводится доказательство для любого конечного числа б.м. функций.

Теорема 2. Произведение ограниченной функции на бесконечно малую функцию есть функция бесконечно малая.

\blacktriangleleft Пусть функция $f(x)$ ограничена при $x \rightarrow x_0$. Тогда существует такое число $M > 0$, что

$$|f(x)| \leq M \quad (4)$$

для всех x из δ_1 -окрестности точки x_0 . И пусть $\alpha(x)$ — б.м.ф. при $x \rightarrow x_0$. Тогда для любого $\varepsilon > 0$, а значит, и $\frac{\varepsilon}{M} > 0$ найдется такое число $\delta_2 > 0$, что при всех x , удовлетворяющих неравенству $0 < |x - x_0| < \delta_2$, выполняется неравенство

$$|\alpha(x)| < \frac{\varepsilon}{M}. \quad (5)$$

Обозначим через δ наименьшее из чисел δ_1 и δ_2 . Тогда для всех x , удовлетворяющих неравенству $0 < |x - x_0| < \delta$, выполняются оба неравенства (4) и (5). Следовательно, $|f(x) \cdot \alpha(x)| = |f(x)| \cdot |\alpha(x)| < \frac{\varepsilon}{M} \cdot M = \varepsilon$. А это означает, что произведение $f(x) \cdot \alpha(x)$ при $x \rightarrow x_0$ есть бесконечно малая функция. \blacktriangleright

Следствие 1. Так как всякая б.м.ф. ограничена, то из теоремы (2) вытекает: произведение двух б.м.ф. есть функция бесконечно малая.

Следствие 2. Произведение б.м.ф. на число есть функция бесконечно малая.

Теорема 3. Частное от деления бесконечно малой функции на функцию, имеющую отличный от нуля предел, есть функция бесконечно малая.

\blacktriangleleft Пусть $\lim_{x \rightarrow x_0} \alpha(x) = 0$, а $\lim_{x \rightarrow x_0} f(x) = a \neq 0$. Функция $\frac{\alpha(x)}{f(x)}$ может быть представлена в виде произведения б.м.ф. $\alpha(x)$ на ограниченную функцию $\frac{1}{f(x)}$. Но тогда из теоремы (2) вытекает, что частное $\frac{\alpha(x)}{f(x)} = \alpha(x) \cdot \frac{1}{f(x)}$ есть функция бесконечно малая.

Покажем, что функция $\frac{1}{f(x)}$ ограниченная. Возьмем $\varepsilon < |a|$. Тогда, на основании определения предела, найдется $\delta > 0$, что для всех x , удовлетворяющих неравенству $0 < |x - x_0| < \delta$, выполняется неравенство $|f(x) - a| < \varepsilon$. А так как $\varepsilon > |f(x) - a| = |a - f(x)| \geq |a| - |f(x)|$, то $|a| - |f(x)| < \varepsilon$, т. е. $|f(x)| > |a| - \varepsilon > 0$. Следовательно,

$$\left| \frac{1}{f(x)} \right| = \frac{1}{|f(x)|} < \frac{1}{|a| - \varepsilon} = M,$$

т. е. функция $\frac{1}{f(x)}$ — ограниченная. ▶

Теорема 4. Если функция $\alpha(x)$ — бесконечно малая ($\alpha \neq 0$), то функция $\frac{1}{\alpha(x)}$ есть бесконечно большая функция и наоборот: если функция $f(x)$ — бесконечно большая, то $\frac{1}{f(x)}$ — бесконечно малая.

◀ Пусть $\alpha(x)$ есть б.м.ф. при $x \rightarrow x_0$, т. е. $\lim_{x \rightarrow x_0} \alpha(x) = 0$. Тогда

$$\left(\forall \varepsilon > 0 \exists \delta > 0 \forall x : 0 < |x - x_0| < \delta \right) \implies |\alpha(x)| < \varepsilon,$$

т. е. $\left| \frac{1}{\alpha(x)} \right| > \frac{1}{\varepsilon}$, т. е. $\left| \frac{1}{\alpha(x)} \right| > M$, где $M = \frac{1}{\varepsilon}$. А это означает, что функция $\frac{1}{\alpha(x)}$ есть бесконечно большая. Аналогично доказывается обратное утверждение. ▶

Замечание: Доказательства теорем приводились для случая, когда $x \rightarrow x_0$, но они справедливы и для случая, когда $x \rightarrow \infty$.

Пример: Показать, что функция

$$f(x) = (x - 1)^2 \cdot \sin^3 \frac{1}{x - 1}$$

при $x \rightarrow 1$ является бесконечно малой.

◆ Так как $\lim_{x \rightarrow 1} (x - 1)^2 = 0$, то функция $\varphi(x) = (x - 1)^2$ есть бесконечно малая при $x \rightarrow 1$. Функция $g(x) = \sin^3 \frac{1}{x - 1}$, $x \neq 1$ ограничена

$$\left| \sin^3 \frac{1}{x - 1} \right| \leq 1.$$

Функция $f(x) = (x - 1)^2 \cdot \sin^3 \frac{1}{x - 1}$ представляет собой произведение ограниченной функции ($g(x)$) на бесконечно малую ($\varphi(x)$). Значит, $f(x)$ — бесконечно малая при $x \rightarrow 1$. ◆

47. СВЯЗЬ МЕЖДУ ФУНКЦИЕЙ, ЕЕ ПРЕДЕЛОМ И БЕСКОНЕЧНО МАЛОЙ ФУНКЦИЕЙ

Теорема 1. Если функция $f(x)$ имеет предел, равный A , то ее можно представить как сумму числа A и бесконечно малой функции $\alpha(x)$, т. е. если $\lim_{x \rightarrow x_0} f(x) = A$, то $f(x) = A + \alpha(x)$.

◀ Пусть $\lim_{x \rightarrow x_0} f(x) = A$. Следовательно,

$$\left(\forall \varepsilon > 0 \exists \delta > 0 \forall x : 0 < |x - x_0| < \delta \right) \implies |f(x) - A| < \varepsilon,$$

т. е. $|f(x) - A - 0| < \varepsilon$. Это означает, что функция $f(x) - A$ имеет предел, равный нулю, т. е. является б.м.ф., которую обозначим через $\alpha(x)$: $f(x) - A = \alpha(x)$. Отсюда, $f(x) = A + \alpha(x)$. ▶

Теорема 2 (обратная). Если функцию $f(x)$ можно представить в виде суммы числа A и бесконечно малой функции $\alpha(x)$, то число A является пределом функции $f(x)$, т. е. если $f(x) = A + \alpha(x)$, то $\lim_{x \rightarrow x_0} f(x) = A$.

◀ Пусть $f(x) = A + \alpha(x)$, где $\alpha(x)$ — б.м.ф. при $x \rightarrow x_0$, т. е. $\lim_{x \rightarrow x_0} \alpha(x) = 0$. Тогда

$$\left(\forall \varepsilon > 0 \exists \delta > 0 \forall x : 0 < |x - x_0| < \delta \right) \implies |\alpha(x)| < \varepsilon.$$

А так как по условию $f(x) = A + \alpha(x)$, то $\alpha(x) = f(x) - A$. Получаем

$$\left(\forall \varepsilon > 0 \exists \delta > 0 \forall x : 0 < |x - x_0| < \delta \right) \implies |f(x) - A| < \varepsilon.$$

А это и означает, что $\lim_{x \rightarrow x_0} f(x) = A$. ▶

Пример: Доказать, что $\lim_{x \rightarrow 2} (5 + x) = 7$.

◆ Функцию $5 + x$ можно представить в виде суммы числа 7 и б.м.ф. $x - 2$ (при $x \rightarrow 2$), т. е. выполнено равенство $5 + x = 7 + (x - 2)$. Следовательно, по теореме 2 получаем $\lim_{x \rightarrow 2} (5 + x) = 7$. ◆

48. ОСНОВНЫЕ ТЕОРЕМЫ О ПРЕДЕЛАХ

Рассмотрим теоремы, которые облегчают нахождение пределов функции. Формулировка и доказательство теорем для случаев, когда $x \rightarrow x_0$ и $x \rightarrow \infty$, аналогичны. В приводимых теоремах будем считать, что пределы $\lim_{x \rightarrow x_0} f(x)$, $\lim_{x \rightarrow x_0} \varphi(x)$ существуют.

Теорема 1. Предел суммы (разности) двух функций равен сумме (разности) их пределов:

$$\lim_{x \rightarrow x_0} (f(x) \pm \varphi(x)) = \lim_{x \rightarrow x_0} f(x) \pm \lim_{x \rightarrow x_0} \varphi(x).$$

◀ Пусть $\lim_{x \rightarrow x_0} f(x) = A$, $\lim_{x \rightarrow x_0} \varphi(x) = B$. Тогда по теореме 1 о связи функции, ее предела и б.м.ф., можно записать $f(x) = A + \alpha(x)$ и $\varphi(x) = B + \beta(x)$. Следовательно, $f(x) + \varphi(x) = A + B + (\alpha(x) + \beta(x))$. Здесь $\alpha(x) + \beta(x)$ — б.м.ф. как сумма б.м.ф. По теореме 2 о связи функции, ее предела и б.м.ф., можно записать $\lim_{x \rightarrow x_0} (f(x) + \varphi(x)) = A + B$, т. е.

$$\lim_{x \rightarrow x_0} (f(x) + \varphi(x)) = \lim_{x \rightarrow x_0} f(x) + \lim_{x \rightarrow x_0} \varphi(x). \quad \blacktriangleright$$

В случае разности функций доказательство аналогично.

Теорема справедлива для алгебраической суммы любого конечного числа функций.

Следствие 1. Функция может иметь только один предел при $x \rightarrow x_0$.

◀ Пусть $\lim_{x \rightarrow x_0} f(x) = A$ и $\lim_{x \rightarrow x_0} f(x) = B$. По теореме 1 имеем:

$$0 = \lim_{x \rightarrow x_0} (f(x) - f(x)) = \lim_{x \rightarrow x_0} f(x) - \lim_{x \rightarrow x_0} f(x) = A - B.$$

Отсюда $A - B = 0$, т. е. $A = B$. ▶

Теорема 2. Предел произведения двух функций равен произведению их пределов:

$$\lim_{x \rightarrow x_0} (f(x) \cdot \varphi(x)) = \lim_{x \rightarrow x_0} f(x) \cdot \lim_{x \rightarrow x_0} \varphi(x).$$

◀ Доказательство аналогично предыдущему, проведем его без особых пояснений. Так как $\lim_{x \rightarrow x_0} f(x) = A$, $\lim_{x \rightarrow x_0} \varphi(x) = B$, то

$$f(x) = A + \alpha(x), \quad \varphi(x) = B + \beta(x),$$

где $\alpha(x)$ и $\beta(x)$ — б.м.ф. Следовательно,

$$f(x) \cdot \varphi(x) = (A + \alpha(x)) \cdot (B + \beta(x)),$$

т. е.

$$f(x) \cdot \varphi(x) = AB + (A \cdot \beta(x) + B \cdot \alpha(x) + \alpha(x)\beta(x)).$$

Выражение в скобках есть б.м.ф. Поэтому

$$\lim_{x \rightarrow x_0} f(x) \cdot \varphi(x) = A \cdot B,$$

т. е.

$$\lim_{x \rightarrow x_0} (f(x)\varphi(x)) = \lim_{x \rightarrow x_0} f(x) \lim_{x \rightarrow x_0} \varphi(x). \quad \blacktriangleright$$

Отметим, что теорема справедлива для произведения любого конечного числа функций.

Следствие 2. *Постоянный множитель можно выносить за знак предела:* $\lim_{x \rightarrow x_0} c \cdot f(x) = c \cdot \lim_{x \rightarrow x_0} f(x)$.

$$\blacktriangleleft \lim_{x \rightarrow x_0} (c \cdot f(x)) = \lim_{x \rightarrow x_0} c \cdot \lim_{x \rightarrow x_0} f(x) = c \cdot \lim_{x \rightarrow x_0} f(x). \quad \blacktriangleright$$

Следствие 3. *Предел степени с натуральным показателем равен той же степени предела:* $\lim_{x \rightarrow x_0} (f(x))^n = \left(\lim_{x \rightarrow x_0} f(x) \right)^n$. В частности, $\lim_{x \rightarrow x_0} x^n = x_0^n$, $n \in \mathbb{N}$.

$$\blacktriangleleft \lim_{x \rightarrow x_0} (f(x))^n = \lim_{x \rightarrow x_0} \underbrace{(f(x) \cdot f(x) \cdot \dots \cdot f(x))}_n = \lim_{x \rightarrow x_0} f(x) \cdot \dots \cdot \lim_{x \rightarrow x_0} f(x) = \left(\lim_{x \rightarrow x_0} f(x) \right)^n. \quad \blacktriangleright$$

n сомножителей

Теорема 3. *Предел дроби равен пределу числителя, деленному на предел знаменателя, если предел знаменателя не равен нулю:*

$$\lim_{x \rightarrow x_0} \frac{f(x)}{\varphi(x)} = \frac{\lim_{x \rightarrow x_0} f(x)}{\lim_{x \rightarrow x_0} \varphi(x)} \quad \left(\lim_{x \rightarrow x_0} \varphi(x) \neq 0 \right).$$

\blacktriangleleft Доказательство аналогично предыдущему. Из равенств

$$\lim_{x \rightarrow x_0} f(x) = A \quad \text{и} \quad \lim_{x \rightarrow x_0} \varphi(x) = B \neq 0$$

следуют соотношения $f(x) = A + \alpha(x)$ и $\varphi(x) = B + \beta(x)$. Тогда

$$\frac{f(x)}{\varphi(x)} = \frac{A + \alpha(x)}{B + \beta(x)} = \frac{A}{B} + \left(\frac{A + \alpha(x)}{B + \beta(x)} - \frac{A}{B} \right) = \frac{A}{B} + \frac{B \cdot \alpha(x) - A \cdot \beta(x)}{B^2 + B \cdot \beta(x)}.$$

Второе слагаемое есть б.м.ф. как частное от деления б.м.ф. на функцию, имеющую отличный от нуля предел.

$$\text{Поэтому } \lim_{x \rightarrow x_0} \frac{f(x)}{g(x)} = \frac{A}{B}, \text{ т. е. } \lim_{x \rightarrow x_0} \frac{f(x)}{\varphi(x)} = \frac{\lim_{x \rightarrow x_0} f(x)}{\lim_{x \rightarrow x_0} \varphi(x)}. \quad \blacktriangleright$$

Рассмотрим *примеры*: 1) Вычислить $\lim_{x \rightarrow 1} (3x^2 - 2x + 7)$.

$$\blacklozenge \lim_{x \rightarrow 1} (3x^2 - 2x + 7) = \lim_{x \rightarrow 1} 3x^2 - \lim_{x \rightarrow 1} 2x + \lim_{x \rightarrow 1} 7 = 3 \left(\lim_{x \rightarrow 1} x \right)^2 - 2 \lim_{x \rightarrow 1} x + 7 = 3 \cdot 1 - 2 + 7 = 8. \quad \blacklozenge$$

2) Вычислить $\lim_{x \rightarrow 2} \frac{x^2 + 14x - 32}{x^2 - 6x + 8}$.

\blacklozenge Здесь применить теорему о пределе дроби нельзя, т.к. предел знаменателя, при $x \rightarrow 2$, равен 0. Кроме того, предел числителя равен 0. В таких случаях говорят, что имеем *неопределенность вида* $\frac{0}{0}$. Для ее раскрытия разложим числитель и знаменатель дроби на множители, затем сократим дробь на $x - 2 \neq 0$ ($x \rightarrow 2$, но $x \neq 2$):

$$\begin{aligned} \lim_{x \rightarrow 2} \frac{x^2 + 14x - 32}{x^2 - 6x + 8} &= \lim_{x \rightarrow 2} \frac{(x-2)(x+16)}{(x-2)(x-4)} = \\ &= \lim_{x \rightarrow 2} \frac{x+16}{x-4} = \frac{\lim_{x \rightarrow 2} (x+16)}{\lim_{x \rightarrow 2} (x-4)} = \frac{2+16}{2-4} = -9. \quad \blacklozenge \end{aligned}$$

3) Вычислить $\lim_{x \rightarrow \infty} \frac{2x^2 + 3x + 1}{4x^2 + 2x + 5}$.

\blacklozenge Здесь мы имеем дело с *неопределенностью вида* $\frac{\infty}{\infty}$. Для нахождения предела данной дроби разделим числитель и знаменатель на x^2 :

$$\lim_{x \rightarrow \infty} \frac{2x^2 + 3x + 1}{4x^2 + 2x + 5} = \lim_{x \rightarrow \infty} \frac{2 + \frac{3}{x} + \frac{1}{x^2}}{4 + \frac{2}{x} + \frac{5}{x^2}} = \frac{\lim_{x \rightarrow \infty} \left(2 + \frac{3}{x} + \frac{1}{x^2} \right)}{\lim_{x \rightarrow \infty} \left(4 + \frac{2}{x} + \frac{5}{x^2} \right)} = \frac{1}{2}.$$

Функция $2 + \frac{3}{x} + \frac{1}{x^2}$ есть сумма числа 2 и б.м.ф., поэтому

$$\lim_{x \rightarrow \infty} \left(2 + \frac{3}{x} + \frac{1}{x^2} \right) = 2; \quad \lim_{x \rightarrow \infty} \left(4 + \frac{2}{x} + \frac{5}{x^2} \right) = 4. \quad \blacklozenge$$

49. ПРИЗНАКИ СУЩЕСТВОВАНИЯ ПРЕДЕЛОВ

Не всякая функция, даже ограниченная, имеет предел. Например, функция $y = \sin x$ при $x \rightarrow \infty$ предела не имеет. Во многих вопросах анализа бывает достаточно только убедиться в существовании предела функции. В таких случаях пользуются признаками существования предела.

Теорема 1 (о пределе промежуточной функции). Если функция $f(x)$ заключена между двумя функциями $\varphi(x)$ и $g(x)$, стремящимися к одному и тому же пределу, то она также стремится к этому пределу, т. е. если

$$\lim_{x \rightarrow x_0} \varphi(x) = A, \quad \lim_{x \rightarrow x_0} g(x) = A, \quad (1)$$

$$\varphi(x) \leq f(x) \leq g(x), \quad (2)$$

то

$$\lim_{x \rightarrow x_0} f(x) = A.$$

◀ Из равенств (1) вытекает, что для любого $\varepsilon > 0$ существуют две окрестности δ_1 и δ_2 точки x_0 , в одной из которых выполняется неравенство $|\varphi(x) - A| < \varepsilon$, т. е.

$$-\varepsilon < \varphi(x) - A < \varepsilon, \quad (3)$$

а в другой $|g(x) - A| < \varepsilon$, т. е.

$$-\varepsilon < g(x) - A < \varepsilon. \quad (4)$$

Пусть δ — меньшее из чисел δ_1 и δ_2 . Тогда в δ -окрестности точки x_0 выполняются оба неравенства (3) и (4).

Из неравенств (2) находим, что

$$\varphi(x) - A \leq f(x) - A \leq g(x) - A. \quad (5)$$

С учетом неравенств (3) и (4) из неравенства (5) следуют неравенства $-\varepsilon < f(x) - A < \varepsilon$ или $|f(x) - A| < \varepsilon$.

Мы доказали, что

$$\forall \varepsilon > 0 \exists \delta > 0 \forall x : 0 < |x - x_0| < \delta \implies |f(x) - A| < \varepsilon,$$

то есть $\lim_{x \rightarrow x_0} f(x) = A$. ▶

Теорему 1 иногда шутливо называют «принципом двух милиционеров». Роль «милиционеров» играют функции $\varphi(x)$ и $g(x)$, функция $f(x)$ «следует за милиционерами».

Теорема 2 (о пределе монотонной функции). Если функция $f(x)$ монотонна и ограничена при $x < x_0$ или при $x > x_0$, то существует соответственно ее левый предел $\lim_{x \rightarrow x_0 - 0} f(x) = f(x_0 - 0)$ или ее правый предел $\lim_{x \rightarrow x_0 + 0} f(x) = f(x_0 + 0)$.

Доказательство этой теоремы не приводим.

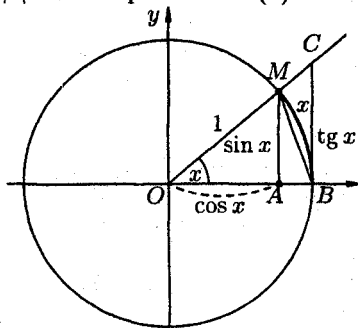
Следствие 1. Ограниченная монотонная последовательность $x_n, n \in \mathbb{N}$ имеет предел.

50. ПЕРВЫЙ ЗАМЕЧАТЕЛЬНЫЙ ПРЕДЕЛ

При вычислении пределов выражений, содержащих тригонометрические функции, часто используют предел

$$\lim_{x \rightarrow 0} \frac{\sin x}{x} = 1, \quad (1)$$

называемый *первым замечательным пределом*. Читается: предел отношения синуса к его аргументу равен единице, когда аргумент стремится к нулю. Докажем равенство (1).



◀ Возьмем круг радиуса 1, обозначим радианную меру угла MOB через x . Пусть $0 < x < \frac{\pi}{2}$. На рисунке $AM = \sin x$, дуга MB численно равна центральному углу x , $BC = \operatorname{tg} x$. Очевидно, имеем $S_{\triangle MOB} < S_{\text{сектора } MOB} < S_{\triangle COB}$. На основании соответствующих формул геометрии получаем $\frac{1}{2} \sin x < \frac{1}{2} x < \frac{1}{2} \operatorname{tg} x$. Разделим неравенства на $\frac{1}{2} \sin x > 0$, получим $1 < \frac{x}{\sin x} < \frac{1}{\cos x}$ или $\cos x < \frac{\sin x}{x} < 1$. Так как $\lim_{x \rightarrow 0} \cos x = 1$ и $\lim_{x \rightarrow 0} 1 = 1$, то по признаку

(о пределе промежуточной функции) существования пределов

$$\lim_{\substack{x \rightarrow 0 \\ (x > 0)}} \frac{\sin x}{x} = 1. \quad (2)$$

Пусть теперь $x < 0$. Имеем $\frac{\sin x}{x} = \frac{\sin(-x)}{-x}$, где $-x > 0$. Поэтому

$$\lim_{\substack{x \rightarrow 0 \\ (x < 0)}} \frac{\sin x}{x} = 1. \quad (3)$$

Из равенств (2) и (3) вытекает равенство (1). ▶

Примеры: 1) Найти $\lim_{x \rightarrow 0} \frac{\sin 3x}{2x}$.

◆ Имеем неопределенность вида $\frac{0}{0}$. Теорема о пределе дроби неприменима. Обозначим $3x = t$; тогда при $x \rightarrow 0$ и $t \rightarrow 0$, поэтому

$$\lim_{x \rightarrow 0} \frac{\sin 3x}{2x} = \lim_{t \rightarrow 0} \frac{\sin t}{2 \cdot \frac{t}{3}} = \lim_{t \rightarrow 0} \frac{3}{2} \cdot \frac{\sin t}{t} = \frac{3}{2} \lim_{t \rightarrow 0} \frac{\sin t}{t} = \frac{3}{2} \cdot 1 = \frac{3}{2} \quad \blacklozenge$$

2) Найти $\lim_{x \rightarrow 0} \frac{\operatorname{tg} x}{x}$.

$$\blacklozenge \lim_{x \rightarrow 0} \frac{\operatorname{tg} x}{x} = \lim_{x \rightarrow 0} \frac{\sin x}{x} \cdot \frac{1}{\cos x} = \lim_{x \rightarrow 0} \frac{\sin x}{x} \cdot \frac{\lim_{x \rightarrow 0} 1}{\lim_{x \rightarrow 0} \cos x} = 1 \cdot \frac{1}{1} = 1. \quad \blacklozenge$$

51. ВТОРОЙ ЗАМЕЧАТЕЛЬНЫЙ ПРЕДЕЛ

Как известно, предел числовой последовательности $x_n = \left(1 + \frac{1}{n}\right)^n$, $n \in \mathbb{N}$ имеет предел, равный e :

$$\lim_{n \rightarrow \infty} \left(1 + \frac{1}{n}\right)^n = e. \quad (1)$$

Докажем, что к числу e стремится и функция $x_n = \left(1 + \frac{1}{x}\right)^x$ при $x \rightarrow \infty$ ($x \in \mathbb{R}$):

$$\lim_{x \rightarrow \infty} \left(1 + \frac{1}{x}\right)^x = e. \quad (2)$$

1. Пусть $x \rightarrow +\infty$. Каждое значение x заключено между двумя положительными целыми числами: $n \leq x < n+1$, где $n = [x]$ — это целая часть x . Отсюда следует $\frac{1}{n+1} < \frac{1}{x} \leq \frac{1}{n}$, $1 + \frac{1}{n+1} < 1 + \frac{1}{x} \leq 1 + \frac{1}{n}$, поэтому

$$\left(1 + \frac{1}{n+1}\right)^n < \left(1 + \frac{1}{x}\right)^x \leq \left(1 + \frac{1}{n}\right)^{n+1}.$$

Если $x \rightarrow +\infty$, то $n \rightarrow \infty$. Поэтому, согласно (1), имеем:

$$\lim_{n \rightarrow \infty} \left(1 + \frac{1}{n+1}\right)^n = \frac{\lim_{n \rightarrow \infty} \left(1 + \frac{1}{n+1}\right)^{n+1}}{\lim_{n \rightarrow \infty} \left(1 + \frac{1}{n+1}\right)} = \frac{e}{1} = e,$$

$$\lim_{n \rightarrow \infty} \left(1 + \frac{1}{n}\right)^{n+1} = \lim_{n \rightarrow \infty} \left(1 + \frac{1}{n}\right)^n \cdot \lim_{n \rightarrow \infty} \left(1 + \frac{1}{n}\right) = e \cdot 1 = e.$$

По признаку (о пределе промежуточной функции) существования пределов

$$\lim_{x \rightarrow +\infty} \left(1 + \frac{1}{x}\right)^x = e. \quad (3)$$

2. Пусть $x \rightarrow -\infty$. Сделаем подстановку $-x = t$, тогда

$$\begin{aligned} \lim_{x \rightarrow -\infty} \left(1 + \frac{1}{x}\right)^x &= \lim_{t \rightarrow +\infty} \left(1 - \frac{1}{t}\right)^{-t} = \lim_{t \rightarrow +\infty} \left(\frac{t}{t-1}\right)^t = \lim_{t \rightarrow +\infty} \left(1 + \frac{1}{t-1}\right)^t = \\ &= \lim_{t \rightarrow +\infty} \left(1 + \frac{1}{t-1}\right)^{t-1} \cdot \lim_{t \rightarrow +\infty} \left(1 + \frac{1}{t-1}\right)^1 = e \cdot 1 = e. \end{aligned} \quad (4)$$

Из равенств (3) и (4) вытекает равенство (2).

Если в равенстве (2) положить $\frac{1}{x} = \alpha$ ($\alpha \rightarrow 0$ при $x \rightarrow \infty$), оно запишется в виде

$$\lim_{\alpha \rightarrow 0} (1 + \alpha)^{\frac{1}{\alpha}} = e. \quad (5)$$

Равенства (2) и (5) называются *вторым замечательным пределом*. Они широко используются при вычислении пределов. В приложениях анализа большую роль играет показательная функция с основанием e . Функция $y = e^x$ называется *экспоненциальной*, употребляется также обозначение $e^x = \exp(x)$.

Пример: Найти $\lim_{x \rightarrow \infty} \left(1 + \frac{2}{x}\right)^x$.

◆ Обозначим $x = 2t$, очевидно, $t \rightarrow \infty$ при $x \rightarrow \infty$. Имеем

$$\begin{aligned} \lim_{x \rightarrow \infty} \left(1 + \frac{2}{x}\right)^x &= \lim_{t \rightarrow \infty} \left(1 + \frac{1}{t}\right)^{2t} = \\ &= \lim_{t \rightarrow \infty} \left(1 + \frac{1}{t}\right)^t \cdot \lim_{t \rightarrow \infty} \left(1 + \frac{1}{t}\right)^t = e \cdot e = e^2. \end{aligned} \quad \blacklozenge$$

52. СРАВНЕНИЕ БЕСКОНЕЧНО МАЛЫХ ФУНКЦИЙ

Как известно, сумма, разность и произведение двух б.м.ф. есть функция бесконечно малая. Отношение же двух б.м.ф. может вести себя различным образом: быть конечным числом, быть бесконечно большой функцией, бесконечно малой или вообще не стремиться ни к какому пределу.

Две б.м.ф. сравниваются между собой с помощью их отношения.

Пусть $\alpha = \alpha(x)$ и $\beta = \beta(x)$ есть б.м.ф. при $x \rightarrow x_0$, т. е. $\lim_{x \rightarrow x_0} \alpha(x) = 0$ и $\lim_{x \rightarrow x_0} \beta(x) = 0$.

1. Если $\lim_{x \rightarrow x_0} \frac{\alpha}{\beta} = A \neq 0$, ($A \in \mathbb{R}$), то α и β называются *бесконечно малыми одного порядка*.
2. Если $\lim_{x \rightarrow x_0} \frac{\alpha}{\beta} = 0$, то α называется *бесконечно малой более высокого порядка*, чем β .
3. Если $\lim_{x \rightarrow x_0} \frac{\alpha}{\beta} = \infty$, то α называется *бесконечно малой более низкого порядка*, чем β .
4. Если $\lim_{x \rightarrow x_0} \frac{\alpha}{\beta}$ не существует, то α и β называются *несравнимыми бесконечно малыми*.

Отметим, что таковы же правила сравнения б.м.ф. при $x \rightarrow \pm\infty$, $x \rightarrow x_0 \pm 0$.

Примеры: 1. Пусть $\alpha = 3x^2$, $\beta = 14x^2$. При $x \rightarrow 0$ это б.м.ф. одного порядка, так как $\lim_{x \rightarrow 0} \frac{\alpha}{\beta} = \lim_{x \rightarrow 0} \frac{3x^2}{14x^2} = \frac{3}{14} \neq 0$. Говорят, что б.м.ф. α и β одного порядка стремятся к нулю с примерно одинаковой скоростью.

2. Пусть $\alpha = 3x^4$, $\beta = 7x$. При $x \rightarrow 0$ функция α есть б.м.ф. более высокого порядка, чем β , так как $\lim_{x \rightarrow 0} \frac{\alpha}{\beta} = \lim_{x \rightarrow 0} \frac{3x^4}{7x} = \lim_{x \rightarrow 0} \frac{3x^3}{7} = 0$. В этом случае б.м.ф. α стремится к нулю быстрее, чем β .

3. Пусть $\alpha = \operatorname{tg} x$, $\beta = x^2$. Так как

$$\lim_{x \rightarrow 0} \frac{\alpha}{\beta} = \lim_{x \rightarrow 0} \frac{\operatorname{tg} x}{x^2} = \lim_{x \rightarrow 0} \frac{\sin x}{x} \cdot \frac{1}{\cos x} \cdot \frac{1}{x} = \infty,$$

то α есть б.м.ф. более низкого порядка, чем β .

4. Функции $\alpha = x \cdot \sin \frac{1}{x}$ и $\beta = x$ при $x \rightarrow 0$ являются несравнимыми б.м.ф., так как предел $\lim_{x \rightarrow 0} \frac{\alpha}{\beta} = \lim_{x \rightarrow 0} \frac{x \cdot \sin \frac{1}{x}}{x} = \lim_{x \rightarrow 0} \sin \frac{1}{x}$ не существует.

53. ЭКВИВАЛЕНТНЫЕ БЕСКОНЕЧНО МАЛЫЕ И ОСНОВНЫЕ ТЕОРЕМЫ О НИХ

Среди бесконечно малых функций одного порядка особую роль играют так называемые эквивалентные бесконечно малые.

Если $\lim_{x \rightarrow x_0} \frac{\alpha}{\beta} = 1$, то α и β называются *эквивалентными бесконечно малыми* (при $x \rightarrow x_0$); это обозначается так $\alpha \sim \beta$.

Например, $\sin x \sim x$ при $x \rightarrow 0$, т.к. $\lim_{x \rightarrow 0} \frac{\sin x}{x} = 1$; $\operatorname{tg} x \sim x$ при $x \rightarrow 0$, т.к. $\lim_{x \rightarrow 0} \frac{\operatorname{tg} x}{x} = 1$.

1. Основные свойства эквивалентных бесконечно малых

Теорема 1. Предел отношения двух бесконечно малых функций не изменится, если каждую или одну из них заменить эквивалентной ей бесконечно малой.

◀ Пусть $\alpha \sim \alpha'$ и $\beta \sim \beta'$ при $x \rightarrow x_0$. Тогда

$$\lim_{x \rightarrow x_0} \frac{\alpha}{\beta} = \lim_{x \rightarrow x_0} \left(\frac{\alpha}{\alpha'} \cdot \frac{\alpha'}{\beta'} \cdot \frac{\beta'}{\beta} \right) = \lim_{x \rightarrow x_0} \frac{\alpha}{\alpha'} \cdot \lim_{x \rightarrow x_0} \frac{\beta'}{\beta} \cdot \lim_{x \rightarrow x_0} \frac{\alpha'}{\beta'} = 1 \cdot 1 \cdot \lim_{x \rightarrow x_0} \frac{\alpha'}{\beta'}$$

т. е. $\lim_{x \rightarrow x_0} \frac{\alpha}{\beta} = \lim_{x \rightarrow x_0} \frac{\alpha'}{\beta'}$.

Очевидно также $\lim_{x \rightarrow x_0} \frac{\alpha}{\beta} = \lim_{x \rightarrow x_0} \frac{\alpha'}{\beta} = \lim_{x \rightarrow x_0} \frac{\alpha}{\beta'}$. ▶

Теорема 2. Разность двух эквивалентных бесконечно малых функций есть бесконечно малая более высокого порядка, чем каждая из них.

◀ Пусть $\alpha \sim \beta$ при $x \rightarrow x_0$. Тогда

$$\lim_{x \rightarrow x_0} \frac{\alpha - \beta}{\alpha} = \lim_{x \rightarrow x_0} \left(1 - \frac{\beta}{\alpha} \right) = 1 - \lim_{x \rightarrow x_0} \frac{\beta}{\alpha} = 1 - 1 = 0,$$

аналогично $\lim_{x \rightarrow x_0} \frac{\alpha - \beta}{\beta} = 0$. ▶

Справедливо и обратное утверждение: если разность б.м.ф. α и β есть бесконечно малая высшего порядка, чем α или β , то α и β — эквивалентные бесконечно малые.

Действительно: так как $\lim_{x \rightarrow x_0} \frac{\alpha - \beta}{\alpha} = 0$, то $\lim_{x \rightarrow x_0} \left(1 - \frac{\beta}{\alpha} \right) = 0$, т. е.

$1 - \lim_{x \rightarrow x_0} \frac{\beta}{\alpha} = 0$. Отсюда $\lim_{x \rightarrow x_0} \frac{\beta}{\alpha} = 1$, т. е. $\alpha \sim \beta$. Аналогично, если

$\lim_{x \rightarrow x_0} \frac{\alpha - \beta}{\beta} = 0$, то $\alpha \sim \beta$.

Теорема 3. Сумма конечного числа бесконечно малых функций разных порядков эквивалентна слагаемому низшего порядка.

◀ Докажем теорему для двух функций. Пусть $\alpha \rightarrow 0$, $\beta \rightarrow 0$ при $x \rightarrow x_0$, причем α — б.м.ф. высшего порядка, чем β , т. е. $\lim_{x \rightarrow x_0} \frac{\alpha}{\beta} = 0$.

Тогда

$$\lim_{x \rightarrow x_0} \frac{\alpha + \beta}{\beta} = \lim_{x \rightarrow x_0} \left(\frac{\alpha}{\beta} + 1 \right) = \lim_{x \rightarrow x_0} \frac{\alpha}{\beta} + 1 = 0 + 1 = 1.$$

Следовательно, $\alpha + \beta \sim \beta$ при $x \rightarrow x_0$. ▶

Слагаемое, эквивалентное сумме бесконечно малых, называется *главной частью этой суммы*.

Замена суммы б.м.ф. ее главной частью называется *отбрасыванием бесконечно малых высшего порядка*.

Пример: $\lim_{x \rightarrow 0} \frac{3x + 7x^2}{\sin 2x} = \lim_{x \rightarrow 0} \frac{3x}{\sin 2x} = \lim_{x \rightarrow 0} \frac{3x}{2x} = \frac{3}{2}$, поскольку $3x + 7x^2 \sim 3x$ и $\sin 2x \sim 2x$ при $x \rightarrow 0$.

54. ПРИМЕНЕНИЕ ЭКВИВАЛЕНТНЫХ БЕСКОНЕЧНО МАЛЫХ ФУНКЦИЙ

1. Применение эквивалентных б.м.ф. к вычислению пределов

Для раскрытия неопределённостей вида $\frac{0}{0}$ часто бывают полезным применять принцип замены бесконечно малых эквивалентными и другие свойства эквивалентных бесконечно малых функций. Как известно, $\sin x \sim x$ при $x \rightarrow 0$, $\operatorname{tg} x \sim x$ при $x \rightarrow 0$. Приведем еще примеры эквивалентных б.м.ф.

1. Покажем, что $1 - \cos x \sim \frac{x^2}{2}$ при $x \rightarrow 0$.

$$\diamond \lim_{x \rightarrow 0} \frac{1 - \cos x}{\frac{x^2}{2}} = \lim_{x \rightarrow 0} \frac{2 \sin^2 \frac{x}{2}}{\frac{x^2}{2}} = \lim_{\substack{x \rightarrow 0 \\ (\frac{x}{2} \rightarrow 0)}} \frac{\sin \frac{x}{2}}{\frac{x}{2}} \cdot \frac{\sin \frac{x}{2}}{\frac{x}{2}} = 1 \cdot 1 = 1. \quad \diamond$$

2. Найдем $\lim_{x \rightarrow 0} \frac{\arcsin x}{x}$.

◊ Обозначим $\arcsin x = t$. Тогда $x = \sin t$ и $t \rightarrow 0$ при $x \rightarrow 0$. Поэтому

$$\lim_{x \rightarrow 0} \frac{\arcsin x}{x} = \lim_{t \rightarrow 0} \frac{t}{\sin t} = \lim_{t \rightarrow 0} \frac{1}{\frac{\sin t}{t}} = \frac{1}{1} = 1.$$

Следовательно, $\arcsin x \sim x$ при $x \rightarrow 0$. ◊

3. Покажем, что $\sqrt{1+x} - 1 \sim \frac{x}{2}$ при $x \rightarrow 0$.

◆ Так как

$$\begin{aligned} \lim_{x \rightarrow 0} \frac{\sqrt{1+x} - 1}{\frac{x}{2}} &= \lim_{x \rightarrow 0} \frac{(\sqrt{1+x} - 1)(\sqrt{1+x} + 1)}{\frac{x}{2} \cdot (\sqrt{1+x} + 1)} = \\ &= \lim_{x \rightarrow 0} \frac{x}{\frac{x}{2}(\sqrt{1+x} + 1)} = \lim_{x \rightarrow 0} \frac{2}{\sqrt{1+x} + 1} = \frac{2}{2} = 1, \end{aligned}$$

то $\sqrt{1+x} - 1 \sim \frac{x}{2}$ при $x \rightarrow 0$. ◆

Ниже приведены *важнейшие эквивалентности*, которые используются при вычислении пределов:

1. $\sin x \sim x$ при $x \rightarrow 0$;
2. $\operatorname{tg} x \sim x$ ($x \rightarrow 0$);
3. $\arcsin x \sim x$ ($x \rightarrow 0$);
4. $\arctg x \sim x$ ($x \rightarrow 0$);
5. $1 - \cos x \sim \frac{x^2}{2}$ ($x \rightarrow 0$);
6. $e^x - 1 \sim x$ ($x \rightarrow 0$);
7. $a^x - 1 \sim x \cdot \ln a$ ($x \rightarrow 0$);
8. $\ln(1+x) \sim x$ ($x \rightarrow 0$);
9. $\log_a(1+x) \sim x \cdot \log_a e$ ($x \rightarrow 0$);
10. $(1+x)^k - 1 \sim k \cdot x$, $k > 0$ ($x \rightarrow 0$); в частности, $\sqrt{1+x} - 1 \sim 1 + \frac{x}{2}$.

Примеры: 1. Найти $\lim_{x \rightarrow 0} \frac{\operatorname{tg} 2x}{\sin 3x}$.

◆ Так как $\operatorname{tg} 2x \sim 2x$, $\sin 3x \sim 3x$ при $x \rightarrow 0$, то

$$\lim_{x \rightarrow 0} \frac{\operatorname{tg} 2x}{\sin 3x} = \lim_{x \rightarrow 0} \frac{2x}{3x} = \frac{2}{3}. \quad \blacklozenge$$

2) Найти $\lim_{x \rightarrow \infty} x(e^{1/x} - 1)$.

◆ Обозначим $\frac{1}{x} = t$, из $x \rightarrow \infty$ следует $t \rightarrow 0$. Поэтому

$$\lim_{x \rightarrow \infty} x(e^{1/x} - 1) = \lim_{t \rightarrow 0} \frac{1}{t}(e^t - 1) = \lim_{t \rightarrow 0} \frac{1}{t} \cdot t = \lim_{t \rightarrow 0} 1 = 1. \quad \blacklozenge$$

3) Найти $\lim_{x \rightarrow 1} \frac{\arcsin(x-1)}{x^2 - 5x + 4}$.

◆ Так как $\arcsin(x-1) \sim (x-1)$ при $x \rightarrow 1$, то

$$\lim_{x \rightarrow 1} \frac{\arcsin(x-1)}{x^2 - 5x + 4} = \lim_{x \rightarrow 1} \frac{(x-1)}{(x-1)(x-4)} = \lim_{x \rightarrow 1} \frac{1}{x-4} = -\frac{1}{3}. \quad \blacklozenge$$

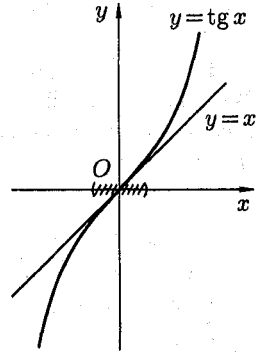
2. Применение эквивалентных б.м.ф. к приближенным вычислениям

Если $\alpha \sim \beta$, то, отбрасывая в равенстве $\alpha = \beta + (\alpha - \beta)$ бесконечно малую более высокого порядка, т. е. $\alpha - \beta$, получим приближенное равенство $\alpha \approx \beta$.

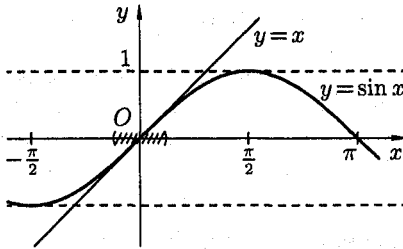
Оно позволяет выражать одни бесконечно малые через другие. Приведенные выше важнейшие эквивалентности служат источником ряда приближенных формул.

Приведенные формулы справедливы при малых x , и они тем точнее, чем меньше x .

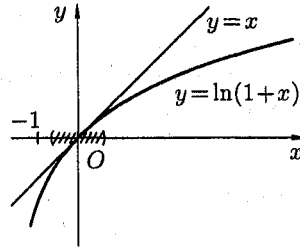
Например, графики функций $y = \operatorname{tg} x$ и $y = x$ в окрестности точки 0 практически не различимы, а кривая $y = \sin x$ в окрестности точки 0 сливается с прямой $y = x$.



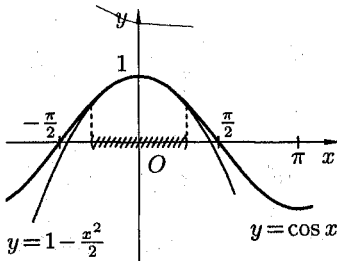
$$\operatorname{tg} x \approx x, \quad (x \rightarrow 0)$$



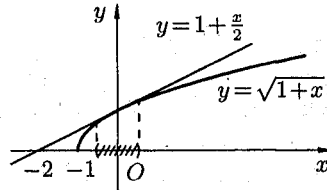
$$\sin x \approx x, \quad (x \rightarrow 0)$$



$$\ln(1+x) \approx x, \quad (x \rightarrow 0)$$



$$\cos x \approx 1 - \frac{x^2}{2}, \quad (x \rightarrow 0)$$



$$\sqrt{1+x} \approx 1 + \frac{x}{2}, \quad (x \rightarrow 0)$$

Пример: $\ln 1,032 = \ln(1 + 0,032) \approx 0,032$

По таблице логарифмов $\ln 1,032 = 0,031498 \dots$

55. НЕПРЕРЫВНОСТЬ ФУНКЦИЙ

1. Непрерывность функции в точке

Пусть функция $y = f(x)$ определена в точке x_0 и в некоторой окрестности этой точки. Функция $y = f(x)$ называется *непрерывной в точке x_0* , если существует предел функции в этой точке и он равен значению функции в этой точке, т. е.

$$\lim_{x \rightarrow x_0} f(x) = f(x_0). \quad (1)$$

Равенство (1) означает выполнение трех условий:

- 1) функция $f(x)$ определена в точке x_0 и в ее окрестности;
- 2) функция $f(x)$ имеет предел при $x \rightarrow x_0$;
- 3) предел функции в точке x_0 равен значению функции в этой точке, т. е. выполняется равенство (1).

Так как $\lim_{x \rightarrow x_0} x = x_0$, то равенство (1) можно записать в виде

$$\lim_{x \rightarrow x_0} f(x) = f(\lim_{x \rightarrow x_0} x) = f(x_0). \quad (2)$$

Это означает, что *при нахождении предела непрерывной функции $f(x)$ можно перейти к пределу под знаком функции, то есть в функцию $f(x)$ вместо аргумента x подставить его предельное значение x_0* .

Примеры:

1) $\lim_{x \rightarrow 0} e^{\frac{\sin x}{x}} = e^{\lim_{x \rightarrow 0} \frac{\sin x}{x}} = e$. В первом равенстве функция и предел поменялись местами (см. (2)) в силу непрерывности функции e^x .

2) Вычислить $A = \lim_{x \rightarrow 0} \frac{\ln(1+x)}{x}$.

$$\lim_{x \rightarrow 0} \frac{\ln(1+x)}{x} = \lim_{x \rightarrow 0} \frac{1}{x} \cdot \ln(1+x) = \lim_{x \rightarrow 0} \ln(1+x)^{\frac{1}{x}} = \ln \left(\lim_{x \rightarrow 0} (1+x)^{\frac{1}{x}} \right) = \ln e = 1.$$

Отметим, $\ln(1+x) \sim x$ при $x \rightarrow 0$.

Можно дать еще одно определение непрерывности функции, опираясь на понятия приращения аргумента и функции.

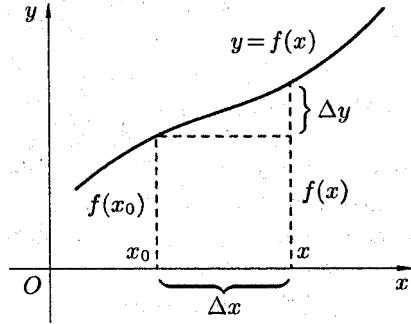
Пусть функция $y = f(x)$ определена в некотором интервале $(a; b)$. Возьмем произвольную точку $x_0 \in (a; b)$. Для любого $x \in (a; b)$ разность $x - x_0$ называется *приращением аргумента x в точке x_0* и обозначается Δx («дельта x »): $\Delta x = x - x_0$. Отсюда $x = x_0 + \Delta x$.

Разность соответствующих значений функций $f(x) - f(x_0)$ называется *приращением функции $f(x)$ в точке x_0* и обозначается Δy (или Δf или $\Delta f(x_0)$): $\Delta y = f(x) - f(x_0)$ или $\Delta y = f(x_0 + \Delta x) - f(x_0)$.

Очевидно, приращения Δx и Δy могут быть как положительными, так и отрицательными числами.

Запишем равенство (1) в новых обозначениях. Так как условия $x \rightarrow x_0$ и $x - x_0 \rightarrow 0$ одинаковы, то равенство (1) принимает вид $\lim_{x \rightarrow x_0} (f(x) - f(x_0)) = 0$ или

$$\lim_{\Delta x \rightarrow 0} \Delta y = 0. \quad (3)$$



Полученное равенство (3) является еще одним определением непрерывности функции в точке: функция $y = f(x)$ называется *непрерывной в точке x_0* , если она определена в точке x_0 и ее окрестности и выполняется равенство (3), т. е. бесконечно малому приращению аргумента соответствует бесконечно малое приращение функции.

Исследуя непрерывность функции в точке, применяют либо первое (равенство (1)), либо второе (равенство (3)) определение.

Пример: Исследовать на непрерывность функцию $y = \sin x$.

♦ Функцию $y = \sin x$ определена при всех $x \in \mathbb{R}$.

Возьмем произвольную точку x и найдем приращение Δy :

$$\Delta y = \sin(x + \Delta x) - \sin x = 2 \cos\left(x + \frac{\Delta x}{2}\right) \cdot \sin \frac{\Delta x}{2}.$$

Тогда $\lim_{\Delta x \rightarrow 0} \Delta y = \lim_{\Delta x \rightarrow 0} 2 \cos\left(x + \frac{\Delta x}{2}\right) \cdot \sin \frac{\Delta x}{2} = 0$, так как произведение ограниченной функции и б.м.ф. есть б.м.ф.

Согласно определению (3), функция $y = \sin x$ непрерывна в точке x . ♦

Аналогично доказывается, что функция $y = \cos x$ также непрерывна.

2. Непрерывность функции в интервале и на отрезке

Функция $y = f(x)$ называется *непрерывной в интервале (a, b)* , если она непрерывна в каждой точке этого интервала.

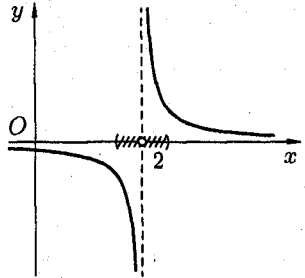
Функция $y = f(x)$ называется *непрерывной на отрезке $[a, b]$* , если она непрерывна в интервале (a, b) и в точке $x = a$ непрерывна справа (т. е. $\lim_{x \rightarrow a+0} f(x) = f(a)$), а в точке $x = b$ непрерывна слева (т. е. $\lim_{x \rightarrow b-0} f(x) = f(b)$).

56. ТОЧКИ РАЗРЫВА ФУНКЦИИ И ИХ КЛАССИФИКАЦИЯ

Точки, в которых нарушается непрерывность функции, называются *точками разрыва этой функции*. Если $x = x_0$ — точка разрыва функции $y = f(x)$, то в ней не выполняется по крайней мере одно из условий первого определения непрерывности функции, а именно:

1. Функция определена в окрестности точки x_0 , но не определена в самой точке x_0 .

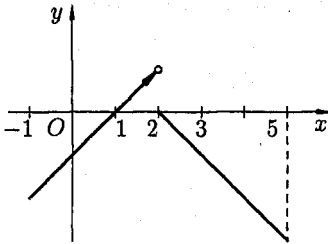
Например, функция $y = \frac{1}{x-2}$ не определена в точке $x_0 = 2$.



2. Функция определена в точке x_0 и ее окрестности, но не существует предела $f(x)$ при $x \rightarrow x_0$.

Например, функция

$$f(x) = \begin{cases} x-1, & \text{если } -1 \leq x < 2; \\ 2-x, & \text{если } 2 \leq x \leq 5; \end{cases}$$



определена в точке $x_0 = 2$ ($f(2) = 0$), однако в точке $x_0 = 2$ имеет разрыв, т.к. эта функция не имеет предела при $x \rightarrow 2$:

$$\lim_{x \rightarrow 2-0} f(x) = 1, \text{ а } \lim_{x \rightarrow 2+0} f(x) = 0.$$

3. Функция определена в точке x_0 и ее окрестности, существует $\lim_{x \rightarrow x_0} f(x)$, но этот предел не равен значению функции в точке x_0 :

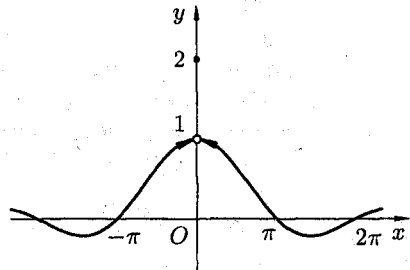
$$\lim_{x \rightarrow x_0} f(x) \neq f(x_0).$$

Например, функция

$$g(x) = \begin{cases} \frac{\sin x}{x}, & \text{если } x \neq 0; \\ 2, & \text{если } x = 0. \end{cases}$$

Здесь $x_0 = 0$ — точка разрыва:

$$\lim_{x \rightarrow 0} g(x) = \lim_{x \rightarrow 0} \frac{\sin x}{x} = 1, \text{ а } g(x_0) = g(0) = 2.$$



Все точки разрыва функции разделяются на точки разрыва первого и второго рода. Точка разрыва x_0 называется *точкой разрыва первого рода* функции $y = f(x)$, если в этой точке существуют конечные пределы функции слева и справа (односторонние пределы), т. е. $\lim_{x \rightarrow x_0-0} f(x) = A_1$ и $\lim_{x \rightarrow x_0+0} f(x) = A_2$. При этом:

а) если $A_1 = A_2$, то точка x_0 называется *точкой устранимого разрыва*; б) если $A_1 \neq A_2$, то точка x_0 называется *точкой конечного разрыва*. Величину $|A_1 - A_2|$ называют *скачком функции* в точке разрыва первого рода.

Точка разрыва x_0 называется *точкой разрыва второго рода* функции $y = f(x)$, если по крайней мере один из односторонних пределов (слева или справа) не существует или равен бесконечности.

Примеры: 1. Обратимся к функциям, рассмотренным выше (см. рис.). $y = \frac{1}{x-2}$, $x_0 = 2$ — точка разрыва второго рода.

2. Для функции

$$f(x) = \begin{cases} x - 1, & \text{если } -1 \leq x < 2, \\ 2 - x, & \text{если } 2 \leq x \leq 5 \end{cases}$$

$x_0 = 2$ является точкой разрыва первого рода, скачок функции равен $(1 - 0) = 1$.

3. Для функции

$$g(x) = \begin{cases} \frac{\sin x}{x} & \text{при } x \neq 0, \\ 2 & \text{при } x = 0 \end{cases}$$

$x_0 = 0$ является точкой устранимого разрыва первого рода. Положив $g(x) = 1$ (вместо $g(x) = 2$) при $x = 0$, разрыв устранился, функция станет непрерывной.

4. Дана функция $f(x) = \frac{|x-3|}{x-3}$. Найти точки разрыва, выяснить их тип.

◆ Функция $f(x)$ определена и непрерывна на всей числовой оси, кроме точки $x = 3$. Очевидно, $f(x) = \begin{cases} 1 & \text{при } x > 3; \\ -1 & \text{при } x < 3. \end{cases}$ Следовательно, $\lim_{x \rightarrow 3+0} f(x) = 1$, а $\lim_{x \rightarrow 3-0} f(x) = -1$. Поэтому в точке $x = 3$ функция имеет разрыв первого рода. Скачок функции в этой точке равен $1 - (-1) = 2$. ◆

57. ОСНОВНЫЕ ТЕОРЕМЫ О НЕПРЕРЫВНЫХ ФУНКЦИЯХ. НЕПРЕРЫВНОСТЬ ЭЛЕМЕНТАРНЫХ ФУНКЦИЙ

Теоремы о непрерывности функций следуют непосредственно из соответствующих теорем о пределах.

Теорема 1. Сумма, произведение и частное двух непрерывных функций есть функция непрерывная (для частного за исключением тех значений аргумента, в которых делитель равен нулю).

◀ Пусть функция $f(x)$ и $\varphi(x)$ непрерывны на некотором множестве X и x_0 — любое значение из этого множества. Докажем, например, непрерывность произведения $F(x) = f(x) \cdot \varphi(x)$. Применяя теорему о пределе произведения, получим:

$$\lim_{x \rightarrow x_0} F(x) = \lim_{x \rightarrow x_0} (f(x) \cdot \varphi(x)) = \lim_{x \rightarrow x_0} f(x) \cdot \lim_{x \rightarrow x_0} \varphi(x) = f(x_0) \cdot \varphi(x_0) = F(x_0).$$

Итак, $\lim_{x \rightarrow x_0} F(x) = F(x_0)$, что и доказывает непрерывность функции $f(x) \cdot \varphi(x)$ в точке x_0 . ▶

Теорема 2. Пусть функции $u = \varphi(x)$ непрерывна в точке x_0 , а функция $y = f(u)$ непрерывна в точке $u_0 = \varphi(x_0)$. Тогда сложная функция $f(\varphi(x))$, состоящая из непрерывных функций, непрерывна.

◀ В силу непрерывности функции $y = f(u)$, $\lim_{x \rightarrow x_0} \varphi(x) = \varphi(x_0) = u_0$, т. е. при $x \rightarrow x_0$, имеем $u \rightarrow u_0$. Поэтому в следствии непрерывности функции $y = f(u)$,

$$\lim_{x \rightarrow x_0} f(\varphi(x)) = \lim_{u \rightarrow u_0} f(u) = f(u_0) = f(\varphi(x_0)).$$

Это и доказывает, что сложная функция $y = f(\varphi(x))$ непрерывна в точке x_0 . ▶

Теорема 3. Если функция $y = f(x)$ непрерывна и строго монотонна на $[a; b]$ оси Ox , то обратная функция $y = \varphi(x)$ также непрерывна и монотонна на соответствующем отрезке $[c; d]$ оси Oy (без доказательства).

Примеры: Функция $\operatorname{tg} x = \frac{\sin x}{\cos x}$, в силу теоремы 1, есть функция непрерывная для всех значений x , кроме тех, для которых $\cos x = 0$, т. е. кроме значений $x = \frac{\pi}{2} + \pi n$, $n \in \mathbb{Z}$.

Функции $\arcsin x$, $\arctg x$, $\arccos x$, $\text{arcsctg } x$, в силу теоремы 3, непрерывны при всех значениях x , при которых эти функции определены.

Вообще можно доказать, что *все основные элементарные функции непрерывны при всех значениях x , для которых они определены.*

Как известно, *элементарной* называется такая функция, которую можно задать одной формулой, содержащей конечное число арифметических действий и суперпозиций (операции взятия функции от функции) основных элементарных функций. Поэтому, из приведенных выше теорем вытекает: *Всякая элементарная функция непрерывна в каждой точке, в которой она определена.*

Этот важный результат позволяет, в частности, легко находить пределы элементарных функций в точках, где они определены.

Пример: Найти $\lim_{x \rightarrow \frac{\pi}{4}} 2^{\text{ctg } x}$.

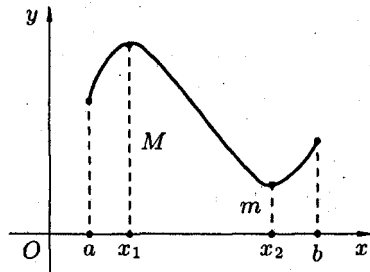
◆ Функция $2^{\text{ctg } x}$ непрерывна в точке $x = \frac{\pi}{4}$, поэтому $\lim_{x \rightarrow \frac{\pi}{4}} 2^{\text{ctg } x} = 2^{\text{ctg } \frac{\pi}{4}} = 2^1 = 2$. ◆

58. СВОЙСТВА ФУНКЦИЙ, НЕПРЕРЫВНЫХ НА ОТРЕЗКЕ

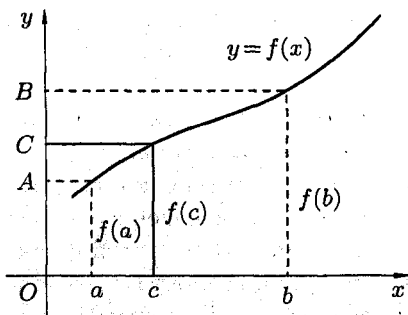
Непрерывные на отрезке функции имеют ряд важных свойств. Сформулируем их в виде теорем, не приводя доказательств.

Теорема 1. *Если функция непрерывна на отрезке, то она достигает на этом отрезке своего наибольшего и наименьшего значений.*

На рисунке функция $y = f(x)$, непрерывна на отрезке $[a; b]$, принимает свое наибольшее значение M в точке x_1 , а наименьшее m — в точке x_2 . Для любого $x \in [a; b]$ имеет место неравенство $m \leq f(x) \leq M$.



Следствие 1. *Если функция непрерывна на отрезке, то она ограничена на этом отрезке.*

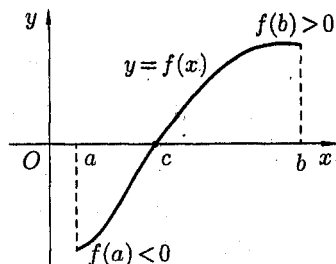


Теорема 2. Если функция $y = f(x)$ непрерывна на отрезке $[a; b]$ и принимает на его концах неравные значения $f(a) = A$ и $f(b) = B$, то на этом отрезке она принимает и все промежуточные значения между A и B .

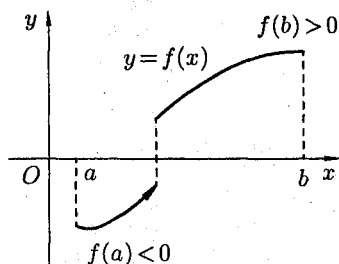
Геометрически теорема очевидна.

Для любого числа C , заключенного между A и B , найдется точка c внутри этого отрезка, такая что $f(c) = C$. Прямая $y = C$ пересечет график функции по крайней мере в одной точке.

Следствие 2. Если функция $y = f(x)$ непрерывна на отрезке $[a; b]$ и на его концах принимает значения разных знаков, то внутри отрезка $[a; b]$ найдется хотя бы одна точка c , в которой данная функция $f(x)$ обращается в нуль: $f(c) = 0$.



Геометрический смысл теоремы: если график непрерывной функции переходит с одной стороны оси Ox на другую, то он пересекает ось Ox .



Следствие лежит в основе так называемого «метода половинного деления», который используется для нахождения корня уравнения $f(x) = 0$.

Утверждения теорем 1 и 2, вообще говоря, делаются неверными, если нарушены какие-либо из ее условий: функция непрерывна не на отрезке $[a; b]$, а в интервале $(a; b)$, либо функция на отрезке $[a; b]$ имеет разрыв.

Рисунок показывает это для следствия теоремы 2: график разрывной функции не пересекает ось Ox .

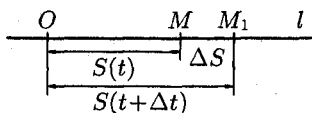
VI. ПРОИЗВОДНАЯ И ДИФФЕРЕНЦИАЛ ФУНКЦИИ

59. ЗАДАЧИ, ПРИВОДЯЩИЕ К ПОНЯТИЮ ПРОИЗВОДНОЙ

Понятие производной является одним из основных математических понятий. Производная широко используется при решении целого ряда задач математики, физики, других наук, в особенности при изучении скорости разных процессов.

1. Задача про скорость прямолинейного движения

Пусть материальная точка (некоторое тело) M движется неравномерно по некоторой прямой. Каждому значению времени t соответствует определенное расстояние $OM = S$ до некоторой фиксированной точки O . Это расстояние зависит от истекшего времени t , т. е. $S = S(t)$.



Это равенство называют *законом движения точки*. Требуется найти скорость движения точки.

Если в некоторый момент времени t точка занимает положение M , то в момент времени $t + \Delta t$ (Δt — приращение времени) точка займет положение M_1 , где $OM_1 = S + \Delta S$ (ΔS — приращение расстояния). Таким образом, перемещение точки M за время Δt будет $\Delta S = S(t + \Delta t) - S(t)$.

Отношение $\frac{\Delta S}{\Delta t}$ выражает *среднюю скорость* движения точки за время Δt :

$$V_{\text{ср.}} = \frac{\Delta S}{\Delta t}.$$

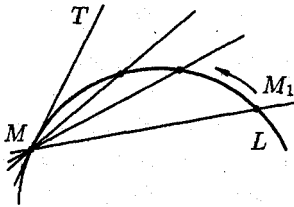
Средняя скорость зависит от значения Δt : чем меньше Δt , тем точнее средняя скорость выражает скорость движения точки в данный момент времени t .

Предел средней скорости движения при стремлении к нулю промежутка времени Δt называется *скоростью движения точки в данный момент времени* (или мгновенной скоростью). Обозначив эту скорость через V , получим

$$V = \lim_{\Delta t \rightarrow 0} \frac{\Delta S}{\Delta t}, \quad \text{или} \quad V = \lim_{\Delta t \rightarrow 0} \frac{S(t + \Delta t) - S(t)}{\Delta t}. \quad (1)$$

2. Задача про касательную к кривой

Дадим сначала общее определение касательной к кривой.



Возьмем на непрерывной кривой L две точки M и M_1 .

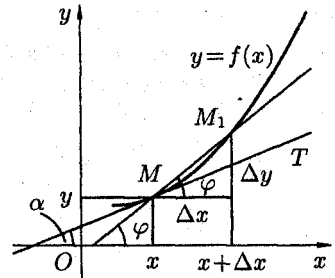
Прямую MM_1 , проходящую через эти точки, называют *секущей*.

Пусть точка M_1 , двигаясь вдоль кривой L , неограниченно приближается к точке M . Тогда секущая, поворачиваясь около точки M , стремится к некоторому предельному положению MT .

Касательной к данной кривой в данной точке M называется предельное положение MT секущей MM_1 , проходящей через точку M , когда вторая точка пересечения M_1 неограниченно приближается по кривой к точке M .

Рассмотрим теперь график непрерывной кривой $y = f(x)$, имеющий в точке $M(x; y)$ невертикальную касательную. Найдем ее угловой коэффициент $k = \operatorname{tg} \alpha$, где α — угол касательной с осью Ox .

Для этого проведем через точку M и точку M_1 графика с абсциссой $x + \Delta x$ секущую. Обозначим через φ — угол между секущей MM_1 и осью Ox . На рисунке видно, что угловой коэффициент секущей равен



$$\begin{aligned} k_{\text{сек}} = \operatorname{tg} \varphi &= \frac{\Delta y}{\Delta x} = \\ &= \frac{f(x + \Delta x) - f(x)}{\Delta x}. \end{aligned}$$

При $\Delta x \rightarrow 0$ в силу непрерывности функции приращение Δy тоже стремится к нулю; поэтому точка M_1 неограниченно приближается по кривой к точке M , а секущая MM_1 , поворачиваясь около точки M , переходит в касательную. Угол $\varphi \rightarrow \alpha$, т. е. $\lim_{\Delta x \rightarrow 0} \varphi = \alpha$.

Следовательно, $\lim_{\Delta x \rightarrow 0} \operatorname{tg} \varphi = \operatorname{tg} \alpha$.

Поэтому угловой коэффициент касательной равен

$$k = \operatorname{tg} \alpha = \lim_{\Delta x \rightarrow 0} \operatorname{tg} \varphi = \lim_{\Delta x \rightarrow 0} \frac{\Delta y}{\Delta x} = \lim_{\Delta x \rightarrow 0} \frac{f(x + \Delta x) - f(x)}{\Delta x}. \quad (2)$$

К нахождению пределов вида (1) и (2) приводят решения и множества других задач. Можно показать, что:

— если $Q = Q(t)$ — количество электричества, проходящего через поперечное сечение проводника за время t , то *сила тока в момент времени t равна*

$$I = \lim_{\Delta t \rightarrow 0} \frac{\Delta Q}{\Delta t} = \lim_{\Delta t \rightarrow 0} \frac{Q(t + \Delta t) - Q(t)}{\Delta t}; \quad (3)$$

— если $N = N(t)$ — количество вещества, вступающего в химическую реакцию за время t , то *скорость химической реакции в момент времени t равна*

$$V = \lim_{\Delta t \rightarrow 0} \frac{\Delta N}{\Delta t} = \lim_{\Delta t \rightarrow 0} \frac{N(t + \Delta t) - N(t)}{\Delta t}; \quad (4)$$

— если $m = m(x)$ — масса неоднородного стержня между точками $O(0; 0)$ и $M(x; 0)$, то *линейная плотность стержня в точке x есть*

$$S = \lim_{\Delta x \rightarrow 0} \frac{\Delta m}{\Delta x} = \lim_{\Delta x \rightarrow 0} \frac{m(x + \Delta x) - m(x)}{\Delta x}. \quad (5)$$

Пределы (1)–(5) имеют одинаковый вид; везде требуется найти предел отношения приращения функции к приращению аргумента. Этот предел называют *производной*. Эти пределы можно записать так:

$$V = S'_t; \quad \operatorname{tg} \alpha = y'_x; \quad I = Q'_t; \quad V = N'_t; \quad S = m'_x$$

(читается « V равно S штрих по t », «тангенс α равен y штрих по x » и т. д.).

60. ОПРЕДЕЛЕНИЕ ПРОИЗВОДНОЙ; ЕЕ МЕХАНИЧЕСКИЙ И ГЕОМЕТРИЧЕСКИЙ СМЫСЛ. УРАВНЕНИЕ КАСАТЕЛЬНОЙ И НОРМАЛИ К КРИВОЙ

Пусть функция $y = f(x)$ определена на некотором интервале $(a; b)$. Прделаем следующие операции:

- аргументу $x \in (a; b)$ дадим приращение Δx : $x + \Delta x \in (a; b)$;
- найдем соответствующее приращение функции: $\Delta y = f(x + \Delta x) - f(x)$;

- составим отношение приращения функции к приращению аргумента: $\frac{\Delta y}{\Delta x}$;

- найдем предел этого отношения при $\Delta x \rightarrow 0$: $\lim_{\Delta x \rightarrow 0} \frac{\Delta y}{\Delta x}$.

Если этот предел существует, то его называют производной функции $f(x)$ и обозначают одним из символов f'_x , $f'(x)$; y' ; $\frac{dy}{dx}$; y'_x .

Производной функции $y = f(x)$ в точке x_0 называется предел отношения приращения функции к приращению аргумента, когда приращение аргумента стремится к нулю.

Итак, по определению

$$y' = \lim_{\Delta x \rightarrow 0} \frac{f(x_0 + \Delta x) - f(x_0)}{\Delta x} \quad \text{или} \quad f'(x_0) = \lim_{x \rightarrow x_0} \frac{f(x) - f(x_0)}{x - x_0}.$$

Производная функции $f(x)$ есть некоторая функция $f'(x)$, *произведенная* из данной функции.

Функция $y = f(x)$, имеющая производную в каждой точке интервала $(a; b)$, называется *дифференцируемой* в этом интервале; операция нахождения производной функции называется *дифференцированием*.

Значение производной функции $y = f(x)$ в точке $x = x_0$ обозначается одним из символов: $f'(x_0)$, $y'|_{x=x_0}$ или $y'(x_0)$.

Примеры:

- 1) Найти производную функции $y = C$, $C = \text{const}$.

- ◆ - Значению x даем приращение Δx ;
- находим приращение функции Δy : $\Delta y = f(x + \Delta x) - f(x) = C - C = 0$;
- значит, $\frac{\Delta y}{\Delta x} = \frac{0}{\Delta x} = 0$;
- следовательно: $y' = \lim_{\Delta x \rightarrow 0} \frac{\Delta y}{\Delta x} = \lim_{\Delta x \rightarrow 0} 0 = 0$, т. е. $(c)' = 0$. ◆

- 2) Найти производную функции $y = x^2$.

- ◆ - Аргументу x даем приращение Δx ;
- находим Δy : $\Delta y = (x + \Delta x)^2 - x^2 = 2x \cdot \Delta x + (\Delta x)^2$;
- составляем отношение $\frac{\Delta y}{\Delta x}$: $\frac{\Delta y}{\Delta x} = \frac{2x \cdot \Delta x + (\Delta x)^2}{\Delta x} = 2x + \Delta x$;
- находим предел этого отношения:

$$\lim_{\Delta x \rightarrow 0} \frac{\Delta y}{\Delta x} = \lim_{\Delta x \rightarrow 0} (2x + \Delta x) = 2x.$$

Таким образом $(x^2)' = 2x$. ◆

В задаче про скорость прямолинейного движения было получено $V = \lim_{\Delta t \rightarrow 0} \frac{\Delta S}{\Delta t}$.

Это равенство перепишем в виде: $V = S'_t$, т. е. *скорость прямолинейного движения материальной точки в момент времени t есть производная от пути S по времени t* . В этом заключается механический смысл производной.

Обобщая, можно сказать, что если функция $y = f(x)$ описывает какой-либо физический процесс, то *производная y' есть скорость протекания этого процесса*. В этом состоит физический смысл производной.

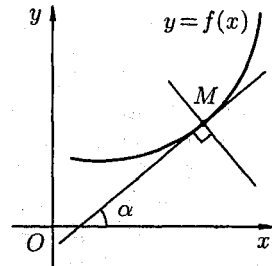
В задаче про касательную к кривой был найден угловой коэффициент касательной $k = \operatorname{tg} \alpha = \lim_{\Delta x \rightarrow 0} \frac{\Delta y}{\Delta x}$. Это равенство перепишем в виде $f'(x) = \operatorname{tg} \alpha = k$, т. е. *производная $f'(x)$ в точке x равна угловому коэффициенту касательной к графику функции $y = f(x)$ в точке, абсцисса которой равна x* . В этом заключается геометрический смысл производной.

Если точка касания M имеет координаты $(x_0; y_0)$, то угловой коэффициент касательной есть $k = f'(x_0)$. Пользуясь уравнением прямой, проходящей через заданную точку в заданном направлении ($y - y_0 = k(x - x_0)$), можно записать *уравнение касательной*: $y - y_0 = f'(x_0) \cdot (x - x_0)$.

Прямая, перпендикулярная касательной в точке касания, называется *нормалью к кривой*.

Так как нормаль перпендикулярна касательной, то ее угловой коэффициент

$$k_{\text{норм.}} = -\frac{1}{k_{\text{кас.}}} = -\frac{1}{f'(x_0)}.$$



Поэтому *уравнение нормали* имеет вид $y - y_0 = -\frac{1}{f'(x_0)} \cdot (x - x_0)$ (если $f'(x_0) \neq 0$).

61. СВЯЗЬ МЕЖДУ НЕПРЕРЫВНОСТЬЮ И ДИФФЕРЕНЦИРУЕМОСТЬЮ ФУНКЦИИ

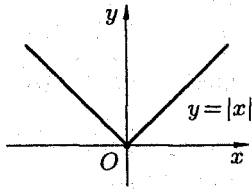
Теорема 1. Если функция дифференцируема в некоторой точке, то она непрерывна в ней.

◀ Пусть функция $y = f(x)$ дифференцируема в некоторой точке x . Следовательно, существует предел $\lim_{\Delta x \rightarrow 0} \frac{\Delta y}{\Delta x} = f'(x)$.

Отсюда, по теореме о связи функции, ее предела и бесконечно малой функции, имеем $\frac{\Delta y}{\Delta x} = f'(x) + \alpha$, где $\alpha \rightarrow 0$ при $\Delta x \rightarrow 0$, то есть $\Delta y = f'(x) \cdot \Delta x + \alpha \cdot \Delta x$.

Переходя к пределу, при $\Delta x \rightarrow 0$, получаем $\lim_{\Delta x \rightarrow 0} \Delta y = 0$. А это и означает, что функция $y = f(x)$ непрерывна в точке x . ▶

Обратная теорема неверна: непрерывная функция может не иметь производной. Примером такой функции является функция



$$y = |x| = \begin{cases} x, & \text{если } x \geq 0, \\ -x, & \text{если } x < 0. \end{cases}$$

Эта функция непрерывна в точке $x = 0$, но не дифференцируема в ней.

Действительно, в точке $x = 0$ имеем

$$\frac{\Delta y}{\Delta x} = \frac{f(0 + \Delta x) - f(0)}{\Delta x} = \frac{f(\Delta x)}{\Delta x} = \frac{|\Delta x|}{\Delta x} = \begin{cases} 1, & \text{если } \Delta x > 0, \\ -1, & \text{если } \Delta x < 0. \end{cases}$$

Отсюда следует, что $\lim_{\Delta x \rightarrow 0} \frac{\Delta y}{\Delta x}$ не существует, т. е. функция $y = |x|$ не имеет производной в точке $x = 0$, график функции не имеет касательной в точке $O(0; 0)$.

Замечания: 1. Существуют односторонние пределы функции $y = |x|$ в точке $x = 0$: $\lim_{\Delta x \rightarrow 0-0} \frac{\Delta y}{\Delta x} = -1$, $\lim_{\Delta x \rightarrow 0+0} \frac{\Delta y}{\Delta x} = 1$. В таких случаях говорят, что функция имеет *односторонние производные* (или «производные слева и справа»), и обозначают соответственно $f'_-(x)$ и $f'_+(x)$.

Если $f'_+(x) \neq f'_-(x)$, то производная в точке не существует. Не существует производной и в точках разрыва функции.

2. Производная $y' = f'(x)$ непрерывной функции $y = f(x)$ сама не обязательно является непрерывной.

Если функция $y = f(x)$ имеет непрерывную производную $y' = f'(x)$ в некотором интервале $(a; b)$, то функция называется *гладкой*.

62. ПРОИЗВОДНАЯ СУММЫ, РАЗНОСТИ, ПРОИЗВЕДЕНИЯ И ЧАСТНОГО ФУНКЦИЙ

Нахождение производной функции непосредственно по определению часто связано с определенными трудностями. На практике функции дифференцируют с помощью ряда правил и формул.

Пусть функции $u = u(x)$ и $v = v(x)$ — две дифференцируемые в некотором интервале $(a; b)$ функции.

Теорема 1. Производная суммы (разности) двух функций равна сумме (разности) производных этих функций: $(u \pm v)' = u' \pm v'$.

◀ Обозначим $y = u \pm v$. По определению производной и основным теоремам о пределах получаем:

$$\begin{aligned} y' &= \lim_{\Delta x \rightarrow 0} \frac{(u(x + \Delta x) \pm v(x + \Delta x)) - (u(x) \pm v(x))}{\Delta x} = \\ &= \lim_{\Delta x \rightarrow 0} \left(\frac{u(x + \Delta x) - u(x)}{\Delta x} \pm \frac{v(x + \Delta x) - v(x)}{\Delta x} \right) = \\ &= \lim_{\Delta x \rightarrow 0} \frac{\Delta u}{\Delta x} \pm \lim_{\Delta x \rightarrow 0} \frac{\Delta v}{\Delta x} = u' \pm v', \end{aligned}$$

т. е. $(u \pm v)' = u' \pm v'$. ▶

Теорема справедлива для любого конечного числа слагаемых.

Теорема 2. Производная произведения двух функций равна произведению производной первого сомножителя на второй плюс произведение первого сомножителя на производную второго: $(u \cdot v)' = u' \cdot v + v' \cdot u$.

◀ Пусть $y = uv$. Тогда

$$\begin{aligned} y' &= \lim_{\Delta x \rightarrow 0} \frac{\Delta y}{\Delta x} = \lim_{\Delta x \rightarrow 0} \frac{u(x + \Delta x) \cdot v(x + \Delta x) - u(x) \cdot v(x)}{\Delta x} = \\ &= \lim_{\Delta x \rightarrow 0} \frac{(u(x) + \Delta u) \cdot (v(x) + \Delta v) - u(x) \cdot v(x)}{\Delta x} = \\ &= \lim_{\Delta x \rightarrow 0} \frac{v(x) \cdot u(x) + u(x) \cdot \Delta v + v(x) \cdot \Delta u + \Delta u \cdot \Delta v - u(x) \cdot v(x)}{\Delta x} = \\ &= \lim_{\Delta x \rightarrow 0} \left(v(x) \cdot \frac{\Delta u}{\Delta x} + u(x) \cdot \frac{\Delta v}{\Delta x} + \Delta v \cdot \frac{\Delta u}{\Delta x} \right) = \end{aligned}$$

$$\begin{aligned}
&= v(x) \cdot \lim_{\Delta x \rightarrow 0} \frac{\Delta u}{\Delta x} + u(x) \cdot \lim_{\Delta x \rightarrow 0} \frac{\Delta v}{\Delta x} + \lim_{\Delta x \rightarrow 0} \Delta v \cdot \lim_{\Delta x \rightarrow 0} \frac{\Delta u}{\Delta x} = \\
&= u' \cdot v + u \cdot v' + 0 \cdot u' = u' \cdot v + u \cdot v',
\end{aligned}$$

т. е. $(u \cdot v)' = u' \cdot v + u \cdot v'$. ▶

При доказательстве теоремы использовалась теорема о связи непрерывности и дифференцируемости: так как функции $u = u(x)$ и $v = v(x)$ дифференцируемы, то они и непрерывны, поэтому $\Delta v \rightarrow 0$ и $\Delta u \rightarrow 0$ при $\Delta x \rightarrow 0$.

Можно показать, что:

а) $(c \cdot u)' = c \cdot u'$, где $c = \text{const}$;

б) $(u \cdot v \cdot w)' = u' \cdot v \cdot w + u \cdot v' \cdot w + u \cdot v \cdot w'$.

Теорема 3. Производная частного двух функций $\frac{u(x)}{v(x)}$, если $v(x) \neq 0$ равна дроби, числитель которой есть разность произведений знаменателя дроби на производную числителя и числителя дроби на производную знаменателя, а знаменатель есть квадрат прежнего знаменателя: $\left(\frac{u}{v}\right)' = \frac{u' \cdot v - u \cdot v'}{v^2}$, $v \neq 0$.

◀ Пусть $y = \frac{u}{v}$. Тогда

$$\begin{aligned}
y' &= \lim_{\Delta x \rightarrow 0} \frac{\frac{u(x+\Delta x)}{v(x+\Delta x)} - \frac{u(x)}{v(x)}}{\Delta x} = \\
&= \lim_{\Delta x \rightarrow 0} \frac{u(x) \cdot v(x) + v(x) \cdot \Delta u - u(x) \cdot v(x) - u(x) \cdot \Delta v}{\Delta x \cdot (v(x) + \Delta v)v(x)} = \\
&= \lim_{\Delta x \rightarrow 0} \frac{v \cdot \Delta u - u \cdot \Delta v}{\Delta x \cdot (v^2 + v \cdot \Delta v)} = \lim_{\Delta x \rightarrow 0} \frac{v \cdot \frac{\Delta u}{\Delta x} - u \cdot \frac{\Delta v}{\Delta x}}{v^2 + v \cdot \Delta v} = \\
&= \frac{v \cdot \lim_{\Delta x \rightarrow 0} \frac{\Delta u}{\Delta x} - u \cdot \lim_{\Delta x \rightarrow 0} \frac{\Delta v}{\Delta x}}{v^2 + v \cdot \lim_{\Delta x \rightarrow 0} \Delta v} = \frac{u'v - uv'}{v^2},
\end{aligned}$$

т. е. $\left(\frac{u}{v}\right)' = \frac{u'v - uv'}{v^2}$. ▶

Следствие 1. $\left(\frac{u}{c}\right)' = \frac{1}{c} \cdot u'$.

Следствие 2. $\left(\frac{c}{v}\right)' = -\frac{c \cdot v'}{v^2}$, где $c = \text{const}$.

63. ПРОИЗВОДНАЯ СЛОЖНОЙ И ОБРАТНОЙ ФУНКЦИЙ

Пусть $y = f(u)$ и $u = \varphi(x)$, тогда $y = f(\varphi(x))$ сложная функция с промежуточным аргументом u и независимым аргументом x .

Теорема 1. Если функция $u = \varphi(x)$ имеет производную u'_x в точке x , а функция $y = f(u)$ имеет производную y'_u в соответствующей точке $u = \varphi(x)$, то сложная функция $y = f(\varphi(x))$ имеет производную y'_x в точке x , которая находится по формуле $y'_x = y'_u \cdot u'_x$.

◀ По условию $\lim_{\Delta u \rightarrow 0} \frac{\Delta y}{\Delta u} = y'_u$. Отсюда, по теореме о связи функции, ее предела и бесконечно малой функции, имеем $\frac{\Delta y}{\Delta u} = y'_u + \alpha$ или

$$\Delta y = y'_u \cdot \Delta u + \alpha \cdot \Delta u, \quad (1)$$

где $\alpha \rightarrow 0$ при $\Delta u \rightarrow 0$.

Функция $u = \varphi(x)$ имеет производную в точке x : $\lim_{\Delta x \rightarrow 0} \frac{\Delta u}{\Delta x} = u'_x$, поэтому

$$\Delta u = u'_x \cdot \Delta x + \beta \cdot \Delta x, \text{ где } \beta \rightarrow 0 \text{ при } \Delta x \rightarrow 0.$$

Подставив значение Δu в равенство (1), получим

$$\Delta y = y'_u (u'_x \cdot \Delta x + \beta \cdot \Delta x) + \alpha (u'_x \cdot \Delta x + \beta \cdot \Delta x),$$

т. е.

$$\Delta y = y'_u \cdot u'_x \cdot \Delta x + y'_u \cdot \beta \cdot \Delta x + u'_x \cdot \alpha \cdot \Delta x + \alpha \cdot \beta \cdot \Delta x.$$

Разделив полученное равенство на Δx и перейдя к пределу при $\Delta x \rightarrow 0$, получим $y'_x = y'_u \cdot u'_x$. ▶

Итак, для нахождения производной сложной функции надо *производную данной функции по промежуточному аргументу умножить на производную промежуточного аргумента по независимому аргументу.*

Это правило остается в силе, если промежуточных аргументов несколько. Так, если $y = f(u)$, $u = \varphi(v)$, $v = g(x)$, то $y'_x = y'_u \cdot u'_v \cdot v'_x$. Пусть $y = f(x)$ и $x = \varphi(y)$ — взаимно обратные функции.

Теорема 2. Если функция $y = f(x)$ строго монотонна на интервале $(a; b)$ и имеет неравную нулю производную $f'(x)$ в произвольной точке этого интервала, то обратная ей функция $x = \varphi(y)$ также имеет производную $\varphi'(y)$ в соответствующей точке, определяемую равенством $\varphi'(y) = \frac{1}{f'(x)}$ или $x'_y = \frac{1}{y'_x}$.

◀ Рассмотрим обратную функцию $x = \varphi(y)$. Дадим аргументу y приращение $\Delta y \neq 0$. Ему соответствует приращение Δx обратной функции, причем $\Delta x \neq 0$ в силу строгой монотонности функции $y = f(x)$. Поэтому можно записать

$$\frac{\Delta x}{\Delta y} = \frac{1}{\frac{\Delta y}{\Delta x}}. \quad (2)$$

Если $\Delta y \rightarrow 0$, то в силу непрерывности обратной функции приращение $\Delta x \rightarrow 0$. И так как $\lim_{\Delta x \rightarrow 0} \frac{\Delta y}{\Delta x} = f'(x) \neq 0$, то из (2) следуют равенства $\lim_{\Delta y \rightarrow 0} \frac{\Delta x}{\Delta y} = \frac{1}{\lim_{\Delta x \rightarrow 0} \frac{\Delta y}{\Delta x}} = \frac{1}{f'(x)}$, т. е. $\varphi'(y) = \frac{1}{f'(x)}$. ▶

Таким образом, производная обратной функции равна обратной величине производной данной функции.

Правило дифференцирования обратной функции записывают так:

$$y'_x = \frac{1}{x'_y} \quad \text{или} \quad \frac{dy}{dx} = \frac{1}{\frac{dx}{dy}}.$$

Примеры: 1) Найти производную функции

$$y = \log_2^3 \operatorname{tg} x^4.$$

◆ Данная функция является сложной. Ее можно представить в виде цепочки «простых» функций: $y = u^3$, где $u = \log_2 z$, где $z = \operatorname{tg} q$, где $q = x^4$. По правилу дифференцирования сложной функции ($y'_x = y'_u \cdot u'_z \cdot z'_q \cdot q'_x$) получаем:

$$y'_x = 3 \cdot \log_2^2 \operatorname{tg} x^4 \cdot \frac{1}{\operatorname{tg} x^4 \cdot \ln 2} \cdot \frac{1}{\cos^2 x^4} \cdot 4x^3. \quad \blacklozenge$$

2) Пользуясь правилом дифференцирования обратной функции, найти производную y'_x для функции $y = \sqrt[3]{x-1}$.

◆ Обратная функция $x = y^3 + 1$ имеет производную $x'_y = 3y^2$. Следовательно,

$$y'_x = \frac{1}{x'_y} = \frac{1}{3y^2} = \frac{1}{3 \cdot \sqrt[3]{(x-1)^2}}. \quad \blacklozenge$$

64. ПРОИЗВОДНЫЕ ОСНОВНЫХ ЭЛЕМЕНТАРНЫХ ФУНКЦИЙ

1. Производная степенной функции $y = x^n$, $n \in \mathbb{N}$

Дадим аргументу x приращение Δx . Функция $y = x^n$ получит приращение $\Delta y = (x + \Delta x)^n - x^n$. По формуле бинома Ньютона имеем

$$\begin{aligned}\Delta y &= \left(x^n + n \cdot x^{n-1} \cdot \Delta x + \frac{n(n-1)}{2!} x^{n-2} \cdot \Delta x^2 + \dots + (\Delta x)^n \right) - x^n = \\ &= n \cdot x^{n-1} \cdot \Delta x + \frac{n(n-1)}{2!} x^{n-2} \Delta x^2 + \dots + (\Delta x)^n.\end{aligned}$$

Тогда

$$\begin{aligned}\frac{\Delta y}{\Delta x} &= \frac{n \cdot x^{n-1} \cdot \Delta x + \frac{n(n-1)}{2!} x^{n-2} \Delta x^2 + \dots + (\Delta x)^n}{\Delta x} = \\ &= n \cdot x^{n-1} + \frac{n(n-1)}{2!} \cdot x^{n-2} \cdot \Delta x + \dots + (\Delta x)^{n-1}.\end{aligned}$$

Находим предел составленного отношения при $\Delta x \rightarrow 0$:

$$\lim_{\Delta x \rightarrow 0} \frac{\Delta y}{\Delta x} = \lim_{\Delta x \rightarrow 0} \left(n \cdot x^{n-1} + \frac{1}{2} n \cdot (n-1) \cdot x^{n-2} \Delta x + \dots + (\Delta x)^{n-1} \right) = n \cdot x^{n-1}.$$

Таким образом,

$$(x^n)' = n \cdot x^{n-1}.$$

Например, $(x^3)' = 3x^2$, $(x^2)' = 2x$, $x' = 1$.

Ниже (см. замечание) будет показано, что формула производной степенной функции справедлива при любом $n \in \mathbb{R}$ (а не только натуральном).

2. Производная показательной функции $y = a^x$, $a > 0$, $a \neq 1$

Найдем сначала производную функции $y = e^x$. Придав аргументу x приращение Δx , находим приращение функции Δy : $\Delta y = e^{x+\Delta x} - e^x = e^x(e^{\Delta x} - 1)$. Стало быть, $\frac{\Delta y}{\Delta x} = \frac{e^x(e^{\Delta x} - 1)}{\Delta x}$ и

$$\begin{aligned}\lim_{\Delta x \rightarrow 0} \frac{\Delta y}{\Delta x} &= \lim_{\Delta x \rightarrow 0} e^x \cdot \frac{e^{\Delta x} - 1}{\Delta x} = \\ &= e^x \cdot \lim_{\Delta x \rightarrow 0} \frac{e^{\Delta x} - 1}{\Delta x} = e^x \cdot \lim_{\Delta x \rightarrow 0} \frac{\Delta x}{\Delta x} = e^x \cdot 1 = e^x.\end{aligned}$$

При вычислении предела воспользовались эквивалентностью $e^x - 1 \sim x$ при $x \rightarrow 0$.

Итак, $y' = e^x$, т. е.

$$(e^x)' = e^x.$$

Теперь рассмотрим функцию $y = a^x$, $x \in \mathbb{R}$. Так как $a^x = e^{x \ln a}$, то по формуле производной сложной функции находим:

$$(a^x)' = (e^{x \ln a})' = e^{x \ln a} \cdot (x \cdot \ln a)' = e^{x \ln a} \cdot \ln a = a^x \cdot \ln a.$$

Таким образом, $(a^x)' = a^x \ln a$.

Пример: Найти производную функции $y = 7^{x^2-4x}$.

◆ Используя формулу производной сложной функции и формулу производной степенной функции, находим

$$y' = (7^{x^2-4x})' = 7^{x^2-4x} \cdot \ln 7 \cdot (x^2 - 4x)' = 7^{x^2-4x} \cdot \ln 7 \cdot (2x - 4). \quad \blacklozenge$$

3. Производная логарифмической функции

$$y = \log_a x, \quad a > 0, \quad a \neq 1$$

Найдем сначала производную функции $y = \ln x$.

Для нее

$$\frac{\Delta y}{\Delta x} = \frac{\ln(x + \Delta x) - \ln x}{\Delta x} = \frac{\ln\left(\frac{x + \Delta x}{x}\right)}{\Delta x} = \frac{\ln\left(1 + \frac{\Delta x}{x}\right)}{\Delta x}.$$

Переходя к пределу при $\Delta x \rightarrow 0$ и воспользовавшись эквивалентностью $\ln\left(1 + \frac{\Delta x}{x}\right) \sim \frac{\Delta x}{x}$ при $\Delta x \rightarrow 0$, получаем:

$$\lim_{\Delta x \rightarrow 0} \frac{\Delta y}{\Delta x} = \lim_{\Delta x \rightarrow 0} \frac{\ln\left(1 + \frac{\Delta x}{x}\right)}{\Delta x} = \lim_{\Delta x \rightarrow 0} \frac{\frac{\Delta x}{x}}{\Delta x} = \lim_{\Delta x \rightarrow 0} \frac{1}{x} = \frac{1}{x},$$

т. е. $y' = \frac{1}{x}$ или $(\ln x)' = \frac{1}{x}$.

Теперь рассмотрим функцию $y = \log_a x$.

Так как $\log_a x = \frac{\ln x}{\ln a}$, то

$$(\log_a x)' = \left(\frac{\ln x}{\ln a}\right)' = \frac{1}{\ln a} \cdot (\ln x)' = \frac{1}{\ln a} \cdot \frac{1}{x}.$$

Таким образом, $(\log_a x)' = \frac{1}{x \cdot \ln a}$.

Пример: Найти производную функции $y = \ln(x^4 - 2x^2 + 6)$.

$$\diamond y' = \frac{1}{x^4 - 2x^2 + 6} \cdot (x^4 - 2x^2 + 6)' = \frac{4x^3 - 4x}{x^4 - 2x^2 + 6}. \quad \diamond$$

Производную логарифмической функции $y = \log_a x$ можно найти иначе. Так как обратной для нее функцией является $x = a^y$, то по формуле производной обратной функции имеем:

$$(\log_a x)' = \frac{1}{(a^y)'} = \frac{1}{a^y \cdot \ln a} = \frac{1}{x \cdot \ln a}.$$

4. Производные тригонометрических функций

$$y = \sin x, y = \cos x, y = \operatorname{tg} x, y = \operatorname{ctg} x$$

Для функции $y = \sin x$ имеем:

$$\frac{\Delta y}{\Delta x} = \frac{\sin(x + \Delta x) - \sin x}{\Delta x} = \frac{2 \sin \frac{\Delta x}{2} \cdot \cos(x + \frac{\Delta x}{2})}{\Delta x} = \frac{\sin \frac{\Delta x}{2}}{\frac{\Delta x}{2}} \cdot \cos\left(x + \frac{\Delta x}{2}\right).$$

Переходя к пределу при $\Delta x \rightarrow 0$ и воспользовавшись первым замечательным пределом $\lim_{\Delta x \rightarrow 0} \frac{\sin \Delta x}{\Delta x} = 1$, получаем

$$\lim_{\Delta x \rightarrow 0} \frac{\Delta y}{\Delta x} = \lim_{\Delta x \rightarrow 0} \frac{\sin \frac{\Delta x}{2}}{\frac{\Delta x}{2}} \cdot \cos\left(x + \frac{\Delta x}{2}\right) = 1 \cdot \cos x,$$

т. е. $y' = \cos x$ или $(\sin x)' = \cos x$.

Найдем производную функции $y = \cos x$, воспользовавшись формулой производной сложной функции:

$$\begin{aligned} (\cos x)' &= \left(\sin\left(\frac{\pi}{2} - x\right)\right)' = \cos\left(\frac{\pi}{2} - x\right) \cdot \left(\frac{\pi}{2} - x\right)' = \\ &= \cos\left(\frac{\pi}{2} - x\right) \cdot (-1) = -\sin x, \end{aligned}$$

т. е. $(\cos x)' = -\sin x$.

Для нахождения производных функций $y = \operatorname{tg} x$ и $y = \operatorname{ctg} x$ воспользуемся формулой производной частного:

$$\begin{aligned} (\operatorname{tg} x)' &= \left(\frac{\sin x}{\cos x}\right)' = \frac{(\sin x)' \cos x - \sin x (\cos x)'}{\cos^2 x} = \\ &= \frac{\cos^2 x + \sin^2 x}{\cos^2 x} = \frac{1}{\cos^2 x}, \end{aligned}$$

т. е. $(\operatorname{tg} x)' = \frac{1}{\cos^2 x}$.

Проделав аналогичные операции, получим формулу

$$(\operatorname{ctg} x)' = -\frac{1}{\sin^2 x}.$$

Этот результат можно получить иначе:

$$(\operatorname{ctg} x)' = \left(\operatorname{tg} \left(\frac{\pi}{2} - x \right) \right)' = \frac{1}{\cos^2 \left(\frac{\pi}{2} - x \right)} \cdot (-1) = -\frac{1}{\sin^2 x}.$$

Пример: $(\cos 2x)' = -\sin 2x \cdot (2x)' = -2 \sin 2x.$

5. Производные обратных тригонометрических функций

$$y = \arcsin x, \quad y = \arccos x, \quad y = \operatorname{arctg} x, \quad y = \operatorname{arcctg} x$$

Пусть $y = \arcsin x$. Обратная ей функция имеет вид $x = \sin y$, $y \in \left[-\frac{\pi}{2}; \frac{\pi}{2}\right]$. На интервале $\left(-\frac{\pi}{2}; \frac{\pi}{2}\right)$ верно равенство $x' = \cos y \neq 0$.

По правилу дифференцирования обратных функций

$$(\arcsin x)' = \frac{1}{(\sin y)'} = \frac{1}{\cos y} = \frac{1}{\sqrt{1 - \sin^2 y}} = \frac{1}{\sqrt{1 - x^2}},$$

где перед корнем взят знак плюс, так как $\cos y > 0$ при $y \in \left(-\frac{\pi}{2}; \frac{\pi}{2}\right)$.

Итак, $(\arcsin x)' = \frac{1}{\sqrt{1 - x^2}}.$

Аналогично получаем, что $(\arccos x)' = -\frac{1}{\sqrt{1 - x^2}}$. Эту формулу можно получить проще: так как $\arccos x + \arcsin x = \frac{\pi}{2}$, т. е. $\arccos x = \frac{\pi}{2} - \arcsin x$, то $(\arccos x)' = \left(\frac{\pi}{2} - \arcsin x\right)' = -\frac{1}{\sqrt{1 - x^2}}.$

Найдем производную функции $y = \operatorname{arctg} x$.

Она является обратной к функции $x = \operatorname{tg} y$, где $y \in \left(-\frac{\pi}{2}; \frac{\pi}{2}\right)$.

Поэтому, по правилу дифференцирования обратных функций, получаем, что

$$(\operatorname{arctg} x)' = \frac{1}{(\operatorname{tg} y)'} = \frac{1}{\cos^2 y} = \cos^2 y = \frac{1}{1 + \operatorname{tg}^2 y} = \frac{1}{1 + x^2}.$$

Итак, $(\operatorname{arctg} x)' = \frac{1}{1 + x^2}.$

Функции $\operatorname{arctg} x$ и $\operatorname{arcctg} x$ связаны отношением

$$\operatorname{arctg} x + \operatorname{arcctg} x = \frac{\pi}{2}, \quad \text{т. е.} \quad \operatorname{arcctg} x = \frac{\pi}{2} - \operatorname{arctg} x.$$

Дифференцируя это равенство, находим

$$(\operatorname{arccotg} x)' = \left(\frac{\pi}{2} - \operatorname{arctg} x \right)' = -(\operatorname{arctg} x)' = -\frac{1}{1+x^2},$$

т. е. $(\operatorname{arccotg} x)' = -\frac{1}{1+x^2}$.

Примеры: 1) $(\arccos x^2)' = -\frac{1}{\sqrt{1-(x^2)^2}} \cdot (x^2)' = -\frac{2x}{\sqrt{1-x^4}}$;

2) $(x \cdot \operatorname{arctg} x)' = x' \cdot \operatorname{arctg} x + x \cdot (\operatorname{arctg} x)' = \operatorname{arctg} x + \frac{x}{1+x^2}$;

3) $((1+5x-3x^3)^4)' = 4(1+5x-3x^3)^3 \cdot (5-9x^2)$;

4) $(\arccos \sqrt{x})' = -\frac{1}{1-(\sqrt{x})^2} \cdot \frac{1}{2\sqrt{x}}$;

5) $(\log_2^3(3+2^{-x}))' = 3 \log_2^2(3+2^{-x}) \cdot \frac{1}{(3+2^{-x}) \ln 3} \cdot 2^{-x} \cdot \ln 2 \cdot (-1)$.

Замечание: Найдем производную степенной функции $y = x^\alpha$ с любым показателем $\alpha \in \mathbb{R}$. В этом случае функция рассматривается для $x > 0$.

Можно записать $x^\alpha = e^{\alpha \cdot \ln x}$. По правилу дифференцирования сложной функции находим

$$(x^\alpha)' = (e^{\alpha \cdot \ln x})' = e^{\alpha \cdot \ln x} \cdot (\alpha \cdot \ln x)' = \alpha \cdot e^{\alpha \cdot \ln x} \cdot \frac{1}{x} = \alpha \cdot \frac{x^\alpha}{x} = \alpha \cdot x^{\alpha-1},$$

т. е. $(x^\alpha)' = \alpha \cdot x^{\alpha-1}$.

Формула остается справедливой и для $x < 0$, если функция $y = x^\alpha$ существует:

$$(x^{\frac{1}{3}})' = \frac{1}{3} x^{-\frac{2}{3}}$$

при всех $x \neq 0$.

Пример: Показать, что функция $y = \frac{x^2}{2} + \frac{1}{2x^2} + C$ удовлетворяет уравнению $x^3 \cdot y' + 1 = x^4$.

◆ Находим y' :

$$y' = \frac{1}{2} \cdot 2x + \frac{1}{2} \cdot (-2)x^{-3} + 0,$$

т. е. $y' = x - \frac{1}{x^3}$. Подставляем значение y' в данное уравнение:

$$x^3 \cdot \left(x - \frac{1}{x^3} \right) + 1 = x^4, \quad \text{т. е.} \quad x^4 - 1 + 1 = x^4, \quad 0 = 0.$$

Функция удовлетворяет данному уравнению. ◆

65. ГИПЕРБОЛИЧЕСКИЕ ФУНКЦИИ И ИХ ПРОИЗВОДНЫЕ

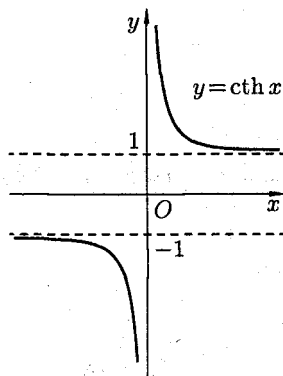
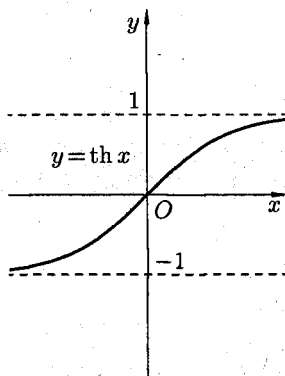
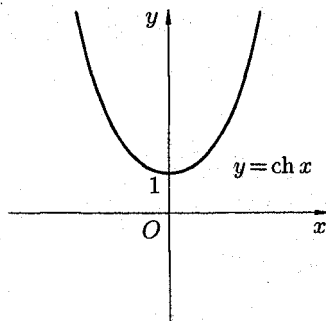
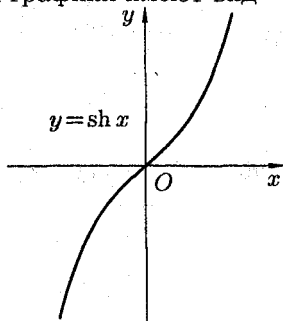
В математике, механике, электротехнике и некоторых других дисциплинах встречаются *гиперболические функции*, определяемые следующими формулами:

$$\operatorname{sh} x = \frac{e^x - e^{-x}}{2} \text{ — гиперболический синус;}$$

$$\operatorname{ch} x = \frac{e^x + e^{-x}}{2} \text{ — гиперболический косинус («цепная линия»);}$$

$\operatorname{th} x = \frac{\operatorname{sh} x}{\operatorname{ch} x} = \frac{e^x - e^{-x}}{e^x + e^{-x}}$ и $\operatorname{cth} x = \frac{\operatorname{ch} x}{\operatorname{sh} x} = \frac{e^x + e^{-x}}{e^x - e^{-x}}$ — гиперболический тангенс и котангенс, где e — неперово число.

Их графики имеют вид



Между гиперболическими функциями существуют следующие основные зависимости:

$$\operatorname{ch}^2 x - \operatorname{sh}^2 x = 1;$$

$$\operatorname{sh}(x \pm y) = \operatorname{sh} x \cdot \operatorname{ch} y \pm \operatorname{ch} x \cdot \operatorname{sh} y;$$

$$\operatorname{ch}(x \pm y) = \operatorname{ch} x \cdot \operatorname{ch} y \pm \operatorname{sh} x \cdot \operatorname{sh} y;$$

$$\operatorname{th}(x \pm y) = \frac{\operatorname{th} x \pm \operatorname{th} y}{1 \pm \operatorname{th} x \cdot \operatorname{th} y};$$

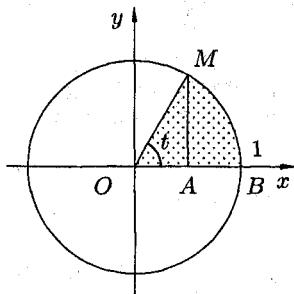
$$\operatorname{sh} 2x = 2 \operatorname{sh} x \cdot \operatorname{ch} x, \quad \operatorname{ch} 2x = \operatorname{ch}^2 x + \operatorname{sh}^2 x.$$

Все эти формулы вытекают из определения гиперболических функций.

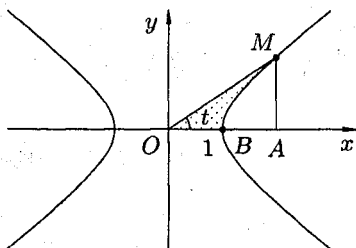
Например,

$$\begin{aligned} \operatorname{ch}^2 x - \operatorname{sh}^2 x &= \left(\frac{e^x + e^{-x}}{2} \right)^2 - \left(\frac{e^x - e^{-x}}{2} \right)^2 = \\ &= \frac{1}{4} (e^{2x} + 2 + e^{-2x} - e^{2x} + 2 - e^{-2x}) = \frac{1}{4} \cdot 4 = 1. \end{aligned}$$

Геометрическая интерпретация гиперболических функций аналогична интерпретации тригонометрических функций.



Параметрические уравнения $x = \cos t$ и $y = \sin t$ определяют окружность $x^2 + y^2 = 1$, причем $OA = \cos t$, $AM = \sin t$.



Параметрические уравнения $x = \operatorname{ch} t$ и $y = \operatorname{sh} t$ определяют гиперболу $x^2 - y^2 = 1$, причем $OA = \operatorname{ch} t$, $AM = \operatorname{sh} t$.

Найдем производные гиперболических функций.

$$(\operatorname{sh} x)' = \left(\frac{e^x - e^{-x}}{2} \right)' = \frac{e^x + e^{-x}}{2} = \operatorname{ch} x, \text{ т. е. } (\operatorname{sh} x)' = \operatorname{ch} x;$$

$$(\operatorname{ch} x)' = \left(\frac{e^x + e^{-x}}{2} \right)' = \frac{e^x - e^{-x}}{2} = \operatorname{sh} x, \text{ т. е. } (\operatorname{ch} x)' = \operatorname{sh} x;$$

$$(\operatorname{th} x)' = \left(\frac{\operatorname{sh} x}{\operatorname{ch} x} \right)' = \frac{(\operatorname{sh} x)' \operatorname{ch} x - \operatorname{sh} x (\operatorname{ch} x)'}{\operatorname{ch}^2 x} = \frac{\operatorname{ch}^2 x - \operatorname{sh}^2 x}{\operatorname{ch}^2 x} = \frac{1}{\operatorname{ch}^2 x},$$

т. е. $(\operatorname{th} x)' = \frac{1}{\operatorname{ch}^2 x};$

$$(\operatorname{cth} x)' = \left(\frac{\operatorname{ch} x}{\operatorname{sh} x} \right)' = \frac{\operatorname{sh}^2 x - \operatorname{ch}^2 x}{\operatorname{sh}^2 x} = -\frac{1}{\operatorname{sh}^2 x}, \text{ т. е. } (\operatorname{cth} x)' = -\frac{1}{\operatorname{sh}^2 x}.$$

66. ТАБЛИЦА ПРОИЗВОДНЫХ

Выведенные правила дифференцирования, формулы производных основных элементарных функций запишем в виде таблицы.

На практике чаще всего приходится находить производные от сложных функций. Поэтому в приведенной ниже таблице формул дифференцирования аргумент « x » заменен на промежуточный аргумент « u ».

1. Правила дифференцирования

1. $(u \pm v)' = u' \pm v'$;
2. $(u \cdot v)' = u'v + uv'$, в частности $(cu)' = c \cdot u'$;
3. $\left(\frac{u}{v}\right)' = \frac{u'v - uv'}{v^2}$, в частности $\left(\frac{c}{v}\right)' = -\frac{cv'}{v^2}$;
4. $y'_x = y'_u \cdot u'_x$, если $y = f(u)$, $u = \varphi(x)$;
5. $y'_x = \frac{1}{x'_y}$, если $y = f(x)$ и $x = \varphi(y)$.

2. Формулы дифференцирования

1. $(c)' = 0$;
2. $(u^\alpha)' = \alpha \cdot u^{\alpha-1} \cdot u'$, в частности $(\sqrt{u})' = \frac{1}{2\sqrt{u}} \cdot u'$;
3. $(a^u)' = a^u \cdot \ln a \cdot u'$, в частности $(e^u)' = e^u \cdot u'$;
4. $(\log_a u)' = \frac{1}{u \cdot \ln a} \cdot u'$, в частности $(\ln u)' = \frac{1}{u} \cdot u'$;
5. $(\sin u)' = \cos u \cdot u'$;
6. $(\cos u)' = -\sin u \cdot u'$;
7. $(\operatorname{tg} u)' = \frac{1}{\cos^2 u} \cdot u'$;
8. $(\operatorname{ctg} u)' = -\frac{1}{\sin^2 u} \cdot u'$;
9. $(\arcsin u)' = \frac{1}{\sqrt{1-u^2}} \cdot u'$;
10. $(\arccos u)' = -\frac{1}{\sqrt{1-u^2}} \cdot u'$;
11. $(\operatorname{arctg} u)' = \frac{1}{1+u^2} \cdot u'$;
12. $(\operatorname{arcctg} u)' = -\frac{1}{1+u^2} \cdot u'$;
13. $(\operatorname{sh} u)' = \operatorname{ch} u \cdot u'$;
14. $(\operatorname{ch} u)' = \operatorname{sh} u \cdot u'$;
15. $(\operatorname{th} u)' = \frac{1}{\operatorname{ch}^2 u} \cdot u'$;
16. $(\operatorname{cth} u)' = -\frac{1}{\operatorname{sh}^2 u} \cdot u'$.

Для вычисления производных надо знать лишь правила дифференцирования и формулы производных основных элементарных функций, строго соблюдать эти правила при выполнении упражнений.

Примеры: Найти производные функций:

1) $y = x^4 - 3x^3 + 2x - 1$.

◆ $y' = (x^4 - 3x^3 + 2x - 1)' = (x^4)' - (3x^3)' + (2x)' - (1)' = 4x^3 - 3(x^3)' + 2(x)' - 0 = 4x^3 - 9x^2 + 2$. ◆

Надо стараться обходиться без лишних записей.

2) $y = \frac{2x^3}{\operatorname{tg} x}$.

◆ $y' = \left(\frac{2x^3}{\operatorname{tg} x}\right)' = 2 \cdot \frac{(x^3)' \cdot \operatorname{tg} x - x^3 \cdot (\operatorname{tg} x)'}{(\operatorname{tg} x)^2} = 2 \cdot \frac{3x^2 \cdot \operatorname{tg} x - x^3 \cdot \frac{1}{\cos^2 x}}{(\operatorname{tg} x)^2}$. ◆

Производная найдена. Ответ не упрощен. В процессе решения использованы правила 2, 3 и формулы 2, 7.

3) $y = \cos(\ln^{12} 2x)$.

◆ Короткое решение: $y' = -\sin(\ln^{12} 2x) \cdot 12 \ln^{11} 2x \cdot \frac{1}{2x} \cdot 2$. ◆

Решение с пояснениями: данную функцию можно представить следующим образом: $y = \cos u$, $u = t^{12}$, $t = \ln z$, $z = 2x$. Производную сложной функции найдем по правилу $y'_x = y'_u \cdot u'_t \cdot t'_z \cdot z'_x$ (здесь промежуточных аргументов три):

$$y'_x = -\sin u \cdot 12 \cdot t^{11} \cdot \frac{1}{z} \cdot 2,$$

т. е.

$$y'_x = -\sin t^{12} \cdot 12 \cdot (\ln z)^{11} \cdot \frac{1}{2x} \cdot 2,$$

т. е.

$$y'_x = -\sin(\ln z)^{12} \cdot 12 \cdot \ln^{11} z \cdot \frac{1}{x},$$

т. е.

$$y'_x = -\sin(\ln^{12} 2x) \cdot 12 \cdot \ln^{11} 2x \cdot \frac{1}{x}.$$

Окончательно

$$y'_x = -12 \cdot \sin(\ln^{12} 2x) \cdot \ln^{11} 2x \cdot \frac{1}{x}.$$

67. ДИФФЕРЕНЦИРОВАНИЕ ФУНКЦИЙ, ЗАДАННЫХ НЕЯВНО И ПАРАМЕТРИЧЕСКИ

1. Дифференцирование неявно заданной функции

Если функция задана уравнением $y = f(x)$, разрешенным относительно y , то функция задана в явном виде (явная функция).

Под *неявным заданием* функции понимают задание функции в виде уравнения $F(x; y) = 0$, не разрешенного относительно y .

Всякую явно заданную функцию $y = f(x)$ можно записать как неявно заданную уравнением $f(x) - y = 0$, но не наоборот.

Не всегда легко, а иногда и невозможно разрешить уравнение относительно y (например, $y + 2x + \cos y - 1 = 0$ или $2^y - x + y = 0$).

Если неявная функция задана уравнением $F(x; y) = 0$, то для нахождения производной от y по x нет необходимости разрешать уравнение относительно y : *достаточно продифференцировать это уравнение по x , рассматривая при этом y как функцию x* , и полученное затем уравнение разрешить относительно y' .

Производная неявной функции выражается через аргумент x и функцию y .

Пример: Найти производную функции y , заданную уравнением

$$x^3 + y^3 - 3xy = 0. \quad (1)$$

◆ Функция y задана неявно. Дифференцируем по x равенство (1). Из полученного соотношения $3x^2 + 3 \cdot y^2 \cdot y' - 3(1 \cdot y + x \cdot y') = 0$ следует, что $y^2 y' - xy' = y - x^2$, т. е. $y' = \frac{y - x^2}{y^2 - x}$. ◆

2. Дифференцирование функций, заданных параметрически

Пусть зависимость между аргументом x и функцией y задана параметрически в виде двух уравнений

$$\begin{cases} x = x(t), \\ y = y(t), \end{cases} \quad (2)$$

где t — вспомогательная переменная, называемая параметром.

Найдем производную y'_x , считая, что функции (2) имеют производные и что функция $x = x(t)$ имеет обратную $t = \varphi(x)$. По правилу

дифференцирования обратной функции

$$t'_x = \frac{1}{x'_t}. \quad (3)$$

Функцию $y = f(x)$, определяемую параметрическими уравнениями (2), можно рассматривать как сложную функцию $y = y(t)$, где $t = \varphi(x)$.

По правилу дифференцирования сложной функции имеем: $y'_x = y'_t \cdot t'_x$.

С учетом равенства (3) получаем $y'_x = y'_t \cdot \frac{1}{x'_t}$, т. е. $y'_x = \frac{y'_t}{x'_t}$.

Полученная формула позволяет находить производную y'_x от функции заданной параметрически, не находя непосредственной зависимости y от x .

Пример: Пусть $\begin{cases} x = t^3, \\ y = t^2. \end{cases}$ Найти y'_x .

◆ Имеем $x'_t = 3t^2$, $y'_t = 2t$. Следовательно, $y'_x = \frac{2t}{3t^2}$, т. е. $y'_x = \frac{2}{3t}$. ◆

В этом можно убедиться, найдя непосредственно зависимость y от x .

Действительно, $t = \sqrt[3]{x}$. Тогда $y = \sqrt[3]{x^2}$. Отсюда $y'_x = \frac{2}{3\sqrt[3]{x}}$, т. е. $y = \frac{2}{3t}$.

68. ЛОГАРИФМИЧЕСКОЕ ДИФФЕРЕНЦИРОВАНИЕ

В ряде случаев для нахождения производной целесообразно заданную функцию *сначала прологарифмировать*. А затем результат продифференцировать. Такую операцию называют *логарифмическим дифференцированием*.

Пример: Найти производную функции $y = \frac{(x^2 + 2) \cdot \sqrt[4]{(x-1)^3} \cdot e^x}{(x+5)^3}$.

◆ Можно найти y' с помощью правил и формул дифференцирования. Однако такой способ слишком громоздкий. Применим логарифмическое дифференцирование. Логарифмируем функцию:

$$\ln y = \ln(x^2 + 2) + \frac{3}{4} \ln(x - 1) + x - 3 \ln(x + 5).$$

Дифференцируем это равенство по x :

$$\frac{1}{y} \cdot y' = \frac{1}{x^2 + 2} \cdot 2x + \frac{3}{4} \cdot \frac{1}{x - 1} + 1 - 3 \cdot \frac{1}{x + 5}.$$

Выражаем y'

$$y' = y \left(\frac{2x}{x^2 + 2} + \frac{3}{4(x - 1)} + 1 - \frac{3}{x + 5} \right),$$

т. е.

$$y' = \frac{(x^2 + 2) \cdot \sqrt[4]{(x - 1)^3} \cdot e^x}{(x + 5)^3} \cdot \left(\frac{2x}{x^2 + 2} + \frac{3}{4(x - 1)} + 1 - \frac{3}{x + 5} \right). \quad \blacklozenge$$

Существуют функции, производные которых находят лишь логарифмическим дифференцированием. К их числу относится так называемая *степенно-показательная функция* $y = u^v$, где $u = u(x)$ и $v = v(x)$ – заданные дифференцируемые функции от x . Найдем производную этой функции:

$$\begin{aligned} \ln y = v \cdot \ln u, \quad &\Rightarrow \quad \frac{1}{y} \cdot y' = v' \cdot \ln u + v \cdot \frac{1}{u} \cdot u', \quad \Rightarrow \\ &\Rightarrow \quad y' = y \left(v' \cdot \ln u + v \cdot \frac{1}{u} \cdot u' \right), \end{aligned}$$

т. е.

$$y' = u^v \left(v' \cdot \ln u + v \cdot \frac{1}{u} \cdot u' \right),$$

или

$$(u^v)' = u^v \cdot \ln u \cdot v' + v \cdot u^{v-1} \cdot u'. \quad (1)$$

Сформулируем правило запоминания формулы (1): производная степенно-показательной функции равна сумме производной показательной функции, при условии $u = \text{const}$, и производной степенной функции, при условии $v = \text{const}$.

Пример: Найти производную функции $y = (\sin 2x)^{x^2+1}$.

◆ Пользуясь формулой (1), получаем:

$$y' = (\sin 2x)^{x^2+1} \cdot \ln \sin 2x \cdot 2x + (x^2 + 1)(\sin 2x)^{x^2} \cdot \cos 2x \cdot 2. \quad \blacklozenge$$

Отметим, что запоминать формулу (1) необязательно, легче запомнить суть логарифмического дифференцирования.

69. ПРОИЗВОДНЫЕ ВЫСШИХ ПОРЯДКОВ

1. Производные высших порядков явно заданной функции

Производная $y' = f'(x)$ функции $y = f(x)$ есть также функция от x и называется *производной первого порядка*.

Если функция $f'(x)$ дифференцируема, то ее производная называется *производной второго порядка* и обозначается y'' (или $f''(x)$), $\frac{d^2y}{dx^2}$, $\frac{d}{dx} \left(\frac{dy}{dx} \right)$, $\frac{dy'}{dx}$. Итак, $y'' = (y')'$.

Производная от производной второго порядка, если она существует, называется *производной третьего порядка* и обозначается y''' (или $f'''(x)$, $\frac{d^3y}{dx^3}$, ...). Итак, $y''' = (y'')'$.

Производной n -го порядка (или n -й производной) называется производная от производной $(n - 1)$ порядка: $y^{(n)} = (y^{(n-1)})'$.

Производные порядка выше первого называются *производными высших порядков*.

Начиная с производной четвертого порядка, производные обозначают римскими цифрами или числами в скобках (y^V или $y^{(5)}$ — производная пятого порядка).

Пример: Найти производную 13-го порядка функции $y = \sin x$.



$$\begin{aligned}y' &= (\sin x)' = \cos x = \sin \left(x + \frac{\pi}{2} \right), \\y'' &= (y')' = (\cos x)' = -\sin x = \sin \left(x + \frac{\pi}{2} \cdot 2 \right), \\y''' &= (-\sin x)' = -\cos x = \sin \left(x + \frac{\pi}{2} \cdot 3 \right), \\y^{IV} &= (-\cos x)' = \sin x = \sin \left(x + \frac{\pi}{2} \cdot 4 \right), \\&\dots\dots\dots\end{aligned}$$

$$y^{(13)} = \sin \left(x + \frac{\pi}{2} \cdot 13 \right).$$



2. Механический смысл производной второго порядка

Пусть материальная точка M движется прямолинейно по закону $S = f(t)$. Как уже известно, производная S'_t равна скорости точки в данный момент времени: $S'_t = V$.

Покажем, что *вторая производная от пути по времени есть величина ускорения прямолинейного движения точки*, т. е. $S''_t = a$.

Пусть в момент времени t скорость точки равна V , а в момент $t + \Delta t$ — скорость равна $V + \Delta V$, т. е. за промежуток времени Δt скорость изменилась на величину ΔV .

Отношение $\frac{\Delta V}{\Delta t}$ выражает среднее ускорение движения точки за время Δt . Предел этого отношения при $\Delta t \rightarrow 0$ называется ускорением точки M в данный момент t и обозначается буквой a :

$$\lim_{\Delta t \rightarrow 0} \frac{\Delta V}{\Delta t} = a, \text{ т. е. } V' = a.$$

Но $V = S'_t$. Поэтому $a = (S'_t)'$, т. е. $a = S''_t$

3. Производные высших порядков неявно заданной функции

Пусть функция $y = f(x)$ задана неявно в виде уравнения $F(x; y) = 0$.

Продифференцировав это уравнение по x и разрешив полученное уравнение относительно y' , найдем производную первого порядка (первую производную). Продифференцировав по x первую производную, получим вторую производную от неявной функции. В нее войдут x, y и y' . Подставляя уже найденное значение y' в выражение второй производной, выразим y'' через x и y .

Аналогично поступаем для нахождения производной третьего (и дальше) порядка.

Пример: Найти y''' , если $x^2 + y^2 = 1$.

◆ Дифференцируем уравнение $x^2 + y^2 - 1 = 0$ по x : $2x + 2y \cdot y' = 0$. Отсюда $y' = -\frac{x}{y}$. Далее имеем: $y'' = -\frac{1 \cdot y - x \cdot y'}{y^2}$, т. е. $y'' = -\frac{y - x \cdot \left(-\frac{x}{y}\right)}{y^2} = -\frac{y^2 + x^2}{y^3} = -\frac{1}{y^3}$ (так как $x^2 + y^2 = 1$), следовательно, $y''' = -\frac{-1 \cdot 3y^2 \cdot y'}{y^6} = \frac{3}{y^4} \cdot \left(-\frac{x}{y}\right) = -\frac{3x}{y^5}$. ◆

4. Производные высших порядков от функций, заданных параметрически

Пусть функция $y = f(x)$ задана параметрическими уравнениями

$$\begin{cases} x = x(t), \\ y = y(t). \end{cases}$$

Как известно, первая производная y'_x находится по формуле

$$y'_x = \frac{y'_t}{x'_t}. \quad (1)$$

Найдем вторую производную от функции заданной параметрически.

Из определения второй производной и равенства (1) следует, что

$$y''_{xx} = (y'_x)'_x = (y'_x)'_t \cdot t'_x = \frac{(y'_x)'_t}{x'_t},$$

т. е.

$$y''_{xx} = \frac{(y'_x)'_t}{x'_t}. \quad (2)$$

Аналогично получаем

$$y'''_{xxx} = \frac{(y''_{xx})'_t}{x'_t}, \quad y^{IV}_{xxxx} = \frac{(y'''_{xxx})'_t}{x'_t}, \quad \dots$$

Пример: Найти вторую производную функции $\begin{cases} x = \cos t, \\ y = \sin t. \end{cases}$

◆ По формуле (1)

$$y'_x = \frac{(\sin t)'_t}{(\cos t)'_t} = \frac{\cos t}{-\sin t} = -\operatorname{ctg} t.$$

Тогда по формуле (2)

$$y''_{xx} = \frac{(-\operatorname{ctg} t)'_t}{(\cos t)'_t} = \frac{\frac{1}{\sin^2 t}}{-\sin t} = -\frac{1}{\sin^3 t}. \quad \blacklozenge$$

Заметим, что найти y''_{xx} можно по преобразованной формуле (2):

$$y''_{xx} = \frac{(y'_x)'_t}{x'_t} = \frac{(\frac{y'_t}{x'_t})'_t}{x'_t} = \frac{y''_t \cdot x'_t - x''_t \cdot y'_t}{(x'_t)^3},$$

запоминать которую вряд ли стоит.

70. ДИФФЕРЕНЦИАЛ ФУНКЦИИ И ЕГО ГЕОМЕТРИЧЕСКИЙ СМЫСЛ

Пусть функция $y = f(x)$ имеет в точке x отличную от нуля производную $\lim_{\Delta x \rightarrow 0} \frac{\Delta y}{\Delta x} = f'(x) \neq 0$. Тогда, по теореме о связи функции, ее предела и бесконечно малой функции, можно записать $\frac{\Delta y}{\Delta x} = f'(x) + \alpha$, где $\alpha \rightarrow 0$ при $\Delta x \rightarrow 0$, или $\Delta y = f'(x) \cdot \Delta x + \alpha \cdot \Delta x$.

Таким образом, приращение функции Δy представляет собой сумму двух слагаемых $f'(x) \cdot \Delta x$ и $\alpha \cdot \Delta x$, являющимися бесконечно малыми при $\Delta x \rightarrow 0$. При этом первое слагаемое есть бесконечно малая функция одного порядка с Δx , так как $\lim_{\Delta x \rightarrow 0} \frac{f'(x) \cdot \Delta x}{\Delta x} = f'(x) \neq 0$, а второе слагаемое есть бесконечно малая функция более высокого порядка, чем Δx :

$$\lim_{\Delta x \rightarrow 0} \frac{\alpha \cdot \Delta x}{\Delta x} = \lim_{\Delta x \rightarrow 0} \alpha = 0.$$

Поэтому первое слагаемое $f'(x) \cdot \Delta x$ называют *главной частью приращения* функции Δy .

Дифференциалом функции $y = f(x)$ в точке x называется главная часть ее приращения, равная произведению производной функции на приращение аргумента, и обозначается dy (или $df(x)$):

$$dy = f'(x) \cdot \Delta x. \quad (1)$$

Дифференциал dy называют также *дифференциалом первого порядка*. Найдем дифференциал независимой переменной x , т. е. дифференциал функции $y = x$.

Так как $y' = x' = 1$, то, согласно формуле (1), имеем $dy = dx = \Delta x$, т. е. дифференциал независимой переменной равен приращению этой переменной: $dx = \Delta x$.

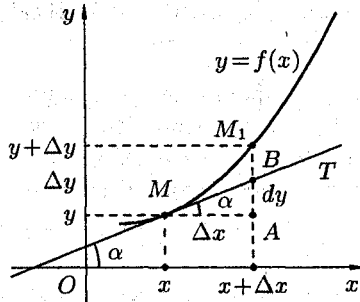
Поэтому формулу (1) можно записать так:

$$dy = f'(x)dx, \quad (2)$$

иными словами *дифференциал функции равен произведению производной этой функции на дифференциал независимой переменной*.

Из формулы (2) следует равенство $\frac{dy}{dx} = f'(x)$. Теперь обозначение производной $\frac{dy}{dx}$ можно рассматривать как отношение дифференциалов dy и dx .

Выясним геометрический смысл дифференциала.



Для этого проведем к графику функции $y = f(x)$ в точке $M(x; y)$ касательную MT и рассмотрим ординату этой касательной для точки $x + \Delta x$. На рисунке $AM = \Delta x$, $AM_1 = \Delta y$. Из прямоугольного треугольника MAB имеем:

$$\operatorname{tg} \alpha = \frac{AB}{\Delta x}, \text{ т. е. } AB = \operatorname{tg} \alpha \cdot \Delta x.$$

Но, согласно геометрическому смыслу производной, $\operatorname{tg} \alpha = f'(x)$. Поэтому $AB = f'(x) \cdot \Delta x$.

Сравнивая полученный результат с формулой (1), получаем $dy = AB$, т. е. *дифференциал функции $y = f(x)$ в точке x равен приращению ординаты касательной к графику функции в этой точке, когда x получит приращение Δx .*

В этом и состоит геометрический смысл дифференциала.

Примеры: 1. Найти дифференциал функции

$$f(x) = 3x^2 - \sin(1 + 2x).$$

◆ По формуле $dy = f'(x) dx$ находим

$$dy = (3x^2 - \sin(1 + 2x))' dx = (6x - 2 \cos(1 + 2x)) dx. \quad \blacklozenge$$

2. Найти дифференциал функции

$$dy = \ln(1 + e^{10x}) + \sqrt{x^2 + 1}.$$

Вычислить dy при $x = 0$, $dx = 0,1$.

$$\blacklozenge \quad dy = (\ln(1 + e^{10x}) + \sqrt{x^2 + 1})' dx = \left(\frac{10e^{10x}}{1 + e^{10x}} + \frac{x}{\sqrt{x^2 + 1}} \right) dx.$$

Подставив $x = 0$ и $dx = 0,1$, получим

$$dy \Big|_{\substack{x=0, \\ dx=0,1}} = \left(\frac{10}{2} + 0 \right) 0,1 = 0,5. \quad \blacklozenge$$

71. ОСНОВНЫЕ ТЕОРЕМЫ О ДИФФЕРЕНЦИАЛАХ. ТАБЛИЦА ДИФФЕРЕНЦИАЛОВ

Основные теоремы о дифференциалах легко получить, используя связь дифференциала и производной функции ($dy = f'(x) dx$) и соответствующие теоремы о производных.

Например, так как производная функции $y = c$ равна нулю, то дифференциал постоянной величины равен нулю: $dy = c' dx = 0 \cdot dx = 0$.

Теорема 1. Дифференциал суммы, произведения и частного двух дифференцируемых функций определяются следующими формулами:

$$\begin{aligned}d(u + v) &= du + dv, \\d(uv) &= v \cdot du + u \cdot dv, \\d\left(\frac{u}{v}\right) &= \frac{v du - u dv}{v^2}, \quad (v \neq 0).\end{aligned}$$

◀ Докажем, например, вторую формулу. По определению дифференциала имеем:

$$d(uv) = (uv)' dx = (u'v + uv') dx = v \cdot u' dx + u \cdot v' dx = v du + u dv. \quad \blacktriangleright$$

Теорема 2. Дифференциал сложной функции равен произведению производной этой функции по промежуточному аргументу на дифференциал этого промежуточного аргумента.

◀ Пусть $y = f(u)$ и $u = \varphi(x)$ две дифференцируемые функции, образующие сложную функцию $y = f(\varphi(x))$. По теореме о производной сложной функции можно написать

$$y'_x = y'_u \cdot u'_x.$$

Умножив обе части этого равенства на dx , получаем $y'_x dx = y'_u \cdot u'_x dx$. Но $y'_x dx = dy$ и $u'_x dx = du$. Следовательно, последнее равенство можно переписать так:

$$dy = y'_u \cdot du. \quad \blacktriangleright$$

Сравнивая формулы $dy = y'_x \cdot dx$ и $dy = y'_u \cdot du$, видим, что первый дифференциал функции $y = f(x)$ определяется одной и той же формулой независимо от того, является ли ее аргумент независимой переменной или является функцией другого аргумента.

Это свойство дифференциала называют *инвариантностью* (неизменностью) *формы первого дифференциала*.

Формула $dy = y'_x \cdot dx$ по внешнему виду совпадает с формулой $dy = y'_u \cdot du$, но между ними есть принципиальное отличие: в первой формуле x — независимая переменная, следовательно, $dx = \Delta x$, во второй формуле u есть функция от x , поэтому, вообще говоря, $du \neq \Delta u$.

С помощью определения дифференциала и основных теорем о дифференциалах легко преобразовать таблицу производных в таблицу дифференциалов.

Например, $d(\cos u) = (\cos u)'_u \cdot du = -\sin u \cdot du$.

Таблица дифференциалов

1. $d(u \pm v) = du \pm dv$;

2. $d(u \cdot v) = v du + u dv$, в частности $d(cu) = c \cdot du$;

3. $d\left(\frac{u}{v}\right) = \frac{v du - u dv}{v^2}$, в частности $d\left(\frac{c}{v}\right) = -\frac{c dv}{v^2}$;

4. $dy = y'_x dx$, если $y = f(x)$.

5. $dy = y'_u \cdot du$, если $y = f(u)$, $u = \varphi(x)$;

6. $dc = 0$;

7. $d(u^\alpha) = \alpha \cdot u^{\alpha-1} \cdot du$;

8. $d(a^u) = a^u \cdot \ln a \cdot du$, в частности $d(e^u) = e^u \cdot du$;

9. $d(\log_a u) = \frac{1}{u \cdot \ln a} \cdot du$, в частности $d(\ln u) = \frac{1}{u} \cdot du$;

10. $d(\sin u) = \cos u du$;

11. $d(\cos u) = -\sin u du$;

12. $d(\operatorname{tg} u) = \frac{1}{\cos^2 u} du$;

13. $d(\operatorname{ctg} u) = -\frac{1}{\sin^2 u} du$;

14. $d(\arcsin u) = \frac{1}{\sqrt{1-u^2}} du$;

15. $d(\arccos u) = -\frac{1}{\sqrt{1-u^2}} du$;

16. $d(\operatorname{arctg} u) = \frac{1}{1+u^2} du$;

17. $d(\operatorname{arcctg} u) = -\frac{1}{1+u^2} du$;

18. $d(\operatorname{sh} u) = \operatorname{ch} u du$;

19. $d(\operatorname{ch} u) = \operatorname{sh} u du$;

20. $d(\operatorname{th} u) = \frac{1}{\operatorname{ch}^2 u} du$;

21. $d(\operatorname{cth} u) = -\frac{1}{\operatorname{sh}^2 u} du$.

72. ПРИМЕНЕНИЕ ДИФФЕРЕНЦИАЛА К ПРИБЛИЖЕННЫМ ВЫЧИСЛЕНИЯМ

Как уже известно, приращение Δy функции $y = f(x)$ в точке x можно представить в виде $\Delta y = f'(x) \cdot \Delta x + \alpha \cdot \Delta x$, где $\alpha \rightarrow 0$ при $\Delta x \rightarrow 0$, или $\Delta y = dy + \alpha \cdot \Delta x$. Отбрасывая бесконечно малую $\alpha \cdot \Delta x$ более высокого порядка, чем Δx , получаем приближенное равенство

$$\Delta y \approx dy, \quad (1)$$

причем это равенство тем точнее, чем меньше Δx .

Это равенство позволяет с большой точностью вычислить приближенно приращение любой дифференцируемой функции.

Дифференциал обычно находится значительно проще, чем приращение функции, поэтому формула (1) широко применяется в вычислительной практике.

Пример: Найти приближенное значение приращения функции $y = x^3 - 2x + 1$ при $x = 2$ и $\Delta x = 0,001$.

◆ Применяем формулу (1): $\Delta y \approx dy = (x^3 - 2x + 1)' \cdot \Delta x = (3x^2 - 2) \cdot \Delta x$.

$$dy \Big|_{\substack{x=2 \\ \Delta x=0,001}} = (3 \cdot 4 - 2) \cdot 0,001 = 10 \cdot 0,001 = 0,01.$$

Итак, $\Delta y \approx 0,01$.

Посмотрим, какую погрешность допустили, вычислив дифференциал функции вместо ее приращения. Для этого найдем Δy :

$$\begin{aligned} \Delta y &= ((x + \Delta x)^3 - 2(x + \Delta x) + 1) - (x^3 - 2x + 1) = \\ &= x^3 + 3x^2 \cdot \Delta x + 3x \cdot (\Delta x)^2 + (\Delta x)^3 - 2x - 2 \cdot \Delta x + 1 - x^3 + 2x - 1 = \\ &= \Delta x(3x^2 + 3x \cdot \Delta x + (\Delta x)^2 - 2); \end{aligned}$$

$$\Delta y \Big|_{\substack{x=2 \\ \Delta x=0,001}} = 0,001(3 \cdot 4 + 3 \cdot 2 \cdot 0,001 + 0,001^2 - 2) = 0,010006.$$

Абсолютная погрешность приближения равна

$$|\Delta y - dy| = |0,010006 - 0,01| = 0,000006. \quad \blacklozenge$$

Подставляя в равенство (1) значения Δy и dy , получим

$$f(x + \Delta x) - f(x) \approx f'(x) \cdot \Delta x$$

или

$$f(x + \Delta x) \approx f(x) + f'(x) \cdot \Delta x. \quad (2)$$

Формула (2) используется для вычислений приближенных значений функций.

Примеры: 1. Вычислить приближенно $\operatorname{arctg} 1,05$.

◆ Рассмотрим функцию $f(x) = \operatorname{arctg} x$. По формуле (2) имеем:

$$\operatorname{arctg}(x + \Delta x) \approx \operatorname{arctg} x + (\operatorname{arctg} x)' \cdot \Delta x,$$

т. е.

$$\operatorname{arctg}(x + \Delta x) \approx \operatorname{arctg} x + \frac{\Delta x}{1 + x^2}.$$

Так как $x + \Delta x = 1,05$, то при $x = 1$ и $\Delta x = 0,05$ получаем:

$$\operatorname{arctg} 1,05 \approx \operatorname{arctg} 1 + \frac{0,05}{1 + 1} = \frac{\pi}{4} + 0,025 \approx 0,810. \quad \blacklozenge$$

Можно показать, что абсолютная погрешность формулы (2) не превышает величины $\frac{M}{2} \cdot (\Delta x)^2$, где M — наибольшее значение $|f''(x)|$ на сегменте $[x; x + \Delta x]$.

2. Какой путь пройдет тело при свободном падении на Луне за 10,04 с от начала падения. Уравнение свободного падения тела $H = \frac{g_{\text{л}} \cdot t^2}{2}$, $g_{\text{л}} = 1,6 \text{ м/с}^2$.

◆ Требуется найти $H(10,04)$. Воспользуемся приближенной формулой ($\Delta H \approx dH$)

$$H(t + \Delta t) \approx H(t) + H'(t) \cdot \Delta t.$$

При $t = 10$ с и $\Delta t = dt = 0,04$ с, $H'(t) = g_{\text{л}}t$, находим

$$H(10,04) \approx \frac{1,6 \cdot 100}{2} + 1,6 \cdot 10 \cdot 0,04 = 80 + 0,64 = 80,64 \text{ (м)}. \quad \blacklozenge$$

3. (Самостоятельно) Тело массой $m = 20$ кг движется со скоростью $v = 10,02$ м/с. Вычислить приближенно кинетическую энергию тела ($E_{\text{к}} = \frac{mv^2}{2}$; $E_{\text{к}}(10,02) \approx 1004$ (Дж)).

73. ДИФФЕРЕНЦИАЛЫ ВЫСШИХ ПОРЯДКОВ

Пусть $y = f(x)$ дифференцируемая функция, а ее аргумент x — независимая переменная. Тогда ее первый дифференциал $dy = f'(x) dx$ есть также функция x ; можно найти дифференциал этой функции.

Дифференциал от дифференциала функции $y = f(x)$ называется ее вторым дифференциалом (или дифференциалом второго порядка) и обозначается d^2y или $d^2f(x)$:

Итак, по определению $d^2y = d(dy)$. Найдем выражение второго дифференциала функции $y = f(x)$.

Так как $dx = \Delta x$ не зависит от x , то при дифференцировании считаем dx постоянным:

$$d^2y = d(dy) = d(f'(x) dx) = (f'(x) dx)' \cdot dx = f''(x) dx \cdot dx = f''(x)(dx)^2$$

т. е.

$$d^2y = f''(x) dx^2. \quad (1)$$

Здесь dx^2 обозначает $(dx)^2$.

Аналогично определяется и находится дифференциал третьего порядка:

$$d^3y = d(d^2y) = d(f''(x) dx^2) = f'''(x)(dx)^3.$$

И, вообще, дифференциал n -го порядка есть дифференциал от дифференциала $(n-1)$ -го порядка: $d^n y = d(d^{n-1}y) = f^{(n)}(x)(dx)^n$.

Отсюда находим, что $f^{(n)}(x) = \frac{d^n y}{dx^n}$. В частности, при $n = 1, 2, 3$ соответственно получаем:

$$f'(x) = \frac{dy}{dx}, \quad f''(x) = \frac{d^2y}{dx^2}, \quad f'''(x) = \frac{d^3y}{dx^3},$$

т. е. производную функции можно рассматривать как отношение ее дифференциала соответствующего порядка к соответствующей степени дифференциала независимой переменной.

Отметим, что все приведенные выше формулы справедливы только, если x — независимая переменная. Если же функцию $y = f(x)$, где x — функция от какой-то другой независимой переменной, то дифференциалы второго и выше порядков не обладают свойством инвариантности формы и вычисляются по другим формулам. Покажем это на примере дифференциала второго порядка.

Используя формулу дифференциала произведения $(d(u \cdot v) = v du + u dv)$, получаем:

$$d^2y = d(f'(x) dx) = d(f'(x)) dx + f'(x) \cdot d(dx) = f''(x) dx + f'(x) \cdot d^2x,$$

т. е.

$$d^2y = f''(x) dx^2 + f'(x) \cdot d^2x. \quad (2)$$

Сравнивая формулы (1) и (2), убеждаемся, что в случае сложной функции формула дифференциала второго порядка изменяется: появляется второе слагаемое $f'(x) \cdot d^2x$.

Ясно, что если x — независимая переменная, то

$$d^2x = d(dx) = d(1 \cdot dx) = dx \cdot d(1) = dx \cdot 0 = 0$$

и формула (2) переходит в формулу (1).

Примеры: 1) Найти d^2y , если $y = e^{3x}$ и x — независимая переменная.

◆ Так как $y' = 3e^{3x}$, $y'' = 9e^{3x}$, то по формуле (1) имеем $d^2y = 9e^{3x} dx^2$. ◆

2) Найти d^2y , если $y = x^2$ и $x = t^3 + 1$ и t — независимая переменная.

◆ Используем формулу (2): так как

$$y' = 2x, \quad y'' = 2, \quad dx = 3t^2 dt, \quad d^2x = 6t dt^2,$$

то

$$\begin{aligned} d^2y &= 2dx^2 + 2x \cdot 6t dt^2 = 2(3t^2 dt)^2 + 2(t^3 + 1)6t dt^2 = \\ &= 18t^4 dt^2 + 12t^4 dt^2 + 12t dt^2 = (30t^4 + 12t) dt^2. \end{aligned}$$

Другое решение: $y = x^2$, $x = t^3 + 1$. Следовательно, $y = (t^3 + 1)^2$. Тогда по формуле (1):

$$d^2y = y'' \cdot dt^2,$$

т. е.

$$d^2y = (30t^4 + 12t) dt^2. \quad \blacklozenge$$

VII. ПРИМЕНЕНИЕ ПРОИЗВОДНЫХ (К ИССЛЕДОВАНИЮ ФУНКЦИЙ)

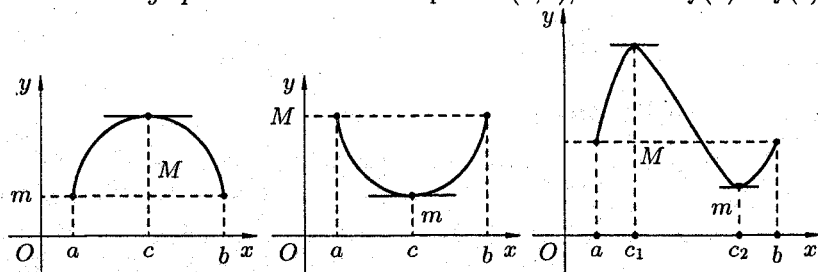
74. ТЕОРЕМА РОЛЛЯ

Рассмотрим ряд теорем, имеющих большое теоретическое и прикладное значение.

Теорема 1 (Ролль). Если функция $f(x)$ непрерывна на отрезке $[a; b]$, дифференцируема на интервале $(a; b)$ и на концах отрезка принимает одинаковые значения $f(a) = f(b)$, то найдется хотя бы одна точка $c \in (a; b)$, в которой производная $f'(x)$ обращается в нуль, т. е. $f'(c) = 0$.

◀ Так как функция $f(x)$ непрерывна на отрезке $[a; b]$, то она достигает на этом отрезке своего наибольшего и наименьшего значений, соответственно, M и m . Если $M = m$, то функция $f(x)$ постоянна на $[a; b]$ и, следовательно, ее производная $f'(x) = 0$ в любой точке отрезка $[a; b]$.

Если $M \neq m$, то функция достигает хотя бы одно из значений M или m во внутренней точке c интервала $(a; b)$, так как $f(a) = f(b)$.



Пусть, например, функция принимает значение M в точке $x = c \in (a; b)$, т. е. $f(c) = M$. Тогда для всех $x \in (a; b)$ выполняется соотношение

$$f(c) \geq f(x). \quad (1)$$

Найдем производную $f'(x)$ в точке $x = c$:

$$f'(c) = \lim_{\Delta x \rightarrow 0} \frac{f(c + \Delta x) - f(c)}{\Delta x}.$$

В силу условия (1) верно неравенство $f(c + \Delta x) - f(c) \leq 0$. Если $\Delta x > 0$ (т. е. $\Delta x \rightarrow 0$ справа от точки $x = c$), то

$$\frac{f(c + \Delta x) - f(c)}{\Delta x} \leq 0 \text{ и поэтому } f'(c) \leq 0.$$

Если $\Delta x < 0$, то

$$\frac{f(c + \Delta x) - f(c)}{\Delta x} \geq 0 \text{ и } f'(c) \geq 0.$$

Таким образом, $f'(c) = 0$.

В случае, когда $f(c) = m$, доказательство аналогичное. ▶

Геометрически теорема Ролля означает, что на графике функции $y = f(x)$ найдется точка, в которой касательная к графику параллельна оси Ox . На третьем рисунке таких точек две.

75. ТЕОРЕМА КОШИ

Теорема 1. Если функции $f(x)$ и $\varphi(x)$ непрерывны на отрезке $[a; b]$, дифференцируемы на интервале $(a; b)$, причем $\varphi'(x) \neq 0$ для $x \in (a; b)$, то найдется хотя бы одна точка $c \in (a; b)$ такая, что выполняется равенство $\frac{f(b) - f(a)}{\varphi(b) - \varphi(a)} = \frac{f'(c)}{\varphi'(c)}$.

◀ Отметим, что $\varphi(b) - \varphi(a) \neq 0$, так как в противном случае по теореме Ролля нашлась бы точка c , такая, что $\varphi'(c) = 0$, чего не может быть по условию теоремы. Рассмотрим вспомогательную функцию

$$F(x) = f(x) - f(a) - \frac{f(b) - f(a)}{\varphi(b) - \varphi(a)} (\varphi(x) - \varphi(a)).$$

Она удовлетворяет всем условиям теоремы Ролля: непрерывна на отрезке $[a; b]$ и дифференцируема на интервале $(a; b)$, так как является линейной комбинацией функций $f(x)$ и $\varphi(x)$; на концах отрезка она принимает одинаковые значения $F(a) = F(b) = 0$.

На основании теоремы Ролля найдется точка $x = c \in (a; b)$ такая, что $F'(c) = 0$. Но $F'(x) = f'(x) - \frac{f(b) - f(a)}{\varphi(b) - \varphi(a)} \varphi'(x)$, следовательно,

$$F'(c) = f'(c) - \frac{f(b) - f(a)}{\varphi(b) - \varphi(a)} \varphi'(c) = 0.$$

Отсюда следует

$$f'(c) = \frac{f(b) - f(a)}{\varphi(b) - \varphi(a)} \varphi'(c) \quad \text{и} \quad \frac{f'(c)}{\varphi'(c)} = \frac{f(b) - f(a)}{\varphi(b) - \varphi(a)}. \quad \blacktriangleright$$

76. ТЕОРЕМА ЛАГРАНЖА И ЕЕ СЛЕДСТВИЯ

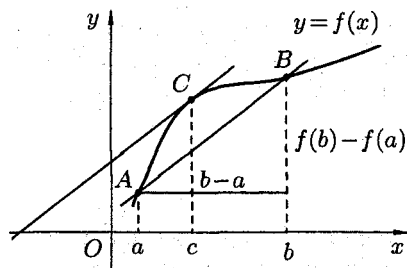
Теорема 1. Если функция $f(x)$ непрерывна на отрезке $[a; b]$, дифференцируема на интервале $(a; b)$, то найдется хотя бы одна точка $c \in (a; b)$ такая, что выполняется равенство

$$f(b) - f(a) = f'(c)(b - a). \quad (1)$$

◆ Теорему Лагранжа можно рассматривать как частный случай теоремы Коши. Действительно, положив $\varphi(x) = x$, находим $\varphi(b) - \varphi(a) = b - a$, $\varphi'(x) = 1$, $\varphi'(c) = 1$.

Подставляя эти значения в формулу $\frac{f(b) - f(a)}{\varphi(b) - \varphi(a)} = \frac{f'(c)}{\varphi'(c)}$, получаем $\frac{f(b) - f(a)}{b - a} = f'(c)$ или $f(b) - f(a) = f'(c)(b - a)$. ◆

Полученную формулу называют *формулой Лагранжа* или *формулой о конечном приращении*: приращение дифференцируемой функции на отрезке $[a; b]$ равно приращению аргумента умноженному на значение производной функции в некоторой внутренней точке этого отрезка.



Теорема Лагранжа имеет простой геометрический смысл. Запишем формулу (1) в виде $\frac{f(b) - f(a)}{b - a} = f'(c)$, где $a < c < b$.

Отношение $\frac{f(b) - f(a)}{b - a}$ есть угловой коэффициент secant AB, а величина $f'(c)$ — угловой коэффициент касательной к кривой в точке с абсциссой $x = c$.

Следовательно, геометрический смысл теоремы Лагранжа таков: на графике функции $y = f(x)$ найдется точка $C(c; f(c))$, в которой касательная к графику функции параллельна secant AB.

Следствие 1. Если производная функции равна нулю на некотором промежутке, то функция постоянна на этом промежутке.

◀ Пусть $f'(x) = 0$ для $\forall x \in (a; b)$. Возьмем произвольные x_1 и x_2 из $(a; b)$ и пусть $x_1 < x_2$. Тогда по теореме Лагранжа $\exists c \in (x_1; x_2)$ такая, что $f(x_2) - f(x_1) = f'(c)(x_2 - x_1)$. Но по условию $f'(x) = 0$, стало быть, $f'(c) = 0$, где $x_1 < c < x_2$. Поэтому имеем $f(x_2) - f(x_1) = 0$, т. е. $f(x_2) = f(x_1)$. А так как x_1 и x_2 — произвольные точки из интервала $(a; b)$, то $\forall x \in (a; b)$ имеем $f(x) = c$. ▶

Следствие 2. Если две функции имеют равные производные на некотором промежутке, то они отличаются друг от друга на постоянное слагаемое.

◀ Пусть $f_1'(x) = f_2'(x)$ при $x \in (a; b)$. Тогда $(f_1(x) - f_2(x))' = f_1'(x) - f_2'(x) = 0$. Следовательно, согласно следствию 1, функция $f_1(x) - f_2(x)$ есть постоянная, т. е. $f_1(x) - f_2(x) = C$ для $\forall x \in (a; b)$. ▶

Пример: Доказать, что $\arcsin x + \arccos x = \frac{\pi}{2}$, где $x \in [-1; 1]$.

◆ Пусть $f(x) = \arcsin x + \arccos x$. Тогда $\forall x \in (-1; 1)$ имеем $f'(x) = \frac{1}{\sqrt{1-x^2}} + \frac{-1}{\sqrt{1-x^2}} = 0$. Отсюда следует, что $f(x) = C$, т. е. $\arcsin x + \arccos x = C$. Положив $x = 0$, находим $0 + \frac{\pi}{2} = C$, т. е. $C = \frac{\pi}{2}$.

Поэтому $\arcsin x + \arccos x = \frac{\pi}{2}$. ◆

Аналогично доказывается, что $\operatorname{arctg} x + \operatorname{arcctg} x = \frac{\pi}{2}$.

Формуле Лагранжа можно придать другой вид. Применяв теорему Лагранжа к отрезку $[x; x + \Delta x]$ ($\Delta x > 0$), будем иметь

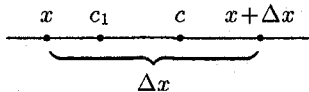
$$f(x + \Delta x) - f(x) = f'(c)\Delta x. \quad (2)$$

Каждое число $c \in (x; x + \Delta x)$ можно записать в виде $c = x + \theta\Delta x$, где $0 < \theta < 1$ (действительно, $x < c < x + \Delta x \implies 0 < c - x < \Delta x \implies 0 < \frac{c-x}{\Delta x} < 1$; положим $\frac{c-x}{\Delta x} = \theta \implies c = x + \theta\Delta x$). Формула (2) примет вид $f(x + \Delta x) - f(x) = f'(x + \theta\Delta x)\Delta x$, где $0 < \theta < 1$.

Используя теорему Лагранжа, можно оценить точность приближенного равенства $\Delta y \approx dy$. Сделаем это, считая, что функция $f(x)$ имеет непрерывную вторую производную $f''(x)$:

$$\begin{aligned} \Delta y - dy &= (f(x + \Delta x) - f(x)) - f'(x)\Delta x = f'(c)\Delta x - f'(x)\Delta x = \\ &= (f'(c) - f'(x))\Delta x = f''(c_1)(c - x)\Delta x, \end{aligned}$$

где $c_1 \in (x; c)$.



Итак, $\Delta y - dy = f''(c_1)(c - x)\Delta x$. Пусть $M = \max_{[x; x + \Delta x]} |f''(x)|$. Так как $|c - x| < \Delta x$, а $f''(c_1) \leq M$, то получаем оценку $|\Delta y - dy| \leq M|\Delta x|^2$.

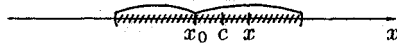
77. ПРАВИЛО ЛОПИТАЛЯ

Рассмотрим способ раскрытия неопределенностей вида $\frac{0}{0}$ и $\frac{\infty}{\infty}$, который основан на применении производных.

Теорема 1. Пусть функции $f(x)$ и $\varphi(x)$ непрерывны и дифференцируемы в окрестности точки x_0 и обращаются в нуль в этой точке: $f(x_0) = \varphi(x_0) = 0$. Пусть $\varphi'(x) \neq 0$ в окрестности точки x_0 . Если существует предел: $\lim_{x \rightarrow x_0} \frac{f'(x)}{\varphi'(x)} = l$, то $\lim_{x \rightarrow x_0} \frac{f(x)}{\varphi(x)} = \lim_{x \rightarrow x_0} \frac{f'(x)}{\varphi'(x)} = l$.

◀ Применим к функциям $f(x)$ и $\varphi(x)$ теорему Коши для отрезка $[x_0; x]$, лежащего в окрестности точки x_0 . Тогда $\frac{f(x) - f(x_0)}{\varphi(x) - \varphi(x_0)} = \frac{f'(c)}{\varphi'(c)}$, где c лежит между x_0 и x . Учитывая, что $f(x_0) = \varphi(x_0) = 0$, получаем

$$\frac{f(x)}{\varphi(x)} = \frac{f'(c)}{\varphi'(c)}. \quad (1)$$



При $x \rightarrow x_0$, величина c также стремится к x_0 ; перейдем в равенстве (1) к пределу:

$$\lim_{x \rightarrow x_0} \frac{f(x)}{\varphi(x)} = \lim_{c \rightarrow x_0} \frac{f'(c)}{\varphi'(c)}.$$

Так как $\lim_{x \rightarrow x_0} \frac{f'(x)}{\varphi'(x)} = l$, то $\lim_{c \rightarrow x_0} \frac{f'(c)}{\varphi'(c)} = l$. Поэтому $\lim_{x \rightarrow x_0} \frac{f(x)}{\varphi(x)} = l$. ▶

Коротко полученную формулу читают так: предел отношения двух бесконечно малых равен пределу отношения их производных, если последний существует.

Замечания. 1. Теорема 1 верна и в случае, когда функции $f(x)$ и $\varphi(x)$ неопределены при $x = x_0$, но $\lim_{x \rightarrow x_0} f(x) = 0$ и $\lim_{x \rightarrow x_0} \varphi(x) = 0$. Достаточно положить $f(a) = \lim_{x \rightarrow x_0} f(x) = 0$ и $\varphi(a) = \lim_{x \rightarrow x_0} \varphi(x) = 0$.

2. Теорема 1 справедлива и в том случае, когда $x \rightarrow \infty$. Действительно, положив $x = \frac{1}{z}$, получим

$$\lim_{x \rightarrow \infty} \frac{f(x)}{\varphi(x)} = \lim_{z \rightarrow 0} \frac{f(\frac{1}{z})}{\varphi(\frac{1}{z})} = \lim_{z \rightarrow 0} \frac{(f(\frac{1}{z}))'}{(\varphi(\frac{1}{z}))'} = \lim_{z \rightarrow 0} \frac{f'(\frac{1}{z})(-\frac{1}{z^2})}{\varphi'(\frac{1}{z})(-\frac{1}{z^2})} = \lim_{x \rightarrow \infty} \frac{f'(x)}{\varphi'(x)}.$$

3. Если производные $f'(x)$ и $\varphi'(x)$ удовлетворяют тем же условиям, что и функции $f(x)$ и $\varphi(x)$, теорему 1 можно применить еще раз:

$$\lim_{x \rightarrow x_0} \frac{f(x)}{\varphi(x)} = \lim_{x \rightarrow x_0} \frac{f'(x)}{\varphi'(x)} = \lim_{x \rightarrow x_0} \frac{f''(x)}{\varphi''(x)}$$

и т. д.

Примеры:

1) Найти $\lim_{x \rightarrow 1} \frac{x-1}{x \ln x}$.

$$\diamond \lim_{x \rightarrow 1} \frac{x-1}{x \ln x} = \left[\frac{0}{0} \right] = \lim_{x \rightarrow 1} \frac{(x-1)'}{(x \ln x)'} = \lim_{x \rightarrow 1} \frac{1}{\ln x + 1} = 1. \quad \diamond$$

2) Найти $\lim_{x \rightarrow 0} \frac{1 - \cos 6x}{2x^2}$.

$$\diamond \lim_{x \rightarrow 0} \frac{1 - \cos 6x}{2x^2} = \left[\frac{0}{0} \right] = \lim_{x \rightarrow 0} \frac{6 \sin 6x}{4x} = \left[\frac{0}{0} \right] = \frac{3}{2} \lim_{x \rightarrow 0} \frac{6 \cos 6x}{1} = 9. \quad \diamond$$

Теорема 1 дает возможность раскрывать неопределенность вида $\frac{0}{0}$. Сформулируем без доказательства теорему о раскрытии неопределенности вида $\frac{\infty}{\infty}$.

Теорема 2. Пусть функции $f(x)$ и $\varphi(x)$ непрерывны и дифференцируемы в окрестности точки x_0 , в этой окрестности $\lim_{x \rightarrow x_0} f(x) = \infty$, $\lim_{x \rightarrow x_0} \varphi(x) = \infty$, $\varphi'(x) \neq 0$. Если существует предел $\lim_{x \rightarrow x_0} \frac{f'(x)}{\varphi'(x)}$, то $\lim_{x \rightarrow x_0} \frac{f(x)}{\varphi(x)} = \lim_{x \rightarrow x_0} \frac{f'(x)}{\varphi'(x)}$.

Выраженные теоремами 1 и 2 правила вычисления пределов называют *правилом Лопиталья*.

Пример: Найти $\lim_{x \rightarrow \frac{\pi}{2}} \frac{\operatorname{tg} 3x}{\operatorname{tg} 5x}$.

$$\diamond \lim_{x \rightarrow \frac{\pi}{2}} \frac{\operatorname{tg} 3x}{\operatorname{tg} 5x} = \left[\frac{\infty}{\infty} \right] = \lim_{x \rightarrow \frac{\pi}{2}} \frac{-x^{-2}}{-\frac{1}{\sin^2 x}} = \lim_{x \rightarrow \frac{\pi}{2}} \frac{\sin^2 x}{x^2} = 1. \quad \diamond$$

78. РАСКРЫТИЕ НЕОПРЕДЕЛЕННОСТЕЙ РАЗЛИЧНЫХ ВИДОВ

Правило Лопиталья применяется для раскрытия неопределенностей вида $\frac{0}{0}$ и $\frac{\infty}{\infty}$, которые называют *основными*. Неопределенности вида $0 \cdot \infty$, $\infty - \infty$, 1^∞ , ∞^0 , 0^0 сводятся к двум основным видам путем тождественных преобразований.

1. Пусть $f(x) \rightarrow 0$, $\varphi(x) \rightarrow \infty$ при $x \rightarrow x_0$. Тогда очевидны следующие преобразования

$$\lim_{x \rightarrow x_0} (f(x)\varphi(x)) = [0 \cdot \infty] = \lim_{x \rightarrow x_0} \frac{f(x)}{\frac{1}{\varphi(x)}} = \left[\frac{0}{0} \right] \quad \left(\text{или} \quad \lim_{x \rightarrow x_0} \frac{\varphi(x)}{\frac{1}{f(x)}} = \left[\frac{\infty}{\infty} \right] \right).$$

Например,

$$\lim_{x \rightarrow 2} \operatorname{tg} \frac{\pi x}{4} (2-x) = [\infty \cdot 0] = \lim_{x \rightarrow 2} \frac{2-x}{\operatorname{ctg} \frac{\pi x}{4}} = \left[\frac{0}{0} \right] = \lim_{x \rightarrow 2} \frac{-1}{\frac{1}{\sin^2 \frac{\pi x}{4}} \cdot \frac{\pi}{4}} = \frac{4}{\pi}.$$

2. Пусть $f(x) \rightarrow \infty$, $\varphi(x) \rightarrow \infty$ при $x \rightarrow x_0$. Тогда можно поступить так:

$$\begin{aligned} \lim_{x \rightarrow x_0} (f(x) - \varphi(x)) &= [\infty - \infty] = \\ &= \lim_{x \rightarrow x_0} \left(\frac{1}{\frac{1}{f(x)}} - \frac{1}{\frac{1}{\varphi(x)}} \right) = \lim_{x \rightarrow x_0} \frac{\frac{1}{\varphi(x)} - \frac{1}{f(x)}}{\frac{1}{\varphi(x)} \frac{1}{f(x)}} = \left[\frac{0}{0} \right]. \end{aligned}$$

На практике бывает проще, *например,*

$$\begin{aligned} \lim_{x \rightarrow 1} \left(\frac{1}{\ln x} - \frac{1}{x-1} \right) &= [\infty - \infty] = \lim_{x \rightarrow 1} \frac{x-1 - \ln x}{\ln x(x-1)} = \left[\frac{0}{0} \right] = \\ &= \lim_{x \rightarrow 1} \frac{1 - \frac{1}{x}}{\frac{x-1}{x} + \ln x} = \left[\frac{0}{0} \right] = \lim_{x \rightarrow 1} \frac{\frac{1}{x^2}}{\frac{1}{x^2} + \frac{1}{x}} = \frac{1}{2}. \end{aligned}$$

3. Пусть или $f(x) \rightarrow 1$ и $\varphi(x) \rightarrow \infty$, или $f(x) \rightarrow \infty$ и $\varphi(x) \rightarrow 0$, или $f(x) \rightarrow 0$ и $\varphi(x) \rightarrow 0$ при $x \rightarrow x_0$. Для нахождения предела вида $\lim_{x \rightarrow x_0} f(x)^{\varphi(x)}$ удобно сначала прологарифмировать выражение $A = f(x)^{\varphi(x)}$.

Например, найти $\lim_{x \rightarrow 0} (\cos 2x)^{\frac{1}{x^2}}$.

◆ Имеем неопределенность вида 1^∞ . Логарифмируем выражение $A = (\cos 2x)^{\frac{1}{x^2}}$, получим $\ln A = \frac{1}{x^2} \ln \cos 2x$. Затем находим предел:

$$\begin{aligned} \lim_{x \rightarrow 0} \ln A &= \lim_{x \rightarrow 0} \frac{\ln \cos 2x}{x^2} = \left[\frac{0}{0} \right] = \\ &= \lim_{x \rightarrow 0} \frac{\frac{1}{\cos 2x} (-\sin 2x) 2}{2x} = -2 \lim_{x \rightarrow 0} \frac{\operatorname{tg} 2x}{2x} = -2, \end{aligned}$$

т. е. $\ln \lim_{x \rightarrow 0} A = -2$. Отсюда $\lim_{x \rightarrow 0} A = e^{-2}$, и $\lim_{x \rightarrow 0} (\cos 2x)^{\frac{1}{x^2}} = e^{-2}$. ◆

Решение можно оформить короче, если воспользоваться «готовой» формулой

$$\lim_{x \rightarrow x_0} f(x)^{\varphi(x)} = e^{\lim_{x \rightarrow x_0} \varphi(x) \ln f(x)} = \exp\left(\lim_{x \rightarrow x_0} \varphi(x) \ln f(x)\right)$$

(использовано основное логарифмическое тождество: $f^\varphi = e^{\ln f^\varphi}$).

Например: найти $\lim_{x \rightarrow 0} \left(\frac{1}{x}\right)^{\operatorname{tg} x}$.

$$\begin{aligned} \lim_{x \rightarrow 0} \left(\frac{1}{x}\right)^{\operatorname{tg} x} &= [\infty^0] = \exp\left(\lim_{x \rightarrow 0} \operatorname{tg} x \ln \frac{1}{x}\right) = \exp\left(\lim_{x \rightarrow 0} \frac{\ln \frac{1}{x}}{\operatorname{ctg} x}\right) = \\ &= \exp\left(\lim_{x \rightarrow 0} \frac{x \left(-\frac{1}{x^2}\right)}{-\frac{1}{\sin^2 x}}\right) = \exp\left(\lim_{x \rightarrow 0} x \left(\frac{\sin x}{x}\right)^2\right) = e^{0 \cdot 1} = e^0 = 1. \end{aligned} \quad \blacklozenge$$

79. ВОЗРАСТАНИЕ И УБЫВАНИЕ ФУНКЦИЙ

Одним из приложений производной является ее применение к исследованию функций и построению графика функции.

Установим необходимые и достаточные условия возрастания и убывания функции.

Теорема 1 (необходимые условия). Если дифференцируемая на интервале $(a; b)$ функция $f(x)$ возрастает (убывает), то $f'(x) \geq 0$ ($f'(x) \leq 0$) для $\forall x \in (a; b)$.

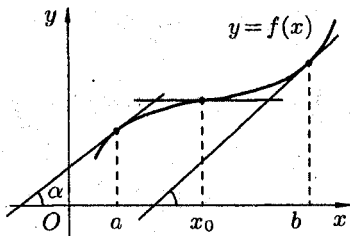
◀ Пусть функция $f(x)$ возрастает на интервале $(a; b)$. Возьмем произвольные точки x и $x + \Delta x$ на интервале $(a; b)$ и рассмотрим отноше-

ние $\frac{\Delta y}{\Delta x} = \frac{f(x + \Delta x) - f(x)}{\Delta x}$. Функция $f(x)$ возрастает, поэтому если $\Delta x > 0$, то $x + \Delta x > x$ и $f(x + \Delta x) > f(x)$; если $\Delta x < 0$, то $x + \Delta x < x$ и $f(x + \Delta x) < f(x)$. В обоих случаях $\frac{\Delta y}{\Delta x} = \frac{f(x + \Delta x) - f(x)}{\Delta x} > 0$, так как числитель и знаменатель дроби имеют одинаковые знаки. По условию теоремы функция $f(x)$ имеет производную в точке x и является пределом рассматриваемого отношения. Следовательно,

$$f'(x) = \lim_{\Delta x \rightarrow 0} \frac{f(x + \Delta x) - f(x)}{\Delta x} \geq 0. \quad \blacktriangleright$$

Аналогично рассматривается случай, когда функция $f(x)$ убывает на интервале $(a; b)$.

Геометрически теорема 1 означает, что касательные к графику возрастающей дифференцируемой функции образуют острые углы с положительным направлением оси Ox или в некоторых точках (на рисунке в точке x_0) параллельны оси Ox .



Теорема 2 (достаточные условия). Если функция $f(x)$ дифференцируема на интервале $(a; b)$ и $f'(x) > 0$ ($f'(x) < 0$) для $\forall x \in (a; b)$, то эта функция возрастает (убывает) на интервале $(a; b)$.

◀ Пусть $f'(x) > 0$. Возьмем точки x_1 и x_2 из интервала $(a; b)$, причем $x_1 < x_2$. Применим к отрезку $[x_1; x_2]$ теорему Лагранжа: $f(x_2) - f(x_1) = f'(c)(x_2 - x_1)$, где $c \in (x_1; x_2)$. По условию $f'(c) > 0$, $x_2 - x_1 > 0$. Следовательно, $f(x_2) - f(x_1) > 0$ или $f(x_2) > f(x_1)$, то есть функция $f(x)$ на интервале $(a; b)$ возрастает. ▶

Рассмотренные теоремы 1 и 2 позволяют довольно просто исследовать функцию на монотонность. Напомним, что функция возрастающая или убывающая называется *монотонной*. Промежутки, в которых данная функция возрастает или убывает, называются *промежутками монотонности*.

Пример: Исследовать функцию $f(x) = x^3 - 3x - 4$ на возрастание и убывание.

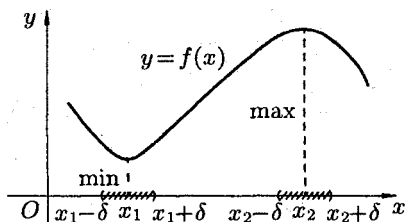
♦ Функция определена на $\mathbb{R} = (-\infty; \infty)$. Ее производная равна: $f'(x) = 3x^2 - 3 = 3(x - 1)(x + 1)$; $f'(x) > 0$ при $x \in (-\infty; -1) \cup (1; \infty)$; $f'(x) < 0$ при $x \in (-1; 1)$.

Ответ: данная функция возрастает на интервалах $(-\infty; -1)$ и $(1; \infty)$; убывает на интервале $(-1; 1)$. ♦

80. МАКСИМУМ И МИНИМУМ ФУНКЦИЙ

Точка x_0 называется *точкой максимума* функции $y = f(x)$, если существует такая δ -окрестность точки x_0 , что для всех $x \neq x_0$ из этой окрестности выполняется неравенство $f(x) < f(x_0)$.

Аналогично определяется точка минимума функции: x_0 — *точка минимума* функции, если $\exists \delta > 0 \forall x : 0 < |x - x_0| < \delta \implies f(x) > f(x_0)$. На рисунке x_1 — точка минимума, а точка x_2 — точка максимума функции $y = f(x)$.



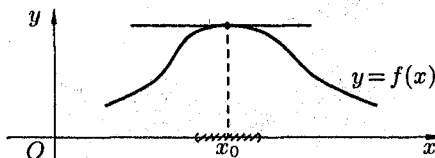
Значение функции в точке максимума (минимума) называется *максимумом* (*минимумом*) функции. Максимум или минимум функции называется *экстремумом* функции.

Понятие экстремума всегда связано с определенной окрестностью точки из области определения функции. Поэтому функция может иметь экстремум лишь *во внутренних точках* области определения. Рассмотрим условия существования экстремума функции.

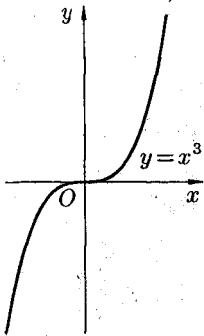
Теорема 1 (необходимое условие экстремума). Если дифференцируемая функция $y = f(x)$ имеет экстремум в точке x_0 , то ее производная в этой точке равна нулю: $f'(x_0) = 0$.

◀ Пусть, для определенности, x_0 — точка максимума. Значит, в окрестности точки x_0 выполняется неравенство $f(x_0) > f(x_0 + \Delta x)$. Но тогда $\frac{\Delta y}{\Delta x} = \frac{f(x_0 + \Delta x) - f(x_0)}{\Delta x} < 0$, если $\Delta x > 0$, и $\frac{\Delta y}{\Delta x} < 0$, если $\Delta x < 0$. По условию теоремы производная $f'(x_0) = \lim_{\Delta x \rightarrow 0} \frac{f(x_0 + \Delta x) - f(x_0)}{\Delta x}$ существует. Переходя к пределу, при $\Delta x \rightarrow 0$, получим $f'(x_0) \geq 0$, если $\Delta x < 0$, и $f'(x_0) \leq 0$, если $\Delta x > 0$. Поэтому $f'(x_0) = 0$. Аналогично доказывается утверждение теоремы 1, если x_0 — точка минимума функции $f(x)$. ▶

Геометрически равенство $f'(x_0) = 0$ означает, что в точке экстремума дифференцируемой функции $y = f(x)$ касательная к ее графику параллельна оси Ox .

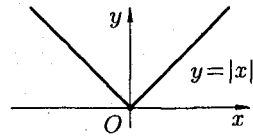


Отметим, что обратная теорема неверна, т. е. если $f'(x_0) = 0$, то это не значит, что x_0 — точка экстремума. Например, для функции $y = x^3$ ее производная $y' = 3x^2$ равна нулю при $x = 0$, но $x = 0$ не точка экстремума.

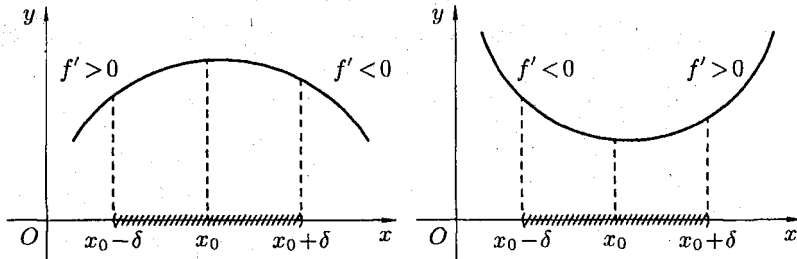


Существуют функции, которые в точках экстремума не имеют производной. Например, непрерывная функция $y = |x|$ в точке $x = 0$ производной не имеет, но точка $x = 0$ — точка минимума.

Таким образом, непрерывная функция может иметь экстремум лишь в точках, где производная функции равна нулю или не существует. Такие точки называются *критическими*.



Теорема 2 (достаточное условие экстремума). Если непрерывная функция $y = f(x)$ дифференцируема в некоторой δ -окрестности критической точки x_0 и при переходе через нее (слева направо) производная $f'(x)$ меняет знак с плюса на минус, то x_0 есть точка максимума; с минуса на плюс, то x_0 — точка минимума.



◀ Рассмотрим δ -окрестность точки x_0 . Пусть выполняются условия: $f'(x) > 0 \forall x \in (x_0 - \delta; x_0)$ и $f'(x) < 0 \forall x \in (x_0; x_0 + \delta)$. Тогда функция $f(x)$ возрастает на интервале $(x_0 - \delta; x_0)$, а на интервале $(x_0; x_0 + \delta)$ она убывает. Отсюда следует, что значение $f(x)$ в точке x_0 является наибольшим на интервале $(x_0 - \delta; x_0 + \delta)$, т. е. $f(x) < f(x_0)$ для всех $x \in (x_0 - \delta; x_0) \cup (x_0; x_0 + \delta)$. Это и означает, что x_0 — точка максимума функции.


Аналогично теорема 2 доказывается для случая, когда $f'(x) < 0 \forall x \in (x_0 - \delta; x_0)$ и $f'(x) > 0 \forall x \in (x_0; x_0 + \delta)$. ▶

Исследовать функцию на экстремум означает найти все ее экстремумы. Из теорем 1 и 2 вытекает следующее правило исследования функции на экстремум:

- 1) найти критические точки функции $y = f(x)$;
- 2) выбрать из них лишь те, которые являются внутренними точками области определения функции;
- 3) исследовать знак производной $f'(x)$ слева и справа от каждой из выбранных критических точек;
- 4) в соответствии с теоремой 2 (достаточное условие экстремума) выписать точки экстремума (если они есть) и вычислить значения функции в них.

Пример: Найти экстремум функции $y = \frac{x}{3} - \sqrt[3]{x^2}$.

◆ Очевидно, $D(y) = \mathbb{R}$. Находим $y' = \frac{1}{3} - \frac{2}{3 \cdot \sqrt[3]{x}}$, т. е. $y' = \frac{1}{3} \cdot \frac{\sqrt[3]{x} - 2}{\sqrt[3]{x}}$.



Производная не существует при $x_1 = 0$ и равна нулю при $x_2 = 8$. Эти точки разбивают всю область определения данной функции на три интервала $(-\infty; 0)$, $(0; 8)$, $(8; \infty)$. Отметим на рисунке знаки производной слева и справа от каждой из критических точек. Следовательно, $x_1 = 0$ — точка максимума, $y_{\max} = y(0) = 0$, и $x_2 = 8$ — точка минимума, $y_{\min} = y(8) = -\frac{4}{3}$. ◆

Иногда бывает удобным использовать другой достаточный признак существования экстремума, основанный на вычислении знака второй производной.

Теорема 3. Если в точке x_0 первая производная функции $f(x)$ равна нулю ($f'(x_0) = 0$), а вторая производная в точке x_0 существует и отлична от нуля ($f''(x_0) \neq 0$) при $f''(x_0) < 0$, то в точке x_0 функция имеет максимум и минимум — при $f''(x_0) > 0$.

◀ Пусть для определенности $f''(x_0) > 0$. Так как $f''(x_0) = \lim_{\Delta x \rightarrow 0} \frac{f'(x_0 + \Delta x) - f'(x_0)}{\Delta x} = \lim_{\Delta x \rightarrow 0} \frac{f'(x_0 + \Delta x)}{\Delta x} > 0$, то $\frac{f'(x_0 + \Delta x)}{\Delta x} > 0$ в достаточно малой окрестности точки x_0 . Если $\Delta x < 0$, то $f'(x_0 + \Delta x) < 0$; если $\Delta x > 0$, то $f'(x_0 + \Delta x) > 0$.

Таким образом, при переходе через точку x_0 первая производная меняет знак с минуса на плюс. Следовательно, по теореме 2, x_0 есть точка минимума.

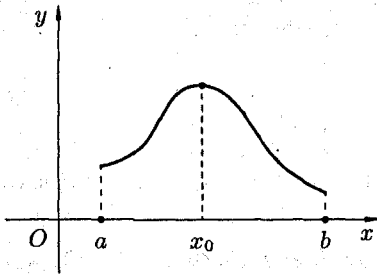
Аналогично доказывается, что если $f''(x_0) < 0$, то в точке x_0 функция имеет максимум. ▶

81. НАИБОЛЬШЕЕ И НАИМЕНЬШЕЕ ЗНАЧЕНИЯ ФУНКЦИИ НА ОТРЕЗКЕ

Пусть функция $y = f(x)$ непрерывна на отрезке $[a; b]$. Как известно, такая функция достигает своих наибольшего и наименьшего значений. Эти значения функция может принять либо во внутренней точке x_0 отрезка $[a; b]$, либо на границе отрезка, т. е. при $x_0 = a$ или $x_0 = b$. Если $x_0 \in (a; b)$, то точку x_0 следует искать среди критических точек данной функции.

Получаем следующее правило нахождения наибольшего и наименьшего значений функции на $[a; b]$:

- 1) найти критические точки функции на интервале $(a; b)$;
- 2) вычислить значения функции в найденных критических точках;
- 3) вычислить значения функции на концах отрезка, т. е. в точках $x = a$ и $x = b$;
- 4) среди всех вычисленных значений функции выбрать наибольшее и наименьшее.



Замечания: 1. Если функция $y = f(x)$ на отрезке $[a; b]$ имеет лишь одну критическую точку и она является точкой максимума (минимума), то в этой точке функция принимает наибольшее (наименьшее) значение. На рисунке $f(x_0) = f_{\text{нб}} = f_{\text{макс}}$. (нб — наибольшее, тах — максимальное).

2. Если функция $y = f(x)$ на отрезке $[a; b]$ не имеет критических точек, то это означает, что на нем функция монотонно возрастает или убывает. Следовательно, свое наибольшее значение (M) функция принимает на одном конце отрезка, а наименьшее (m) — на другом.

Пример: Найти наибольшее и наименьшее значения функции

$$f(x) = 3x^4 + 4x^3 + 1$$

на отрезке $[-2; 1]$.

◆ Находим критические точки данной функции:

$$f'(x) = 12x^3 + 12x^2 = 12x^2(x + 1);$$

$f'(x) = 0$ при $x_1 = 0 \in [-2; 1]$ и при $x_2 = -1 \in [-2; 1]$. Находим: $f(0) = 1$, $f(-1) = 3 - 4 + 1 = 0$, $f(-2) = 48 - 32 + 1 = 17$, $f(1) = 8$. Итак, $f_{\text{нб}} = 17$ в точке $x = -2$, $f_{\text{нм}} = 0$ в точке $x = -1$. ♦

Нахождение наибольшего и наименьшего значений функции широко применяется при решении многих практических задач математики, физики, химии, экономики и других дисциплин.

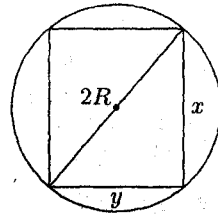
Практические задачи: транспортная задача о перевозке груза с минимальными затратами, задача об организации производственного процесса с целью получения максимальной прибыли и другие задачи, связанные с поиском оптимального решения, приводят к развитию и усовершенствованию методов отыскания наибольших и наименьших значений. Решением таких задач занимается особая ветвь математики — линейное программирование.

Рассмотрим более простую задачу:

Из шара радиуса R выточить цилиндр наибольшего объема. Каковы его размеры?

♦ Обозначим через x и y высоту и диаметр цилиндра. Тогда, как видно из рисунка, $y = \sqrt{4R^2 - x^2}$, а потому объем цилиндра

$$V = V(x) = \pi \left(\frac{4R^2 - x^2}{4} \right) x = \pi R^2 x - \frac{\pi x^3}{4},$$



где $x \in [0; 2R]$.

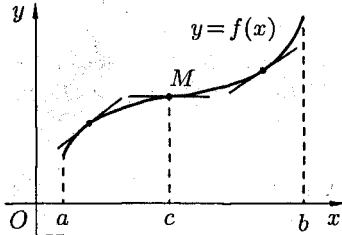
Находим наибольшее значение функции $V = V(x)$ на промежутке $[0; 2R]$. Так как $V'(x) = \pi R^2 - \frac{3}{4}\pi x^2$, то $V'(x) = 0$ при $x = \frac{2R\sqrt{3}}{3}$, кроме того, $V''(x) = -\frac{3}{2}\pi x < 0$. Поэтому $\frac{2R\sqrt{3}}{3}$ — точка максимума. Так как функция имеет одну критическую точку, то цилиндр будет иметь наибольший объем (равный V_{max}) при $x = \frac{2R\sqrt{3}}{3}$; диаметр основания цилиндра равен

$$\sqrt{4R^2 - (2R\sqrt{3}/3)^2} = \frac{2R\sqrt{6}}{3}.$$

Таким образом, искомый цилиндр имеет высоту, равную $\frac{2R\sqrt{3}}{3}$, и диаметр, равный $\frac{2R\sqrt{6}}{3}$. ♦

82. ВЫПУКЛОСТЬ ГРАФИКА ФУНКЦИИ. ТОЧКИ ПЕРЕГИБА

График дифференцируемой функции $y = f(x)$ называется *выпуклым вниз* на интервале $(a; b)$, если он расположен выше любой ее касательной на этом интервале. График функции $y = f(x)$ называется *выпуклым вверх* на интервале $(a; b)$, если он расположен ниже любой ее касательной на этом интервале.



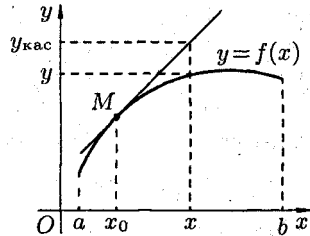
Точка графика непрерывной функции $y = f(x)$, отделяющая его части разной выпуклости, называется *точкой перегиба*.

На рисунке кривая $y = f(x)$ выпукла вверх в интервале $(a; c)$, выпукла вниз в интервале $(c; b)$, точка $M(c; f(c))$ — точка перегиба.

Интервалы выпуклости вниз и вверх находят с помощью следующей теоремы.

Теорема 1. Если функция $y = f(x)$ во всех точках интервала $(a; b)$ имеет отрицательную вторую производную, т. е. $f''(x) < 0$, то график функции в этом интервале выпуклый вверх. Если же $f''(x) > 0 \forall x \in (a; b)$ — график выпуклый вниз.

◀ Пусть $f''(x) < 0 \forall x \in (a; b)$. Возьмем на графике функции произвольную точку M с абсциссой $x_0 \in (a; b)$ и проведем через M касательную. Покажем, что график функции расположен ниже этой касательной. Для этого сравним в точке $x \in (a; b)$ ординату y кривой $y = f(x)$ с ординатой $y_{\text{кас}}$ ее касательной. Уравнение касательной, как известно, есть



$$y_{\text{кас}} - f(x_0) = f'(x_0)(x - x_0), \quad \text{т. е.} \quad y_{\text{кас}} = f(x_0) + f'(x_0)(x - x_0).$$

Тогда $y - y_{\text{кас}} = f(x) - f(x_0) - f'(x_0)(x - x_0)$. По теореме Лагранжа, $f(x) - f(x_0) = f'(c)(x - x_0)$, где c лежит между x_0 и x . Поэтому

$$y - y_{\text{кас}} = f'(c)(x - x_0) - f'(x_0)(x - x_0),$$

т. е.

$$y - y_{\text{кас}} = (f'(c) - f'(x_0))(x - x_0).$$

Разность $f'(c) - f'(x_0)$ снова преобразуем по формуле Лагранжа:

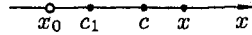
$$f'(c) - f'(x_0) = f''(c_1)(c - x_0),$$

где c_1 лежит между x_0 и c . Таким образом, получаем

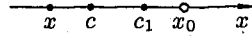
$$y - y_{\text{кас}} = f''(c_1)(c - x_0)(x - x_0).$$

Исследуем это равенство:

1) если $x > x_0$, то $x - x_0 > 0$, $c - x_0 > 0$ и $f''(c_1) < 0$. Следовательно, $y - y_{\text{кас}} < 0$, т. е. $y < y_{\text{кас}}$;



2) если $x < x_0$, то $x - x_0 < 0$, $c - x_0 < 0$ и $f''(c_1) < 0$. Следовательно, $y - y_{\text{кас}} < 0$, т. е. $y < y_{\text{кас}}$.



Итак, доказано, что во всех точках интервала $(a; b)$ ордината касательной больше ординаты графика, т. е. график функции выпуклый вверх. Аналогично доказывается, что при $f''(x) > 0$ график выпуклый вниз. ▶

Для нахождения точек перегиба графика функции используется следующая теорема.

Теорема 2. (достаточное условие существования точек перегиба). Если вторая производная $f''(x)$ при переходе через точку x_0 , в которой она равна нулю или не существует, меняет знак, то точка графика с абсциссой x_0 есть точка перегиба.

◀ Пусть $f''(x) < 0$ при $x < x_0$ и $f''(x) > 0$ при $x > x_0$. Это значит, что слева от $x = x_0$ график выпуклый вверх, а справа — выпуклый вниз. Следовательно, точка $(x_0; f(x_0))$ графика функции является точкой перегиба.

Аналогично доказывается, что если $f''(x) > 0$ при $x < x_0$ и $f''(x) < 0$ при $x > x_0$, то точка $(x_0; f(x_0))$ — точка перегиба графика функции $y = f(x)$. ▶

Пример: Исследовать на выпуклость и точки перегиба график функции $y = x^5 - x + 5$.

◆ Находим, что $y' = 5x^4 - 1$, $y'' = 20x^3$. Вторая производная существует на всей числовой оси; $y'' = 0$ при $x = 0$.

Отмечаем, что $y'' > 0$ при $x > 0$; $y'' < 0$ при $x < 0$.

Следовательно, график функции $y = x^5 - x + 5$ в интервале $(-\infty; 0)$ — выпуклый вверх, в интервале $(0; \infty)$ — выпуклый вниз. Точка $(0; 5)$ — есть точка перегиба. ◆

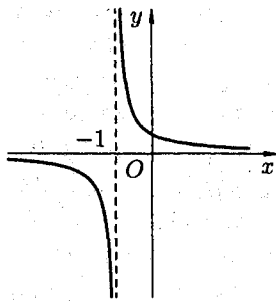
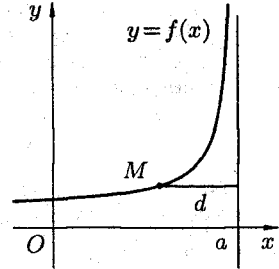
83. АСИМПТОТЫ ГРАФИКА ФУНКЦИИ

Построение графика функции значительно облегчается, если знать его асимптоты. Понятие асимптоты рассматривалось при изучении формы гиперболы.

Напомним, что *асимптотой* кривой называется прямая, расстояние до которой от точки, лежащей на кривой, стремится к нулю при неограниченном удалении этой точки по кривой.

Асимптоты могут быть вертикальными, наклонными и горизонтальными.

Говорят, что прямая $x = a$ является *вертикальной асимптотой* графика функции $y = f(x)$, если $\lim_{x \rightarrow a} f(x) = \infty$, или $\lim_{x \rightarrow a-0} f(x) = \infty$, или $\lim_{x \rightarrow a+0} f(x) = \infty$.



Действительно, в этом случае непосредственно из рисунка видно, что расстояние точки $M(x; y)$ кривой от прямой $x = a$ равно $d = |x - a|$. Если $x \rightarrow a$, то $d \rightarrow 0$. Согласно определению асимптоты, прямая $x = a$ является асимптотой кривой $y = f(x)$. Для отыскания вертикальных асимптот нужно найти те значения x , вблизи которых функция $f(x)$ неограниченно возрастает по модулю. Обычно это точки разрыва второго рода.

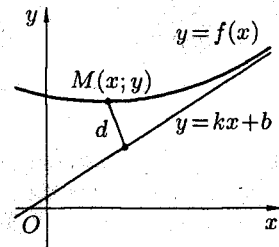
Например, кривая $y = \frac{2}{x+1}$ имеет вертикальную асимптоту $x = -1$, так как $\lim_{x \rightarrow -1+0} \frac{2}{x+1} = +\infty$, $\lim_{x \rightarrow -1-0} \frac{2}{x+1} = -\infty$.

Уравнение *наклонной асимптоты* будем искать в виде

$$y = kx + b. \quad (1)$$

Найдем k и b .

Пусть $M(x; y)$ произвольная точка кривой $y = f(x)$. По формуле расстояния от точки до прямой ($d = \left| \frac{Ax_0 + By_0 + C}{\sqrt{A^2 + B^2}} \right|$)



находим расстояние от точки M до прямой (1) $d = \left| \frac{kx - y + b}{\sqrt{k^2 + 1}} \right|$.

Условие $d \rightarrow 0$ будет выполняться лишь тогда, когда числитель дроби стремится к нулю, т. е.

$$\lim_{x \rightarrow \infty} (kx - y + b) = 0. \quad (2)$$

Отсюда следует, что $kx - y + b = \alpha$, где $\alpha = \alpha(x)$ бесконечно малая: $\alpha \rightarrow 0$ при $x \rightarrow \infty$. Разделив обе части равенства $y = b + kx - \alpha$ на x и перейдя к пределу при $x \rightarrow \infty$, получаем:

$$\lim_{x \rightarrow \infty} \frac{y}{x} = \lim_{x \rightarrow \infty} \left(\frac{b}{x} + k - \frac{\alpha}{x} \right).$$

Так как $\frac{b}{x} \rightarrow 0$ и $\frac{\alpha}{x} \rightarrow 0$, то

$$k = \lim_{x \rightarrow \infty} \frac{y}{x}. \quad (3)$$

Из условия (2) находим b :

$$b = \lim_{x \rightarrow \infty} (y - kx). \quad (4)$$

Итак, если существует наклонная асимптота $y = kx + b$, то k и b находятся по формулам (3) и (4).

Верно и обратное утверждение: если существуют конечные пределы (3) и (4), то прямая (1) является наклонной асимптотой.

Если хотя бы один из пределов (3) или (4) не существует или равен бесконечности, то кривая $y = f(x)$ наклонной асимптоты не имеет.

В частности, если $k = 0$, то $b = \lim_{x \rightarrow \infty} f(x)$. Поэтому $y = b$ — уравнение *горизонтальной асимптоты*.

Замечание: Асимптоты графика функции $y = f(x)$ при $x \rightarrow +\infty$ и $x \rightarrow -\infty$ могут быть разными. Поэтому при нахождении пределов (3) и (4) следует отдельно рассматривать случай, когда $x \rightarrow +\infty$ и когда $x \rightarrow -\infty$.

Пример: Найти асимптоты графика функции $y = xe^x$.

♦ Так как $\lim_{x \rightarrow +\infty} \frac{xe^x}{x} = \lim_{x \rightarrow +\infty} e^x = +\infty$, то график функции при $x \rightarrow +\infty$ наклонной асимптоты не имеет.

При $x \rightarrow -\infty$ справедливы соотношения

$$k = \lim_{x \rightarrow -\infty} \frac{xe^x}{x} = \lim_{x \rightarrow -\infty} e^x = 0,$$

$$b = \lim_{x \rightarrow -\infty} (xe^x - 0x) = \lim_{x \rightarrow -\infty} xe^x = \lim_{x \rightarrow -\infty} \frac{x}{e^{-x}} = \left[\frac{\infty}{\infty} \right] = \lim_{x \rightarrow -\infty} \frac{1}{-e^{-x}} = 0.$$

Следовательно, при $x \rightarrow -\infty$ график имеет горизонтальную асимптоту $y = 0$. ♦

84. ОБЩАЯ СХЕМА ИССЛЕДОВАНИЯ ФУНКЦИИ И ПОСТРОЕНИЯ ГРАФИКА

Исследование функции $y = f(x)$ целесообразно вести в определенной последовательности.

1. Найти область определения функции.
2. Найти (если это можно) точки пересечения графика с осями координат.
3. Найти интервалы знакопостоянства функции (промежутки, на которых $f(x) > 0$ или $f(x) < 0$).
4. Выяснить, является ли функция четной, нечетной или общего вида.
5. Найти асимптоты графика функции.
6. Найти интервалы монотонности функции.
7. Найти экстремумы функции.
8. Найти интервалы выпуклости и точки перегиба графика функции.

На основании проведенного исследования построить график функции. Заметим, что приведенная схема исследования не является обязательной. В более простых случаях достаточно выполнить лишь несколько операций, например 1, 2, 7. Если же график функции не совсем понятен и после выполнения всех восьми операций, то можно дополнительно исследовать функцию на периодичность, построить дополнительно несколько точек графика, выявить другие особенности функции. Иногда целесообразно выполнение операций исследования сопровождать постепенным построением графика функции.

Пример: Исследовать функцию $y = \frac{x}{1-x^2}$ и построить ее график.

◆ Выполним все восемь операций предложенной выше схемы исследования.

1. Функция не определена при $x = 1$ и $x = -1$. Область ее определения состоит из трех интервалов $(-\infty; -1)$, $(-1; 1)$, $(1; +\infty)$, а график из трех ветвей.

2. Если $x = 0$, то $y = 0$. График пересекает ось Oy в точке $O(0; 0)$; если $y = 0$, то $x = 0$. График пересекает ось Ox в точке $O(0; 0)$.

3. Функция знакоположительна ($y > 0$) в интервалах $(-\infty; -1)$ и $(0; 1)$; знакоотрицательна — в $(-1; 0)$ и $(1; +\infty)$.

4. Функция $y = \frac{x}{1-x^2}$ является нечетной, т. к. $y(-x) = \frac{-x}{1-(-x)^2} = -\frac{x}{1-x^2} = -y(x)$. Следовательно, график ее сим-

метричен относительно начала координат. Для построения графика достаточно исследовать ее при $x \geq 0$.

5. Прямые $x = 1$ и $x = -1$ являются ее вертикальными асимптотами. Выясним наличие наклонной асимптоты:

$$k = \lim_{x \rightarrow \infty} \frac{\frac{x}{1-x^2}}{x} = \lim_{x \rightarrow \infty} \frac{1}{1-x^2} = 0,$$

($k = 0$ при $x \rightarrow +\infty$ и при $x \rightarrow -\infty$),

$$b = \lim_{x \rightarrow \infty} \left(\frac{x}{1-x^2} - 0x \right) = \lim_{x \rightarrow \infty} \frac{x}{1-x^2} = 0.$$

Следовательно, есть горизонтальная асимптота, ее уравнение $y = 0$. Прямая $y = 0$ является асимптотой и при $x \rightarrow +\infty$, и при $x \rightarrow -\infty$.

6. Находим интервалы возрастания и убывания функции. Так как

$$y' = \left(\frac{x}{1-x^2} \right)' = \frac{1(1-x^2) - x(-2x)}{(1-x^2)^2} = \frac{x^2 + 1}{(1-x^2)^2},$$

то $y' > 0$ в области определения, и функция является возрастающей на каждом интервале области определения.

7. Исследуем функцию на экстремум. Так как $y' = \frac{x^2 + 1}{(1-x^2)^2}$, то критическими точками являются точки $x_1 = 1$ и $x_2 = -1$ (y' не существует), но они не принадлежат области определения функции. Функция экстремумов не имеет.

8. Исследуем функцию на выпуклость. Находим y'' :

$$y'' = \left(\frac{x^2 + 1}{(1-x^2)^2} \right)' = \frac{2x(1-x^2)^2 - (x^2 + 1)2(1-x^2)(-2x)}{(1-x^2)^4} = \frac{2x(x^2 + 3)}{(1-x^2)^3}.$$

Вторая производная равна нулю или не существует в точках $x_1 = 0$, $x_2 = -1$, $x_3 = 1$, во всех этих точках y'' меняет знак.

Как видно, 0 — точка перегиба; график выпуклый вверх на интервалах $(-1; 0)$ и $(1; \infty)$; выпуклый вниз на интервалах $(-\infty; -1)$ и $(0; 1)$.

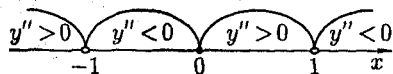
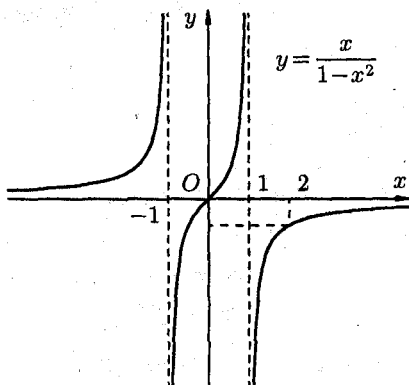


График функции изображен на рисунке. ♦



85. ФОРМУЛА ТЕЙЛОРА

В определении функции $y = f(x)$ не говорится о том, при помощи каких средств находят значения y по значениям x . В тех случаях, когда функция является формулой вида $y = \frac{x^3}{5} - 5x + 7$, значения функции найти легко с помощью четырех арифметических действий. Но как найти значения, например, функций $y = \sin x$, $y = \ln(1+x)$ при любых (допустимых) значениях аргумента?

Для того, чтобы вычислить значения данной функции $y = f(x)$, ее заменяют многочленом $P_n(x)$ степени n , значения которого всегда и легко вычисляемы. Обоснование возможности представлять функцию многочленом дает формула Тейлора.

1. Формула Тейлора для многочлена

Пусть функция $f(x)$ есть многочлен $P_n(x)$ степени n : $f(x) = P_n(x) = a_0 + a_1x + a_2x^2 + \dots + a_nx^n$. Преобразуем этот многочлен также в многочлен степени n относительно разности $x - x_0$, где x_0 — произвольное число, т. е. представим $P_n(x)$ в виде

$$P_n(x) = A_0 + A_1(x - x_0) + A_2(x - x_0)^2 + \dots + A_n(x - x_0)^n. \quad (1)$$

Для нахождения коэффициентов A_0, A_1, \dots, A_n продифференцируем n раз равенство (1):

$$P'_n(x) = A_1 + 2A_2(x - x_0) + 3A_3(x - x_0)^2 + \dots + nA_n(x - x_0)^{n-1},$$

$$P''_n(x) = 2A_2 + 2 \cdot 3A_3(x - x_0) + \dots + n(n-1)A_n(x - x_0)^{n-2},$$

$$P'''_n(x) = 2 \cdot 3A_3 + 2 \cdot 3 \cdot 4A_4(x - x_0) + \dots + n(n-1)(n-2)A_n(x - x_0)^{n-3},$$

.....

$$P_n^{(n)}(x) = n(n-1)(n-2) \dots 2 \cdot 1A_n.$$

Подставляя $x = x_0$ в полученные равенства и равенство (1), имеем:

$$\begin{aligned}
 P_n(x_0) &= A_0, & \text{т. е. } A_0 &= P_n(x_0), \\
 P'_n(x_0) &= A_1, & \text{т. е. } A_1 &= \frac{P'_n(x_0)}{1!}, \\
 P''_n(x_0) &= 2A_2, & \text{т. е. } A_2 &= \frac{P''_n(x_0)}{2!}, \\
 P'''_n(x_0) &= 2 \cdot 3A_3, & \text{т. е. } A_3 &= \frac{P'''_n(x_0)}{3!}, \\
 &\dots\dots\dots & & \\
 P_n^{(n)}(x_0) &= n(n-1)\dots 2 \cdot 1A_n, & \text{т. е. } A_n &= \frac{P_n^{(n)}(x_0)}{n!}.
 \end{aligned}$$

Подставляя найденные значения A_0, A_1, \dots, A_n в равенство (1), получим разложение многочлена n -й степени $P_n(x)$ по степеням $(x - x_0)$:

$$\begin{aligned}
 P_n(x) &= P_n(x_0) + \frac{P'_n(x_0)}{1!}(x - x_0) + \frac{P''_n(x_0)}{2!}(x - x_0)^2 + \dots \\
 &\dots + \frac{P_n^{(n)}(x_0)}{n!}(x - x_0)^n. \quad (2)
 \end{aligned}$$

Формула (2) называется *формулой Тейлора для многочлена $P_n(x)$ степени n* .

Пример: Разложить многочлен $P(x) = -4x^3 + 3x^2 - 2x + 1$ по степеням $x + 1$.

◆ Здесь $x_0 = -1$, $P'(x) = -12x^2 + 6x - 2$, $P''(x) = -24x + 6$, $P'''(x) = -24$. Поэтому $P(-1) = 10$, $P'(-1) = -20$, $P''(-1) = 30$, $P'''(-1) = -24$. Следовательно,

$$P(x) = 10 + \frac{-20}{1}(x + 1) + \frac{30}{2!}(x + 1)^2 + \frac{-24}{3!}(x + 1)^3,$$

т. е.

$$-4x^3 + 3x^2 - 2x + 1 = 10 - 20(x + 1) + 15(x + 1)^2 - 4(x + 1)^3. \quad \blacklozenge$$

2. Формула Тейлора для произвольной функции

Рассмотрим функцию $y = f(x)$. Формула Тейлора позволяет, при определенных условиях, приближенно представить функцию $f(x)$ в виде многочлена и дать оценку погрешности этого приближения.

Теорема 1. Если функция $f(x)$ определена в некоторой окрестности точки x_0 и имеет в ней производные до $(n + 1)$ -го порядка включительно, то для любого x из этой окрестности найдется точка $c \in (x_0; x)$ такая, что справедлива формула

$$f(x) = f(x_0) + \frac{f'(x_0)}{1!}(x - x_0) + \frac{f''(x_0)}{2!}(x - x_0)^2 + \dots \\ \dots + \frac{f^{(n)}(x_0)}{n!}(x - x_0)^n + \frac{f^{(n+1)}(c)}{(n+1)!}(x - x_0)^{n+1} \\ (c = x_0 + \theta(x - x_0), 0 < \theta < 1). \quad (3)$$

Формула (3) называется *формулой Тейлора для функции $f(x)$* . Эту формулу можно записать в виде $f(x) = P_n(x) + R_n(x)$, где

$$P_n(x) = f(x_0) + \frac{f'(x_0)}{1!}(x - x_0) + \frac{f''(x_0)}{2!}(x - x_0)^2 + \dots \\ \dots + \frac{f^{(n)}(x_0)}{n!}(x - x_0)^n$$

называется *многочленом Тейлора*, а $R_n(x) = \frac{f^{(n+1)}(c)}{(n+1)!}(x - x_0)^{n+1}$ называется *остаточным членом* формулы Тейлора, записанным в форме Лагранжа. $R_n(x)$ есть погрешность приближенного равенства $f(x) \approx P_n(x)$. Таким образом, формула Тейлора дает возможность заменить функцию $y = f(x)$ многочленом $y = P_n(x)$ с соответствующей степенью точности, равной значению остаточного члена $R_n(x)$.

При $x_0 = 0$ получаем частный случай формулы Тейлора — *формулу Маклорена*:

$$f(x) = f(0) + \frac{f'(0)}{1!}x + \frac{f''(0)}{2!}x^2 + \dots + \frac{f^{(n)}(0)}{n!}x^n + \frac{f^{(n+1)}(c)}{(n+1)!}x^{n+1}, \quad (4)$$

где c находится между 0 и x ($c = \theta x$, $0 < \theta < 1$).

При $n = 0$ формула Тейлора (3) имеет вид $f(x) = f(x_0) + f'(c)(x - x_0)$ или $f(x) - f(x_0) = f'(c)(x - x_0)$, т. е. совпадает с формулой Лагранжа конечных приращений. Рассмотренная ранее формула для приближенных вычислений $f(x) \approx f(x_0) + f'(x_0)(x - x_0)$ (см. «дифференциал функции») является частным случаем более точной формулы

$$f(x) \approx f(x_0) + \frac{f'(x_0)}{1!}(x - x_0) + \dots + \frac{f^{(n)}(x_0)}{n!}(x - x_0)^n.$$

В качестве примера найдем число e с точностью до 0,001.

◆ Запишем формулу Маклорена для функции $f(x) = e^x$. Находим производные этой функции: $f'(x) = e^x$, $f''(x) = e^x$, ..., $f^{(n+1)}(x) = e^x$. Так как $f(0) = e^0 = 1$, $f'(0) = e^0 = 1$, ..., $f^{(n)}(0) = 1$, $f^{(n+1)}(c) = e^c$, то по формуле (4) имеем:

$$e^x = 1 + \frac{x}{1!} + \frac{x^2}{2!} + \frac{x^3}{3!} + \dots + \frac{x^n}{n!} + \frac{e^c x^{n+1}}{(n+1)!}.$$

Положим $x = 1$:

$$e = 1 + \frac{1}{1!} + \frac{1}{2!} + \frac{1}{3!} + \dots + \frac{1}{n!} + \frac{e^c}{(n+1)!}.$$

Для нахождения e с точностью 0,001 определим n из условия, что остаточный член $\frac{e^c}{(n+1)!}$ меньше 0,001. Так как $0 < c < 1$, то $e^c < 3$. Поэтому при $n = 6$ имеем $\frac{e^c}{7!} < \frac{3}{5040} = 0,0006 < 0,001$. Итак, получаем приближенное равенство

$$e \approx 1 + 1 + \frac{1}{2!} + \frac{1}{3!} + \frac{1}{4!} + \frac{1}{5!} + \frac{1}{6!} \approx$$

$$\approx 2 + 0,5 + 0,1667 + 0,0417 + 0,0083 + 0,0014 = 2,7181 \approx 2,718,$$

т. е. $e \approx 2,718$. ◆

Приведем разложения по формуле Маклорена некоторых других элементарных функций:

$$\sin x = x - \frac{x^3}{3!} + \frac{x^5}{5!} - \dots + (-1)^n \frac{x^{2n+1}}{(2n+1)!} + (-1)^{n+1} \frac{x^{2n+3}}{(2n+3)!} \cdot \cos c,$$

$$\cos x = 1 - \frac{x^2}{2!} + \frac{x^4}{4!} - \dots + (-1)^n \frac{x^{2n}}{(2n)!} + (-1)^{n+1} \frac{x^{2n+2}}{(2n+2)!} \cdot \cos c,$$

$$\ln(1+x) = x - \frac{x^2}{2} + \frac{x^3}{3} - \frac{x^4}{4} + \dots + (-1)^{n-1} \frac{x^n}{n} + (-1)^n \frac{x^{n+1}}{(n+1)(1+c)^{n+1}}.$$

$$(1+x)^\mu = 1 + \mu x + \frac{\mu(\mu-1)}{2!} x^2 + \dots + \frac{\mu(\mu-1) \dots (\mu-n+1)}{n!} x^n + \\ + \frac{\mu(\mu-1) \dots (\mu-n)(1+c)^{\mu-n-1}}{(n+1)!} x^{n+1}.$$

VIII. КОМПЛЕКСНЫЕ ЧИСЛА

86. ПОНЯТИЕ КОМПЛЕКСНОГО ЧИСЛА

Комплексным числом z называется выражение вида $z = x + iy$, где x и y — действительные числа, а i — так называемая *мнимая единица*, $i^2 = -1$.

Если $x = 0$, то число $0 + iy = iy$ называется *чисто мнимым*; если $y = 0$, то число $x + i0 = x$ отождествляется с действительным числом x , а это означает, что множество \mathbb{R} всех действительных чисел является подмножеством множества \mathbb{C} всех комплексных чисел, т. е. $\mathbb{R} \subset \mathbb{C}$.

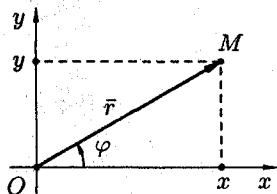
Число x называется *действительной частью* комплексного числа z и обозначается $x = \operatorname{Re} z$, а y — *мнимой частью* z ; $y = \operatorname{Im} z$.

Два комплексных числа $z_1 = x_1 + iy_1$ и $z_2 = x_2 + iy_2$ называются *равными* ($z_1 = z_2$) тогда и только тогда, когда равны их действительные части и равны их мнимые части: $x_1 = x_2$, $y_1 = y_2$. В частности, комплексное число $z = x + iy$ равно нулю тогда и только тогда, когда $x = y = 0$. Понятия «больше» и «меньше» для комплексных чисел не вводятся.

Два комплексных числа $z = x + iy$ и $\bar{z} = x - iy$, отличающиеся лишь знаком мнимой части, называются *сопряженными*.

1. Геометрическое изображение комплексных чисел

Всякое комплексное число $z = x + iy$ можно изобразить точкой $M(x; y)$ плоскости xOy такой, что $x = \operatorname{Re} z$, $y = \operatorname{Im} z$. И наоборот, каждую точку $M(x; y)$ координатной плоскости можно рассматривать как образ комплексного числа $z = x + iy$.



Плоскость, на которой изображаются комплексные числа, называется *комплексной плоскостью*. Ось абсцисс называется *действительной осью*, так как на ней лежат действительные числа $z = x + 0i = x$. Ось ординат называется *мнимой осью*, на ней лежат чисто мнимые комплексные числа $z = 0 + iy$.

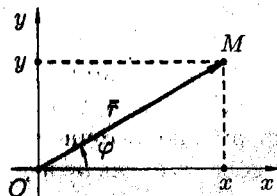
Комплексное число $z = x + iy$ можно задавать с помощью радиус-вектора $\vec{r} = \overline{OM} = (x; y)$. Длина вектора \vec{r} , изображающего комплексное число z , называется *модулем* этого числа и обозначается $|z|$ или r . Величина угла между положительным направлением действительной оси и вектором \vec{r} , изображающим комплексное число, называется *аргументом* этого комплексного числа, обозначается $\text{Arg } z$ или φ .

Аргумент комплексного числа $z = 0$ не определен. Аргумент комплексного числа $z \neq 0$ величина многозначная и определяется с точностью до слагаемого $2\pi k$ ($k = 0, -1, 1, -2, 2, \dots$): $\text{Arg } z = \arg z + 2\pi k$, где $\arg z$ — *главное значение аргумента*, заключенное в промежутке $(-\pi; \pi]$, т. е. $-\pi < \arg z \leq \pi$ (иногда в качестве главного значения аргумента берут величину, принадлежащую промежутку $[0; 2\pi)$).

2. Формы записи комплексных чисел

Запись числа z в виде $z = x + iy$ называют *алгебраической формой* комплексного числа.

Модуль r и аргумент φ комплексного числа можно рассматривать как полярные координаты вектора $\vec{r} = \overline{OM}$, изображающего комплексное число $z = x + iy$. Тогда получаем $x = r \cos \varphi$, $y = r \sin \varphi$. Следовательно, комплексное число $z = x + iy$ можно записать в виде $z = r \cos \varphi + ir \sin \varphi$ или $z = r(\cos \varphi + i \sin \varphi)$. Такая запись комплексного числа называется *тригонометрической формой*.



Модуль $r = |z|$ однозначно определяется по формуле

$$r = |z| = \sqrt{x^2 + y^2}.$$

Например, $|i| = \sqrt{0^2 + 1^2} = 1$. Аргумент φ определяется из формул

$$\cos \varphi = \frac{x}{r}, \quad \sin \varphi = \frac{y}{r}, \quad \text{tg } \varphi = \frac{y}{x}.$$

Так как

$$\varphi = \text{Arg } z = \arg z + 2k\pi,$$

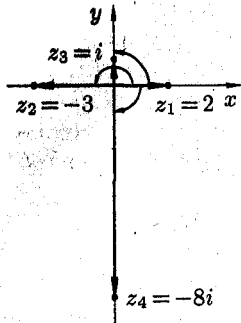
то

$$\cos \varphi = \cos(\arg z + 2k\pi) = \cos(\arg z), \quad \sin \varphi = \sin(\arg z).$$

Поэтому при переходе от алгебраической формы комплексного числа к тригонометрической достаточно определить лишь главное значение аргумента комплексного числа z , т. е. считать $\varphi = \arg z$.

Так как $-\pi < \arg z \leq \pi$, то из формулы $\operatorname{tg} \varphi = \frac{y}{x}$ получаем, что

$$\arg z = \begin{cases} \operatorname{arctg} \frac{y}{x} & \text{для внутренних точек I, IV четвертей,} \\ \operatorname{arctg} \frac{y}{x} + \pi & \text{для внутренних точек II четверти,} \\ \operatorname{arctg} \frac{y}{x} - \pi & \text{для внутренних точек III четверти.} \end{cases}$$



Если точка z лежит на действительной или мнимой оси, то $\arg z$ можно найти непосредственно по рисунку. Например, $\arg z_1 = 0$ для $z_1 = 2$; $\arg z_2 = \pi$ для $z_2 = -3$; $\arg z_3 = \frac{\pi}{2}$ для $z_3 = i$; и $\arg z_4 = -\frac{\pi}{2}$ для $z_4 = -8i$.

Используя формулу Эйлера

$$e^{i\varphi} = \cos \varphi + i \sin \varphi,$$

комплексное число $z = r(\cos \varphi + i \sin \varphi)$ можно записать в так называемой *показательной* (или *экспоненциальной*) форме $z = re^{i\varphi}$, где $r = |z|$ — модуль комплексного числа, а угол $\varphi = \operatorname{Arg} z = \arg z + 2k\pi$ ($k = 0, -1, 1, -2, 2, \dots$).

В силу формулы Эйлера, функция $e^{i\varphi}$ периодическая с основным периодом 2π . Для записи комплексного числа z в показательной форме, достаточно найти главное значение аргумента комплексного числа, т. е. считать $\varphi = \arg z$.

Пример: Записать комплексные числа $z_1 = -1 + i$ и $z_2 = -1$ в тригонометрической и показательной формах.

◆ Для z_1 имеем

$$|z| = r = \sqrt{(-1)^2 + 1^2} = \sqrt{2}, \quad \arg z = \operatorname{arctg} \left(\frac{1}{-1} \right) + \pi = -\frac{\pi}{4} + \pi = \frac{3\pi}{4},$$

т. е. $\varphi = \frac{3\pi}{4}$. Поэтому

$$-1 + i = \sqrt{2} \left(\cos \frac{3\pi}{4} + i \sin \frac{3\pi}{4} \right) = \sqrt{2} e^{i\frac{3\pi}{4}}.$$

Для z_2 имеем

$$r = \sqrt{(-1)^2 + 0^2} = 1, \quad \arg z = \arg(-1) = \pi,$$

т. е. $\varphi = \pi$. Поэтому $-1 = \cos \pi + i \sin \pi = e^{i\pi}$. ◆

87. ДЕЙСТВИЯ НАД КОМПЛЕКСНЫМИ ЧИСЛАМИ

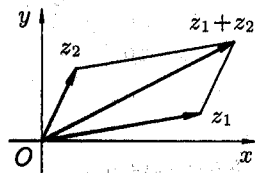
1. Сложение комплексных чисел

Суммой двух комплексных чисел $z_1 = x_1 + iy_1$ и $z_2 = x_2 + iy_2$ называется комплексное число, определяемое равенством

$$z_1 + z_2 = (x_1 + x_2) + i(y_1 + y_2). \quad (1)$$

Сложение комплексных чисел обладает *переместительным* (коммутативным) и *сочетательным* (ассоциативным) свойствами:

$$\begin{aligned} z_1 + z_2 &= z_2 + z_1, \\ (z_1 + z_2) + z_3 &= z_1 + (z_2 + z_3). \end{aligned}$$



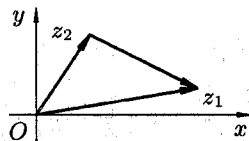
Из определения (1) следует, что геометрически комплексные числа складываются как векторы. Непосредственно из рисунка видно, что $|z_1 + z_2| \leq |z_1| + |z_2|$. Это соотношение называется *неравенством треугольника*.

2. Вычитание комплексных чисел

Вычитание определяется как действие, обратное сложению. Разностью двух комплексных чисел z_1 и z_2 называется такое комплексное число z , которое, будучи сложённым с z_2 , даёт число z_1 , т. е. $z = z_1 - z_2$, если $z + z_2 = z_1$.

Если $z_1 = x_1 + iy_1$, $z_2 = x_2 + iy_2$, то из этого определения легко получить z :

$$z = z_1 - z_2 = (x_1 - x_2) + i(y_1 - y_2). \quad (2)$$



Из равенства (2) следует, что геометрически комплексные числа вычитаются как векторы. Непосредственно из рисунка видно, что $|z_1 - z_2| \geq |z_1| - |z_2|$. Отметим, что

$$|z_1 - z_2| = \sqrt{(x_1 - x_2)^2 + (y_1 - y_2)^2} = d,$$

т. е. модуль разности двух комплексных чисел равен расстоянию d между точками, изображающими эти числа на плоскости.

Поэтому, например, равенство $|z - 2i| = 1$ определяет на комплексной плоскости множество точек z , находящихся на расстоянии 1 от точки $z_0 = 2i$, т. е. окружность с центром в $z_0 = 2i$ и радиусом 1.

8. Умножение комплексных чисел

Произведением комплексных чисел $z_1 = x_1 + iy_1$ и $z_2 = x_2 + iy_2$ называется комплексное число, определяемое равенством

$$z = z_1 z_2 = (x_1 x_2 - y_1 y_2) + i(x_1 y_2 + y_1 x_2). \quad (3)$$

Отсюда, в частности, следует важнейшее соотношение

$$\boxed{i^2 = -1}. \quad (4)$$

Действительно, $i^2 = ii = (0 + 1i)(0 + 1i) = (0 - 1) + i(0 + 0) = -1$. Благодаря соотношению (4) формула (3) получается формально путем перемножения двучленов $x_1 + iy_1$ и $x_2 + iy_2$:

$$\begin{aligned} (x_1 + iy_1)(x_2 + iy_2) &= x_1 x_2 + x_1 iy_2 + iy_1 x_2 + iy_1 iy_2 = \\ &= x_1 x_2 + i^2 y_1 y_2 + i(x_1 y_2 + y_1 x_2) = x_1 x_2 - y_1 y_2 + i(x_1 y_2 + y_1 x_2). \end{aligned}$$

Например,

$$(2 - 3i)(-5 + 4i) = -10 + 8i + 15i - 12i^2 = -10 + 23i + 12 = 2 + 23i.$$

Заметим, что $z\bar{z} = (x + iy)(x - iy) = x^2 + y^2$ по формуле (3).

Умножение комплексных чисел обладает переместительным, сочетательным и распределительным (дистрибутивным) свойствами:

$$\begin{aligned} z_1 z_2 &= z_2 z_1, \\ (z_1 z_2) z_3 &= z_1 (z_2 z_3), \\ z_1 (z_2 + z_3) &= z_1 z_2 + z_1 z_3. \end{aligned}$$

В этом легко убедиться, используя определение (3).

Найдем произведение комплексных чисел $z_1 = r_1(\cos \varphi_1 + i \sin \varphi_1)$ и $z_2 = r_2(\cos \varphi_2 + i \sin \varphi_2)$, заданных в тригонометрической форме:

$$\begin{aligned} z_1 z_2 &= r_1(\cos \varphi_1 + i \sin \varphi_1) r_2(\cos \varphi_2 + i \sin \varphi_2) = \\ &= r_1 r_2 (\cos \varphi_1 \cos \varphi_2 + i \sin \varphi_1 \cos \varphi_2 + i \cos \varphi_1 \sin \varphi_2 - \sin \varphi_1 \sin \varphi_2) = \\ &= r_1 r_2 ((\cos \varphi_1 \cos \varphi_2 - \sin \varphi_1 \sin \varphi_2) + i(\sin \varphi_1 \cos \varphi_2 + \cos \varphi_1 \sin \varphi_2)) = \\ &= r_1 r_2 (\cos(\varphi_1 + \varphi_2) + i \sin(\varphi_1 + \varphi_2)), \end{aligned}$$

т. е.

$$z_1 z_2 = r_1 r_2 (\cos(\varphi_1 + \varphi_2) + i \sin(\varphi_1 + \varphi_2)).$$

Мы показали, что при умножении комплексных чисел их модули перемножаются, а аргументы складываются.

Это правило распространяется на любое конечное число множителей. В частности, если есть n множителей и все они одинаковые,

$$z^n = (r(\cos \varphi + i \sin \varphi))^n = r^n (\cos n\varphi + i \sin n\varphi). \quad (5)$$

Формула (5) называется *формулой Муавра*.

Пример: Найти $(1 + \sqrt{3}i)^9$.

◆ Запишем сначала число $z = 1 + \sqrt{3}i$ в тригонометрической форме:

$$\begin{aligned} r &= \sqrt{1 + (\sqrt{3})^2} = 2; \quad \arg z = \operatorname{arctg} \frac{\sqrt{3}}{1} \Rightarrow \\ &\Rightarrow \arg z = \frac{\pi}{3}, \quad z = 2 \left(\cos \frac{\pi}{3} + i \sin \frac{\pi}{3} \right). \end{aligned}$$

По формуле Муавра имеем

$$\begin{aligned} z^9 &= (1 + \sqrt{3}i)^9 = 2^9 \left(\cos 9\frac{\pi}{3} + i \sin 9\frac{\pi}{3} \right) = \\ &= 2^9 (\cos 3\pi + i \sin 3\pi) = 2^9 (-1) = -512. \quad \blacklozenge \end{aligned}$$

4. Деление комплексных чисел

Деление определяется как действие, обратное умножению. *Частным* двух комплексных чисел z_1 и $z_2 \neq 0$ называется комплексное число z , которое, будучи умноженным на z_2 , дает число z_1 , т. е. $\frac{z_1}{z_2} = z$, если $z_2 z = z_1$.

Если положить $z_1 = x_1 + iy_1$, $z_2 = x_2 + iy_2 \neq 0$, $z = x + iy$, то из равенства $(x_2 + iy_2)(x + iy) = x_1 + iy_1$ следует

$$\begin{cases} xx_2 - yy_2 = x_1, \\ xy_2 + yx_2 = y_1. \end{cases}$$

Решая систему, найдем значения x и y :

$$x = \frac{x_1 x_2 + y_1 y_2}{x_2^2 + y_2^2}, \quad y = \frac{y_1 x_2 - x_1 y_2}{x_2^2 + y_2^2}.$$

Таким образом, $z = \frac{z_1}{z_2} = \frac{x_1x_2 + y_1y_2}{x_2^2 + y_2^2} + i \frac{y_1x_2 - x_1y_2}{x_2^2 + y_2^2}$.

На практике частное двух комплексных чисел находят путем умножения числителя и знаменателя на число, сопряженное знаменателю («избавляются от мнимости в знаменателе»).

Пример: Выполнить деление $\frac{1+3i}{2+i}$.

$$\diamond \frac{1+3i}{2+i} = \frac{(1+3i)(2-i)}{(2+i)(2-i)} = \frac{2-i+6i+3}{4+1} = \frac{5+5i}{5} = 1+i. \quad \diamond$$

В случае тригонометрической формы комплексного числа формула для деления имеет вид:

$$\frac{r_1(\cos \varphi_1 + i \sin \varphi_1)}{r_2(\cos \varphi_2 + i \sin \varphi_2)} = \frac{r_1}{r_2}(\cos(\varphi_1 - \varphi_2) + i \sin(\varphi_1 - \varphi_2)).$$

При делении комплексных чисел их модули, соответственно, делятся, а аргументы, соответственно, вычитаются.

5. Извлечение корней из комплексных чисел

Извлечение корня n -й степени определяется как действие, обратное возведению в натуральную степень.

Корнем n -й степени из комплексного числа z называется комплексное число ω , удовлетворяющее равенству $\omega^n = z$, т. е. $\sqrt[n]{z} = \omega$, если $\omega^n = z$.

Если положить $z = r(\cos \varphi + i \sin \varphi)$, а $\omega = \rho(\cos \theta + i \sin \theta)$, то, по определению корня и формуле Муавра, получаем

$$z = \omega^n = \rho^n(\cos n\theta + i \sin n\theta) = r(\cos \varphi + i \sin \varphi).$$

Отсюда имеем $\rho^n = r$, $n\theta = \varphi + 2\pi k$, $k = 0, -1, 1, -2, 2, \dots$. То есть $\theta = \frac{\varphi + 2\pi k}{n}$ и $\rho = \sqrt[n]{r}$ (арифметический корень).

Поэтому равенство $\sqrt[n]{z} = \omega$ принимает вид

$$\sqrt[n]{r(\cos \varphi + i \sin \varphi)} = \sqrt[n]{r} \left(\cos \frac{\varphi + 2\pi k}{n} + i \sin \frac{\varphi + 2\pi k}{n} \right),$$

$$k = 0, 1, \dots, n-1.$$

Получим n различных значений корня. При других значениях k , в силу периодичности косинуса и синуса, получатся значения корня,

совпадающие с уже найденными. Так, при $k = n$ имеем

$$\begin{aligned}\omega &= \sqrt[n]{r} \left(\cos \frac{\varphi + 2\pi n}{n} + i \sin \frac{\varphi + 2\pi n}{n} \right) = \\ &= \sqrt[n]{r} \left(\cos \left(\frac{\varphi}{n} + 2\pi \right) + i \sin \left(\frac{\varphi}{n} + 2\pi \right) \right) = \sqrt[n]{r} \left(\cos \frac{\varphi}{n} + i \sin \frac{\varphi}{n} \right) = \omega_0 \\ &\quad (k = 0).\end{aligned}$$

Итак, для любого $z \neq 0$ корень n -й степени из числа z имеет ровно n различных значений.

Пример: Найти значения а) $\sqrt[3]{i} = \omega$; б) $\sqrt{-1} = \omega$.

♦ а) Запишем подкоренное выражение в тригонометрической форме: $i = 1 \left(\cos \frac{\pi}{2} + i \sin \frac{\pi}{2} \right)$. Стало быть,

$$\begin{aligned}\sqrt[3]{i} &= \sqrt[3]{\cos \frac{\pi}{2} + i \sin \frac{\pi}{2}} = \sqrt[3]{1} \left(\cos \frac{\frac{\pi}{2} + 2\pi k}{3} + i \sin \frac{\frac{\pi}{2} + 2\pi k}{3} \right), \\ &\quad k = 0, 1, 2.\end{aligned}$$

При $k = 0$ имеем

$$\omega_0 = \cos \frac{\pi}{6} + i \sin \frac{\pi}{6} = \frac{\sqrt{3}}{2} + i \frac{1}{2};$$

при $k = 1$ имеем

$$\omega_1 = \cos \frac{\frac{\pi}{2} + 2\pi}{3} + i \sin \frac{\frac{\pi}{2} + 2\pi}{3} = \cos \frac{5\pi}{6} + i \sin \frac{5\pi}{6} = -\frac{\sqrt{3}}{2} + i \frac{1}{2};$$

при $k = 2$ имеем

$$\omega_2 = \cos \frac{\frac{9\pi}{2}}{3} + i \sin \frac{\frac{9\pi}{2}}{3} = \cos \frac{3\pi}{2} + i \sin \frac{3\pi}{2} = -i.$$

б) Снова запишем подкоренное выражение в виде:

$$-1 = \cos \pi + i \sin \pi.$$

Поэтому

$$\sqrt{-1} = \sqrt{\cos \pi + i \sin \pi} = \cos \frac{\pi + 2\pi k}{2} + i \sin \frac{\pi + 2\pi k}{2}, \quad k = 0, 1.$$

При $k = 0$ получаем $\omega_0 = \cos \frac{\pi}{2} + i \sin \frac{\pi}{2} = i$, а при $k = 1$ получаем

$\omega_1 = \cos \frac{3\pi}{2} + i \sin \frac{3\pi}{2} = -i$. Таким образом, $\sqrt{-1} = i$ и $\sqrt{-1} = -i$. ♦

IX. НЕОПРЕДЕЛЕННЫЙ ИНТЕГРАЛ

88. НЕОПРЕДЕЛЕННЫЙ ИНТЕГРАЛ И ЕГО СВОЙСТВА

В дифференциальном исчислении решается задача: по данной функции $f(x)$ найти ее производную (или дифференциал). Интегральное исчисление решает обратную задачу: найти функцию $F(x)$, зная ее производную $F'(x) = f(x)$ (или дифференциал). Искомую функцию $F(x)$ называют первообразной функции $f(x)$.

Функция $F(x)$ называется первообразной функции $f(x)$ на интервале $(a; b)$, если для любого $x \in (a; b)$ выполняется равенство

$$F'(x) = f(x) \quad (\text{или } dF(x) = f(x) dx).$$

Например, первообразной функции $y = x^2$, $x \in \mathbb{R}$ является функция $F(x) = \frac{x^3}{3}$, так как

$$F'(x) = \left(\frac{x^3}{3}\right)' = x^2 = f(x).$$

Очевидно, что первообразными будут также любые функции

$$F(x) = \frac{x^3}{3} + C,$$

где C — постоянная, поскольку

$$F'(x) = \left(\frac{x^3}{3} + C\right)' = x^2 = f(x) \quad (x \in \mathbb{R}).$$

Теорема 1. Если функция $F(x)$ является первообразной функции $f(x)$ на $(a; b)$, то множество всех первообразных для $f(x)$ задается формулой $F(x) + C$, где C — постоянное число.

◀ Функция $F(x) + C$ является первообразной $f(x)$. Действительно, $(F(x) + C)' = F'(x) = f(x)$.

Пусть $\Phi(x)$ — некоторая другая, отличная от $F(x)$, первообразная функции $f(x)$, т. е. $\Phi'(x) = f(x)$. Тогда для любого $x \in (a; b)$ имеем

$$(\Phi(x) - F(x))' = \Phi'(x) - F'(x) = f(x) - f(x) = 0.$$

А это означает (см. следствие теоремы Лагранжа), что

$$\Phi(x) - F(x) = C,$$

где C — постоянное число. Следовательно, $\Phi(x) = F(x) + C$. ►

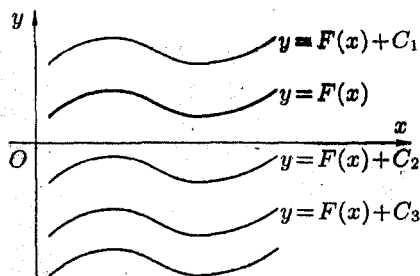
Множество всех первообразных функций $F(x) + C$ для $f(x)$ называется *неопределенным интегралом от функции $f(x)$* и обозначается символом $\int f(x) dx$.

Таким образом, по определению $\int f(x) dx = F(x) + C$.

Здесь $f(x)$ называется *подынтегральной функцией*, $f(x) dx$ — *подынтегральным выражением*, x — *переменной интегрирования*, \int — *знаком неопределенного интеграла*.

Операция нахождения неопределенного интеграла от функции называется *интегрированием* этой функции.

Геометрически неопределенный интеграл представляет собой семейство «параллельных» кривых $y = F(x) + C$ (каждому числовому значению C соответствует определенная кривая семейства). График каждой первообразной (кривой) называется *интегральной кривой*.



Для всякой ли функции существует неопределенный интеграл?

Имеет место теорема, утверждающая, что «всякая непрерывная на $(a; b)$ функция имеет на этом промежутке первообразную», а следовательно, и неопределенный интеграл.

Отметим ряд свойств неопределенного интеграла, вытекающих из его определения.

1. Дифференциал от неопределенного интеграла равен подынтегральному выражению, а производная неопределенного интеграла равна подынтегральной функции:

$$d\left(\int f(x) dx\right) = f(x) dx, \quad \left(\int f(x) dx\right)' = f(x).$$

◀ Действительно,

$$d\left(\int f(x) dx\right) = d(F(x) + C) = dF(x) + d(C) = F'(x) dx = f(x) dx;$$

и

$$\left(\int f(x) dx\right)' = (F(x) + C)' = F'(x) + 0 = f(x). \quad \blacktriangleright$$

Благодаря этому свойству *правильность интегрирования проверяется дифференцированием*. Например, равенство

$$\int (3x^2 + 4) dx = x^3 + 4x + C$$

верно, так как $(x^3 + 4x + C)' = 3x^2 + 4$.

2. Неопределенный интеграл от дифференциала некоторой функции равен сумме этой функции и произвольной постоянной:

$$\int dF(x) = F(x) + C.$$

◀ Действительно, $\int dF(x) = \int F'(x) dx = \int f(x) dx = F(x) + C$. ▶

3. Постоянный множитель можно выносить за знак интеграла:

$$\int af(x) dx = a \cdot \int f(x) dx, \quad a \neq 0 \text{ — постоянная.}$$

◀ Действительно,

$$\begin{aligned} \int af(x) dx &= \int aF'(x) dx = \int (aF(x))' dx = \int d(aF(x)) = \\ &= a \cdot F(x) + C_1 = a \cdot \left(F(x) + \frac{C_1}{a} \right) = a(F(x) + C) = a \int f(x) dx, \end{aligned}$$

(положили $\frac{C_1}{a} = C$). ▶

4. Неопределенный интеграл от алгебраической суммы конечно-го числа непрерывных функций равен алгебраической сумме интегралов от слагаемых функций:

$$\int (f(x) \pm g(x)) dx = \int f(x) dx \pm \int g(x) dx.$$

◀ Пусть $F'(x) = f(x)$ и $G'(x) = g(x)$. Тогда

$$\begin{aligned} \int (f(x) \pm g(x)) dx &= \int (F'(x) \pm G'(x)) dx = \\ &= \int (F(x) \pm G(x))' dx = \int d(F(x) \pm G(x)) = F(x) \pm G(x) + C = \\ &= (F(x) + C_1) \pm (G(x) + C_2) = \int f(x) dx \pm \int g(x) dx, \end{aligned}$$

где $C_1 \pm C_2 = C$. ▶

5. (Инвариантность формулы интегрирования). Если $\int f(x) dx = F(x) + C$, то и $\int f(u) du = F(u) + C$, где $u = \varphi(x)$ — произвольная функция, имеющая непрерывную производную.

◀ Пусть x — независимая переменная, $f(x)$ — непрерывная функция и $F(x)$ — ее первообразная. Тогда $\int f(x) dx = F(x) + C$. Положим теперь $u = \varphi(x)$, где $\varphi(x)$ — непрерывно-дифференцируемая функция. Рассмотрим сложную функцию $F(u) = F(\varphi(x))$. В силу инвариантности формы первого дифференциала функции имеем

$$dF(u) = F'(u) du = f(u) du.$$

Отсюда $\int f(u) du = \int d(F(u)) = F(u) + C$. ▶

Таким образом, любая формула для неопределенного интеграла остается справедливой независимо от того, является ли переменная интегрирования независимой переменной или любой функцией, имеющей непрерывную производную.

Так, из формулы $\int x^2 dx = \frac{x^3}{3} + C$ путем замены x на u ($u = \varphi(x)$) получаем $\int u^2 du = \frac{u^3}{3} + C$. В частности,

$$\int \sin^2 x d(\sin x) = \frac{\sin^3 x}{3} + C,$$

$$\int \ln^2 x d(\ln x) = \frac{\ln^3 x}{3} + C,$$

$$\int \operatorname{tg}^2 x d(\operatorname{tg} x) = \frac{\operatorname{tg}^3 x}{3} + C.$$

Примеры: 1. Найти интеграл $\int (2x^5 - 3x^2 + x - 5) dx$;

$$\begin{aligned} \diamond \int (2x^5 - 3x^2 + x - 5) dx &= 2 \int x^5 dx - 3 \int x^2 dx + \int x dx - 5 \int dx = \\ &= 2 \frac{x^5}{5} + C_1 - 3 \frac{x^3}{3} + C_2 + \frac{x^2}{2} + C_3 - 5x + C_4 = \frac{2}{5} x^5 - x^3 + \frac{1}{2} x^2 - 5x + C, \end{aligned}$$

где $C = C_1 + C_2 + C_3 + C_4$. ◆

2. Найти интеграл $\int \frac{x+1}{x} dx$.

$$\diamond \int \frac{x+1}{x} dx = \int \left(1 + \frac{1}{x}\right) dx = x + \ln |x| + C. \quad \blacklozenge$$

89. ТАБЛИЦА ОСНОВНЫХ ИНТЕГРАЛОВ

Пользуясь тем, что интегрирование есть действие, обратное дифференцированию, можно получить таблицу основных интегралов путем обращения соответствующих формул дифференциального исчисления (таблица дифференциалов) и использования свойств неопределенного интеграла.

Например, так как

$$d(\sin u) = \cos u \cdot du,$$

то

$$\int \cos u \, du = \int d(\sin u) = \sin u + C.$$

Вывод ряда формул таблицы будет дан при рассмотрении основных методов интегрирования.

Интегралы в приводимой ниже таблице называются *табличными*. Их следует знать наизусть. В интегральном исчислении нет простых и универсальных правил отыскания первообразных от элементарных функций, как в дифференциальном исчислении. Методы нахождения первообразных (т. е. интегрирования функции) сводятся к указанию приемов, приводящих данный (искомый) интеграл к табличному. Следовательно, необходимо знать табличные интегралы и уметь их узнавать.

Отметим, что в таблице основных интегралов переменная интегрирования u может обозначать как независимую переменную, так и функцию от независимой переменной (согласно свойству инвариантности формулы интегрирования).

В справедливости приведенных ниже формул можно убедиться, взяв дифференциал правой части, который будет равен подынтегральному выражению в левой части формулы.

Докажем, например, справедливость формулы 2. Функция $\frac{1}{x}$ определена и непрерывна для всех значений x , отличных от нуля.

Если $u > 0$, то $\ln |u| = \ln u$, тогда $d \ln |u| = d \ln u + C = \ln |u| + C$.

Если $u < 0$, то $\ln |u| = \ln(-u)$. Но $d \ln(-u) = \frac{-du}{-u} = \frac{du}{u}$. Значит, для $u < 0$ $\int \frac{du}{u} = \ln(-u) + C = \ln |u| + C$.

Итак, формула 2 верна.

Аналогично, проверим формулу 15:

$$d\left(\frac{1}{a} \arctg \frac{u}{a} + C\right) = \frac{1}{a} \cdot \frac{1}{1 + \left(\frac{u}{a}\right)^2} \cdot \frac{1}{a} du = \frac{du}{a^2 + u^2}.$$

Таблица основных интегралов

1. $\int u^\alpha du = \frac{u^{\alpha+1}}{\alpha+1} + C, (\alpha \neq -1), \quad \left(\int du = u + C \right);$
2. $\int \frac{du}{u} = \ln |u| + C;$
3. $\int a^u du = \frac{a^u}{\ln a} + C;$
4. $\int e^u du = e^u + C;$
5. $\int \sin u du = -\cos u + C; \quad \left(\int \operatorname{sh} u du = \operatorname{ch} u + C \right);$
6. $\int \cos u du = \sin u + C; \quad \left(\int \operatorname{ch} u du = \operatorname{sh} u + C \right);$
7. $\int \operatorname{tg} u du = -\ln |\cos u| + C;$
8. $\int \operatorname{ctg} u du = \ln |\sin u| + C;$
9. $\int \frac{du}{\cos^2 u} = \operatorname{tg} u + C, \quad \left(\int \frac{du}{\operatorname{ch}^2 u} = \operatorname{th} u + C \right);$
10. $\int \frac{du}{\sin^2 u} = -\operatorname{ctg} u + C, \quad \left(\int \frac{du}{\operatorname{sh}^2 u} = -\operatorname{cth} u + C \right);$
11. $\int \frac{du}{\sin u} = \ln \left| \operatorname{tg} \frac{u}{2} \right| + C;$
12. $\int \frac{du}{\cos u} = \ln \left| \operatorname{tg} \left(\frac{u}{2} + \frac{\pi}{4} \right) \right| + C;$
13. $\int \frac{du}{\sqrt{a^2 - u^2}} = \arcsin \frac{u}{a} + C;$
14. $\int \frac{du}{\sqrt{u^2 + a^2}} = \ln |u + \sqrt{u^2 + a^2}| + C;$
15. $\int \frac{du}{a^2 + u^2} = \frac{1}{a} \operatorname{arctg} \frac{u}{a} + C;$
16. $\int \frac{du}{a^2 - u^2} = \frac{1}{2a} \cdot \ln \left| \frac{a+u}{a-u} \right| + C;$
17. $\int \sqrt{a^2 - u^2} du = \frac{u}{2} \cdot \sqrt{a^2 - u^2} + \frac{a^2}{2} \arcsin \frac{u}{a} + C;$
18. $\int \sqrt{u^2 + a^2} du = \frac{u}{2} \cdot \sqrt{u^2 + a^2} + \frac{a^2}{2} \ln |u + \sqrt{u^2 + a^2}| + C.$

90. ОСНОВНЫЕ МЕТОДЫ ИНТЕГРИРОВАНИЯ

1. Метод непосредственного интегрирования

Метод интегрирования, при котором данный интеграл путем тождественных преобразований подынтегральной функции (или выражения) и применения свойств неопределенного интеграла приводится к одному или нескольким табличным интегралам, называется *непосредственным интегрированием*.

При сведении данного интеграла к табличному часто используются следующие преобразования дифференциала (операция «подведения под знак дифференциала»):

$$\begin{aligned} du &= d(u + a), \quad a \text{ — число,} \\ du &= \frac{1}{a}d(au), \quad a \neq 0 \text{ — число,} \\ u \cdot du &= \frac{1}{2}d(u^2), \\ \cos u \, du &= d(\sin u), \\ \sin u \, du &= -d(\cos u), \\ \frac{1}{u} \, du &= d(\ln u), \\ \frac{1}{\cos^2 u} &= d(\operatorname{tg} u). \end{aligned}$$

Вообще, $f'(u) \, du = d(f(u))$, эта формула очень часто используется при вычислении интегралов.

Примеры:

1) $\int \frac{dx}{x+3} = \int \frac{d(x+3)}{x+3} = \ln|x+3| + C$ (формула 2 таблицы интегралов);

2) $\int (3x-1)^{24} dx = \frac{1}{3} \int (3x-1)^{24} d(3x-1) = \frac{1}{3} \cdot \frac{(3x-1)^{25}}{25} + C$ (формула 1);

3) $\int \operatorname{ctg}^2 x \, dx = \int \frac{1 - \sin^2 x}{\sin^2 x} dx = \int \left(\frac{1}{\sin^2 x} - 1 \right) dx = \int \frac{1}{\sin^2 x} dx - \int dx = -\operatorname{ctg} x - x + C$ (формулы 10 и 1);

$$4) \int \frac{dx}{\sqrt{4-3x^2}} = \frac{1}{\sqrt{3}} \int \frac{d(\sqrt{3} \cdot x)}{\sqrt{(2)^2 - (\sqrt{3} \cdot x)^2}} = \frac{1}{\sqrt{3}} \cdot \arcsin \frac{\sqrt{3} \cdot x}{2} + C$$

(формула 13);

$$5) \int \sin^2 6x dx = \frac{1}{2} \int (1 - \cos 12x) dx = \frac{1}{2} \int dx - \frac{1}{2} \int \cos 12x dx = \\ = \frac{1}{2}x - \frac{1}{2} \int \cos 12x d(12x) \cdot \frac{1}{12} = \frac{1}{2}x - \frac{1}{24} \sin 12x + C \text{ (формулы 1 и 6);}$$

$$6) \int \frac{dx}{(x-1)(x+2)} = -\frac{1}{3} \int \frac{(x-1) - (x+2)}{(x-1)(x+2)} dx = \\ = -\frac{1}{3} \int \frac{x-1}{(x-1)(x+2)} dx + \frac{1}{3} \int \frac{x+2}{(x-1)(x+2)} dx = -\frac{1}{3} \int \frac{d(x+2)}{x+2} + \\ + \frac{1}{3} \int \frac{d(x-1)}{x-1} = -\frac{1}{3} \ln|x+2| + \frac{1}{3} \ln|x-1| + C;$$

$$7) \int \operatorname{tg} u du = \int \frac{\sin u du}{\cos u} = - \int \frac{d(\cos u)}{\cos u} = - \ln|\cos u| + C \text{ (вывод формулы 7);}$$

$$8) \int \frac{du}{\sin u} = \int \frac{\cos^2 \frac{u}{2} + \sin^2 \frac{u}{2}}{2 \sin \frac{u}{2} \cos \frac{u}{2}} du = \int \frac{\cos^2 \frac{u}{2}}{2 \sin \frac{u}{2} \cos \frac{u}{2}} du + \\ + \int \frac{\sin^2 \frac{u}{2}}{2 \sin \frac{u}{2} \cos \frac{u}{2}} du = \int \operatorname{ctg} \frac{u}{2} d\left(\frac{u}{2}\right) + \int \operatorname{tg} \frac{u}{2} d\left(\frac{u}{2}\right) = \ln\left|\sin \frac{u}{2}\right| - \\ - \ln\left|\cos \frac{u}{2}\right| + C = \ln\left|\frac{\sin \frac{u}{2}}{\cos \frac{u}{2}}\right| + C = \ln\left|\operatorname{tg} \frac{u}{2}\right| + C \text{ (вывод формулы 11);}$$

$$9) \int x(x+2)^9 dx = \int (x+2-2)(x+2)^9 dx = \int (x+2)^{10} dx - \\ - 2 \int (x+2)^9 dx = \int (x+2)^{10} d(x+2) - 2 \int (x+2)^9 d(x+2) = \frac{(x+2)^{11}}{11} - \\ - 2 \frac{(x+2)^{10}}{10} + C \text{ (формула 1);}$$

$$10) \int \frac{dx}{\operatorname{ctg}^5 x \cdot \sin^2 x} = - \int (\operatorname{ctg} x)^{-5} d(\operatorname{ctg} x) = -\frac{\operatorname{ctg}^{-4} x}{-4} + C = \\ = C + \frac{1}{4 \operatorname{ctg}^4 x} \text{ (формула 1);}$$

$$11) \int \frac{dx}{\sqrt{3-2x+x^2}} = \int \frac{dx}{\sqrt{2+(x-1)^2}} = \int \frac{d(x-1)}{\sqrt{(\sqrt{2})^2+(x-1)^2}} = \\ = \ln|x-1+\sqrt{3-2x+x^2}| + C \text{ (формула 14);}$$

$$12) \int \left(4x^3 - \frac{5}{\cos^2 2x} + 3^{1-x} \right) dx = 4 \int x^3 dx - \frac{5}{2} \int \frac{d(2x)}{\cos^2 2x} - \int 3^{1-x} d(1-x) = x^4 - \frac{5}{2} \operatorname{tg} 2x - \frac{3^{1-x}}{\ln 3} + C \quad (\text{формулы 1, 9, 3});$$

$$13) \int x^3 \cdot \sqrt[3]{1+x^2} dx = \int (1+x^2)^{\frac{1}{3}} \cdot x \cdot (x^2+1-1) dx = \frac{1}{2} \int (1+x^2)^{\frac{4}{3}} d(1+x^2) - \frac{1}{2} \int (1+x^2)^{\frac{1}{3}} d(1+x^2) = \frac{3}{14} (1+x^2)^{\frac{7}{3}} - \frac{3}{8} (1+x^2)^{\frac{4}{3}} + C.$$

Как видно, вычисление интегралов иногда требует некоторой изобретательности, так сказать, «индивидуального подхода к каждой подынтегральной функции».

Соответствующие навыки приобретаются в результате значительного числа упражнений.

2. Метод интегрирования подстановкой (заменой переменной)

Метод интегрирования подстановкой заключается во введении новой переменной интегрирования (т. е. подстановки). При этом заданный интеграл приводится к новому интегралу, который является табличным или к нему сводящимся (в случае «удачной» подстановки). Общих методов подбора подстановок не существует. Умение правильно определить подстановку приобретается практикой.

Пусть требуется вычислить интеграл $\int f(x) dx$. Сделаем подстановку $x = \varphi(t)$, где $\varphi(t)$ — функция, имеющая непрерывную производную.

Тогда $dx = \varphi'(t) dt$ и на основании свойства инвариантности формулы интегрирования неопределенного интеграла получаем *формулу интегрирования подстановкой*

$$\int f(x) dx = \int f(\varphi(t)) \cdot \varphi'(t) dt. \quad (1)$$

Формула (1) также называется формулой замены переменных в неопределенном интеграле. После нахождения интеграла правой части этого равенства следует перейти от новой переменной интегрирования t назад к переменной x .

Иногда целесообразно подбирать подстановку в виде $t = \varphi(x)$, тогда $\int f(\varphi(x)) \cdot \varphi'(x) dx = \int f(t) dt$, где $t = \varphi(x)$. Другими словами, формулу (1) можно применять справа налево.

Примеры:

1) Найти $\int e^{\frac{x}{4}} dx$.

◆ Положим $x = 4t$, тогда $dx = 4 dt$. Следовательно,

$$\int e^{\frac{x}{4}} dx = 4 \int e^t dt = 4e^t + C = 4e^{\frac{x}{4}} + C. \quad \blacklozenge$$

2) Найти $\int x \cdot \sqrt{x-3} dx$.

◆ Пусть $\sqrt{x-3} = t$, тогда $x = t^2 + 3$, $dx = 2t dt$. Поэтому

$$\begin{aligned} \int x \cdot \sqrt{x-3} dx &= \int (t^2 + 3) \cdot t \cdot 2t dt = \\ &= 2 \int (t^4 + 3t^2) dt = 2 \int t^4 dt + 6 \int t^2 dt = 2 \cdot \frac{t^5}{5} + 6 \cdot \frac{t^3}{3} + C = \\ &= \frac{2}{5}(x-3)^{5/2} + 2(x-3)^{3/2} + C. \quad \blacklozenge \end{aligned}$$

3) Получить формулу $\int \frac{du}{\sqrt{u^2 + a^2}} = \ln|u + \sqrt{u^2 + a^2}| + C$.

◀ Обозначим $t = \sqrt{u^2 + a^2} + u$ (подстановка Эйлера). Тогда

$$dt = \frac{2u}{2\sqrt{u^2 + a^2}} du + du, \quad \text{т. е.} \quad dt = \frac{\sqrt{u^2 + a^2} + u}{\sqrt{u^2 + a^2}} du.$$

Отсюда

$$\frac{du}{\sqrt{u^2 + a^2}} = \frac{dt}{\sqrt{u^2 + a^2} + u} = \frac{dt}{t}.$$

Стало быть,

$$\int \frac{du}{\sqrt{u^2 + a^2}} = \int \frac{dt}{t} = \ln|t| + C = \ln|u + \sqrt{u^2 + a^2}| + C. \quad \blacktriangleright$$

4) Найти $\int x \cdot (x+2)^{100} dx$.

◆ Пусть $x+2 = t$. Тогда $x = t-2$, $dx = dt$. Имеем:

$$\begin{aligned} \int x \cdot (x+2)^{100} dx &= \int (t-2) \cdot t^{100} dt = \int t^{101} dt - 2 \int t^{100} dt = \\ &= \frac{t^{102}}{102} - 2 \cdot \frac{t^{101}}{101} + C = \frac{(x+2)^{102}}{102} - \frac{2(x+2)^{101}}{101} + C. \quad \blacklozenge \end{aligned}$$

5) Найти $\int \frac{dx}{e^x + 1}$.

◆ Обозначим $e^x = t$. Тогда $x = \ln t$, $dx = \frac{dt}{t}$. Следовательно,

$$\begin{aligned} \int \frac{dx}{e^x + 1} &= \int \frac{\frac{dt}{t}}{t + 1} = \int \frac{dt}{t(t+1)} = \int \frac{dt}{t^2 + t} = \\ &= \int \frac{dt}{(t + \frac{1}{2})^2 - \frac{1}{4}} = - \int \frac{d(t + \frac{1}{2})}{(\frac{1}{2})^2 - (t + \frac{1}{2})^2} = - \frac{1}{2 \cdot \frac{1}{2}} \ln \left| \frac{\frac{1}{2} + t + \frac{1}{2}}{\frac{1}{2} - t - \frac{1}{2}} \right| + C = \\ &= - \ln \left| \frac{t + 1}{-t} \right| = \ln \left| \frac{t}{t + 1} \right| = \ln \frac{e^x}{e^x + 1} + C. \end{aligned}$$

Здесь используется формула 16 таблицы основных интегралов. ◆

3. Метод интегрирования по частям

Пусть $u = u(x)$ и $v = v(x)$ — функции, имеющие непрерывные производные. Тогда $d(uv) = u \cdot dv + v \cdot du$. Интегрируя это равенство, получим

$$\int d(uv) = \int u dv + \int v du \quad \text{или} \quad \int u dv = uv - \int v du.$$

Полученная формула называется *формулой интегрирования по частям*. Она дает возможность свести вычисление интеграла $\int u dv$ к вычислению интеграла $\int v du$, который может оказаться существенно более простым, чем исходный.

Интегрирование по частям состоит в том, что подынтегральное выражение заданного интеграла представляется каким-либо образом в виде произведения двух сомножителей u и dv (это, как правило, можно осуществить несколькими способами); затем, после нахождения v и du , используется формула интегрирования по частям. Иногда эту формулу приходится использовать несколько раз.

Укажем некоторые типы интегралов, которые удобно вычислять методом интегрирования по частям.

1. Интегралы вида $\int P(x)e^{kx} dx$, $\int P(x) \cdot \sin kx dx$, $\int P(x) \cos kx dx$, где $P(x)$ — многочлен, k — число. Удобно положить $u = P(x)$, а за dv обозначить все остальные сомножители;

2. Интегралы вида $\int P(x) \arcsin x dx$, $\int P(x) \arccos x dx$, $\int P(x) \ln x dx$, $\int P(x) \operatorname{arctg} x dx$, $\int P(x) \operatorname{arcctg} x dx$. Удобно положить $P(x) dx = dv$, а за u обозначить остальные сомножители.

3. Интегралы вида $\int e^{ax} \cdot \sin bx dx$, $\int e^{ax} \cdot \cos bx dx$, где a и b — числа. За u можно принять функцию $u = e^{ax}$.

Примеры:

1) Найти $\int (2x+1)e^{3x} dx$.

◆ Пусть $\left[\begin{array}{l} u = 2x+1 \implies du = 2dx, \\ dv = e^{3x} dx \implies v = \int e^{3x} dx = \frac{1}{3}e^{3x} \end{array} \right]$ (можно положить $C = 0$). Следовательно, по формуле интегрирования по частям:

$$\int (2x+1)e^{3x} dx = (2x+1) \cdot \frac{1}{3}e^{3x} - \int \frac{1}{3}e^{3x} \cdot 2 dx = \frac{1}{3}(2x+1)e^{3x} - \frac{2}{9}e^{3x} + C. \quad \blacklozenge$$

2) Найти $\int \ln x dx$.

◆ Пусть $\left[\begin{array}{l} u = \ln x \implies du = \frac{1}{x} dx, \\ dv = dx \implies v = x. \end{array} \right]$ Поэтому

$$\int \ln x dx = x \cdot \ln x - \int x \cdot \frac{1}{x} dx = x \cdot \ln x - x + C. \quad \blacklozenge$$

3) Найти $\int x^2 e^x dx$.

◆ Пусть $\left[\begin{array}{l} u = x^2 \implies du = 2x dx, \\ dv = e^x dx \implies v = e^x. \end{array} \right]$ Поэтому

$$\int x^2 e^x dx = x^2 e^x - 2 \int e^x \cdot x dx. \quad (2)$$

Для вычисления интеграла $\int e^x x dx$ снова применим метод интегрирования по частям: $u = x, dv = e^x dx \implies du = dx, v = e^x$. Значит,

$$\int e^x \cdot x dx = x \cdot e^x - \int e^x dx = x \cdot e^x - e^x + C. \quad (3)$$

Поэтому (см. (2)) $\int x^2 e^x dx = x^2 e^x - 2(x \cdot e^x - e^x + C)$. ◆

4) Найти $\int \arctg x dx$.

◆ Пусть $\left[\begin{array}{l} u = \arctg x \implies du = \frac{1}{1+x^2} dx, \\ dv = dx \implies v = x. \end{array} \right]$ Поэтому

$$\begin{aligned} \int \arctg x dx &= x \cdot \arctg x - \int \frac{x}{1+x^2} dx = x \cdot \arctg x - \frac{1}{2} \int \frac{d(1+x^2)}{1+x^2} = \\ &= x \arctg x - \frac{1}{2} \ln(1+x^2) + C. \quad \blacklozenge \end{aligned}$$

91. ИНТЕГРИРОВАНИЕ РАЦИОНАЛЬНЫХ ФУНКЦИЙ

1. Многочлен (некоторые сведения справочного характера)

Функция.

$$P_n(x) = a_0x^n + a_1x^{n-1} + \dots + a_{n-1}x + a_n, \quad (1)$$

где n — натуральное число, a_i ($i = 0, 1, \dots, n$) — постоянные коэффициенты, называется *многочленом* (или *целой рациональной функцией*). Число n называется *степенью* многочлена.

Корнем многочлена (1) называется такое значение x_0 (вообще говоря, комплексное) переменной x , при котором многочлен обращается в нуль, т. е. $P_n(x_0) = 0$.

Теорема 1. Если x_1 есть корень многочлена $P_n(x)$, то многочлен делится без остатка на $x - x_1$, т. е.

$$P_n(x) = (x - x_1) \cdot P_{n-1}(x), \quad (2)$$

где $P_{n-1}(x)$ многочлен степени $(n - 1)$.

Возникает вопрос: всякий ли многочлен имеет корень? Положительный ответ на этот вопрос дает следующее утверждение.

Теорема 2 (основная теорема алгебры). Всякий многочлен n -й степени ($n > 0$) имеет по крайней мере один корень, действительный или комплексный.

Доказательство этой теоремы мы не приводим.

Пользуясь основной теоремой алгебры, докажем теорему о разложении многочлена на линейные множители.

Теорема 3. Всякий многочлен $P_n(x)$ можно представить в виде

$$P_n(x) = a_0(x - x_1)(x - x_2) \dots (x - x_n), \quad (3)$$

где x_1, x_2, \dots, x_n — корни многочлена, a_0 — коэффициент многочлена при x^n .

◀ Рассмотрим многочлен (1). По теореме 2 он имеет корень. Обозначим его через x_1 . Тогда имеет место соотношение (2). А так как $P_{n-1}(x)$ — также многочлен, то он имеет корень. Обозначим его через x_2 . Тогда $P_{n-1}(x) = (x - x_2) \cdot P_{n-2}(x)$ — многочлен $(n - 2)$ -й степени. Следовательно, $P_n(x) = (x - x_1)(x - x_2)P_{n-2}(x)$.

Продолжая этот процесс, получим в итоге:

$$P_n(x) = a_0(x - x_1)(x - x_2) \dots (x - x_n). \quad \blacktriangleright$$

Примеры: 1) Многочлен $P_3(x) = x^3 - 2x^2 - x + 2$ обращается в нуль при $x = -1$, $x = 1$, $x = 2$. Следовательно, $x^3 - 2x^2 - x + 2 = (x + 1)(x - 1)(x - 2)$.

2) Легко проверить, что $x^3 - x^2 + 4x - 4 = (x - 1)(x - 2i)(x + 2i)$.

Множители $(x - x_i)$ в равенстве (3) называются *линейными множителями*. Если в разложении многочлена (3) какой-либо корень встретился k раз, то он называется *корнем кратности k* . В случае $k = 1$ (т. е. корень встретился один раз) корень называется *простым*.

Разложение многочлена (3) можно записать в виде

$$P_n(x) = a_0(x - x_1)^{k_1} \cdot (x - x_2)^{k_2} \dots (x - x_r)^{k_r}, \quad (4)$$

если корень x_1 имеет кратность k_1 , корень x_2 — кратность k_2 и так далее. При этом $k_1 + k_2 + \dots + k_r = n$, а r — число различных корней.

Например, разложение

$$P_8(x) = (x - 3)(x + 1)(x - 4)(x - 3)(x - 3)x(x - 4)(x - 3)$$

можно записать так:

$$P_8(x) = (x - 3)^4 \cdot (x + 1) \cdot (x - 4)^2 \cdot x.$$

Пользуясь теоремой 3, можно доказать следующие утверждения.

Теорема 4. Если многочлен $P_n(x) = a_0x^n + a_1x^{n-1} + \dots + a_n$ тождественно равен нулю, то все его коэффициенты равны нулю.

Теорема 5. Если два многочлена тождественно равны друг другу, то коэффициенты одного многочлена равны соответствующим коэффициентам другого.

Например, если $ax^3 + bx^2 + cx + d \equiv x^3 - 3x^2 + 1$, то $a = 1$, $b = -3$, $c = 0$, $d = 1$.

Теорема 6. Если многочлен $P_n(x)$ с действительными коэффициентами имеет комплексный корень $a + ib$, то он имеет и сопряженный корень $a - ib$.

В разложении многочлена (3) комплексные корни входят сопряженными парами. Перемножив линейные множители

$$(x - (a + ib)) \cdot (x - (a - ib)),$$

получим трехчлен второй степени с действительными коэффициентами $x^2 + px + q$. В самом деле,

$$\begin{aligned} (x - (a + ib))(x - (a - ib)) &= ((x - a) - ib)((x - a) + ib) = \\ &= (x - a)^2 + b^2 = x^2 - 2ax + a^2 + b^2 = x^2 + px + q, \end{aligned}$$

где $p = -2a$, $q = a^2 + b^2$.

Таким образом, произведение линейных множителей, соответствующих сопряженным корням, можно заменить квадратным трехчленом с действительными коэффициентами.

С учетом вышеизложенного справедлив следующий факт.

Теорема 1. Любой многочлен с действительными коэффициентами разлагается на линейные и квадратные множители с действительными коэффициентами, т. е. многочлен $P_n(x)$ можно представить в виде:

$$P_n(x) = a_0(x-x_1)^{k_1}(x-x_2)^{k_2} \dots (x-x_r)^{k_r} \times \\ \times (x^2+p_1x+q_1)^{s_1} \dots (x^2+p_mx+q_m)^{s_m}. \quad (5)$$

При этом $k_1+k_2+\dots+k_r+2(s_1+s_2+\dots+s_m) = n$, все квадратные трехчлены не имеют вещественных корней.

Примеры разложений (5):

- 1) $x^4 - 1 = (x-1)(x+1)(x^2+1)$;
- 2) $x^3 - 16x = x(x^2 - 16) = x(x-4)(x+4)$;
- 3) $x^5 - 6x^4 + 9x^3 - x^2 + 6x - 9 = x^3(x^2 - 6x + 9) - (x^2 - 6x + 9) = \\ = (x^2 - 6x + 9)(x^3 - 1) = (x-3)^2 \cdot (x-1)(x^2 + x + 1)$.

2. Дробно-рациональная функция

Дробно-рациональной функцией (или рациональной дробью) называется функция, равная отношению двух многочленов, т. е. $f(x) = \frac{P_m(x)}{Q_n(x)}$, где $P_m(x)$ — многочлен степени m , а $Q_n(x)$ — многочлен степени n .

Рациональная дробь называется *правильной*, если степень числителя меньше степени знаменателя, т. е. $m < n$; в противном случае (если $m \geq n$) рациональная дробь называется *неправильной*.

Всякую неправильную рациональную дробь $\frac{P(x)}{Q(x)}$ можно, путем деления числителя на знаменатель, представить в виде суммы многочлена $L(x)$ и правильной рациональной дроби $\frac{R(x)}{Q(x)}$, т. е.

$$\frac{P(x)}{Q(x)} = L(x) + \frac{R(x)}{Q(x)}.$$

Например, $\frac{P(x)}{Q(x)} = \frac{x^4 - 5x + 9}{x - 2}$ — неправильная рациональная дробь.

Поясним формулировку теоремы на следующих примерах:

$$1) \frac{x^2 + 4}{(x-2)(x+3)^2} = \frac{A}{x-2} + \frac{B}{x-3} + \frac{C}{(x-3)^2} + \frac{D}{(x-3)^3};$$

$$2) \frac{x^3 + 1}{x^2(x+1)^2} = \frac{A}{x} + \frac{B}{x^2} + \frac{Cx+D}{x^2+1};$$

$$3) \frac{7x^2 + 8x + 9}{(x-1)(x-2)(x^2+x+1)^2} = \frac{A}{x-1} + \frac{B}{x-2} + \frac{Cx+D}{x^2+x+1} + \frac{Mx+N}{(x^2+x+1)^2}.$$

Для нахождения неопределенных коэффициентов $A_1, A_2, \dots, B_1, B_2, \dots$ в равенстве (6) можно применить *метод сравнения коэффициентов*. Суть метода такова:

1. В правой части равенства (6) приведем к общему знаменателю $Q(x)$; в результате получим тождество $\frac{P(x)}{Q(x)} = \frac{S(x)}{Q(x)}$, где $S(x)$ — многочлен с неопределенными коэффициентами.

2. Так как в полученном тождестве знаменатели равны, то тождественно равны и числители, т. е.

$$P(x) \equiv S(x). \quad (7)$$

3. Приравнявая коэффициенты при одинаковых степенях x (по теореме 5 о тождестве многочленов) в обеих частях тождества (7), получим систему линейных уравнений, из которой и определим искомые коэффициенты $A_1, A_2, \dots, B_1, \dots$.

Пример: Представить дробь $\frac{2x^2 - 3x - 3}{(x-1)(x^2 - 2x + 5)}$ в виде суммы простейших дробей.

◆ Согласно теореме 8 имеем:

$$\frac{2x^2 - 3x - 3}{(x-1)(x^2 - 2x + 5)} = \frac{A}{x-1} + \frac{Bx+C}{x^2 - 2x + 5},$$

т. е.

$$\frac{2x^2 - 3x - 3}{(x-1)(x^2 - 2x + 5)} = \frac{A(x^2 - 2x + 5) + (x-1)(Bx+C)}{(x-1)(x^2 - 2x + 5)}.$$

Отсюда следует

$$2x^2 - 3x - 3 \equiv Ax^2 - 2Ax + 5A + Bx^2 - Bx + Cx - C,$$

т. е.

$$2x^2 - 3x - 3 \equiv (A+B)x^2 + (-2A-B+C)x + (5A-C).$$

Приравнивая коэффициенты при x^2 , x^1 , x^0 , получаем

$$\begin{cases} 2 = A + B, \\ -3 = -2A - B + C, \\ -3 = 5A - C. \end{cases}$$

Решая систему, находим, что $A = -1$, $B = 3$, $C = -2$. Следовательно,

$$\frac{2x^2 - 3x - 3}{(x-1)(x^2 - 2x + 5)} = \frac{-1}{x-1} + \frac{3x-2}{x^2 - 3x + 5}.$$

Для нахождения неопределенных коэффициентов применяют также *метод отдельных значений аргумента*: после получения тождества (7) аргументу x придают конкретные значения столько раз, сколько неопределенных коэффициентов (обычно полагают вместо x значения действительных корней многочлена $Q(x)$).

Пример: Представить дробь $\frac{3x-4}{x(x-2)(x+1)}$ в виде суммы простейших дробей.

◆ Имеем: $\frac{3x-4}{x(x-2)(x+1)} = \frac{A}{x} + \frac{B}{x-2} + \frac{C}{x+1}$. Отсюда следует

$$3x - 4 \equiv A(x-2)(x+1) + Bx(x+1) + Cx(x-2).$$

Положим $x = 0$, тогда $-4 = -2A$, т. е. $A = 2$; положим $x = 2$, тогда $2 = 6B$, т. е. $B = \frac{1}{3}$; положим $x = -1$, тогда $-7 = 3C$, т. е. $C = -\frac{7}{3}$. Следовательно,

$$\frac{3x-4}{x(x-2)(x+1)} = \frac{2}{x} + \frac{\frac{1}{3}}{x-2} + \frac{-\frac{7}{3}}{x+1}.$$

3. Интегрирование простейших рациональных дробей

Найдем интегралы от простейших рациональных дробей.

1. $\int \frac{A}{x-a} dx = \int \frac{d(x-a)}{x-a} = A \cdot \ln|x-a| + C$ (формула (2) таблицы интегралов);

2. $\int \frac{A}{(x-a)^k} dx = A \cdot \int (x-a)^{-k} d(x-a) = A \cdot \frac{(x-a)^{-k+1}}{-k+1} + C$ (формула (1));

3. Рассмотрим интеграл $J = \int \frac{Mx+N}{x^2+px+q} dx$.

Выделив в знаменателе полный квадрат, получим:

$$J = \int \frac{Mx + N}{(x + \frac{p}{2})^2 + q - \frac{p^2}{4}} dx,$$

причем $q - \frac{p^2}{4} > 0$. Сделаем подстановку $x + \frac{p}{2} = t$. Тогда $x = t - \frac{p}{2}$, $dx = dt$. Положим $q - \frac{p^2}{4} = a^2$. Следовательно, используя формулы (9) и (15) таблицы интегралов, получаем

$$\begin{aligned} J &= \int \frac{Mx + N}{x^2 + px + q} dx = \int \frac{M(t - \frac{p}{2}) + N}{t^2 + a^2} dt = \\ &= M \int \frac{t dt}{t^2 + a^2} + \left(N - \frac{Mp}{2}\right) \int \frac{dt}{t^2 + a^2} = \\ &= \frac{M}{2} \cdot \ln(t^2 + a^2) + \left(N - \frac{Mp}{2}\right) \cdot \frac{1}{a} \operatorname{arctg} \frac{t}{a} + C, \end{aligned}$$

т. е., возвращаясь к переменной x ,

$$J = \int \frac{Mx + N}{x^2 + px + q} dx = \frac{M}{2} \ln(x^2 + px + q) + \frac{N - \frac{Mp}{2}}{\sqrt{q - \frac{p^2}{4}}} \operatorname{arctg} \frac{x + \frac{p}{2}}{\sqrt{q - \frac{p^2}{4}}} + C.$$

Пример: Найти $\int \frac{3x + 1}{x^2 + 2x + 10} dx$.

♦ $x^2 + 2x + 10 = (x + 1)^2 + 9$. Сделаем подстановку $x + 1 = t$. Тогда $x = t - 1$, $dx = dt$ и

$$\begin{aligned} \int \frac{3x + 1}{x^2 + 2x + 10} dx &= \int \frac{3(t - 1) + 1}{t^2 + 9} dt = 3 \int \frac{t dt}{t^2 + 9} - 2 \int \frac{dt}{t^2 + 9} = \\ &= \frac{3}{2} \ln(t^2 + 9) - \frac{2}{3} \operatorname{arctg} \frac{t}{3} + C = \frac{3}{2} \ln(x^2 + 2x + 10) - \frac{2}{3} \operatorname{arctg} \frac{x + 1}{3} + C. \end{aligned}$$

4. Интеграл $\int \frac{Mx + N}{(x^2 + px + q)^k} dx$, $k \geq 2$, $q - \frac{p^2}{4} > 0$.

♦ Данный интеграл подстановкой $x + \frac{p}{2} = t$ сводится к сумме двух интегралов:

$$M \int \frac{t dt}{(t^2 + a^2)^k} + \left(N - \frac{Mp}{2}\right) \int \frac{dt}{(t^2 + a^2)^k}, \quad a^2 = q - \frac{p^2}{4}.$$

Первый интеграл легко вычисляется:

$$\int \frac{t dt}{(t^2 + a^2)^k} = \frac{1}{2} \int (t^2 + a^2)^{-k} d(t^2 + a^2) = \frac{1}{2(1-k)(t^2 + a^2)^{k-1}} + C.$$

Вычислим второй интеграл:

$$\begin{aligned} J_k &= \int \frac{dt}{(t^2 + a^2)^k} = \frac{1}{a^2} \int \frac{(t^2 + a^2) - t^2}{(t^2 + a^2)^k} dt = \\ &= \frac{1}{a^2} \left(\int \frac{dt}{(t^2 + a^2)^{k-1}} - \int \frac{t^2 dt}{(t^2 + a^2)^k} \right) = \frac{1}{a^2} \left(J_{k-1} - \int \frac{t^2 dt}{(t^2 + a^2)^k} \right). \end{aligned} \quad (8)$$

К последнему интегралу применим интегрирование по частям. Положим

$$\begin{aligned} u &= t, \quad dv = \frac{t dt}{(t^2 + a^2)^k}, \quad du = dt, \\ v &= \frac{1}{2} \int (t^2 + a^2)^{-k} d(t^2 + a^2) = \frac{1}{2(1-k)(t^2 + a^2)^{k-1}}, \end{aligned}$$

тогда

$$\begin{aligned} \int \frac{t^2 dt}{(t^2 + a^2)^k} &= \frac{t}{2(1-k)(t^2 + a^2)^{k-1}} - \frac{1}{2(1-k)} \int \frac{dt}{(t^2 + a^2)^{k-1}} = \\ &= \frac{t}{2(1-k)(t^2 + a^2)^{k-1}} - \frac{1}{2(1-k)} J_{k-1}. \end{aligned}$$

Подставляя найденный интеграл в равенство (8), получаем

$$J_k = \frac{1}{a^2} \left(J_{k-1} - \frac{t}{2(1-k)(t^2 + a^2)^{k-1}} + \frac{1}{2(1-k)} J_{k-1} \right),$$

т. е.

$$J_k = \frac{1}{a^2} \left(\frac{2k-3}{2k-2} J_{k-1} + \frac{t}{2(k-1)(t^2 + a^2)^{k-1}} \right).$$

Полученная формула дает возможность найти интеграл J_k для любого натурального числа $k > 1$. ♦

Например, найдем интеграл $J_3 = \int \frac{dt}{(t^2 + 1)^3}$. Здесь $a = 1$, $k = 3$.

Так как

$$J_1 = \int \frac{dt}{t^2 + 1} = \operatorname{arctg} t + C,$$

то

$$J_2 = \int \frac{dt}{(t^2+1)^2} = \frac{2 \cdot 2 - 3}{2 \cdot 2 - 2} J_1 + \frac{t}{2 \cdot (2-1)(t^2+1)} = \frac{1}{2} \operatorname{arctg} t + \frac{t}{2(t^2+1)} + C,$$
$$J_3 = \frac{3}{4} J_2 + \frac{t}{4(t^2+1)^2} = \frac{t}{4(t^2+1)^2} + \frac{3}{4} \left(\frac{1}{2} \operatorname{arctg} t + \frac{t}{2(t^2+1)} \right) + C.$$

4. Интегрирование рациональных дробей

Рассмотренный в пунктах 1–3 материал позволяет сформулировать *общее правило интегрирования рациональных дробей*.

1. Если дробь неправильна, то представить ее в виде суммы многочлена и правильной дроби (см. пункт 2);

2. Разложив знаменатель правильной рациональной дроби на множители, представить ее в виде суммы простейших рациональных дробей;

3. Проинтегрировать многочлен и полученную сумму простейших дробей.

Пример: Найти интеграл $\int \frac{x^5 + 2x^3 + 4x + 4}{x^4 + 2x^3 + 2x^2} dx$.

◆ Под знаком интеграла неправильная дробь; выделим ее целую часть путем деления числителя на знаменатель.

$$\begin{array}{r} x^5 + 2x^3 + 4x + 4 \\ \underline{-(x^4 + 2x^3 + 2x^2)} \\ -2x^4 + 4x + 4 \\ \underline{-(-2x^4 - 4x^3 - 4x^2)} \\ 4x^3 + 4x^2 + 4x + 4 \end{array} \left| \begin{array}{l} x^4 + 2x^3 + 2x^2 \\ x - 2 \end{array} \right.$$

$4x^3 + 4x^2 + 4x + 4$ (остаток).

Получаем:

$$\frac{x^5 + 2x^3 + 4x + 4}{x^4 + 2x^3 + 2x^2} = x - 2 + \frac{4x^3 + 4x^2 + 4x + 4}{x^4 + 2x^3 + 2x^2}.$$

Разложим правильную рациональную дробь на простейшие дроби:

$$\frac{4x^3 + 4x^2 + 4x + 4}{x^4 + 2x^3 + 2x^2} = \frac{4x^3 + 4x^2 + 4x + 4}{x^2(x^2 + 2x + 2)} = \frac{A}{x} + \frac{B}{x^2} + \frac{Cx + D}{x^2 + 2x + 2},$$

$$4x^3 + 4x^2 + 4x + 4 \equiv Ax(x^2 + 2x + 2) + B(x^2 + 2x + 2) + (Cx + D)x^2,$$

т. е.

$$4x^3 + 4x^2 + 4x + 4 \equiv (A + C)x^3 + (2A + B + D)x^2 + (2A + 2B)x + 2B.$$

Отсюда следует, что

$$\begin{cases} A + C = 4, \\ 2A + B + D = 4, \\ 2A + 2B = 4, \\ 2B = 4. \end{cases}$$

Находим: $B = 2$, $A = 0$, $C = 4$, $D = 2$. Стало быть,

$$\frac{4x^3 + 4x^2 + 4x + 4}{x^4 + 2x^3 + 2x^2} = \frac{2}{x^2} + \frac{4x + 2}{x^2 + 2x + 2},$$

и

$$\frac{x^5 + 2x^3 + 4x + 4}{x^4 + 2x^3 + 2x^2} = x - 2 + \frac{2}{x^2} + \frac{4x + 2}{x^2 + 2x + 2}.$$

Интегрируем полученное равенство:

$$\begin{aligned} \int \frac{x^5 + 2x^3 + 4x + 4}{x^4 + 2x^3 + 2x^2} dx &= \int \left(x - 2 + \frac{2}{x^2} + \frac{4x + 2}{x^2 + 2x + 2} \right) dx = \\ &= \frac{x^2}{2} - 2x - \frac{2}{x} + \int \frac{4x + 2}{(x+1)^2 + 1} dx. \end{aligned}$$

Обозначим $x + 1 = t$, тогда $x = t - 1$ и $dx = dt$. Таким образом,

$$\begin{aligned} \int \frac{4x + 2}{(x+1)^2 + 1} dx &= \int \frac{4t - 4 + 2}{t^2 + 1} dt = 4 \int \frac{t dt}{t^2 + 1} - 2 \int \frac{dt}{t^2 + 1} = \\ &= 4 \cdot \frac{1}{2} \ln(t^2 + 1) - 2 \operatorname{arctg} t + C = \\ &= 2 \cdot \ln(x^2 + 2x + 2) - 2 \operatorname{arctg}(x + 1) + C. \end{aligned}$$

Следовательно,

$$\int \frac{x^5 + 2x^3 + 4x + 4}{x^4 + 2x^3 + 2x^2} dx = \frac{x^2}{2} - 2x - \frac{2}{x} + 2 \ln(x^2 + 2x + 2) - 2 \operatorname{arctg}(x + 1) + C. \quad \blacklozenge$$

Отметим, что любая рациональная функция интегрируется в элементарных функциях.

92. ИНТЕГРИРОВАНИЕ ТРИГОНОМЕТРИЧЕСКИХ ФУНКЦИЙ

Рассмотрим некоторые случаи нахождения интеграла от тригонометрических функций. Функцию с переменными $\sin x$ и $\cos x$, над которыми выполняются рациональные действия (сложения, вычитание, умножение и деление) принято обозначать $R(\sin x; \cos x)$, где R — знак рациональной функции.

I. Интегралы типа $\int R(\sin x; \cos x) dx$. Они сводятся к интегралам от рациональной функции подстановкой $\operatorname{tg} \frac{x}{2} = t$, которая называется универсальной.

Действительно, $\sin x = \frac{2 \operatorname{tg} \frac{x}{2}}{1 + \operatorname{tg}^2 \frac{x}{2}} = \frac{2t}{1 + t^2}$, $\cos x = \frac{1 - \operatorname{tg}^2 \frac{x}{2}}{1 + \operatorname{tg}^2 \frac{x}{2}} = \frac{1 - t^2}{1 + t^2}$, $x = 2 \operatorname{arctg} t$, $dx = \frac{2}{1 + t^2} dt$. Поэтому

$$\int R(\sin x; \cos x) dx = \int R\left(\frac{2t}{1 + t^2}; \frac{1 - t^2}{1 + t^2}\right) \cdot \frac{2}{1 + t^2} dt = \int R_1(t) dt,$$

где $R_1(t)$ — рациональная функция от t . Обычно этот способ весьма громоздкий, зато он всегда приводит к результату.

На практике применяют и другие, более простые подстановки, в зависимости от свойств (и вида) подынтегральной функции. В частности, удобны следующие правила:

1) если функция $R(\sin x; \cos x)$ нечетна относительно $\sin x$, т. е. $R(-\sin x; \cos x) = -R(\sin x; \cos x)$, то подстановка $\cos x = t$ рационализирует интеграл;

2) если функция $R(\sin x; \cos x)$ нечетна относительно $\cos x$, т. е. $R(\sin x; -\cos x) = -R(\sin x; \cos x)$, то делается подстановка $\sin x = t$;

3) если функция $R(\sin x; \cos x)$ четна относительно $\sin x$ и $\cos x$ $R(-\sin x; -\cos x) = R(\sin x; \cos x)$, то интеграл рационализируется подстановкой $\operatorname{tg} x = t$. Такая же подстановка применяется, если интеграл имеет вид $\int R(\operatorname{tg} x) dx$.

Примеры: 1) Найти интеграл $\int \frac{dx}{3 + \sin x + \cos x}$.

◆ Сделаем универсальную подстановку $t = \operatorname{tg} \frac{x}{2}$. Тогда $dx = \frac{2 dt}{1 + t^2}$, $\sin x = \frac{2t}{1 + t^2}$, $\cos x = \frac{1 - t^2}{1 + t^2}$. Следовательно,

$$\int \frac{dx}{3 + \sin x + \cos x} = \int \frac{2 dt}{(1+t^2)(3 + \frac{2t}{1+t^2} + \frac{1-t^2}{1+t^2})} = \int \frac{dt}{t^2 + t + 2} =$$

$$= \frac{d(t + \frac{1}{2})}{(t + \frac{1}{2})^2 + \frac{7}{4}} = \frac{2}{\sqrt{7}} \operatorname{arctg} \frac{t + \frac{1}{2}}{\sqrt{7}/2} + C = \frac{2}{\sqrt{7}} \operatorname{arctg} \frac{1 + 2 \operatorname{tg} \frac{x}{2}}{\sqrt{7}} + C. \quad \blacklozenge$$

2) Найти интеграл $I = \int \frac{dx}{1 + \sin^2 x}$.

Так как

$$R(-\sin x; -\cos x) = \frac{1}{1 + (-\sin x)^2} = \frac{1}{1 + \sin^2 x} = R(\sin x; \cos x),$$

то полагаем $\operatorname{tg} x = t$. Отсюда

$$x = \operatorname{arctg} t, \quad dx = \frac{dt}{1+t^2} \quad \text{и} \quad \sin^2 x = \frac{\operatorname{tg}^2 x}{1 + \operatorname{tg}^2 x} = \frac{t^2}{1+t^2}.$$

Поэтому

$$I = \int \frac{dt}{(1+t^2)(1 + \frac{t^2}{1+t^2})} = \int \frac{dt}{2t^2 + 1} = \frac{1}{\sqrt{2}} \int \frac{d(\sqrt{2}t)}{(\sqrt{2}t)^2 + 1} =$$

$$= \frac{1}{\sqrt{2}} \operatorname{arctg} \sqrt{2}t + C = \frac{1}{\sqrt{2}} \operatorname{arctg}(\sqrt{2} \operatorname{tg} x) + C. \quad \blacklozenge$$

II. Интегралы типа $\int \sin^m x \cdot \cos^n x dx$. Для их нахождения используются следующие приемы:

1) подстановка $\sin x = t$, если n — целое положительное нечетное число;

2) подстановка $\cos x = t$, если m — целое положительное нечетное число;

3) формулы понижения порядка: $\cos^2 x = \frac{1}{2}(1 + \cos 2x)$, $\sin^2 x = \frac{1}{2}(1 - \cos 2x)$, $\sin x \cdot \cos x = \frac{1}{2} \sin 2x$, если m и n — целые неотрицательные четные числа;

4) подстановка $\operatorname{tg} x = t$, если $m+n$ — есть четное отрицательное целое число.

Примеры: 1) Найти интеграл $I = \int \sin^4 x \cos^5 x dx$.

◆ Применим подстановку $\sin x = t$. Тогда $x = \arcsin t$, $dt = \frac{1}{\sqrt{1-t^2}} dt$, $\cos x = \sqrt{1-t^2}$ и

$$I = \int t^4 \cdot (\sqrt{1-t^2})^5 \cdot \frac{dt}{\sqrt{1-t^2}} = \int t^4 (1-t^2)^2 dt = \int (t^4 - 2t^6 + t^8) dt =$$

$$= \frac{t^5}{5} - 2 \frac{t^7}{7} + \frac{t^9}{9} + C = \frac{1}{5} \sin^5 x - \frac{2}{7} \sin^7 x + \frac{1}{9} \sin^9 x + C. \quad \blacklozenge$$

2) Найти интеграл $I = \int \sin^4 x \cos^2 x dx$.

$$\begin{aligned} \diamond \quad I &= \int (\sin x \cos x)^2 \sin^2 x dx = \int \frac{1}{4} \sin^2 2x \cdot \frac{1}{2} (1 - \cos 2x) dx = \\ &= \frac{1}{8} \int \sin^2 2x dx - \frac{1}{8} \int \sin^2 2x \cos 2x dx = \frac{1}{8} \int \frac{1}{2} (1 - \cos 4x) dx - \\ &\quad - \frac{1}{16} \int \sin^2 2x d(\sin 2x) = \frac{1}{16} x - \frac{1}{64} \sin 4x - \frac{1}{48} \sin^3 2x + C. \quad \diamond \end{aligned}$$

3) Найти интеграл $I = \int \frac{dx}{\cos x \sin^3 x} = \int \cos^{-1} x \cdot \sin^{-3} x dx$.

◆ Здесь $m+n=-4$. Обозначим $\operatorname{tg} x = t$. Тогда $x = \operatorname{arctg} t$, $dx = \frac{dt}{1+t^2}$,
 $\sin x = \frac{t}{\sqrt{1+t^2}}$, $\cos x = \frac{1}{\sqrt{1+t^2}}$ и

$$\begin{aligned} I &= \int \frac{\frac{dt}{1+t^2}}{\frac{1}{\sqrt{1+t^2}} \cdot \frac{t^3}{(\sqrt{1+t^2})^3}} = \int \frac{1+t^2}{t^3} dt = \int t^{-3} dt + \int \frac{dt}{t} = \\ &= -\frac{1}{2t^2} + \ln |t| + C = -\frac{1}{2} \operatorname{ctg}^2 x + \ln |\operatorname{tg} x| + C. \quad \diamond \end{aligned}$$

III. Интегралы типа $\int \sin ax \cdot \cos bx dx$, $\int \cos ax \cdot \cos bx dx$,
 $\int \sin ax \cdot \sin bx dx$ вычисляются с помощью известных формул тригонометрии:

$$\sin \alpha \cos \beta = \frac{1}{2} (\sin(\alpha - \beta) + \sin(\alpha + \beta)),$$

$$\cos \alpha \cos \beta = \frac{1}{2} (\cos(\alpha - \beta) + \cos(\alpha + \beta)),$$

$$\sin \alpha \sin \beta = \frac{1}{2} (\cos(\alpha - \beta) - \cos(\alpha + \beta)).$$

Пример: Найти интеграл $I = \int \sin 8x \cos 2x dx$.

$$\begin{aligned} \diamond \quad I &= \int \sin 8x \cos 2x dx = \frac{1}{2} \int (\sin 10x + \sin 6x) dx = \\ &= \frac{1}{2} \left(-\frac{1}{10} \cos 10x - \frac{1}{6} \cos 6x \right) + C. \quad \diamond \end{aligned}$$

93. ИНТЕГРИРОВАНИЕ ИРРАЦИОНАЛЬНЫХ ФУНКЦИЙ

Рассмотрим некоторые типы интегралов, содержащих иррациональные функции.

1) Интегралы типа $\int \frac{dx}{\sqrt{ax^2 + bx + c}}$, $\int \sqrt{ax^2 + bx + c} dx$, $\int \frac{mx + n}{\sqrt{ax^2 + bx + c}} dx$. Их можно найти следующим образом: под радикалом выделить полный квадрат $ax^2 + bx + c =$

$$= a\left(x^2 + \frac{b}{a}x + \frac{c}{a}\right) = a\left(\left(x + \frac{b}{2a}\right)^2 + \frac{c}{a} - \frac{b^2}{4a^2}\right) = a\left(\left(x + \frac{b}{2a}\right)^2 + \frac{4ac - b^2}{4a^2}\right)$$

и сделать подстановку $x + \frac{b}{2a} = t$. При этом первые два интеграла приводятся к табличным, а третий — к сумме двух табличных интегралов.

Примеры: 1) Найти интегралы $I = \int \frac{dx}{\sqrt{4x^2 + 2x + 1}}$.

◆ Так как $4x^2 + 2x + 1 = 4\left(x^2 + \frac{1}{2}x + \frac{1}{4}\right) = 4\left(\left(x + \frac{1}{4}\right)^2 + \frac{3}{16}\right)$, то

$$I = \int \frac{dx}{\sqrt{4\left(\left(x + \frac{1}{4}\right)^2 + \frac{3}{16}\right)}} = \frac{1}{2} \int \frac{dx}{\sqrt{\left(x + \frac{1}{4}\right)^2 + \frac{3}{16}}}$$

Сделаем подстановку $x + \frac{1}{4} = t$, $x = t - \frac{1}{4}$, $dx = dt$. Тогда

$$I = \frac{1}{2} \int \frac{dt}{\sqrt{t^2 + 3/16}} = \frac{1}{2} \ln \left| t + \sqrt{t^2 + \frac{3}{16}} \right| + C = \\ = \frac{1}{2} \ln \left| x + \frac{1}{4} + \sqrt{\left(x + \frac{1}{4}\right)^2 + \frac{3}{16}} \right| + C. \quad \blacklozenge$$

2) Найти интеграл $I = \int \frac{x+4}{\sqrt{6-2x-x^2}} dx$.

◆ Так как $6 - 2x - x^2 = -(x^2 + 2x - 6) = -((x+1)^2 - 7) = 7 - (x+1)^2$, то подстановка имеет вид $x + 1 = t$, $x = t - 1$, $dx = dt$. Тогда

$$I = \int \frac{t-1+4}{\sqrt{7-t^2}} dt = \int \frac{t dt}{\sqrt{7-t^2}} + 3 \int \frac{dt}{\sqrt{7-t^2}} = \\ = -\frac{1}{2} \int (7-t^2)^{-\frac{1}{2}} d(7-t^2) + 3 \int \frac{dt}{\sqrt{(\sqrt{7})^2 - t^2}} =$$

$$= -\sqrt{7-t^2} + 3 \cdot \arcsin \frac{t}{\sqrt{7}} + C = 3 \arcsin \frac{x+1}{\sqrt{7}} - \sqrt{6-2x-x^2} + C. \quad \blacklozenge$$

II. *Интегралы типа* $\int R\left(x, \left(\frac{ax+b}{cx+d}\right)^{\alpha/\beta}, \dots, \left(\frac{ax+b}{cx+d}\right)^{\delta/\gamma}\right) dx$, где a, b, c, d — действительные числа, $\alpha, \beta, \dots, \delta, \gamma$ — натуральные числа, сводятся к интегралам от рациональной функции путем подстановки $\frac{ax+b}{cx+d} = t^k$, где k — наименьшее общее кратное знаменателей дробей $\frac{\alpha}{\beta}, \dots, \frac{\delta}{\gamma}$.

Действительно, из подстановки $\frac{ax+b}{cx+d} = t^k$ следует, что $x = \frac{b - dt^k}{ct^k - a}$ и $dx = \frac{-dkt^{k-1}(ct^k - a) - (b - dt^k)ckt^{k-1}}{(ct^k - a)^2} dt$, т. е. x и dx выражаются через рациональные функции от t . При этом и каждая степень дроби $\frac{ax+b}{cx+d}$ выражается через рациональную функцию от t .

Примеры: 1) Найти интеграл $I = \int \frac{dx}{\sqrt[3]{(x+2)^2 - \sqrt{x+2}}}$.

◆ Наименьшее общее кратное знаменателей дробей $\frac{2}{3}$ и $\frac{1}{2}$ есть 6. Поэтому полагаем $x+2 = t^6$, $x = t^6 - 2$, $dx = 6t^5 dt$, $t = \sqrt[6]{x+2}$. Следовательно,

$$\begin{aligned} I &= \int \frac{6t^5 dt}{t^4 - t^3} = 6 \int \frac{t^2 dt}{t-1} = 6 \int \frac{(t^2-1)+1}{t-1} dt = \\ &= 6 \int \left(t+1 + \frac{1}{t-1} \right) dt = 3t^2 + 6t + 6 \ln|t-1| + C = \\ &= 3 \cdot \sqrt[6]{x+2} + 6 \cdot \sqrt[6]{x+2} + 6 \ln|\sqrt[6]{x+2} - 1| + C. \quad \blacklozenge \end{aligned}$$

2) Указать подстановку для нахождения интегралов:

$$I_1 = \int \frac{\sqrt{x}-1}{2\sqrt{x}-x} dx, \quad I_2 = \int \sqrt[3]{\frac{x+1}{x-1}} \cdot \frac{dx}{(1-x)^2}.$$

◆ Для I_1 подстановка $x = t^2$, для I_2 подстановка $\frac{x+1}{x-1} = t^3$. ◆

III. *Интегралы типа* $\int R(x; \sqrt{a^2-x^2}) dx$, $\int R(x; \sqrt{a^2+x^2}) dx$, $\int R(x; \sqrt{x^2-a^2}) dx$ приводятся к интегралам от функций, рационально зависящих от тригонометрических функций, с помощью следующих *тригонометрических подстановок*: $x = a \cdot \sin t$, для первого интеграла; $x = a \cdot \operatorname{tg} t$, для второго интеграла; $x = \frac{a}{\sin t}$ — для третьего интеграла.

Пример: Найти интеграл $I = \int \frac{\sqrt{4-x^2}}{x^2} dx$.

◆ Положим $x = 2 \sin t$, $dx = 2 \cos t dt$, $t = \arcsin \frac{x}{2}$. Тогда

$$\begin{aligned} I &= \int \frac{\sqrt{4-4\sin^2 t}}{4\sin^2 t} \cdot 2 \cos t dt = \int \frac{4\cos^2 t}{4\sin^2 t} dt = \\ &= \int \frac{1-\sin^2 t}{\sin^2 t} dt = \int \frac{dt}{\sin^2 t} - \int dt = -\operatorname{ctg} t - t + C = \\ &= C - \arcsin \frac{x}{2} - \operatorname{ctg} \left(\arcsin \frac{x}{2} \right) = C - \arcsin \frac{x}{2} - \frac{\sqrt{4-x^2}}{x}. \end{aligned}$$

$$\left(\operatorname{ctg} t = \frac{\sqrt{1-\sin^2 t}}{\sin t} = \frac{\sqrt{1-\left(\frac{x}{2}\right)^2}}{\frac{x}{2}} = \frac{\sqrt{4-x^2}}{\frac{x}{2}} \right). \quad \blacklozenge$$

IV. Интегралы типа $\int R(x; \sqrt{ax^2+bx+c}) dx$. Здесь подынтегральная функция есть рациональная функция относительно x и $\sqrt{ax^2+bx+c}$. Выделив под радикалом полный квадрат и сделав подстановку $x + \frac{b}{2a} = t$, интегралы указанного (IV) типа приводятся к интегралам уже рассмотренного типа, т. е. к интегралам типа $\int R(t; \sqrt{a^2-t^2}) dt$, $\int R(t; \sqrt{a^2+t^2}) dt$, $\int R(t; \sqrt{t^2-a^2}) dt$. Эти интегралы можно вычислить с помощью соответствующих тригонометрических подстановок.

Пример: Найти интеграл $I = \int \frac{\sqrt{x^2+2x-4}}{(x+1)^3} dx$.

◆ Так как $x^2+2x-4 = (x+1)^2 - 5$, то $x+1 = t$, $x = t-1$, $dx = dt$. Поэтому $I = \int \frac{\sqrt{t^2-5}}{t^3} dt$. Положим $t = \frac{\sqrt{5}}{\sin z}$, $dt = \frac{-\sqrt{5} \cdot \cos z}{\sin^2 z} dz$, $z = \arcsin \frac{\sqrt{5}}{t}$. Тогда

$$\begin{aligned} I &= \int \frac{\sqrt{\frac{5}{\sin^2 z} - 5}}{\frac{5\sqrt{5}}{\sin^3 z}} \cdot \frac{(-\sqrt{5}) \cos z}{\sin^2 z} dz = -\frac{1}{\sqrt{5}} \int \cos^2 z dz = \\ &= -\frac{1}{\sqrt{5}} \cdot \frac{1}{2} \int (1 + \cos 2z) dz = -\frac{\sqrt{5}}{10} \left(z + \frac{1}{2} \sin 2z \right) + C = \\ &= -\frac{\sqrt{5}}{10} \left(\arcsin \frac{\sqrt{5}}{t} + \frac{1}{2} \sin \left(2 \arcsin \frac{\sqrt{5}}{t} \right) \right) + C = \\ &= -\frac{\sqrt{5}}{10} \left(\arcsin \frac{\sqrt{5}}{x+1} + \frac{1}{2} \sin \left(2 \arcsin \frac{\sqrt{5}}{x+1} \right) \right) + C = \end{aligned}$$

$$= -\frac{\sqrt{5}}{10} \left(\arcsin \frac{\sqrt{5}}{x+1} + \frac{\sqrt{5} \cdot \sqrt{x^2 + 2x - 4}}{(x+1)^2} \right) + C. \quad \blacklozenge$$

Замечание: Интеграл типа $\int \frac{dx}{x\sqrt{ax^2 + bx + c}}$ целесообразно находить с помощью подстановки $x = \frac{1}{t}$.

V. Интегралы типа $\int \frac{P_n(x)}{\sqrt{ax^2 + bx + c}} dx$, где $P_n(x)$ — многочлен степени n , можно вычислять, пользуясь формулой

$$\int \frac{P_n(x)}{\sqrt{ax^2 + bx + c}} dx = Q_{n-1}(x) \cdot \sqrt{ax^2 + bx + c} + \lambda \int \frac{dx}{\sqrt{ax^2 + bx + c}}, \quad (1)$$

где $Q_{n-1}(x)$ — многочлен степени $n - 1$ с неопределенными коэффициентами, λ — также неопределенный коэффициент.

Все неопределенные коэффициенты находятся из тождества, получаемого дифференцированием обеих частей равенства (1):

$$\frac{P_n(x)}{\sqrt{ax^2 + bx + c}} \equiv (Q_{n-1}(x) \cdot \sqrt{ax^2 + bx + c})' + \frac{\lambda}{\sqrt{ax^2 + bx + c}},$$

после чего необходимо приравнять коэффициенты при одинаковых степенях неизвестной x .

Пример: Найти интеграл $I = \int \frac{x^2}{\sqrt{1 - 2x - x^2}} dx$.

◆ По формуле (1):

$$I = \int \frac{x^2}{\sqrt{1 - 2x - x^2}} dx = (Ax + B)\sqrt{1 - 2x - x^2} + \lambda \int \frac{dx}{\sqrt{1 - 2x - x^2}}.$$

Дифференцируя это равенство, получаем:

$$\frac{x^2}{\sqrt{1 - 2x - x^2}} \equiv A \cdot \sqrt{1 - 2x - x^2} + (Ax + B) \cdot \frac{-2 - 2x}{2\sqrt{1 - 2x - x^2}} + \frac{\lambda}{\sqrt{1 - 2x - x^2}},$$

т. е.

$$\begin{aligned} x^2 &\equiv A(1 - 2x - x^2) + (Ax + B)(-1 - x) + \lambda, \\ x^2 &\equiv A - 2Ax - Ax^2 - Ax - B - Ax^2 - Bx + \lambda. \end{aligned}$$

Сравниваем коэффициенты при одинаковых степенях x :

$$\begin{cases} 1 = -A - A & \text{при } x^2, \\ 0 = -2A - A - B & \text{при } x^1, \\ 0 = A - B + \lambda & \text{при } x^0. \end{cases}$$

Отсюда $A = -\frac{1}{2}$, $B = \frac{3}{2}$, $\lambda = 2$. Следовательно,

$$I = \left(-\frac{1}{2}x + \frac{3}{2}\right) \sqrt{1 - 2x - x^2} + 2 \int \frac{dx}{\sqrt{2 - (x+1)^2}} = \\ = \left(-\frac{1}{2}x + \frac{3}{2}\right) \sqrt{1 - 2x - x^2} + 2 \arcsin \frac{x+1}{\sqrt{2}} + C. \quad \blacklozenge$$

VI. Интегралы типа $\int x^m \cdot (a + bx^n)^p dx$ (называемые интегралами от дифференциального бинома), где a, b — действительные числа; m, n, p — рациональные числа, берутся, как показал Чебышев П.А., лишь в случае, когда хотя бы одно из чисел p , $\frac{m+1}{n}$ или $\frac{m+1}{n} + p$ является целым.

Рационализация интеграла в этих случаях осуществляется следующими подстановками:

1) если p — целое число, то подстановка $x = t^k$, где k — наименьшее общее кратное знаменателей дробей m и n ;

2) если $\frac{m+1}{n}$ — целое число, то подстановка $a + bx^n = t^s$, где s — знаменатель дроби p ;

3) если $\frac{m+1}{n} + p$ — целое число, то подстановка $a + bx^n = x^n \cdot t^s$, где s — знаменатель дроби p .

Во всех остальных случаях интегралы типа $\int x^m (a + bx^n)^p dx$ не выражаются через известные элементарные функции, т. е. «не берутся».

Пример: Найти интеграл $I = \int \frac{\sqrt[3]{4\sqrt{x} + 1}}{\sqrt{x}} dx$.

◆ Так как

$$I = \int x^{-\frac{1}{2}} \cdot (1 + x^{\frac{1}{2}})^{\frac{1}{3}} dx,$$

то $m = -\frac{1}{2}$, $n = \frac{1}{4}$, $p = \frac{1}{3}$, $\frac{m+1}{n} = 2$. Поэтому делаем подстановку $\sqrt[4]{x} + 1 = t^3$, $x = (t^3 - 1)^4$, $dx = 4(t^3 - 1)^3 \cdot 3t^2 dt$, $t = \sqrt[3]{\sqrt[4]{x} + 1}$. Таким образом,

$$I = \int \frac{t}{(t^3 - 1)^2} \cdot 12t^2 (t^3 - 1)^3 dt = 12 \int (t^6 - t^3) dt = \\ = 12 \cdot \frac{t^7}{7} - 12 \cdot \frac{t^4}{4} + C = \frac{12}{7} (\sqrt[4]{x} + 1)^{\frac{7}{3}} - 3 \cdot (\sqrt[4]{x} + 1)^{\frac{4}{3}} + C. \quad \blacklozenge$$

94. «БЕРУЩИЕСЯ» И «НЕБЕРУЩИЕСЯ» ИНТЕГРАЛЫ

Как уже отмечалось выше, операция интегрирования функций значительно сложнее операции дифференцирования функций. Не всегда выбранный путь интегрирования является наилучшим, более коротким, простым. Интегрирование часто может быть выполнено не единственным способом. Многое зависит от знания рекомендуемых многих искусственных приемов интегрирования, от сообразительности, от тренированности. Например, $\int \frac{dx}{\cos^6 x}$ можно найти, не используя рекомендуемую подстановку $\operatorname{tg} x = t$, а применив искусственный прием:

$$\begin{aligned} \int \frac{dx}{\cos^6 x} &= \int \frac{(\cos^2 x + \sin^2 x)^2}{\cos^6 x} dx = \\ &= \int \left(\frac{1}{\cos^2 x} + 2 \frac{\operatorname{tg}^2 x}{\cos^2 x} + \frac{\operatorname{tg}^4 x}{\cos^2 x} \right) dx = \operatorname{tg} x + \frac{2}{3} \operatorname{tg}^3 x + \frac{1}{5} \operatorname{tg}^5 x + C. \end{aligned}$$

Вряд ли стоит вычислять интеграл

$$\int \frac{3x^2 + 4x + 1}{x(x^2 + 2x + 1)} dx,$$

разлагая подынтегральную функцию на простейшие дроби:

$$\frac{3x^2 + 4x + 1}{x(x^2 + 2x + 1)} = \frac{3x^2 + 4x + 1}{x(x + 1)^2} = \frac{A}{x} + \frac{B}{x + 1} + \frac{C}{(x + 1)^2}.$$

Заметив, что числитель $3x^2 + 4x + 1$ является производной знаменателя $x(x^2 + 2x + 1) = x^3 + 2x^2 + x$, легко получить:

$$\int \frac{3x^2 + 4x + 1}{x(x^2 + 2x + 1)} dx = \int \frac{d(x^3 + 2x^2 + x)}{x^3 + 2x^2 + x} = \ln |x^3 + 2x^2 + x| + C.$$

На практике при вычислении неопределенных интегралов используют различные справочники, содержащие таблицы особенно часто встречающихся интегралов. В частности, «Таблицы неопределенных интегралов» М. Л. Смолянского.

Изученные методы интегрирования позволяют во многих случаях вычислить неопределенный интеграл, т. е. найти первообразную функцию для подынтегральной функции.

Как известно, всякая непрерывная функция имеет первообразную. В том случае, когда первообразная некоторой элементарной функции $f(x)$ является также элементарной функцией, говорят, что $\int f(x) dx$ «берется», т. е. интеграл выражается через элементарные функции (или интеграл вычисляется). Если же интеграл не выражается через элементарные функции, то говорят, что интеграл «не берется» (или «его найти нельзя»).

Так, например, нельзя взять интеграл $\int \sqrt{x} \cdot \cos x dx$, так как не существует элементарной функции, производная от которой была бы равна $\sqrt{x} \cos x$. Приведем еще примеры «неберущихся» интегралов, которые имеют большое значение в приложениях:

$\int e^{-x^2} dx$ — интеграл Пуассона (теория вероятностей),

$\int \frac{dx}{\ln x}$ — интегральный логарифм (теория чисел),

$\int \cos x^2 dx, \int \sin x^2 dx$ — интегралы Френеля (физика);

$\int \frac{\sin x}{x} dx, \int \frac{\cos x}{x} dx$ — интегральные синус и косинус;

$\int \frac{e^x}{x} dx$ — интегральная показательная функция.

Первообразные от функции e^{-x^2} , $\cos x^2$, $\frac{1}{\ln x}$ и других хорошо изучены, для них составлены подробные таблицы значений для различных значений аргумента x .


В дальнейшем (в теории бесконечных рядов) познакомимся с методами вычисления значений таких функций (хотя их и нельзя выразить через элементарные).

Х. ОПРЕДЕЛЕННЫЙ ИНТЕГРАЛ

95. ОПРЕДЕЛЕННЫЙ ИНТЕГРАЛ КАК ПРЕДЕЛ ИНТЕГРАЛЬНОЙ СУММЫ

Пусть функция $y = f(x)$ определена на отрезке $[a; b]$, $a < b$. Выполним следующие действия.

1. С помощью точек $x_0 = a, x_1, x_2, \dots, x_n = b$ ($x_0 < x_1 < \dots < x_n$) разобьем отрезок $[a, b]$ на n *частичных отрезков* $[x_0; x_1], [x_1; x_2], \dots, [x_{n-1}, x_n]$.



2. В каждом частичном отрезке $[x_{i-1}; x_i]$, $i = 1, 2, \dots, n$ выберем произвольную точку $c_i \in [x_{i-1}; x_i]$ и вычислим значение функции в ней, т. е. величину $f(c_i)$.

3. Умножим найденное значение функции $f(c_i)$ на длину $\Delta x_i = x_i - x_{i-1}$ соответствующего частичного отрезка: $f(c_i) \cdot \Delta x_i$.

4. Составим сумму S_n всех таких произведений:

$$S_n = f(c_1)\Delta x_1 + f(c_2)\Delta x_2 + \dots + f(c_n)\Delta x_n = \sum_{i=1}^n f(c_i)\Delta x_i. \quad (1)$$

Сумма вида (1) называется *интегральной суммой* функции $y = f(x)$ на отрезке $[a; b]$. Обозначим через λ длину наибольшего частичного отрезка: $\lambda = \max \Delta x_i$ ($i = 1, 2, \dots, n$).

5. Найдем предел интегральной суммы (1), когда $n \rightarrow \infty$ так, что $\lambda \rightarrow 0$.

Если при этом интегральная сумма S_n имеет предел I , который не зависит ни от способа разбиения отрезка $[a; b]$ на частичные отрезки, ни от выбора точек в них, то число I называется *определенным интегралом* от функции $y = f(x)$ на отрезке $[a; b]$ и обозначается

$\int_a^b f(x) dx$. Таким образом,

$$\int_a^b f(x) dx = \lim_{\substack{n \rightarrow \infty \\ (\lambda \rightarrow 0)}} \sum_{i=1}^n f(c_i)\Delta x_i. \quad (2)$$

Числа a и b называются, соответственно, *нижним и верхним пределами интегрирования*, $f(x)$ — *подынтегральной функцией*, $f(x) dx$ — *подынтегральным выражением*, x — *переменной интегрирования*, отрезок $[a; b]$ — *областью (отрезком) интегрирования*.

Функция $y = f(x)$, для которой на отрезке $[a; b]$ существует определенный интеграл $\int_a^b f(x) dx$, называется *интегрируемой* на этом отрезке.

Сформулируем теперь теорему существования определенного интеграла.

Теорема 1 (Коши). Если функция $y = f(x)$ непрерывна на отрезке $[a; b]$, то определенный интеграл $\int_a^b f(x) dx$ существует.

Отметим, что непрерывность функции является достаточным условием ее интегрируемости. Однако определенный интеграл может существовать и для некоторых разрывных функций, в частности для всякой ограниченной на отрезке функции, имеющей на нем конечное число точек разрыва.

Укажем на некоторые свойства определенного интеграла, непосредственно вытекающие из его определения (2).

1. Определенный интеграл не зависит от обозначения переменной интегрирования:

$$\int_a^b f(x) dx = \int_a^b f(t) dt = \int_a^b f(z) dz.$$

Это следует из того, что интегральная сумма (1), а следовательно, и ее предел (2) не зависят от того, какой буквой обозначается аргумент данной функции.

2. Определенный интеграл с одинаковыми пределами интегрирования равен нулю:

$$\int_a^a f(x) dx = 0.$$

3. Для любого действительного числа c : $\int_a^b c dx = c \cdot (b - a)$.

96. ГЕОМЕТРИЧЕСКИЙ И ФИЗИЧЕСКОЙ СМЫСЛ ОПРЕДЕЛЕННОГО ИНТЕГРАЛА

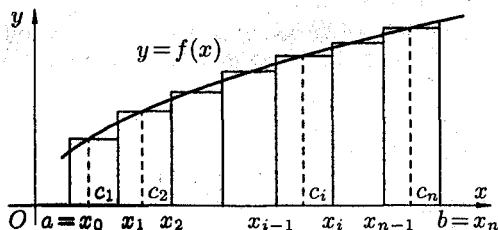
1. Задача площади криволинейной трапеции

Пусть на отрезке $[a; b]$ задана непрерывная функция $y = f(x) \geq 0$. Фигура, ограниченная сверху графиком функции $y = f(x)$, снизу — осью Ox , сбоку — прямыми $x = a$ и $x = b$, называется *криволинейной трапецией*. Найдем площадь этой трапеции.

Для этого отрезок $[a; b]$ точками $a = x_0, x_1, \dots, b = x_n$ ($x_1 < \dots < x_n$) разобьем на n частичных отрезков $[x_0; x_1], [x_1; x_2], \dots, [x_{n-1}; x_n]$. В каждом частичном отрезке $[x_{i-1}; x_i]$ ($i = 1, 2, \dots, n$) возьмем произвольную точку c_i и вычислим значение функции в ней, т. е. $f(c_i)$.

Умножим значением функции $f(c_i)$ на длину $\Delta x_i = x_i - x_{i-1}$ соответствующего частичного отрезка. Произведение $f(c_i) \cdot \Delta x_i$ равно площади прямоугольника с основанием Δx_i и высотой $f(c_i)$. Сумма всех таких произведений

$$f(c_1)\Delta x_1 + f(c_2)\Delta x_2 + \dots + f(c_n)\Delta x_n = \sum_{i=1}^n f(c_i)\Delta x_i$$



равна площади ступенчатой фигуры и приближенно равна площади криволинейной трапеции:

$$S_n \approx \sum_{i=1}^n f(c_i) \cdot \Delta x_i.$$

С уменьшением всех величин Δx_i точность приближения криволинейной трапеции ступенчатой фигурой и точность полученной формулы увеличиваются. Поэтому за точное значение площади S криволинейной трапеции принимается предел S , к которому стремится площадь ступенчатой фигуры S_n , когда n неограниченно возрастает так, что $\lambda = \max \Delta x_i \rightarrow 0$:

$$S = \lim_{n \rightarrow \infty} S_n = \lim_{\substack{n \rightarrow \infty \\ (\lambda \rightarrow 0)}} \sum_{i=1}^n f(c_i)\Delta x_i, \quad \text{то есть} \quad S = \int_a^b f(x) dx.$$

Итак, *определенный интеграл от неотрицательной функции численно равен площади криволинейной трапеции*.

В этом состоит геометрический смысл определенного интеграла.

2. Задача о работе переменной силы

Пусть материальная точка M перемещается под действием силы \vec{F} , направленной вдоль оси Ox и имеющей переменную величину $F = F(x)$, где x — абсцисса движущейся точки M .

Найдем работу A силы \vec{F} по перемещению точки M вдоль оси Ox из точки $x = a$ в точку $x = b$ ($a < b$).

Для этого отрезок $[a; b]$ точками $a = x_0, x_1, \dots, b = x_n$ ($x_0 < x_1 < \dots < x_n$) разобьем на n частичных отрезков $[x_0; x_1], [x_1; x_2], \dots, [x_{n-1}; x_n]$. Сила, действующая на отрезке $[x_{i-1}; x_i]$, меняется от точки к точке. Но если длина отрезка $\Delta x_i = x_i - x_{i-1}$ достаточно мала, то сила \vec{F} на этом отрезке изменяется незначительно. Ее можно приближенно считать постоянной и равной значению функции $F = F(x)$ в произвольно выбранной точке $x = c_i \in [x_{i-1}; x_i]$.

Поэтому работа, совершенная этой силой на отрезке $[x_{i-1}; x_i]$, равна произведению $F(c_i) \cdot \Delta x_i$. (Как работа постоянной силы $F(c_i)$ на участке $[x_{i-1}; x_i]$.)

Приближенное значение работы A силы \vec{F} на всем отрезке $[a; b]$ и есть

$$A \approx F(c_1)\Delta x_1 + F(c_2)\Delta x_2 + \dots + F(c_n)\Delta x_n = \sum_{i=1}^n F(c_i)\Delta x_i. \quad (1)$$

Это приближенное равенство тем точнее, чем меньше длина Δx_i . Поэтому за точное значение работы A принимается предел суммы (1) при условии, что наибольшая длина λ частичных отрезков стремится к нулю:

$$A = \lim_{\lambda \rightarrow 0} \sum_{i=1}^n F(c_i)\Delta x_i = \int_a^b F(x) dx.$$

Итак, работа переменной силы \vec{F} , величина которой есть непрерывная функция $F = F(x)$, действующей на отрезке $[a; b]$, равна определенному интегралу от величины $F(x)$ силы, взятому по отрезку $[a; b]$.

В этом состоит физический смысл определенного интеграла.

Аналогично можно показать, что путь S , пройденный точкой за промежуток времени от $t = a$ до $t = b$, равен определенному интегралу от скорости $v(t)$:

$$S = \int_a^b v(t) dt;$$

масса m неоднородного стержня на отрезке $[a; b]$ равна определен-

ному интегралу от плотности $\gamma(x)$: $m = \int_a^b \gamma(x) dx$.


97. СВЯЗЬ ОПРЕДЕЛЕННОГО ИНТЕГРАЛА С НЕОПРЕДЕЛЕННЫМ (ФОРМУЛА НЬЮТОНА–ЛЕЙБНИЦА)

Пусть функция $y = f(x)$ интегрируема на отрезке $[a; b]$.

Теорема 1. Если функция $y = f(x)$ непрерывна на отрезке $[a; b]$ и $F(x)$ — какая-либо ее первообразная на $[a; b]$ ($F'(x) = f(x)$), то имеет место формула

$$\int_a^b f(x) dx = F(b) - F(a). \quad (1)$$

◀ Разобьем отрезок $[a; b]$ точками $a = x_0, x_1, \dots, b = x_n$ ($x_0 < x_1 < \dots < x_n$) на n частичных отрезков $[x_0; x_1], [x_1; x_2], \dots, [x_{n-1}; x_n]$.



Рассмотрим тождество

$$F(b) - F(a) = F(x_n) - F(x_0) = (F(x_n) - F(x_{n-1})) - \\ - (F(x_{n-1}) - F(x_{n-2})) + \dots + (F(x_2) - F(x_1)) + (F(x_1) - F(x_0)).$$

Преобразуем каждую разность в скобках по формуле Лагранжа ($f(b) - f(a) = f'(c) \cdot (b - a)$). Получим

$$F(b) - F(a) = F'(c_n) \cdot (x_n - x_{n-1}) + F'(c_{n-1}) \cdot (x_{n-1} - x_{n-2}) + \dots \\ \dots + F'(c_2) \cdot (x_2 - x_1) + F'(c_1) \cdot (x_1 - x_0) = \sum_{i=1}^n F'(c_i) \Delta x_i = \sum_{i=1}^n f(c_i) \Delta x_i,$$

т. е.

$$F(b) - F(a) = \sum_{i=1}^n f(c_i) \Delta x_i, \quad (2)$$

где c_i есть некоторая точка интервала $(x_{i-1}; x_i)$. Так как функция $y = f(x)$ непрерывна на $[a; b]$, то она интегрируема на $[a; b]$. Поэтому существует предел интегральной суммы, равный определенному интегралу от $f(x)$ на $[a; b]$.

Переходя в равенстве (2) к пределу при $\lambda = \max \Delta x_i \rightarrow 0$, получаем

$$F(b) - F(a) = \lim_{\lambda \rightarrow 0} \sum_{i=1}^n f(c_i) \Delta x_i, \quad \text{т. е.} \quad F(b) - F(a) = \int_a^b f(x) dx. \quad \blacktriangleright$$

Равенство (1) называется *формулой Ньютона–Лейбница*.

Если ввести обозначение $F(b) - F(a) = F(x) \Big|_a^b$, то формулу Ньютона–Лейбница (1) можно переписать так

$$\int_a^b f(x) dx = F(x) \Big|_a^b.$$

Формула Ньютона–Лейбница дает удобный способ вычисления определенного интеграла. Чтобы вычислить определенный интеграл от непрерывной функции $f(x)$ на отрезке $[a; b]$, надо найти ее первообразную функцию $F(x)$ и взять разность $F(b) - F(a)$ значений этой первообразной на концах отрезка $[a; b]$.

Примеры: 1) $\int_0^3 x^2 dx = \frac{x^3}{3} \Big|_0^3 = 9 - 0 = 9;$

2) $\int_{-2}^2 \frac{dx}{4+x^2} = \frac{1}{2} \operatorname{arctg} \frac{x}{2} \Big|_{-2}^2 = \frac{1}{2} \left(\frac{\pi}{4} - \left(-\frac{\pi}{4} \right) \right) = \frac{\pi}{4}.$

3) Вычислить интеграл $\int_0^{\pi} \sqrt{\frac{1+\cos 2x}{2}} dx.$

$$\begin{aligned} \blacklozenge \int_0^{\pi} \sqrt{\frac{1+\cos 2x}{2}} dx &= \int_0^{\pi} \sqrt{\cos^2 x} dx = \int_0^{\pi} |\cos^2 x| dx = \\ &= \int_0^{\frac{\pi}{2}} \cos x dx + \int_{\frac{\pi}{2}}^{\pi} (-\cos x) dx = \sin x \Big|_0^{\frac{\pi}{2}} + (-\sin x) \Big|_{\frac{\pi}{2}}^{\pi} = 1 + 1 = 2. \quad \blacklozenge \end{aligned}$$

4) Вычислить интеграл $\int_e^{e^2} \frac{dx}{x \ln x}.$

$$\blacklozenge \int_e^{e^2} \frac{dx}{x \ln x} = \ln |\ln x| \Big|_e^{e^2} = \ln 2 - \ln 1 = \ln 2. \quad \blacklozenge$$

98. ОСНОВНЫЕ СВОЙСТВА ОПРЕДЕЛЕННОГО ИНТЕГРАЛА

Рассмотрим основные свойства определенного интеграла, считая подынтегральную функцию интегрируемой на отрезке $[a; b]$. При выводе свойств будем использовать определение интеграла и формулу Ньютона–Лейбница.

1. Если c — постоянное число и функция $f(x)$ интегрируема на $[a; b]$, то

$$\int_a^b c \cdot f(x) dx = c \cdot \int_a^b f(x) dx, \quad (1)$$

т. е. постоянный множитель c можно выносить за знак определенного интеграла.

◀ Составим интегральную сумму для функции $c \cdot f(x)$. Имеем:

$$\sum_{i=1}^n c \cdot f(c_i) \Delta x_i = c \cdot \sum_{i=1}^n f(c_i) \Delta x_i.$$

Тогда $\lim_{n \rightarrow \infty} \sum_{i=1}^n c \cdot f(c_i) \Delta x_i = c \cdot \lim_{n \rightarrow \infty} \sum_{i=1}^n f(c_i) \Delta x_i = c \cdot \int_a^b f(x) dx$. Отсюда вытекает, что функция $c \cdot f(x)$ интегрируема на $[a; b]$ и справедлива формула (1). ▶

2. Если функции $f_1(x)$ и $f_2(x)$ интегрируемы на $[a; b]$, тогда интегрируема на $[a; b]$ их сумма и

$$\int_a^b (f_1(x) + f_2(x)) dx = \int_a^b f_1(x) dx + \int_a^b f_2(x) dx, \quad (2)$$

т. е. интеграл от суммы равен сумме интегралов.

$$\begin{aligned} \leftarrow \int_a^b (f_1(x) + f_2(x)) dx &= \lim_{n \rightarrow \infty} \sum_{i=1}^n (f_1(c_i) + f_2(c_i)) \Delta x_i = \\ &= \lim_{n \rightarrow \infty} \sum_{i=1}^n f_1(c_i) \Delta x_i + \lim_{n \rightarrow \infty} \sum_{i=1}^n f_2(c_i) \Delta x_i = \int_a^b f_1(x) dx + \int_a^b f_2(x) dx. \rightarrow \end{aligned}$$

Свойство 2 распространяется на сумму любого конечного числа слагаемых.

$$3. \int_a^b f(x) dx = - \int_b^a f(x) dx.$$

Это свойство можно принять по определению. Это свойство также подтверждается формулой Ньютона–Лейбница.

$$\int_a^b f(x) dx = F(b) - F(a) = -(F(a) - F(b)) = - \int_a^b f(x) dx.$$

4. Свойство аддитивности. Если функция $f(x)$ интегрируема на $[a; b]$ и $a < c < b$, то

$$\int_a^b f(x) dx = \int_a^c f(x) dx + \int_c^b f(x) dx, \quad (3)$$

т. е. интеграл по всему отрезку равен сумме интегралов по частям этого отрезка.

◀ При разбиении отрезка $[a; b]$ на части включим точку c в число точек деления (это можно сделать ввиду независимости предела интегральной суммы от способа разбиения отрезка $[a; b]$ на части). Если $c = x_m$, то интегральную сумму можно разбить на две суммы.

$$\sum_{i=1}^n f(c_i) \Delta x_i = \sum_{i=1}^m f(c_i) \Delta x_i + \sum_{i=m+1}^n f(c_i) \Delta x_i.$$

Каждая из написанных сумм является интегральной соответственно для отрезков $[a; b]$, $[a; c]$ и $[c; b]$. Переходя к пределу в последнем равенстве при $n \rightarrow \infty$ ($d \rightarrow 0$), получим равенство (3). ▶

Свойство 4 справедливо при любом расположении точек a , b , c (считаем, что функция $f(x)$ интегрируема на большем из получающихся отрезков).

Так, например, если $a < b < c$, то

$$\int_a^c f(x) dx = \int_a^b f(x) dx + \int_b^c f(x) dx.$$

Отсюда

$$\int_a^b f(x) dx = \int_a^c f(x) dx - \int_b^c f(x) dx = \int_a^c f(x) dx + \int_c^b f(x) dx.$$

(использованы свойства 4 и 3).

5. «Теорема о среднем». Если функция $f(x)$ непрерывна на отрезке $[a; b]$, то существует точка $c \in [a; b]$ такая, что

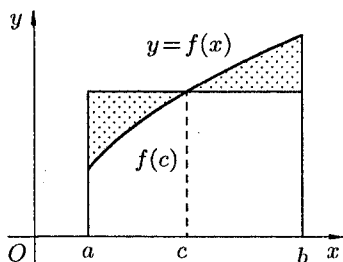
$$\int_a^b f(x) dx = f(c) \cdot (b - a).$$

◀ По формуле Ньютона–Лейбница имеем

$$\int_a^b f(x) dx = F(x) \Big|_a^b = F(b) - F(a),$$

где $F'(x) = f(x)$. Применяя к разности $F(b) - F(a)$ теорему Лагранжа (теорему о конечном приращении функции), получим

$$F(b) - F(a) = F'(c) \cdot (b - a) = f(c) \cdot (b - a). \quad \blacktriangleright$$



Свойство 5 («теорема о среднем») при $f(x) \geq 0$ имеет простой геометрический смысл: значение определенного интеграла равно, при некотором $c \in (a; b)$, площади прямоугольника с высотой $f(c)$ и основанием $b - a$. Число

$$f(c) = \frac{1}{b-a} \int_a^b f(x) dx$$

называется *средним значением* функции $f(x)$ на отрезке $[a; b]$.

6. Если функция $f(x)$ сохраняет знак на отрезке $[a; b]$, где $a < b$, то интеграл $\int_a^b f(x) dx$ имеет тот же знак, что и функция. Так, если $f(x) \geq 0$ на отрезке $[a; b]$, то $\int_a^b f(x) dx \geq 0$.

◀ По «теореме о среднем» (свойство 5)

$$\int_a^b f(x) dx = f(c) \cdot (b - a),$$

где $c \in [a; b]$. А так как $f(x) \geq 0$ для всех $x \in [a; b]$, то и

$$f(c) \geq 0, \quad b - a > 0.$$

Поэтому $f(c) \cdot (b - a) \geq 0$, т. е. $\int_a^b f(x) dx \geq 0$. ▶

7. Неравенство между непрерывными функциями на отрезке $[a; b]$, ($a < b$) можно интегрировать. Так, если $f_1(x) \leq f_2(x)$ при $x \in [a; b]$, то $\int_a^b f_1(x) dx \leq \int_a^b f_2(x) dx$.

◀ Так как $f_2(x) - f_1(x) \geq 0$, то при $a < b$, согласно свойству 6, имеем

$$\int_a^b (f_2(x) - f_1(x)) dx \geq 0.$$

Или, согласно свойству 2,

$$\int_a^b f_2(x) dx - \int_a^b f_1(x) dx \geq 0, \quad \text{т. е.} \quad \int_a^b f_1(x) dx \leq \int_a^b f_2(x) dx. \quad \blacktriangleright$$

Отметим, что дифференцировать неравенства нельзя.

8. Оценка интеграла. Если m и M — соответственно наименьшее и наибольшее значения функции $y = f(x)$ на отрезке $[a; b]$, ($a < b$), то

$$m(b - a) \leq \int_a^b f(x) dx \leq M(b - a). \quad (4)$$

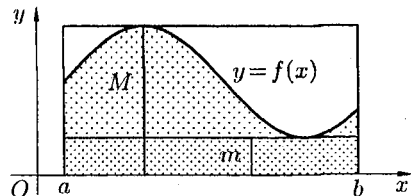
◀ Так как для любого $x \in [a; b]$ имеем $m \leq f(x) \leq M$, то, согласно свойству 7, имеем

$$\int_a^b m dx \leq \int_a^b f(x) dx \leq \int_a^b M dx.$$

Применяя к крайним интегралам свойство 5, получаем

$$m(b - a) \leq \int_a^b f(x) dx \leq M(b - a). \quad \blacktriangleright$$

Если $f(x) \geq 0$, то свойство 8 иллюстрируется геометрически: площадь криволинейной трапеции заключена между площадями прямоугольников, основание которых есть $[a; b]$, а высоты равны m и M .



9. *Модуль определенного интеграла не превосходит интеграла от модуля подынтегральной функции:*

$$\left| \int_a^b f(x) dx \right| \leq \int_a^b |f(x)| dx; \quad a < b.$$

◀ Применяя свойство 7 к очевидным неравенствам $-|f(x)| \leq f(x) \leq |f(x)|$, получаем

$$-\int_a^b |f(x)| dx \leq \int_a^b f(x) dx \leq \int_a^b |f(x)| dx.$$

Отсюда следует, что

$$\left| \int_a^b f(x) dx \right| \leq \int_a^b |f(x)| dx. \quad \blacktriangleright$$

10. *Производная определенного интеграла по переменному верхнему пределу равна подынтегральной функции, в которой переменная интегрирования заменена этим пределом, т. е.*

$$\left(\int_a^x f(t) dt \right)'_x = f(x).$$

◀
$$\int_a^x f(t) dt = F(t)|_a^x = F(x) - F(a).$$

Следовательно,

$$\left(\int_a^x f(t) dt \right)'_x = (F(x) - F(a))'_x = F'(x) - 0 = f(x). \quad \blacktriangleright$$

Это означает, что *определенный интеграл с переменным верхним пределом есть одна из первообразных подынтегральной функции.*

99. ВЫЧИСЛЕНИЕ ОПРЕДЕЛЕННОГО ИНТЕГРАЛА

Простым и удобным методом вычисления определенного интеграла $\int_a^b f(x) dx$ от непрерывной функции является формула Ньютона–Лейбница: $\int_a^b f(x) dx = F(x)|_a^b = F(b) - F(a)$.

Применяется этот метод во всех случаях, когда может быть найдена первообразная функции $F(x)$ для подынтегральной функции $f(x)$.

Например, $\int_0^\pi \sin x dx = -\cos x|_0^\pi = -(\cos \pi - \cos 0) = 2$.

При вычислении определенных интегралов широко используется метод замены переменной и метод интегрирования по частям.

1. Метод интегрирования подстановкой (замены переменной)

Пусть для вычисления интеграла $\int_a^b f(x) dx$ от непрерывной функции сделана подстановка $x = \varphi(t)$.

Теорема 1. Если:

1) функция $x = \varphi(t)$ и ее производная $x' = \varphi'(t)$ непрерывны при $t \in [\alpha; \beta]$;

2) множеством значений функции $x = \varphi(t)$ при $t \in [\alpha, \beta]$ является отрезок $[a; b]$;

3) $\varphi(\alpha) = a$ и $\varphi(\beta) = b$,

то

$$\int_a^b f(x) dx = \int_\alpha^\beta f(\varphi(t)) \cdot \varphi'(t) dt. \quad (1)$$

◀ Пусть $F(x)$ есть первообразная для $f(x)$ на отрезке $[a; b]$. Тогда по формуле Ньютона–Лейбница $\int_a^b f(x) dx = F(b) - F(a)$. Так как $(F(\varphi(t)))' = f(\varphi(t)) \cdot \varphi'(t)$, то $F(\varphi(t))$ является первообразной для функции $f(\varphi(t)) \cdot \varphi'(t)$, $t \in [\alpha; \beta]$. Поэтому по формуле Ньютона–

Лейбница имеем

$$\begin{aligned} \int_{\alpha}^{\beta} f(\varphi(t)) \cdot \varphi'(t) dt &= F(\varphi(t)) \Big|_{\alpha}^{\beta} = F(\varphi(\beta)) - F(\varphi(\alpha)) = \\ &= F(b) - F(a) = \int_a^b f(x) dx. \quad \blacktriangleright \end{aligned}$$

Формула (1) называется *формулой замены переменной в определенном интеграле*.

Отметим, что:

- 1) при вычислении определенного интеграла методом подстановки возвращаться к старой переменной не требуется;
- 2) часто вместо подстановки $x = \varphi(t)$ применяют подстановку $t = g(x)$;
- 3) не следует забывать менять пределы интегрирования при замене переменных!

Пример: Вычислить $\int_0^2 x^2 \sqrt{4-x^2} dx$.

◆ Положим $x = 2 \sin t$, тогда $dx = 2 \cos t dt$. Если $x = 0$, то $t = 0$; если $x = 2$, то $t = \frac{\pi}{2}$. Поэтому

$$\begin{aligned} \int_0^2 x^2 \sqrt{4-x^2} dx &= \int_0^{\pi/2} 4 \sin^2 t \sqrt{4-4 \sin^2 t} \cdot 2 \cos t dt = \\ &= 16 \int_0^{\pi/2} \sin^2 t \cos^2 t dt = 16 \int_0^{\pi/2} \frac{1}{4} \sin^2 2t dt = 4 \int_0^{\pi/2} \frac{1}{2} (1 - \cos 4t) dt = \\ &= 2 \left(t \Big|_0^{\pi/2} - \frac{1}{4} \sin 4t \Big|_0^{\pi/2} \right) = 2 \left(\frac{\pi}{2} - 0 \right) = \pi. \quad \blacklozenge \end{aligned}$$

2. Метод интегрирования по частям

Теорема 2. Если функции $u = u(x)$ и $v = v(x)$ имеют непрерывные производные на отрезке $[a; b]$, то имеет место формула

$$\int_a^b u dv = uv \Big|_a^b - \int_a^b v du. \quad (2)$$

◀ На отрезке $[a; b]$ имеет место равенство $(uv)' = u'v + uv'$. Следовательно, функция uv есть первообразная для непрерывной функции $u'v + uv'$. Тогда по формуле Ньютона–Лейбница имеем:

$$\int_a^b (u'v + uv') dx = uv \Big|_a^b.$$

Следовательно,

$$\begin{aligned} \int_a^b v \cdot u' dx + \int_a^b uv' dx &= uv \Big|_a^b \implies \\ \implies \int_a^b v du + \int_a^b u dv &= uv \Big|_a^b \implies \int_a^b u dv = uv \Big|_a^b - \int_a^b v du. \quad \blacktriangleright \end{aligned}$$

Формула (2) называется *формулой интегрирования по частям для определенного интеграла*.

Примеры: 1. Вычислить $\int_1^e x \ln x dx$.

◆ Положим $\left[\begin{array}{l} u = \ln x \implies du = \frac{1}{x} dx, \\ dv = x dx \implies v = \frac{x^2}{2}. \end{array} \right]$ Применяя формулу (2), получаем

$$\begin{aligned} \int_1^e x \ln x dx &= \frac{x^2}{2} \cdot \ln x \Big|_1^e - \int_1^e \frac{x^2}{2} \cdot \frac{1}{x} dx = \\ &= \frac{e^2}{2} - 0 - \frac{1}{2} \cdot \frac{x^2}{2} \Big|_1^e = \frac{e^2}{2} - \frac{e^2}{4} + \frac{1}{4} = \frac{1}{4}(e^2 + 1). \quad \blacklozenge \end{aligned}$$

2. Вычислить интеграл $\int_0^\pi x \sin x dx$.

◆ Интегрируем по частям. Положим $\left[\begin{array}{l} u = x \implies du = dx, \\ dv = \sin x \implies v = -\cos x. \end{array} \right]$ Поэтому

$$J = -x \cos x \Big|_0^\pi + \int_0^\pi \cos x dx = -\pi \cdot (-1) + 0 + \sin x \Big|_0^\pi = \pi. \quad \blacklozenge$$

100. ИНТЕГРИРОВАНИЕ ЧЕТНЫХ И НЕЧЕТНЫХ ФУНКЦИЙ В СИММЕТРИЧНЫХ ПРЕДЕЛАХ

Пусть функция $f(x)$ непрерывна на отрезке $[-a; a]$, симметричном относительно точки $x = 0$. Докажем, что:

$$\int_{-a}^a f(x) dx = \begin{cases} 2 \cdot \int_0^a f(x) dx, & \text{если } f(x) \text{ — четная функция,} \\ 0, & \text{если } f(x) \text{ — нечетная функция.} \end{cases} \quad (1)$$

◀ Разобьем отрезок интегрирования $[-a; a]$ на части $[-a; 0]$ и $[0; a]$. Тогда по свойству аддитивности

$$\int_{-a}^a f(x) dx = \int_{-a}^0 f(x) dx + \int_0^a f(x) dx. \quad (2)$$

В первом интеграле сделаем подстановку $x = -t$. Тогда

$$\int_{-a}^0 f(x) dx = - \int_a^0 f(-t) dt = \int_0^a f(-t) dt = \int_0^a f(-x) dx$$

(согласно свойству: «определенный интеграл не зависит от обозначения переменной интегрирования»). Возвращаясь к равенству (2), получим

$$\int_{-a}^a f(x) dx = \int_0^a f(-x) dx + \int_0^a f(x) dx = \int_0^a (f(-x) + f(x)) dx. \quad (3)$$

Если функция $f(x)$ четная ($f(-x) = f(x)$), то $f(-x) + f(x) = 2f(x)$; если функция $f(x)$ нечетная ($f(-x) = -f(x)$), то $f(-x) + f(x) = 0$.

Следовательно, равенство (3) принимает вид (1). ▶

Благодаря доказанной формуле можно, например, сразу, не производя вычислений, сказать, что

$$\int_{-\pi}^{\pi} \cos^2 x \cdot \sin^3 x dx = 0, \quad \int_{-3}^3 e^{-x^2} \cdot \sin x dx = 0.$$

101. НЕСОБСТВЕННЫЕ ИНТЕГРАЛЫ

Определенный интеграл $\int_a^b f(x) dx$, где промежуток интегрирования $[a; b]$ конечный, а подынтегральная функция $f(x)$ непрерывна на отрезке $[a; b]$ называют еще *собственным интегралом*.

Рассмотрим так называемые *несобственные интегралы*, т. е. определенный интеграл от непрерывной функции, но с бесконечным промежутком интегрирования или определенный интеграл с конечным промежутком интегрирования, но от функции, имеющей на нем бесконечный разрыв.

1. Интеграл с бесконечным промежутком интегрирования (несобственный интеграл I рода)

Пусть функция $f(x)$ непрерывна на промежутке $[a; +\infty)$. Если существует конечный предел $\lim_{b \rightarrow +\infty} \int_a^b f(x) dx$, то его называют *несобственным интегралом первого рода* и обозначают $\int_a^{+\infty} f(x) dx$.

Таким образом, по определению

$$\int_a^{+\infty} f(x) dx = \lim_{b \rightarrow +\infty} \int_a^b f(x) dx.$$

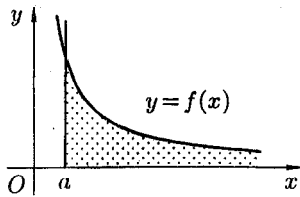
В этом случае говорят, что несобственный интеграл $\int_a^{+\infty} f(x) dx$ *сходится*. Если же указанный предел не существует или он бесконечен, то говорят, что интеграл $\int_a^{+\infty} f(x) dx$ *расходится*.

Аналогично определяется несобственный интеграл на промежутке $(-\infty; b]$:

$$\int_{-\infty}^b f(x) dx = \lim_{a \rightarrow -\infty} \int_a^b f(x) dx.$$

Несобственный интеграл с двумя бесконечными пределами определяется формулой

$$\int_{-\infty}^{+\infty} f(x) dx = \int_{-\infty}^c f(x) dx + \int_c^{+\infty} f(x) dx, \text{ где } c \text{ — произвольное число.}$$



В этом случае интеграл слева сходится лишь тогда, когда сходится оба интеграла справа. Отметим, что если непрерывная функция $f(x) \geq 0$ на промежутке $[a; +\infty)$ и интеграл $\int_a^{+\infty} f(x) dx$ сходится, то он выражает площадь бесконечно длинной криволинейной трапеции (см. рис.)

Пример: Вычислить несобственные интегралы или установить их расходимость: 1) $\int_1^{+\infty} \frac{dx}{x^2}$; 2) $\int_{-\infty}^0 \cos x dx$; 3) $\int_1^{\infty} \frac{dx}{x}$.

◆ 1) $\int_1^{+\infty} \frac{dx}{x^2} = \lim_{b \rightarrow +\infty} \int_1^b x^{-2} dx = - \lim_{b \rightarrow +\infty} \frac{1}{x} \Big|_1^b = -(0 - 1) = 1$, интеграл сходится;

2) $\int_{-\infty}^0 \cos x dx = \lim_{a \rightarrow -\infty} \int_a^0 \cos x dx = \lim_{a \rightarrow -\infty} \sin x \Big|_a^0 = 0 - \lim_{a \rightarrow -\infty} \sin a$, интеграл расходится, так как при $a \rightarrow -\infty$ предел не существует.

3) $\int_1^{\infty} \frac{dx}{x} = \lim_{b \rightarrow \infty} \int_1^b \frac{dx}{x} = \lim_{b \rightarrow \infty} \ln b = \infty$, интеграл расходится. ◆

В некоторых задачах нет необходимости вычислять интеграл; достаточно лишь знать, сходится ли он или нет.

Приведем без доказательства некоторые признаки сходимости.

Теорема 1 (признак сравнения). Если на промежутке $[a; +\infty)$ непрерывные функции $f(x)$ и $\varphi(x)$ удовлетворяют условию $0 \leq f(x) \leq \varphi(x)$, то из сходимости интеграла $\int_a^{+\infty} \varphi(x) dx$ следует сходимость интеграла $\int_a^{+\infty} f(x) dx$, а из расходимости интеграла $\int_a^{+\infty} f(x) dx$ следует расходимость интеграла $\int_a^{+\infty} \varphi(x) dx$.

Пример: Сходится ли интеграл $\int_1^{\infty} \frac{dx}{x^2(1+3^x)}$?

◆ При $x \geq 1$ имеем $\frac{1}{x^2(1+3^x)} < \frac{1}{x^2}$. Но интеграл $\int_1^{\infty} \frac{dx}{x^2} = 1$ сходится. Следовательно, интеграл $\int_1^{\infty} \frac{dx}{x^2(1+3^x)}$ также сходится (и его значение меньше 1). ◆

Теорема 2. Если существует предел $\lim_{x \rightarrow \infty} \frac{f(x)}{\varphi(x)} = k$, $0 < k < \infty$, ($f(x) > 0$ и $\varphi(x) > 0$), то интегралы $\int_a^\infty f(x) dx$ и $\int_a^\infty \varphi(x) dx$ одновременно оба сходятся или оба расходятся (т. е. ведут себя одинаково в смысле сходимости).

Пример: Интеграл $\int_1^{+\infty} \ln \frac{x^2+2}{x^2+1} dx$ сходится, так как интеграл $\int_1^{+\infty} \frac{dx}{x^2}$ сходится и

$$\lim_{x \rightarrow +\infty} \frac{\ln \frac{x^2+2}{x^2+1}}{\frac{1}{x^2}} = \lim_{x \rightarrow +\infty} \frac{\ln(1 + \frac{1}{x^2+1})}{\frac{1}{x^2}} = \lim_{x \rightarrow +\infty} \frac{\frac{1}{x^2+1}}{\frac{1}{x^2}} = 1.$$

2. Интеграл от разрывной функции (несобственный интеграл II рода)

Пусть функция $f(x)$ непрерывна на промежутке $[a; b)$ и имеет бесконечный разрыв при $x = b$. Если существует конечный предел $\lim_{\varepsilon \rightarrow 0} \int_a^{b-\varepsilon} f(x) dx$, то его называют *несобственным интегралом второго рода* и обозначают $\int_a^b f(x) dx$.

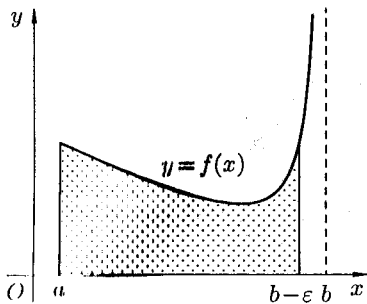
Таким образом, по определению, $\int_a^b f(x) dx = \lim_{\varepsilon \rightarrow 0} \int_a^{b-\varepsilon} f(x) dx$.

Если предел в правой части существует, то несобственный интеграл $\int_a^b f(x) dx$ *сходится*. Если же указанный предел не существует или бесконечен, то говорят, что интеграл $\int_a^b f(x) dx$ *расходится*.

Аналогично, если функция $f(x)$ терпит бесконечный разрыв в точке $x = a$, то полагают $\int_a^b f(x) dx = \lim_{\varepsilon \rightarrow 0} \int_{a+\varepsilon}^b f(x) dx$. Если функция $f(x)$ терпит разрыв во внутренней точке c отрезка $[a; b]$, то несобственный интеграл второго рода определяется формулой

$$\int_a^b f(x) dx = \int_a^c f(x) dx + \int_c^b f(x) dx.$$

В этом случае интеграл слева называют сходящимся, если оба несобственных интеграла, стоящих справа, сходятся.



В случае, когда $f(x) > 0$, несобственный интеграл второго рода $\int_a^b f(x) dx$ (разрыв в точке $x = b$) можно истолковать геометрически как площадь бесконечно высокой криволинейной трапеции (см. рис.)

Пример: Вычислить $\int_0^1 \frac{dx}{x^2}$.

◆ При $x = 0$ функция $y = \frac{1}{x^2}$ терпит бесконечный разрыв.

$$\int_0^1 \frac{dx}{x^2} = \lim_{\varepsilon \rightarrow 0} \int_{0+\varepsilon}^1 x^{-2} dx = -\lim_{\varepsilon \rightarrow 0} \frac{1}{x} \Big|_{0+\varepsilon}^1 = -\left(1 - \lim_{\varepsilon \rightarrow 0} \frac{1}{\varepsilon}\right) = \infty,$$

интеграл расходится. ◆

Сформулируем признаки сходимости для несобственных интегралов второго рода.

Теорема 3. Пусть на промежутке $[a; b)$ функции $f(x)$ и $\varphi(x)$ непрерывны, при $x = b$ терпят бесконечный разрыв и удовлетворяют условию $0 \leq f(x) \leq \varphi(x)$. Из сходимости интеграла $\int_a^b \varphi(x) dx$ вытекает сходимость интеграла $\int_a^b f(x) dx$, а из расходимости интеграла $\int_a^b f(x) dx$ вытекает расходимость интеграла $\int_a^b \varphi(x) dx$.

Теорема 4. Пусть функции $f(x)$ и $\varphi(x)$ непрерывны на промежутке $[a; b)$ и в точке $x = b$ терпят разрыв. Если существует предел $\lim_{x \rightarrow b} \frac{f(x)}{\varphi(x)} = k$, $0 < k < \infty$, то интегралы $\int_a^b f(x) dx$ и $\int_a^b \varphi(x) dx$ одновременно сходятся или одновременно расходятся.

Пример: Сходится ли интеграл $\int_0^1 \frac{dx}{\sin x}$?

◆ Функция $f(x) = \frac{1}{\sin x}$ имеет на $[0; 1]$ единственный разрыв в точ-

ке $x = 0$. Рассмотрим функцию $\varphi(x) = \frac{1}{x}$. Интеграл

$$\int_0^1 \frac{dx}{x} = \lim_{\varepsilon \rightarrow 0} \int_{0+\varepsilon}^1 \frac{dx}{x} = \lim_{\varepsilon \rightarrow 0} \ln x \Big|_{\varepsilon}^1$$

расходится. И так как

$$\lim_{x \rightarrow 0} \frac{f(x)}{\varphi(x)} = \lim_{x \rightarrow 0} \frac{x}{\sin x} = 1,$$

то интеграл $\int_0^1 \frac{dx}{\sin x}$ также расходится. ◆

102. СХЕМЫ ПРИМЕНЕНИЯ ОПРЕДЕЛЕННОГО ИНТЕГРАЛА К НАХОЖДЕНИЮ ГЕОМЕТРИЧЕСКИХ И ФИЗИЧЕСКИХ ВЕЛИЧИН

Пусть требуется найти значение какой-либо геометрической или физической величины A (площадь фигуры, объем тела, давление жидкости на вертикальную пластину и т.д.), связанной с отрезком $[a; b]$ изменения независимой переменной x . Предполагается, что эта величина A аддитивна, т. е. такая, что при разбиении отрезка $[a; b]$ точкой $c \in (a; b)$ на части $[a; c]$ и $[c; b]$ значение величины A , соответствующее всему отрезку $[a; b]$, равно сумме ее значений, соответствующих $[a; c]$ и $[c; b]$.

Для нахождения этой величины A можно руководствоваться одной из двух схем: I схема (или метод *интегральных сумм*) и II схема (или *метод дифференциала*).

Первая схема базируется на определении определенного интеграла.

1. Точками $x_0 = a, x_1, \dots, x_n = b$ разбить отрезок $[a; b]$ на n частей. В соответствии с этим, интересующая нас величина A разобьется на n «элементарных слагаемых» ΔA_i ($i = 1, \dots, n$): $A = \Delta A_1 + \Delta A_2 + \dots + \Delta A_n$.

2. Представить каждое «элементарное слагаемое» в виде произведения некоторой функции (определяемой из условия задачи), численной в произвольной точке соответствующего отрезка на его длину: $\Delta A_i \approx f(c_i) \Delta x_i$.

При нахождении приближенного значения ΔA_i допустимы некоторые упрощения: дугу на малом участке можно заменить хордой, стягивающей ее концы; переменную скорость на малом участке можно приближенно считать постоянной и т.д.

Получим приближенное значение величины A в виде интегральной суммы:

$$A \approx f(c_1)\Delta x_1 + \dots + f(c_n)\Delta x_n = \sum_{i=1}^n f(c_i)\Delta x_i.$$

3. Искомая величина A равна пределу интегральной суммы, т. е.

$$A = \lim_{\substack{n \rightarrow \infty \\ (\lambda \rightarrow 0)}} \sum_{i=1}^n f(c_i)\Delta x_i = \int_a^b f(x) dx.$$

Указанный «метод сумм», как видим, основан на представлении *интеграла как о сумме бесконечно большого числа бесконечно малых слагаемых*.

Схема I была применена для выяснения геометрического и физического смысла определенного интеграла.

Вторая схема представляет собой несколько видоизмененную схему I и называется «метод дифференциала» или «метод отбрасывания бесконечно малых высших порядков»:

1) на отрезке $[a; b]$ выбираем произвольное значение x и рассматриваем переменный отрезок $[a; x]$. На этом отрезке величина A ставится функцией x : $A = A(x)$, т. е. считаем, что часть искомой величины A есть неизвестная функция $A(x)$, где $x \in [a; b]$ — один из параметров величины A ;

2) находим главную часть приращения ΔA при изменении x на малую величину $\Delta x = dx$, т. е. находим дифференциал dA функции $A = A(x)$: $dA = f(x) dx$, где $f(x)$, определяемая из условия задачи, функция переменной x (здесь также возможны различные упрощения);

3) считая, что $dA \approx \Delta A$ при $\Delta x \rightarrow 0$, находим искомую величину путем интегрирования dA в пределах от a до b :

$$A(b) = A = \int_a^b f(x) dx.$$

103. ВЫЧИСЛЕНИЕ ПЛОЩАДЕЙ ПЛОСКИХ ФИГУР

1. Вычисление площадей плоских фигур в прямоугольных координатах

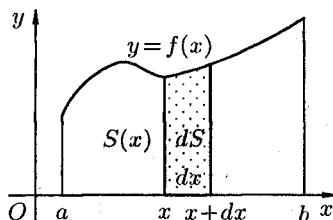
Как уже было установлено (см. «геометрический смысл определенного интеграла»), площадь криволинейной трапеции, расположенной «выше» оси абсцисс ($f(x) \geq 0$), равна соответствующему определенному интегралу:

$$S = \int_a^b f(x) dx \quad \text{или} \quad S = \int_a^b y dx. \quad (1)$$

Формула (1) получена путем применения схемы I — метода сумм. Обоснуем формулу (1), используя схему II. Пусть криволинейная трапеция ограничена линиями $y = f(x) \geq 0$, $x = a$, $x = b$, $y = 0$. Для нахождения площади S этой трапеции сделаем следующие операции:

1. Возьмем произвольное $x \in [a; b]$ и будем считать, что $S = S(x)$.

2. Дадим аргументу x приращение $\Delta x = dx$ ($x + \Delta x \in [a; b]$). Функция $S = S(x)$ получит приращение ΔS , представляющее собой площадь «элементарной криволинейной трапеции» (на рисунке она обведена).



Дифференциал площади dS есть главная часть приращения ΔS при $\Delta x \rightarrow 0$, и, очевидно, он равен площади прямоугольника с основанием dx и высотой y : $dS = y \cdot dx$.

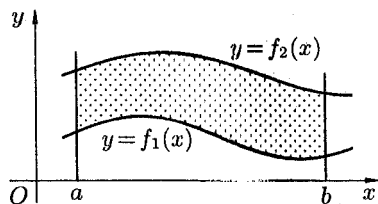
3. Интегрируя полученное равенство в пределах от $x = a$ до $x = b$, получаем $S = \int_a^b y dx$.

Отметим, что если криволинейная трапеция расположена «ниже» оси Ox ($f(x) < 0$), то ее площадь может быть найдена по формуле

$$S = - \int_a^b y dx. \quad (2)$$

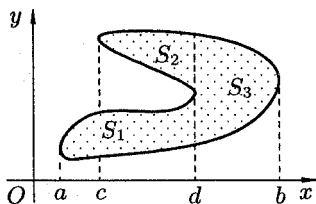
Формулы (1) и (2) можно объединить в одну:

$$S = \left| \int_a^b y \, dx \right|.$$



Площадь фигуры, ограниченной кривыми $y = f_1(x)$ и $y = f_2(x)$, прямыми $x = a$ и $x = b$ (при условии $f_2(x) \geq f_1(x)$), можно найти по формуле

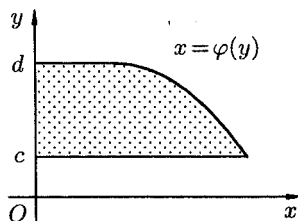
$$S = \int_a^b f_2(x) \, dx - \int_a^b f_1(x) \, dx = \int_a^b (f_2(x) - f_1(x)) \, dx.$$



Если плоская фигура имеет «сложную» форму (см. рис.), то прямыми, параллельными оси Oy , ее следует разбить на части так, чтобы можно было бы применить уже известные формулы.

Если криволинейная трапеция ограничена прямыми $y = c$ и $y = d$, осью Oy и непрерывной кривой $x = \varphi(y) \geq 0$, то ее площадь находится по формуле $S = \int_c^d x \, dy$.

Если криволинейная



И наконец, если криволинейная трапеция ограничена кривой, заданной параметрически $\begin{cases} x = x(t), \\ y = y(t), \end{cases} t \in [\alpha; \beta]$, прямыми $x = a$ и $x = b$ и осью Ox , то площадь ее находится по формуле

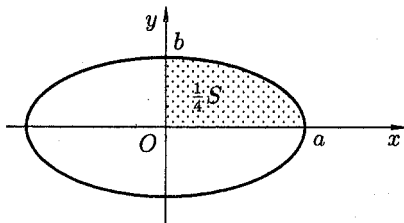
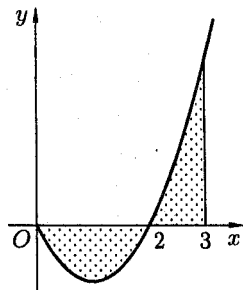
$$S = \left| \int_{\alpha}^{\beta} y(t) \cdot x'(t) \, dt \right|,$$

где α и β определяются из равенств $x(\alpha) = a$ и $x(\beta) = b$.

Примеры: 1) Найти площадь фигуры, ограниченной осью Ox и графиком функции $y = x^2 - 2x$ при $x \in [0; 3]$.

◆ Фигура имеет вид, изображенный на рисунке. Находим ее площадь S :

$$\begin{aligned} S &= -\int_0^2 (x^2 - 2x) dx + \int_2^3 (x^2 - 2x) dx = \\ &= -\frac{x^3}{3}\Big|_0^2 + x^2\Big|_0^2 + \frac{x^3}{3}\Big|_2^3 - x^2\Big|_2^3 = \\ &= -\frac{8}{3} + 4 + \frac{27}{3} - \frac{8}{3} - 9 + 4 = \frac{8}{3} = 2\frac{2}{3}. \quad \blacklozenge \end{aligned}$$



2) Вычислить площадь фигуры, ограниченной эллипсом $x = a \cos t$, $y = b \sin t$.

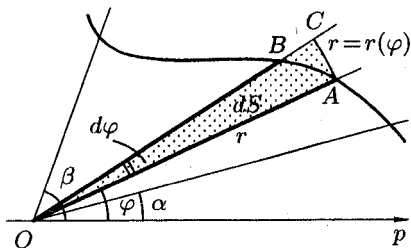
◆ Найдём сначала $\frac{1}{4}$ площади S . Здесь x изменяется от 0 до a , следовательно, t изменяется от $\frac{\pi}{2}$ до 0. Находим:

$$\begin{aligned} \frac{1}{4}S &= \int_{\pi/2}^0 b \sin t \cdot (-a \sin t) dt = -ab \int_{\pi/2}^0 \sin^2 t dt = \\ &= \frac{ab}{2} \int_0^{\pi/2} (1 - \cos 2t) dt = \frac{ab}{2} \left(t \Big|_0^{\pi/2} - \frac{1}{2} \sin 2t \Big|_0^{\pi/2} \right) = \frac{\pi ab}{4}. \end{aligned}$$

Таким образом, $\frac{1}{4}S = \frac{\pi ab}{4}$. Значит, $S = \pi ab$. ◆

2. Вычисление площадей плоских фигур в полярных координатах

Найдём площадь S криволинейного сектора, т. е. плоской фигуры, ограниченной непрерывной линией $r = r(\varphi)$ и двумя лучами $\varphi = \alpha$ и $\varphi = \beta$ ($\alpha < \beta$), где r и φ — полярные координаты. Для решения задачи используем схему II — метод дифференциала.

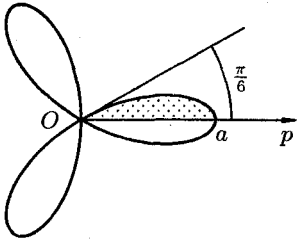


1. Будем считать часть искомой площади S как функцию угла φ , т. е. $S = S(\varphi)$, где $\alpha \leq \varphi \leq \beta$ (если $\varphi = \alpha$, то $S(\alpha) = 0$, если $\varphi = \beta$, то $S(\beta) = S$).

2. Если текущий полярный угол φ получит приращение $\Delta\varphi = d\varphi$, то приращение площади ΔS равно площади «элементарного криволинейного сектора» OAB .

Дифференциал dS представляет собой главную часть приращения ΔS при $d\varphi \rightarrow 0$ и равен площади кругового сектора OAC (на рисунке она заштрихована) радиуса r с центральным углом $d\varphi$. Поэтому $dS = \frac{1}{2}r^2 \cdot d\varphi$;

3) интегрируя полученное равенство в пределах от $\varphi = \alpha$ до $\varphi = \beta$, получим искомую площадь $S = \frac{1}{2} \int_{\alpha}^{\beta} r^2(\varphi) d\varphi$.



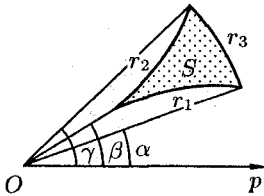
Пример: Найти площадь фигуры, ограниченную «трехлепестковой розой» $r = a \cos 3\varphi$.

◆ Найдем сначала площадь половины одного лепестка «розы», т. е. $\frac{1}{6}$ часть всей площади фигуры:

$$\begin{aligned} \frac{1}{6}S &= \frac{1}{2} \int_0^{\pi/6} (a \cos 3\varphi)^2 d\varphi = \frac{1}{2}a^2 \int_0^{\pi/6} \frac{1}{2}(1 + \cos 6\varphi) d\varphi = \\ &= \frac{a^2}{4}(\varphi|_0^{\pi/6} + \frac{1}{6} \sin 6\varphi|_0^{\pi/6}) = \frac{a^2}{4}(\frac{\pi}{6} + 0) = \frac{\pi a^2}{24}, \end{aligned}$$

т. е. $\frac{1}{6}S = \frac{\pi a^2}{24}$. Следовательно, $S = \frac{\pi a^2}{4}$. ◆

Если плоская фигура имеет «сложную» форму, то лучами выходящими из полюса, ее следует разбить на криволинейные сектора, к которым применить полученную формулу для нахождения площади. Так, для фигуры, изображенной на рисунке, имеем:



$$S = \frac{1}{2} \int_{\alpha}^{\gamma} r_3^2 d\varphi - \frac{1}{2} \int_{\alpha}^{\beta} r_1^2 d\varphi - \frac{1}{2} \int_{\beta}^{\gamma} r_2^2 d\varphi.$$

104. ВЫЧИСЛЕНИЕ ДЛИНЫ ДУГИ ПЛОСКОЙ КРИВОЙ

1. Длина дуги кривой в прямоугольных координатах

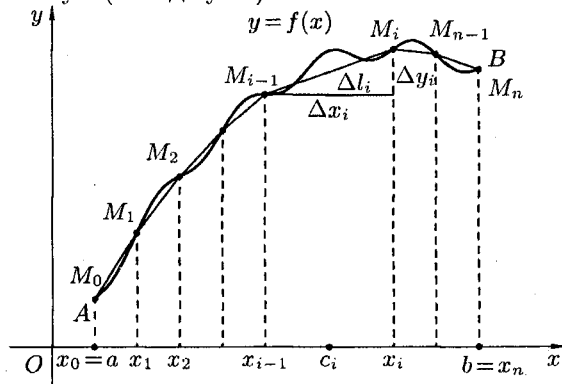
Пусть в прямоугольных координатах дана плоская кривая AB (или L), уравнение которой $y = f(x)$, где $a \leq x \leq b$.

Под *длиной дуги* AB понимается предел, к которому стремится длина ломаной линии, вписанной в эту дугу, когда число звеньев ломаной неограниченно возрастает, а длина наибольшего звена ее стремится к нулю.

Покажем, что если функция $y = f(x)$ и ее производная $y' = f'(x)$ непрерывны на отрезке $[a; b]$, то кривая AB имеет длину, равную

$$L = \int_a^b \sqrt{1 + (f'(x))^2} dx. \quad (1)$$

Применим схему I (метод сумм).



1. Точками $x_0 = a, x_1, \dots, x_n = b$ ($x_0 < x_1 < \dots < x_n$) разобьем отрезок $[a; b]$ на n частей. Пусть этим точкам соответствуют точки $M_0 = A, M_1, \dots, M_n = B$ на кривой AB . Проведем хорды $M_0M_1, M_1M_2, \dots, M_{n-1}M_n$, длины которых обозначим соответственно через $\Delta l_1, \Delta l_2, \dots, \Delta l_n$. Получим ломаную $M_0M_1M_2 \dots M_{n-1}M_n$, длина которой равна $l_n = \Delta l_1 + \Delta l_2 + \dots + \Delta l_n = \sum_{i=1}^n \Delta l_i$.

2. Длину хорды (или звена ломаной) Δl_i можно найти по теореме Пифагора из треугольника с катетами Δx_i и Δy_i : $\Delta l_i = \sqrt{(\Delta x_i)^2 + (\Delta y_i)^2}$, где $\Delta x_i = x_i - x_{i-1}$, $\Delta y_i = f(x_i) - f(x_{i-1})$. По теореме Лагранжа о конечном приращении функции $\Delta y_i = f'(c_i) \cdot \Delta x_i$,

где $c_i \in (x_{i-1}, x_i)$. Поэтому $\Delta l_i = \sqrt{(\Delta x_i)^2 + (f'(c_i) \cdot \Delta x_i)^2} = \sqrt{1 + (f'(c_i))^2} \cdot \Delta x_i$, и длина всей ломаной $M_0 M_1 \dots M_n$ равна

$$l_n = \sum_{i=1}^n \Delta l_i = \sum_{i=1}^n \sqrt{1 + (f'(c_i))^2} \cdot \Delta x_i. \quad (2)$$

3. Длина L кривой AB , по определению, равна $L = \lim_{\max \Delta l_i \rightarrow 0} l_n = \lim_{\max \Delta l_i \rightarrow 0} \sum_{i=1}^n \Delta l_i$. Заметим, что при $\Delta l_i \rightarrow 0$ также и $\Delta x_i \rightarrow 0$ ($\Delta l_i = \sqrt{(\Delta x_i)^2 + (\Delta y_i)^2}$ и, следовательно, $|\Delta x_i| < \Delta l_i$). Функция $\sqrt{1 + (f'(x))^2}$ непрерывна на отрезке $[a; b]$, так как, по условию, непрерывна функция $f'(x)$. Следовательно, существует предел интегральной суммы (2), когда $\max \Delta x_i \rightarrow 0$:

$$L = \lim_{\substack{\max \Delta l_i \rightarrow 0 \\ (n \rightarrow \infty)}} \sum_{i=1}^n \sqrt{1 + (f'(c_i))^2} \Delta x_i = \int_a^b \sqrt{1 + (f'(x))^2} dx.$$

Таким образом, $L = \int_a^b \sqrt{1 + (f'(x))^2} dx$, или в сокращенной записи $L = \int_a^b \sqrt{1 + (y'_x)^2} dx$.

Если уравнение кривой AB задано в параметрической форме

$$\begin{cases} x = x(t), \\ y = y(t), \end{cases} \quad \alpha \leq t \leq \beta,$$

где $x(t)$ и $y(t)$ непрерывные функции с непрерывными производными и $x(\alpha) = a$, $x(\beta) = b$, то длина L кривой AB находится по формуле

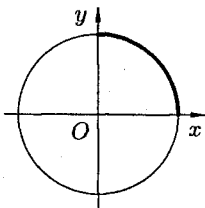
$$L = \int_{\alpha}^{\beta} \sqrt{(x'(t))^2 + (y'(t))^2} dt. \quad (3)$$

Формула (3) может быть получена из формулы (1) подстановкой $x = x(t)$, $dx = x'(t) dt$, $f'(x) = \frac{y'(t)}{x'(t)}$.

Пример: Найти длину окружности радиуса R .

◆ Найдем $\frac{1}{4}$ часть ее длины от точки $(0; R)$ до точки $(R; 0)$. Так как $y = \sqrt{R^2 - x^2}$, то

$$\frac{1}{4} L = \int_0^R \sqrt{1 + \frac{x^2}{R^2 - x^2}} dx = R \cdot \arcsin \frac{x}{R} \Big|_0^R = R \cdot \frac{\pi}{2}.$$

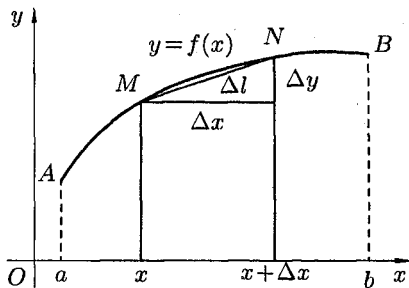


Значит, $L = 2\pi R$. Если уравнение окружности записать в параметрическом виде $x = R \cos t$, $y = R \sin t$ ($0 \leq t \leq 2\pi$), то

$$L = \int_0^{2\pi} \sqrt{(-R \sin t)^2 + (R \cos t)^2} dt = Rt \Big|_0^{2\pi} = 2\pi R. \quad \blacklozenge$$

Получим формулу (1), применив схему II (метод дифференциала).

1. Возьмем произвольное значение $x \in [a; b]$ и рассмотрим переменный отрезок $[a; x]$. На нем величина l становится функцией от x , т. е. $l = l(x)$ ($l(a) = 0$ и $l(b) = l$).



2. Находим дифференциал dl функции $l = l(x)$ при изменении x на малую величину $\Delta x = dx$: $dl = l'(x) dx$. Найдем $l'(x)$, заменяя бесконечно малую дугу \widehat{MN} хордой Δl , стягивающей эту дугу:

$$\begin{aligned} l'(x) &= \lim_{\Delta x \rightarrow 0} \frac{\Delta l}{\Delta x} = \lim_{\Delta x \rightarrow 0} \frac{\sqrt{(\Delta x)^2 + (\Delta y)^2}}{\Delta x} = \\ &= \lim_{\Delta x \rightarrow 0} \sqrt{1 + \left(\frac{\Delta y}{\Delta x}\right)^2} = \sqrt{1 + (y'_x)^2}. \end{aligned}$$

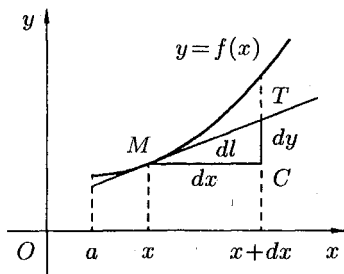
Стало быть, $dl = \sqrt{1 + (y'_x)^2} dx$.

3. Интегрируя dl в пределах от a до b , получаем $L = \int_a^b \sqrt{1 + y_x'^2} dx$.

Равенство $dl = \sqrt{1 + y_x'^2} dx$ называется формулой дифференциала дуги в прямоугольных координатах.

Так как $y'_x = \frac{dy}{dx}$, то

$$dl = \sqrt{(dx)^2 + (dy)^2}.$$



Последняя формула представляет собой теорему Пифагора для бесконечно малого треугольника MCT .

2. Длина дуги кривой в полярных координатах

Пусть кривая AM задана уравнением в полярных координатах $r = r(\varphi)$, $\alpha \leq \varphi \leq \beta$. Предположим, что $r(\varphi)$ и $r'(\varphi)$ непрерывны на отрезке $[\alpha; \beta]$.

Если в равенствах $x = r \cos \varphi$, $y = r \sin \varphi$, связывающих полярные и декартовы координаты, параметром считать угол φ , то кривую AM можно задать параметрически $\begin{cases} x = r(\varphi) \cos \varphi, \\ y = r(\varphi) \sin \varphi. \end{cases}$ Тогда

$$\begin{cases} x'_\varphi = r'(\varphi) \cos \varphi - r(\varphi) \sin \varphi, \\ y'_\varphi = r'(\varphi) \sin \varphi + r(\varphi) \cos \varphi. \end{cases}$$

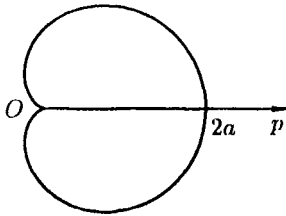
Поэтому

$$\begin{aligned} \sqrt{(x'_\varphi)^2 + (y'_\varphi)^2} &= \\ &= \sqrt{(r'(\varphi) \cos \varphi - r(\varphi) \sin \varphi)^2 + (r'(\varphi) \sin \varphi + r(\varphi) \cos \varphi)^2} = \\ &= \sqrt{(r'(\varphi))^2 + (r(\varphi))^2}. \end{aligned}$$

Применяя формулу 3, получаем

$$l = \int_{\alpha}^{\beta} \sqrt{r^2 + r'^2} d\varphi.$$

Пример: Найти длину кардиоиды $r = a(1 + \cos \varphi)$.



◆ Кардиоида $r = a(1 + \cos \varphi)$ имеет вид, изображенный на рисунке. Она симметрична относительно полярной оси. Найдём половину длины кардиоиды:

$$\begin{aligned} \frac{1}{2}l &= \int_0^{\pi} \sqrt{(a(1 + \cos \varphi))^2 + (a(-\sin \varphi))^2} d\varphi = a \int_0^{\pi} \sqrt{2 + 2 \cos \varphi} d\varphi = \\ &= a \int_0^{\pi} \sqrt{2 \cdot 2 \cos^2 \frac{\varphi}{2}} d\varphi = 2a \int_0^{\pi} \cos \frac{\varphi}{2} d\varphi = 4a \cdot \sin \frac{\varphi}{2} \Big|_0^{\pi} = 4a. \end{aligned}$$

Таким образом, $\frac{1}{2}l = 4a$. Значит, $l = 8a$. ◆

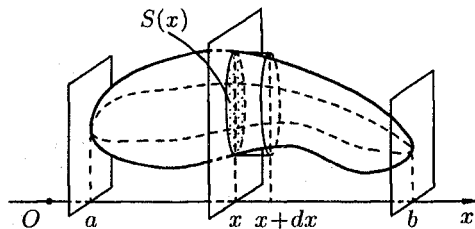
105. ВЫЧИСЛЕНИЕ ОБЪЕМА ТЕЛА

1. Вычисление объема тела по известным площадям параллельных сечений

Пусть требуется найти объем V тела, причем известны площади S сечений этого тела плоскостями, перпендикулярными некоторой оси, например оси Ox : $S = S(x)$, $a \leq x \leq b$.

Применим схему II (метод дифференциала).

1. Через произвольную точку $x \in [a; b]$ проведем плоскость Π , перпендикулярную оси Ox . Обозначим через $S(x)$ площадь сечения тела этой плоскостью; $S(x)$ считаем известной и непрерывно изменяющейся при изменении x . Через $v(x)$ обозначим объем части тела, лежащее левее плоскости Π . Будем считать, что на отрезке $[a; x]$ величина v есть функция от x , т. е. $v = v(x)$ ($v(a) = 0$, $v(b) = V$).



2. Находим дифференциал dV функции $v = v(x)$. Он представляет собой «элементарный слой» тела, заключенный между параллельными плоскостями, пересекающими ось Ox в точках x и $x + \Delta x$, который приближенно может быть принят за цилиндр с основанием $S(x)$ и высотой dx . Поэтому дифференциал объема $dV = S(x) dx$.

3. Находим искомую величину V путем интегрирования dA в пределах от a до b :

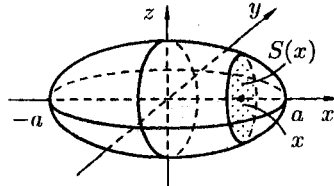
$$V = \int_a^b S(x) dx. \quad (1)$$

Полученная формула называется *формулой объема тела по площади параллельных сечений*.

Пример: Найти объем эллипсоида

$$\frac{x^2}{a^2} + \frac{y^2}{b^2} + \frac{z^2}{c^2} = 1.$$

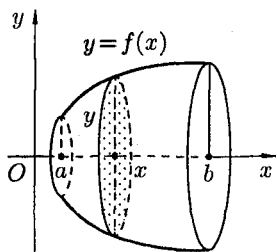
♦ Рассекая эллипсоид плоскостью, параллельной плоскости Oyz и на расстоянии x от нее ($-a \leq x \leq a$), получим эллипс:



$$\frac{y^2}{(b\sqrt{1 - \frac{x^2}{a^2}})^2} + \frac{z^2}{(c\sqrt{1 - \frac{x^2}{a^2}})^2} = 1.$$

Площадь этого эллипса равна $S(x) = \pi bc \left(1 - \frac{x^2}{a^2}\right)$. Поэтому, по формуле (1), имеем $V = \pi bc \int_{-a}^a \left(1 - \frac{x^2}{a^2}\right) dx = \frac{4}{3} \pi abc$. \blacklozenge

2. Объем тела вращения



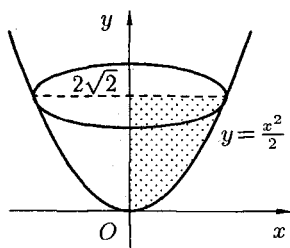
Пусть вокруг оси Ox вращается криволинейная трапеция, ограниченная непрерывной линией $y = f(x) \geq 0$, отрезком $a \leq x \leq b$ и прямыми $x = a$ и $x = b$. Полученная от вращения фигура называется *телом вращения*. Сечение этого тела плоскостью, перпендикулярной оси Ox , проведенной через произвольную точку x оси Ox ($x \in [a; b]$), есть круг с радиусом $y = f(x)$. Следовательно, $S(x) = \pi y^2$.

Применяя формулу (1) объема тела по площади параллельных сечений, получаем

$$V_x = \pi \int_a^b y^2 dx. \quad (2)$$

Если криволинейная трапеция ограничена графиком непрерывной функции $x = \varphi(y) \geq 0$ и прямыми $x = 0$, $y = c$, $y = d$, то объем тела, образованного вращением этой трапеции вокруг оси Oy , по аналогии с формулой (2), равен

$$V_y = \pi \int_c^d x^2 dy. \quad (3)$$



Пример: Найти объем тела, образованного вращением фигуры, ограниченной линиями $y = \frac{x^2}{2}$, $x = 0$, $y = 2\sqrt{2}$ вокруг оси Oy .

\blacklozenge По формуле (3) находим:

$$V_y = \pi \int_0^{2\sqrt{2}} 2y dy = \pi y^2 \Big|_0^{2\sqrt{2}} = 8\pi. \quad \blacklozenge$$

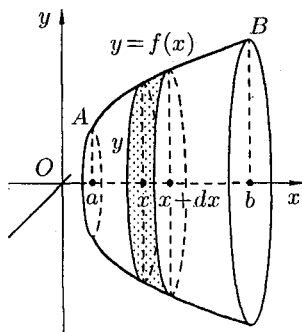
106. ВЫЧИСЛЕНИЕ ПЛОЩАДИ ПОВЕРХНОСТИ ВРАЩЕНИЯ

Пусть кривая AB является графиком функции $y = f(x) \geq 0$, где $x \in [a; b]$, а функция $y = f(x)$ и ее производная $y' = f'(x)$ непрерывны на этом отрезке.

Найдем площадь S поверхности, образованной вращением кривой AB вокруг оси Ox .

Применим схему II (метод дифференциала).

1. Через произвольную точку $x \in [a; b]$ проведем плоскость Π , перпендикулярную оси Ox . Плоскость Π пересекает поверхность вращения по окружности с радиусом $y = f(x)$. Величина S поверхности части фигуры вращения, лежащей левее плоскости, является функцией от x , т. е. $s = s(x)$ ($s(a) = 0$ и $s(b) = S$).



2. Дадим аргументу x приращение $\Delta x = dx$. Через точку $x + dx \in [a; b]$ также проведем плоскость, перпендикулярную оси Ox . Функция $s = s(x)$ получит приращение Δs , изображенного на рисунке в виде «пояска».

Найдем дифференциал площади ds , заменяя образованную между сечениями фигуру усеченным конусом, образующая которого равна dl , а радиусы оснований равны y и $y + dy$. Площадь его боковой поверхности равна $ds = \pi(y + y + dy) \cdot dl = 2\pi y dl + \pi dy dl$. Отбрасывая произведение $dy dl$ как бесконечно малую высшего порядка, чем ds , получаем $ds = 2\pi y dl$, или, так как $dl = \sqrt{1 + (y'_x)^2} dx$, то $ds = 2\pi y \sqrt{1 + (y'_x)^2} dx$.

3. Интегрируя полученное равенство в пределах от $x = a$ до $x = b$, получаем

$$S = 2\pi \int_a^b y \cdot \sqrt{1 + (y'_x)^2} dx. \quad (1)$$

Если кривая AB задана параметрическими уравнениями $x = x(t)$, $y = y(t)$, $t_1 \leq t \leq t_2$, то формула (1) для площади поверхности вращения принимает вид

$$S = 2\pi \int_{t_1}^{t_2} y(t) \cdot \sqrt{(x'(t))^2 + (y'(t))^2} dt.$$

Пример: Найти площадь поверхности шара радиуса R .

◆ Можно считать, что поверхность шара образована вращением полуокружности $y = \sqrt{R^2 - x^2}$, $-R \leq x \leq R$, вокруг оси Ox . По формуле (1) находим

$$\begin{aligned} S &= 2\pi \int_{-R}^R \sqrt{R^2 - x^2} \cdot \sqrt{1 + \left(\frac{-x}{\sqrt{R^2 - x^2}}\right)^2} dx = \\ &= 2\pi \int_{-R}^R \sqrt{R^2 - x^2 + x^2} dx = 2\pi R \cdot x \Big|_{-R}^R = 4\pi R^2. \quad \blacklozenge \end{aligned}$$

Дана циклоида

$$\begin{cases} x = a(t - \sin t), \\ y = a(t - \cos t), \end{cases} \quad 0 \leq t \leq 2\pi.$$

Найти площадь поверхности, образованной вращением ее вокруг оси.

◆ При вращении вокруг оси дуги циклоиды площадь поверхности вращения равна

$$\begin{aligned} \frac{1}{2} S_x &= 2\pi \int_0^\pi a(1 - \cos t) \cdot \sqrt{(a(1 - \cos t))^2 + (a \sin t)^2} dt = \\ &= 2\pi \int_0^\pi a^2 \cdot 2 \sin^2 t \cdot \sqrt{1 - 2 \cos t + \cos^2 t + \sin^2 t} dt = \\ &= 4\pi a \int_0^\pi \sin^2 \frac{t}{2} \cdot \sqrt{2 \cdot 2 \sin^2 \frac{t}{2}} dt = 8\pi a \int_0^\pi \sin^2 \frac{t}{2} \cdot \sin \frac{t}{2} dt = \\ &= -8\pi a \cdot 2 \int_0^\pi \left(1 - \cos^2 \frac{t}{2}\right) d\left(\cos \frac{t}{2}\right) = -16\pi a^2 \left(\cos \frac{t}{2} \Big|_0^\pi - \frac{\cos^3 \frac{t}{2}}{3} \Big|_0^\pi\right) = \\ &= -16\pi a^2 \left(0 - 1 - 0 + \frac{1}{3}\right) = -16\pi a^2 \left(-\frac{2}{3}\right) = \frac{32\pi a^2}{3}, \end{aligned}$$

т. е. $\frac{1}{2} S_x = \frac{32}{3} \pi a^2$. Следовательно, $S_x = \frac{64}{3} \pi a^2$. ◆

107. ПРИЛОЖЕНИЯ ОПРЕДЕЛЕННОГО ИНТЕГРАЛА К РЕШЕНИЮ ЗАДАЧ ФИЗИКИ И МЕХАНИКИ

1. Работа переменной силы

Пусть материальная точка M перемещается вдоль оси Ox под действием переменной силы $F = F(x)$, направленной параллельно этой оси.

Работа, произведенная силой при перемещении точки M из положения $x = a$ в положение $x = b$ ($a < b$), находится по формуле

$$A = \int_a^b F(x) dx \quad (1)$$

(см. «геометрический и физический смысл определенного интеграла»).

Примеры: 1) Какую работу нужно затратить, чтобы растянуть пружину на 0,05 м, если сила 100 Н растягивает пружину на 0,01 м?

◆ По закону Гука упругая сила, растягивающая пружину, пропорциональна этому растяжению x , т. е. $F = kx$, где k — коэффициент пропорциональности. Согласно условию задачи, сила $F = 100$ Н растягивает пружину на $x = 0,01$ м; следовательно, $100 = k \cdot 0,01$, откуда $k = 10000$; следовательно, $F = 10000x$.

Искомая работа на основании формулы (1) равна

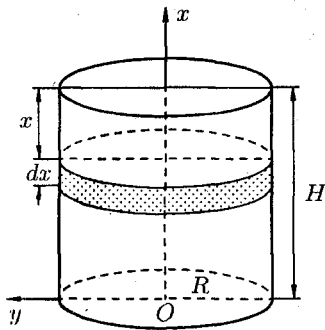
$$A = \int_0^{0,05} 10000x dx = 5000x^2 \Big|_0^{0,05} = 12,5 \text{ (Дж)}. \quad \blacklozenge$$

2) Найти работу, которую необходимо затратить, чтобы выкачать через край жидкость из вертикального цилиндрического резервуара высоты H м и радиусом основания R м.

◆ Работа, затрачиваемая на поднятие тела весом p на высоту h , равна $p \cdot h$. Но различные слои жидкости в резервуаре находятся на различных глубинах и высота поднятия (до края резервуара) различных слоев не одинакова.

Для решения поставленной задачи применим схему II (метод дифференциала). Введем систему координат так, как указано на рисунке.

1. Работа, затрачиваемая на выкачивание из резервуара слоя жидкости толщиной x ($0 \leq x \leq H$), есть функция от x , т. е. $A = A(x)$, где $0 \leq x \leq H$ ($A(0) = 0$, $A(H) = A_0$).



2. Находим главную часть приращения ΔA при изменении x на величину $\Delta x = dx$, т. е. находим дифференциал dA функции $A(x)$.

Ввиду малости dx считаем, что «элементарный» слой жидкости находится на одной глубине x (от края резервуара). Тогда $dA = dp \cdot x$, где dp — вес этого слоя; он равен $g \cdot \gamma dv$, где g — ускорение свободного падения, γ — плотность жидкости, dv — объем «элементарного» слоя жидкости (на рисунке он выделен), т. е. $dp = g\gamma dv$. Объем указанного слоя жидкости, очевидно, равен $\pi R^2 dx$, где dx — высота цилиндра (слоя), πR^2 — площадь его основания, т. е. $dv = \pi R^2 dx$.

Таким образом, $dp = g\gamma \cdot \pi R^2 dx$ и $dA = g\gamma \pi R^2 dx \cdot x$.

3) Интегрируя полученное равенство в пределах от $x = 0$ до $x = H$, находим

$$A_0 = \int_0^H g\gamma \pi R^2 x dx = \frac{1}{2} g\gamma \pi R^2 H^2 \quad (\text{Дж}). \quad \blacklozenge$$

2. Путь, пройденный телом

Пусть материальная точка перемещается по прямой с переменной скоростью $v = v(t)$. Найдем путь S , пройденный ею за промежуток времени от t_1 до t_2 .

◆ Из физического смысла производной известно, что при движении точки в одном направлении «скорость прямолинейного движения равна производной от пути по времени», т. е. $v(t) = \frac{dS}{dt}$. Отсюда следует, что $dS = v(t) dt$. Интегрируя полученное равенство в пределах от t_1 до t_2 , получаем $S = \int_{t_1}^{t_2} v(t) dt$.

◆

Отметим, что эту же формулу можно получить, пользуясь схемой I или II применения определенного интеграла.

Пример: Если $v(t) = 10t + 2$ (м/с), то путь, пройденный телом от начала движения ($t = 0$) до конца 4-й секунды, равен

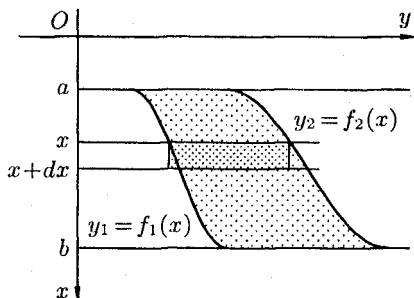
$$S = \int_0^4 (10t + 2) dt = 5t^2 \Big|_0^4 + 2t \Big|_0^4 = 80 + 8 = 88 \quad (\text{м}).$$

3. Давление жидкости на вертикальную пластинку

По закону Паскаля давление жидкости на горизонтальную пластину равно весу столба этой жидкости, имеющего основанием пластинку, а высотой — глубиной ее погружения от свободной поверхности жидкости, т. е. $P = g \cdot \gamma \cdot S \cdot h$, где g — ускорение свободного падения, γ — плотность жидкости, S — площадь пластинки, h — глубина ее погружения.

По этой формуле нельзя искать давление жидкости на вертикально погруженную пластинку, так как ее разные точки лежат на разных глубинах.

Пусть в жидкость погружена вертикально пластина, ограниченная линиями $x = a$, $x = b$, $y_1 = f_1(x)$ и $y_2 = f_2(x)$; система координат выбрана так, как указано на рисунке. Для нахождения давления P жидкости на эту пластину применим схему II (метод дифференциала).



1. Пусть часть искомой величины P есть функция от x : $p = p(x)$, т. е. $p = p(x)$ — давление на часть пластины, соответствующее отрезку $[a; x]$ значений переменной x , где $x \in [a; b]$ ($p(a) = 0$, $p(b) = P$).

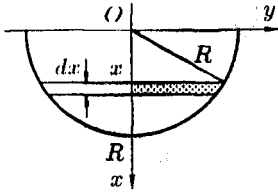
2. Дадим аргументу x приращение $\Delta x = dx$. Функция $p(x)$ получит приращение Δp (на рисунке — полоска-слой толщины dx). Найдем дифференциал dp этой функции. Ввиду малости dx будем приближенно считать полоску прямоугольником, все точки которого находятся на одной глубине x , т. е. пластинка эта — горизонтальная.

$$\text{Тогда по закону Паскаля } dp = g \cdot \gamma \underbrace{(y_2 - y_1)}_S \cdot \underbrace{dx}_{h} \cdot x.$$

3. Интегрируя полученное равенство в пределах от $x = a$ до

$x = b$, получим

$$P = g \cdot \gamma \int_a^b (y_2 - y_1) x dx \quad \text{или} \quad P = g\gamma \int_a^b (f_2(x) - f_1(x)) \cdot x dx.$$



Пример: Определить величину давления воды на полукруг, вертикально погруженный в жидкость, если его радиус R , а центр O находится на свободной поверхности воды.

◆ Воспользуемся полученной формулой для нахождения давления жидкости на вертикальную пластинку. В данном случае пластинка ограничена линиями $y_1 = -\sqrt{R^2 - x^2}$, $y_2 = \sqrt{R^2 - x^2}$, $x = 0$, $x = R$. Поэтому

$$\begin{aligned} P &= g\gamma \int_0^R (\sqrt{R^2 - x^2} - (-\sqrt{R^2 - x^2})) x dx = \\ &= 2g\gamma \int_0^R \sqrt{R^2 - x^2} x dx = 2g\gamma \cdot \left(-\frac{1}{2}\right) \int_0^R (R^2 - x^2)^{1/2} d(R^2 - x^2) = \\ &= -g\gamma \cdot \frac{2\sqrt{(R^2 - x^2)^3}}{3} \Big|_0^R = -\frac{2}{3}g\gamma(0 - R^3) = \frac{2}{3}g\gamma R^3. \quad \blacklozenge \end{aligned}$$

4. Вычисление статических моментов и координат центра тяжести плоской кривой

Пусть на плоскости xOy задана система материальных точек $M_1(x_1; y_1)$, $M_2(x_2; y_2)$, ..., $M_n(x_n; y_n)$ соответственно с массами m_1 , m_2 , ..., m_n .

Статическим моментом S_x системы материальных точек относительно оси Ox называется сумма произведений масс этих точек на их ординаты (т. е. на расстояния этих точек от оси Ox):

$$S_x = \sum_{i=1}^n m_i \cdot y_i.$$

Аналогично определяется *статический момент* S_y этой системы относительно оси Oy : $S_y = \sum_{i=1}^n m_i \cdot x_i$.

Если массы распределены непрерывным образом вдоль некоторой кривой, то для выражения статического момента понадобится интегрирование.

Пусть $y = f(x)$ ($a \leq x \leq b$) — это уравнение материальной кривой AB . Будем считать ее однородной с постоянной линейной плотностью γ ($\gamma = \text{const}$).

Для произвольного $x \in [a; b]$ на кривой AB найдется точка с координатами $(x; y)$. Выделим на кривой элементарный участок длины dl , содержащий точку $(x; y)$. Тогда масса этого участка равна γdl . Примем этот участок dl *приблизительно за точку*, отстоящую от оси Ox на расстоянии y . Тогда дифференциал статического момента dS_x («элементарный момент») будет равен $\gamma dl \cdot y$, т. е. $dS_x = \gamma dl \cdot y$.

Отсюда следует, что статический момент S_x кривой AB относительно оси Ox равен

$$S_x = \gamma \int_a^b y dl = \gamma \int_a^b y \cdot \sqrt{1 + (y'_x)^2} dx.$$

Аналогично находим S_y :

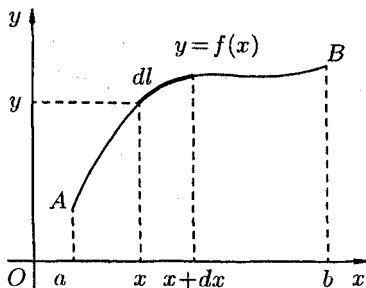
$$S_y = \gamma \int_a^b x \cdot \sqrt{1 + (y'_x)^2} dx.$$

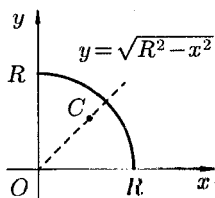
Статические моменты S_x и S_y кривой позволяют легко установить положение ее центра тяжести (центра масс).

Центром тяжести материальной плоской кривой $y = f(x)$, $x \in [a; b]$ называется точка плоскости, обладающая следующим свойством: если в этой точке сосредоточить всю массу m заданной кривой, то статический момент этой точки относительно любой координатной оси будет равен статическому моменту всей кривой $y = f(x)$ относительно той же оси. Обозначим через $C(x_c; y_c)$ центр тяжести кривой AB .

Из определения центра тяжести следуют равенства $m \cdot x_c = S_y$ и $m \cdot y_c = S_x$ или $\gamma l \cdot x_c = S_y$ и $\gamma l \cdot y_c = S_x$. Отсюда $x_c = \frac{S_y}{\gamma l}$, $y_c = \frac{S_x}{\gamma l}$ или

$$x_c = \frac{\int_a^b x dl}{l} = \frac{\int_a^b x \cdot \sqrt{1 + (y'_x)^2} dx}{\int_a^b \sqrt{1 + (y'_x)^2} dx}; \quad y_c = \frac{\int_a^b y dl}{l} = \frac{\int_a^b y \cdot \sqrt{1 + (y'_x)^2} dx}{\int_a^b \sqrt{1 + (y'_x)^2} dx}.$$





Пример: Найти центр тяжести однородной дуги окружности $x^2 + y^2 = R^2$, расположенной в первой координатной четверти.

◆ Очевидно, длина указанной дуги окружности равна $\frac{\pi R}{2}$, т. е. $l = \frac{\pi R}{2}$. Найдем статический момент ее относительно оси Ox . Так как уравнение дуги есть $y = \sqrt{R^2 - x^2}$ и $y'_x = \frac{-x}{\sqrt{R^2 - x^2}}$, то ($\gamma = \text{const}$)

$$S_x = \gamma \int_0^R \sqrt{R^2 - x^2} \cdot \sqrt{1 + \left(\frac{-x}{\sqrt{R^2 - x^2}}\right)^2} dx =$$

$$= \gamma \int_0^R \sqrt{R^2 - x^2} \cdot \frac{R}{\sqrt{R^2 - x^2}} dx = \gamma R \int_0^R dx = \gamma R x \Big|_0^R = \gamma R^2.$$

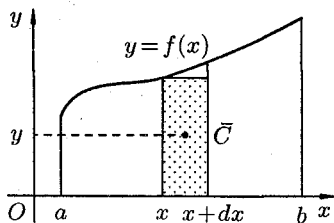
Стало быть,

$$y_c = \frac{S_x}{\gamma l} = \frac{\gamma R^2}{\gamma \cdot \frac{\pi R}{2}} = \frac{2R}{\pi}.$$

Так как данная дуга симметрична относительно биссектрисы первого координатного угла, то $x_c = y_c = \frac{2R}{\pi}$. Итак, центр тяжести имеет координаты $\left(\frac{2R}{\pi}, \frac{2R}{\pi}\right)$. ◆

5. Вычисление статических моментов и координат центра тяжести плоской фигуры

Пусть дана материальная плоская фигура (пластинка), ограниченная кривой $y = f(x) \geq 0$ и прямыми $y = 0$, $x = a$, $x = b$.



Будем считать, что поверхностная плотность пластинки постоянна ($\gamma = \text{const}$). Тогда масса всей пластинки равна $\gamma \cdot S$, т. е. $m = \gamma \int_a^b f(x) dx$. Выделим элементарный участок пластинки в виде бесконечно узкой вертикальной полосы и будем приближенно считать его прямоугольником.

Тогда масса его равна $\gamma \cdot y \, dx$. Центр тяжести \bar{C} прямоугольника лежит на пересечении диагоналей прямоугольника. Эта точка \bar{C} отстоит от оси Ox на $\frac{1}{2}y$, а от оси Oy на x (приближенно; точнее на расстоянии $x + \frac{1}{2}\Delta x$). Тогда для элементарных статических моментов относительно осей Ox и Oy выполнены соотношения

$$dS_x = \gamma \cdot y \, dx \cdot \frac{1}{2}y = \frac{1}{2}\gamma \cdot y^2 \, dx \quad \text{и} \quad dS_y = \gamma \cdot y \, dx \cdot x = \gamma xy \, dx.$$

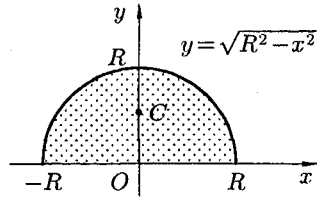
Следовательно, $S_x = \frac{1}{2}\gamma \int_a^b y^2 \, dx$, $S_y = \gamma \int_a^b xy \, dx$.

По аналогии с плоской кривой получаем, обозначив координаты центра тяжести плоской фигуры (пластинки) через $C(x_c; y_c)$, что $m \cdot x_c = S_y$, $m \cdot y_c = S_x$. Отсюда

$$x_c = \frac{S_y}{m} = \frac{S_y}{\gamma S} \quad \text{и} \quad y_c = \frac{S_x}{m} = \frac{S_x}{\gamma S} \quad \text{или} \quad x_c = \frac{\int_a^b xy \, dx}{\int_a^b y \, dx}, \quad y_c = \frac{\frac{1}{2} \int_a^b y^2 \, dx}{\int_a^b y \, dx}.$$

Пример: Найдём координаты центра тяжести полукруга $x^2 + y^2 \leq R^2$, $y \geq 0$ ($\gamma = \text{const}$).

◆ Очевидно (ввиду симметрии фигуры относительно оси Oy), что $x_c = 0$. Площадь полукруга равна $\frac{\pi R^2}{2}$. Находим S_x :



$$\begin{aligned} S_x &= \frac{1}{2}\gamma \int_{-R}^R (\sqrt{R^2 - x^2})^2 \, dx = \frac{1}{2}\gamma (R^2 x - \frac{x^3}{3}) \Big|_{-R}^R = \\ &= \frac{1}{2}\gamma (R^3 + R^3 - \frac{R^3}{3} - \frac{R^3}{3}) = \gamma \cdot \frac{2}{3} R^3. \end{aligned}$$

Стало быть,

$$y_c = \frac{S_x}{\gamma S} = \frac{2\gamma R^3}{3\gamma \frac{\pi R^2}{2}} = \frac{4}{3} \cdot \frac{R}{\pi}.$$

Итак, центр тяжести имеет координаты $C(0; \frac{4R}{3\pi})$. ◆

108. ПРИБЛИЖЕННОЕ ВЫЧИСЛЕНИЕ ОПРЕДЕЛЕННОГО ИНТЕГРАЛА

Пусть требуется найти определенный интеграл $\int_a^b f(x) dx$ от непрерывной функции $f(x)$. Если можно найти первообразную $F(x)$ функции $f(x)$, то интеграл вычисляется по формуле Ньютона-Лейбница: $\int_a^b f(x) dx = F(b) - F(a)$.

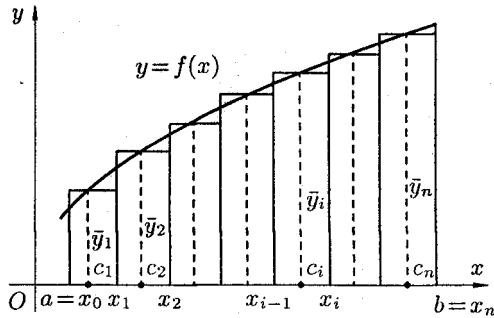
Но отыскание первообразной функции иногда весьма сложно; кроме того, как известно, не для всякой непрерывной функции ее первообразная выражается через элементарные функции. В этих и других случаях (например, функция $y = f(x)$ задана графически или таблично) прибегают к приближенным формулам, с помощью которых определенный интеграл находится с любой степенью точности.

Рассмотрим три наиболее употребительные формулы приближенного вычисления определенного интеграла — формулу прямоугольников, формулу трапеций, формулу парабол (Симпсона), основанные на геометрическом смысле определенного интеграла.

1. Формула прямоугольников

Пусть на отрезке $[a; b]$, $a < b$, задана непрерывная функция $f(x)$. Требуется вычислить интеграл $\int_a^b f(x) dx$, численно равный площади соответствующей криволинейной трапеции. Разобьем основание этой трапеции, т. е. отрезок $[a; b]$, на n равных частей (отрезков) длины $h = \frac{b-a}{n} = x_i - x_{i-1}$ (шаг разбиения) с помощью точек $x_0 = a, x_1, x_2, \dots, x_n = b$. Можно записать, что $x_i = x_0 + h \cdot i$, где $i = 1, 2, \dots, n$.

В середине $c_i = \frac{x_{i-1} + x_i}{2}$ каждого такого отрезка построим ординату $\bar{y}_i = f(c_i)$ графика функции $y = f(x)$. Приняв эту ординату за высоту, построим прямоугольник с площадью $h \cdot \bar{y}_i$.



Тогда сумма площадей всех n прямоугольников дает площадь ступенчатой фигуры, представляющую собой приближенное значение искомого определенного интеграла

$$\int_a^b f(x) dx \approx h(\bar{y}_1 + \bar{y}_2 + \dots + \bar{y}_n) = \frac{b-a}{n} \sum_{i=1}^n f\left(\frac{x_{i-1} + x_i}{2}\right). \quad (1)$$

Формула (1) называется *формулой средних прямоугольников*.

Абсолютная погрешность приближенного равенства (1) оценивается с помощью следующей формулы:

$$|R_n| \leq \frac{(b-a)^3 \cdot M_2}{24n^2},$$

где M_2 — наибольшее значение $|f''(x)|$ на отрезке $[a; b]$,

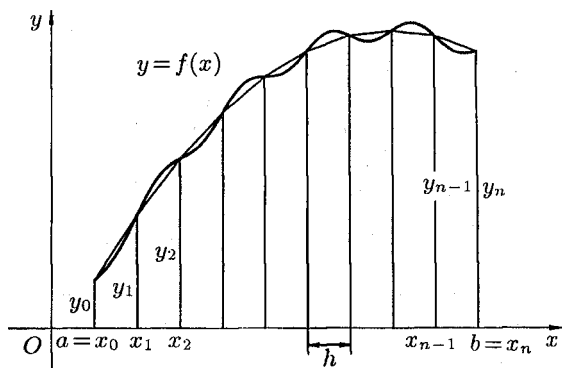
$$|R_n| = \left| \int_a^b f(x) dx - \frac{b-a}{n} \sum_{i=1}^n f\left(\frac{x_{i-1} + x_i}{2}\right) \right|.$$

Отметим, что для линейной функции ($f(x) = kx + b$) формула (1) дает точный ответ, поскольку в этом случае $f''(x) = 0$.

2. Формула трапеций

Формулу трапеций получают аналогично формуле прямоугольников: на каждом частичном отрезке криволинейная трапеция заменяется обычной.

Разобьем отрезок $[a; b]$ на n равных частей длины $h = \frac{b-a}{n}$. Абсциссы точек деления $a = x_0, x_1, x_2, \dots, b = x_n$. Пусть y_0, y_1, \dots, y_n — соответствующие им ординаты графика функции. Тогда расчетные формулы для этих значений примут вид $x_i = a + h_i, y_i = f(x_i), i = 0, 1, 2, \dots, n; h = \frac{b-a}{n}$.



Заменим кривую $y = f(x)$ ломаной линией, звенья которой соединяют концы ординат y_i и y_{i+1} ($i = 0, 1, 2, \dots, n$). Тогда площадь криволинейной трапеции приближенно равна сумме площадей обычных трапеций с основаниями y_i, y_{i+1} и высотой $h = \frac{b-a}{n}$.

$$\int_a^b f(x) dx \approx \frac{y_0 + y_1}{2} \cdot h + \frac{y_1 + y_2}{2} \cdot h + \dots + \frac{y_{n-1} + y_n}{2} \cdot h$$

или

$$\int_a^b f(x) dx \approx \frac{b-a}{n} \left(\frac{y_0 + y_n}{2} + y_1 + y_2 + \dots + y_{n-1} \right). \quad (2)$$

Формула (2) называется *формулой трапеций*.

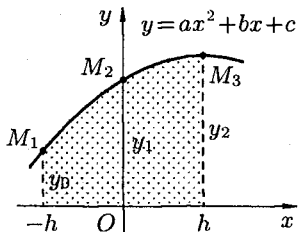
Абсолютная погрешность R_n приближения, полученного по формуле трапеций, оценивается с помощью формулы $|R_n| \leq \frac{(b-a)^3}{12n^2} \cdot M_2$, где $M_2 = \max_{a \leq x \leq b} |f''(x)|$. Снова для линейной функции $y = kx + b$ формула (2) — точная.

3. Формула парабол (Симпсона)

Если заменить график функции $y = f(x)$ на каждом отрезке $[x_{i-1}; x_i]$ разбиения не отрезками прямых, как в методах трапеций и прямоугольников, а дугами парабол, то получим более точную формулу приближенного вычисления интеграла $\int_a^b f(x) dx$.

Предварительно найдем площадь S криволинейной трапеции, ограниченной сверху графиком параболы $y = ax^2 + bx + c$, боку — прямыми $x = -h$, $x = h$ и снизу — отрезком $[-h; h]$.

Пусть парабола проходит через три точки $M_1(-h; y_0)$, $M_2(0; y_1)$, $M_3(h; y_2)$, где $y_0 = ah^2 - bh + c$ — ордината параболы в точке $x = -h$; $y_1 = c$ — ордината параболы в точке $x = 0$; $y_2 = ah^2 + bh + c$ — ордината параболы в точке $x = h$. Площадь S равна



$$S = \int_{-h}^h (ax^2 + bx + c) dx = \left(a \frac{x^3}{3} + b \frac{x^2}{2} + cx \right) \Big|_{-h}^h = \frac{2}{3} ah^3 + 2ch. \quad (3)$$

Выразим эту площадь через h, y_0, y_1, y_2 . Из равенств для ординат y_i находим, что $c = y_1$, $a = \frac{1}{2h^2}(y_0 - 2y_1 + y_2)$. Подставляя эти значения c и a в равенство (3), получаем

$$\begin{aligned} S &= \frac{2}{3} h^3 \cdot \frac{1}{2h^2} (y_0 - 2y_1 + y_2) + 2h \cdot y_1 = \\ &= \frac{h}{3} (y_0 - 2y_1 + y_2) + 2hy_1 = \frac{h}{3} (y_0 + 4y_1 + y_2). \quad (4) \end{aligned}$$

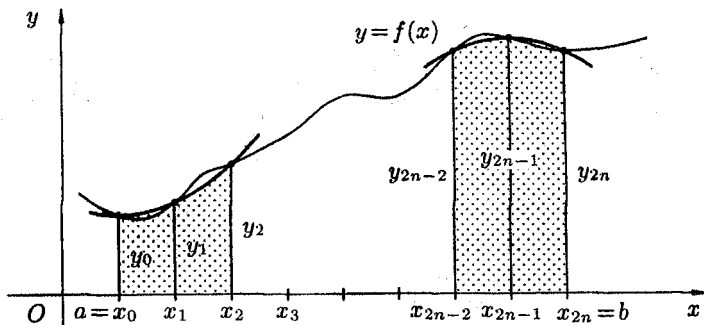
Получим теперь формулу парабол для вычисления интеграла

$$\int_a^b f(x) dx.$$

Для этого отрезок $[a; b]$ разобьем на $2n$ равных частей (отрезков) длиной $h = \frac{b-a}{2n}$ точками $x_i = x_0 + ih$ ($i = 0, 1, 2, \dots, 2n$). В точках деления $a = x_0, x_1, x_2, \dots, x_{2n-2}, x_{2n-1}, x_{2n} = b$ вычисляем значения подынтегральной функции $f(x)$: $y_0, y_1, y_2, \dots, y_{2n-2}, y_{2n-1}, y_{2n}$, где $y_i = f(x_i)$.

Заменяем каждую пару соседних элементарных криволинейных трапеций с основаниями, равными h , одной элементарной параболической трапецией с основанием, равным $2h$. На отрезке $[x_0; x_2]$ парабола проходит через три точки $(x_0; y_0), (x_1; y_1), (x_2; y_2)$. Используя формулу (4), находим

$$S_1 = \int_{x_0}^{x_2} f(x) dx = \frac{h}{3} (y_0 + 4y_1 + y_2).$$



Аналогично находим

$$S_2 = \int_{x_2}^{x_4} f(x) dx = \frac{h}{3}(y_2 + 4y_3 + y_4), \dots,$$

$$S_n = \int_{x_{2n-2}}^{x_{2n}} f(x) dx = \frac{h}{3}(y_{2n-2} + 4y_{2n-1} + y_{2n}).$$

Сложив полученные равенства, имеем

$$\int_a^b f(x) dx \approx \frac{h}{3}(y_0 + 4y_1 + 2y_2 + \dots + 2y_{2n-2} + 4y_{2n-1} + y_{2n})$$

или

$$\int_a^b f(x) dx \approx \frac{b-a}{6n} \left((y_0 + y_{2n}) + 4(y_1 + y_3 + \dots + y_{2n-1}) + \right. \\ \left. + 2(y_2 + y_4 + \dots + y_{2n-2}) \right). \quad (5)$$

Формула (5) называется *формулой парабол* (или Симпсона).

Абсолютная погрешность вычисления по формуле (5) оценивается соотношением

$$|R_n| \leq \frac{(b-a)^5}{180 \cdot (2n)^4} \cdot M_4, \quad \text{где } M_4 = \max_{a \leq x \leq b} |f^{IV}(x)|.$$

Отметим, что формула (5) дает точное значение интеграла $\int_a^b f(x) dx$ во всех случаях, когда $f(x)$ — многочлен, степень которого меньше или равна трем (тогда $f^{IV} = 0$).

Пример: Вычислить $\int_0^2 x^3 dx$, разбив отрезок интегрирования $[0; 2]$ на 4 части.

◆ Имеем: $f(x) = x^3$,

$$a = x_0 = 0; \quad b = x_4 = 2, \quad h = \frac{b-a}{n} = \frac{2}{4} = \frac{1}{2},$$

$$x_0 = 0, \quad y_0 = 0; \quad x_1 = \frac{1}{2}, \quad y_1 = \frac{1}{8}; \quad x_2 = 1, \quad y_2 = 1;$$

$$x_3 = \frac{3}{2}, \quad y_3 = \frac{27}{8}; \quad x_4 = 2, \quad y_4 = 8;$$

а) по формуле прямоугольников:

$$c_1 = \frac{1}{4}, \quad \bar{y}_1 = \frac{1}{64}; \quad c_2 = \frac{3}{4}, \quad \bar{y}_2 = \frac{27}{64};$$

$$c_3 = \frac{5}{4}, \quad \bar{y}_3 = \frac{125}{64}; \quad c_4 = \frac{7}{4}, \quad \bar{y}_4 = \frac{343}{64},$$

$$\int_0^2 x^3 dx \approx \frac{1}{2} \left(\frac{1}{64} + \frac{27}{64} + \frac{125}{64} + \frac{343}{64} \right) = 3,875, \quad \text{т. е.} \quad \int_0^2 x^3 dx \approx 3,875;$$

б) по формуле трапеции:

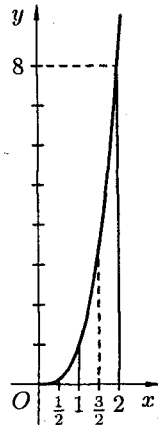
$$\int_0^2 x^3 dx \approx \frac{1}{2} \left(\frac{0+8}{2} + \frac{1}{8} + 1 + \frac{27}{8} \right) = 4,25, \quad \text{т. е.} \quad \int_0^2 x^3 dx \approx 4,25;$$

в) по формуле парабол:

$$\int_0^2 x^3 dx \approx \frac{2}{6 \cdot 2} \left(0 + 8 + 4 \left(\frac{1}{8} + \frac{27}{8} \right) + 2 \cdot 1 \right) = 4, \quad \text{т. е.} \quad \int_0^2 x^3 dx \approx 4.$$

$$\text{Точное значение интеграла} \quad \int_0^2 x^3 dx = \frac{x^4}{4} \Big|_0^2 = 4.$$

Абсолютные погрешности соответствующих формул таковы: а) 0,125; б) 0,25; в) 0. ◆



СПРАВОЧНЫЕ МАТЕРИАЛЫ

Правила дифференцирования

1. $(u \pm v)' = u' \pm v'$;
2. $(u \cdot v)' = u'v + uv'$, в частности $(cu)' = c \cdot u'$;
3. $\left(\frac{u}{v}\right)' = \frac{u'v - uv'}{v^2}$, в частности $\left(\frac{c}{v}\right)' = -\frac{cv'}{v^2}$;
4. $y'_x = y'_u \cdot u'_x$, если $y = f(u)$, $u = \varphi(x)$;
5. $y'_x = \frac{1}{x'_y}$, если $y = f(x)$ и $x = \varphi(y)$.

Формулы дифференцирования

1. $(c)' = 0$;
2. $(u^\alpha)' = \alpha \cdot u^{\alpha-1} \cdot u'$, в частности $(\sqrt{u})' = \frac{1}{2\sqrt{u}} \cdot u'$;
3. $(a^u)' = a^u \cdot \ln a \cdot u'$, в частности $(e^u)' = e^u \cdot u'$;
4. $(\log_a u)' = \frac{1}{u \cdot \ln a} \cdot u'$, в частности $(\ln u)' = \frac{1}{u} \cdot u'$;
5. $(\sin u)' = \cos u \cdot u'$;
6. $(\cos u)' = -\sin u \cdot u'$;
7. $(\operatorname{tg} u)' = \frac{1}{\cos^2 u} \cdot u'$;
8. $(\operatorname{ctg} u)' = -\frac{1}{\sin^2 u} \cdot u'$;
9. $(\arcsin u)' = \frac{1}{\sqrt{1-u^2}} \cdot u'$;
10. $(\arccos u)' = -\frac{1}{\sqrt{1-u^2}} \cdot u'$;
11. $(\operatorname{arctg} u)' = \frac{1}{1+u^2} \cdot u'$;
12. $(\operatorname{arcctg} u)' = -\frac{1}{1+u^2} \cdot u'$;
13. $(\operatorname{sh} u)' = \operatorname{ch} u \cdot u'$;
14. $(\operatorname{ch} u)' = \operatorname{sh} u \cdot u'$;
15. $(\operatorname{th} u)' = \frac{1}{\operatorname{ch}^2 u} \cdot u'$;
16. $(\operatorname{cth} u)' = -\frac{1}{\operatorname{sh}^2 u} \cdot u'$.

Таблица основных интегралов

1. $\int u^\alpha du = \frac{u^{\alpha+1}}{\alpha+1} + C, (\alpha \neq -1), \quad \left(\int du = u + C \right);$
2. $\int \frac{du}{u} = \ln |u| + C;$
3. $\int a^u du = \frac{a^u}{\ln a} + C;$
4. $\int e^u du = e^u + C;$
5. $\int \sin u du = -\cos u + C; \quad \left(\int \operatorname{sh} u du = \operatorname{ch} u + C \right);$
6. $\int \cos u du = \sin u + C; \quad \left(\int \operatorname{ch} u du = \operatorname{sh} u + C \right);$
7. $\int \operatorname{tg} u du = -\ln |\cos u| + C;$
8. $\int \operatorname{ctg} u du = \ln |\sin u| + C;$
9. $\int \frac{du}{\cos^2 u} = \operatorname{tg} u + C, \quad \left(\int \frac{du}{\operatorname{ch}^2 u} = \operatorname{th} u + C \right);$
10. $\int \frac{du}{\sin^2 u} = -\operatorname{ctg} u + C, \quad \left(\int \frac{du}{\operatorname{sh}^2 u} = -\operatorname{cth} u + C \right);$
11. $\int \frac{du}{\sin u} = \ln \left| \operatorname{tg} \frac{u}{2} \right| + C;$
12. $\int \frac{du}{\cos u} = \ln \left| \operatorname{tg} \left(\frac{u}{2} + \frac{\pi}{4} \right) \right| + C;$
13. $\int \frac{du}{\sqrt{a^2 - u^2}} = \arcsin \frac{u}{a} + C;$
14. $\int \frac{du}{\sqrt{u^2 + a^2}} = \ln |u + \sqrt{u^2 + a^2}| + C;$
15. $\int \frac{du}{a^2 + u^2} = \frac{1}{a} \operatorname{arctg} \frac{u}{a} + C;$
16. $\int \frac{du}{a^2 - u^2} = \frac{1}{2a} \cdot \ln \left| \frac{a+u}{a-u} \right| + C;$
17. $\int \sqrt{a^2 - u^2} du = \frac{u}{2} \cdot \sqrt{a^2 - u^2} + \frac{a^2}{2} \arcsin \frac{u}{a} + C;$
18. $\int \sqrt{u^2 + a^2} du = \frac{u}{2} \cdot \sqrt{u^2 + a^2} + \frac{a^2}{2} \ln |u + \sqrt{u^2 + a^2}| + C.$

Учебное пособие

Письменный Дмитрий Трофимович
ВЫСШАЯ МАТЕМАТИКА
100 ЭКЗАМЕНАЦИОННЫХ ОТВЕТОВ
1 курс

Редакторы: *В. В. Черноуцкий, А. М. Красносельский*
Художественный редактор: *А. М. Драговой*
Технический редактор: *С. С. Коломеец*
Компьютерная верстка: *К. Е. Панкратьев*
Художник: *А. Лукьяненко*
Корректоры: *З. А. Тихонова*

Подписано к печати 22.12.98. Формат 60 × 90/16. Бумага
офсетная. Печать офсетная. Усл. печ. л. 19.
Тираж 13000 экз. Заказ № 1610.

Налоговая льгота – общероссийский классификатор
продукции ОК-005-93, том 2-953000.

ЛР № 064657 от 27.06.96 г.
ООО «Рольф», г. Москва, пр. Мира, 106,
тел. (095) 956-16-84.

Отпечатано в полном соответствии
с качеством предоставленных диапозитивов
в ОАО «Можайский полиграфический комбинат».
143200, г. Можайск, ул. Мира, 93.